

تم تحميل هذا الملف من موقع المناهج البحرينية



\* للحصول على أوراق عمل لجميع الصفوف وجميع المواد اضغط هنا

<https://almanahj.com/bh>

\* للحصول على أوراق عمل لجميع مواد الصف الثالث اضغط هنا

<https://almanahj.com/bh/3>

\* للحصول على جميع أوراق الصف الثالث في مادة رياضيات وجميع الفصول, اضغط هنا

<https://almanahj.com/bh/3>

\* للحصول على أوراق عمل لجميع مواد الصف الثالث في مادة رياضيات الخاصة بـ اضغط هنا <https://almanahj.com/bh/3>

\* لتحميل كتب جميع المواد في جميع الفصول للـ الصف الثالث اضغط هنا

<https://almanahj.com/bh/grade3>

للتحدث إلى بوت على تلغرام: اضغط هنا [almanahjbhbot/me.t//:https](https://t.me/almanahjbhbot)

## المجسمات


❖ أذكر أسماء المجسمات الآتية.



.....



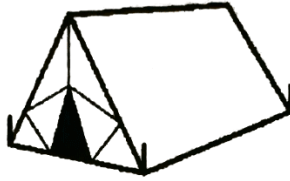
.....




.....



.....



.....




.....

❖ أصف كل مجسم مستعمالاً عدد الأوجه، عدد الأحرف، عدد الرؤوس



عدد الأوجه: .....  
عدد الأحرف: .....  
عدد الرؤوس: .....



عدد الأوجه: .....  
عدد الأحرف: .....  
عدد الرؤوس: .....



عدد الأوجه: .....  
عدد الأحرف: .....  
عدد الرؤوس: .....



عدد الأوجه: .....  
عدد الأحرف: .....  
عدد الرؤوس: .....



عدد الأوجه: .....  
عدد الأحرف: .....  
عدد الرؤوس: .....



عدد الأوجه: .....  
عدد الأحرف: .....  
عدد الرؤوس: .....