



# Kumpulan Soal dan Solusi Olimpiade Matematika Indonesia

## 8 Tahun Penyelenggaraan OSN



**EDDY HERMANTO, ST**

**SMA Negeri 5 Bengkulu**  
**Jl. Cendana No. 20 Bengkulu Kode Pos 38228**  
**Telp. (0736) 21433**  
**Tahun 2009**



# Kumpulan Soal dan Solusi Olimpiade Matematika Indonesia

8 Tahun Penyelenggaraan OSN

2002 - 2009

Eddy Hermanto, ST

**SMA Negeri 5 Bengkulu**  
**Jl. Cendana No. 20 Bengkulu Kode Pos 38228**  
**Telp. (0736) 21433**  
**Tahun 2009**

# KATA PENGANTAR

Alhamdulillah Penulis ucapkan kepada Allah, SWT karena dengan karunia-Nya Penulis dapat menyelesaikan penulisan buku ini. Buku ini Penulis tulis sebagai salah satu jawaban akan masih kurangnya buku-buku Olimpiade Matematika yang ada di Indonesia. Buku ini berisi soal dan solusi Olimpiade Matematika Tingkat Kabupaten/Kota, Tingkat Provinsi dan Tingkat Nasional yang berlangsung di Indonesia dari tahun 2002-2009 dan dapat dipergunakan dalam menyiapkan siswa-siswa menuju Olimpiade Sains Nasional pada tahun-tahun berikutnya.

Ucapan terima kasih kepada semua pihak yang telah membantu dalam penyelesaian buku ini, khususnya buat rekan-rekan dalam forum [www.olimpiade.org](http://www.olimpiade.org) yang telah memberikan dorongan moril kepada Penulis, baik yang pernah bertemu secara langsung dengan Penulis maupun yang sampai saat ini belum pernah bertemu langsung dengan Penulis. Tak lupa terima kasih juga Penulis ucapkan kepada isteri tercinta Penulis, Rosya Hastaryta, S. Si, yang telah memberi dukungan yang besar kepada Penulis serta juga telah melahirkan puteri pertama kami, Kayyisah Hajidah, pada tanggal 2 Desember 2009.

Penulis merasa bahwa buku ini masih jauh dari sempurna. Untuk itu Penulis mengharapkan saran dan kritik dari Pembaca yang budiman sebagai bahan perbaikan buku ini. Untuk korespondensi, pembaca dapat mengirimkan email ke [eddyhbkl@yahoo.com](mailto:eddyhbkl@yahoo.com).

Akhir kata semoga buku ini dapat bermanfaat yang sebesar-besarnya bagi Pembaca sekalian.

Bengkulu, Desember 2009

EDDY HERMANTO, ST  
[eddyhbkl@yahoo.com](mailto:eddyhbkl@yahoo.com)

# DAFTAR ISI

HALAMAN JUDUL .....	i
KATA PENGANTAR .....	ii
DAFTAR ISI .....	iii
 <b>OLIMPIADE MATEMATIKA INDONESIA TAHUN 2002</b>	
Soal Olimpiade Matematika Tk. Kabupaten/Kota Tahun 2002 .....	1
Solusi Olimpiade Matematika Tk. Kabupaten/Kota Tahun 2002 .....	5
Soal Olimpiade Matematika Tk. Provinsi Tahun 2002 .....	12
Solusi Olimpiade Matematika Tk. Provinsi Tahun 2002 .....	17
Soal Olimpiade Sains Nasional Bidang Matematika Tahun 2002 .....	30
Solusi Olimpiade Sains Nasional Bidang Matematika Tahun 2002 .....	32
 <b>OLIMPIADE MATEMATIKA INDONESIA TAHUN 2003</b>	
Soal Olimpiade Matematika Tk. Kabupaten/Kota Tahun 2003 .....	39
Solusi Olimpiade Matematika Tk. Kabupaten/Kota Tahun 2003 .....	43
Soal Olimpiade Matematika Tk. Provinsi Tahun 2003 .....	51
Solusi Olimpiade Matematika Tk. Provinsi Tahun 2003 .....	56
Soal Olimpiade Sains Nasional Bidang Matematika Tahun 2003 .....	69
Solusi Olimpiade Sains Nasional Bidang Matematika Tahun 2003 .....	73
 <b>OLIMPIADE MATEMATIKA INDONESIA TAHUN 2004</b>	
Soal Olimpiade Matematika Tk. Kabupaten/Kota Tahun 2004 .....	79
Solusi Olimpiade Matematika Tk. Kabupaten/Kota Tahun 2004 .....	82
Soal Olimpiade Matematika Tk. Provinsi Tahun 2004 .....	87
Solusi Olimpiade Matematika Tk. Provinsi Tahun 2004 .....	92
Soal Olimpiade Sains Nasional Bidang Matematika Tahun 2004 .....	107
Solusi Olimpiade Sains Nasional Bidang Matematika Tahun 2004 .....	111
 <b>OLIMPIADE MATEMATIKA INDONESIA TAHUN 2005</b>	
Soal Olimpiade Matematika Tk. Kabupaten/Kota Tahun 2005 .....	117
Solusi Olimpiade Matematika Tk. Kabupaten/Kota Tahun 2005 .....	121
Soal Olimpiade Matematika Tk. Provinsi Tahun 2005 .....	127
Solusi Olimpiade Matematika Tk. Provinsi Tahun 2005 .....	132
Soal Olimpiade Sains Nasional Bidang Matematika Tahun 2005 .....	144
Solusi Olimpiade Sains Nasional Bidang Matematika Tahun 2005 .....	148
 <b>OLIMPIADE MATEMATIKA INDONESIA TAHUN 2006</b>	
Soal Olimpiade Matematika Tk. Kabupaten/Kota Tahun 2006 .....	157
Solusi Olimpiade Matematika Tk. Kabupaten/Kota Tahun 2006 .....	160
Soal Olimpiade Matematika Tk. Provinsi Tahun 2006 .....	166
Solusi Olimpiade Matematika Tk. Provinsi Tahun 2006 .....	171
Soal Olimpiade Sains Nasional Bidang Matematika Tahun 2006 .....	183
Solusi Olimpiade Sains Nasional Bidang Matematika Tahun 2006 .....	187
 <b>OLIMPIADE MATEMATIKA INDONESIA TAHUN 2007</b>	
Soal Olimpiade Matematika Tk. Kabupaten/Kota Tahun 2007 .....	195
Solusi Olimpiade Matematika Tk. Kabupaten/Kota Tahun 2007 .....	198

Soal Olimpiade Matematika Tk. Provinsi Tahun 2007	204
Solusi Olimpiade Matematika Tk. Provinsi Tahun 2007	209
Soal Olimpiade Sains Nasional Bidang Matematika Tahun 2007	223
Solusi Olimpiade Sains Nasional Bidang Matematika Tahun 2007	227
<b>OLIMPIADE MATEMATIKA INDONESIA TAHUN 2008</b>	
Soal Olimpiade Matematika Tk. Kabupaten/Kota Tahun 2008	236
Solusi Olimpiade Matematika Tk. Kabupaten/Kota Tahun 2008	240
Soal Olimpiade Matematika Tk. Provinsi Tahun 2008	248
Solusi Olimpiade Matematika Tk. Provinsi Tahun 2008	253
Soal Olimpiade Sains Nasional Bidang Matematika Tahun 2008	268
Solusi Olimpiade Sains Nasional Bidang Matematika Tahun 2008	272
<b>OLIMPIADE MATEMATIKA INDONESIA TAHUN 2009</b>	
Soal Olimpiade Matematika Tk. Kabupaten/Kota Tahun 2009	279
Solusi Olimpiade Matematika Tk. Kabupaten/Kota Tahun 2009	283
Soal Olimpiade Matematika Tk. Provinsi Tahun 2009	292
Solusi Olimpiade Matematika Tk. Provinsi Tahun 2009	297
Soal Olimpiade Sains Nasional Bidang Matematika Tahun 2009	310
Solusi Olimpiade Sains Nasional Bidang Matematika Tahun 2009	314



**SELEKSI OLIMPIADE TINGKAT KABUPATEN/KOTA TAHUN 2002  
TIM OLIMPIADE MATEMATIKA INDONESIA TAHUN 2003**

**Bidang Matematika**

**Waktu : 90 Menit**



**DEPARTEMEN PENDIDIKAN NASIONAL  
DIREKTORAT JENDERAL PENDIDIKAN DASAR DAN MENENGAH  
DIREKTORAT PENDIDIKAN MENENGAH UMUM  
TAHUN 2002**

# OLIMPIADE MATEMATIKA TINGKAT KABUPATEN/KOTA TAHUN 2002

## 1 Bagian Pertama

1. Bilangan  $\frac{(2^4)^8}{(4^8)^2}$  sama dengan  
 A.  $\frac{1}{4}$                       B.  $\frac{1}{2}$                       C. 1                      D. 2                      E. 8
2. Bando selalu berkata bohong. Suatu hari dia berkata kepada tetangganya, Andi : "Paling tidak salah satu diantara kita tidak pernah berbohong." Dari informasi ini kita merasa pasti bahwa  
 A. Andi selalu berbohong                      D. Andi sesekali berkata benar  
 B. Andi sesekali berbohong                      E. Andi tidak pernah berkata apa pun  
 C. Andi selalu berkata benar
3. Bilangan n terbesar sehingga  $8^n$  membagi  $44^{44}$  adalah  
 A. 8                      B. 22                      C. 29                      D. 44                      E. 88
4. Pernyataan manakah yang benar ?  
 A. Jika  $x < 0$  maka  $x^2 > x$                       C. Jika  $x^2 > x$  maka  $x > 0$                       E. Jika  $x < 1$  maka  $x^2 < x$   
 B. Jika  $x^2 > 0$  maka  $x > 0$                       D. Jika  $x^2 > x$  maka  $x < 0$
5. Misalkan  $x^{-n}$  sama dengan  $\left(\frac{1}{x}\right)^n$  untuk setiap bilangan real x. Maka  $a^3 - a^{-3}$  sama dengan  
 A.  $\left(a - \frac{1}{a}\right)\left(a^2 + 1 + \frac{1}{a^2}\right)$                       C.  $\left(a - \frac{1}{a}\right)\left(a^2 - 2 + \frac{1}{a^2}\right)$                       E. bukan diantara A, B, C dan D  
 B.  $\left(\frac{1}{a} - a\right)\left(a^2 - 1 + \frac{1}{a^2}\right)$                       D.  $\left(\frac{1}{a} - a\right)\left(\frac{1}{a^2} + 1 + a^2\right)$
6. Lima ekor kambing memakan rumput seluas 5 kali ukuran lapangan bola dalam 5 hari. Berapa hari yang diperlukan oleh 3 ekor kambing untuk menghabiskan rumput seluas 3 kali lapangan bola ?  
 A. 2                      B. 3                      C. 4                      D. 5                      E. 6
7. Jika untuk setiap x, y bilangan real berlaku  $x\$y = xy - x + y$  maka  $(x + y)\$(x - y)$  sama dengan ..  
 A.  $x^2 - y^2 + 2x$                       C.  $x^2 - y^2 + 2y$                       E.  $x^2 - y^2$   
 B.  $x^2 - y^2 - 2x$                       D.  $x^2 - y^2 - 2y$
8. Berapa banyak pasang bilangan bulat positif (a,b) yang memenuhi  $\frac{1}{a} + \frac{1}{b} = \frac{1}{6}$  ?  
 A. 1                      B. 2                      C. 3                      D. 4                      E. 5

9. Untuk nilai  $a$  yang manakah garis lurus  $y = 6x$  memotong parabola  $y = x^2 + a$  tepat di satu titik?  
 A. 7                      B. 8                      C. 9                      D. 10                      E. 11
10. Digit 1, 9, 9, 8 dalam 1998 mempunyai jumlah total  $1 + 9 + 9 + 8 = 27$ . Bilangan berikutnya yang mempunyai jumlah digit 27 terjadi di antara tahun  
 A. 2500 dan 2700                      C. 2901 dan 3100                      E. 9901 dan 9999  
 B. 2701 dan 2900                      D. 3101 dan 9900

## 2 Bagian Kedua

11. Pada suatu segitiga ABC, sudut C tiga kali besar sudut A dan sudut B dua kali besar sudut A. Berapakah perbandingan (rasio) antara panjang AB dengan BC ?
12. Bando dan Bandi ingin mengecat pagar, Bando dapat menyelesaikan pengecatan pagar oleh dirinya sendiri dalam waktu 3 jam, sedangkan Bandi dapat menyelesaikannya dalam 4 jam. Pada pukul 12:00 siang mereka mulai mengecat pagar bersama-sama. Akan tetapi pada suatu ketika mereka bertengkar. Mereka bertengkar selama 10 menit dan dalam masa itu tidak satupun yang melakukan pengecatan. Setelah pertengkaran tersebut Bandi pergi dan Bando menyelesaikan pengecatan pagar sendirian. Jika Bando menyelesaikan pengecatan pada pukul 14:25, pada pukul berapakah pertengkaran dimulai ?
13. Berapakah jumlah digit-digit bilangan  $2^{2002} \cdot 5^{2003}$  ?
14. Berapa banyak bilangan positif yang kurang dari 10.000 yang berbentuk  $x^8 + y^8$  untuk suatu bilangan bulat  $x > 0$  dan  $y > 0$  ?
15. Tentukan bilangan  $n$  terkecil sehingga setiap subhimpunan dari  $\{1, 2, 3, \dots, 20\}$  yang beranggotakan  $n$  unsur pasti mengandung dua anggota yang selisihnya 8.
16. Garis AB dan CD sejajar dan berjarak 4 satuan. Misalkan AD memotong BC di titik P diantara kedua garis. Jika  $AB = 4$  dan  $CD = 12$ , berapa jauh P dari garis CD ?
17. Misalkan  $a$  dan  $b$  bilangan real yang berbeda sehingga
- $$\frac{a}{b} + \frac{a + 10b}{b + 10a} = 2$$
- Tentukan nilai  $\frac{a}{b}$ .
18. Bilangan bulat positif  $p \geq 2$  disebut bilangan prima jika ia hanya mempunyai faktor 1 dan  $p$ . Tentukan nilai penjumlahan semua bilangan prima diantara 1 dan 100 yang sekaligus bersifat : satu lebihnya dari suatu bilangan kelipatan 5 dan satu kurangnya dari suatu bilangan kelipatan 6.



19. Misalkan

$$a = \frac{1^2}{1} + \frac{2^2}{3} + \frac{3^2}{5} + \cdots + \frac{1001^2}{2001}$$

dan

$$b = \frac{1^2}{3} + \frac{2^2}{5} + \frac{3^2}{7} + \cdots + \frac{1001^2}{2003}$$

Tentukan bilangan bulat yang nilainya paling dekat ke  $a - b$ .

20. Suatu persegi panjang berukuran 8 kali  $2\sqrt{2}$  mempunyai titik pusat yang sama dengan suatu lingkaran berjari-jari 2. Berapakah luas daerah irisan antara persegi panjang dan lingkaran tersebut ?

**SELEKSI OLIMPIADE TINGKAT KABUPATEN/KOTA 2002  
TIM OLIMPIADE MATEMATIKA INDONESIA 2003**

*Prestasi itu diraih bukan didapat !!!*

**SOLUSI SOAL**

**Bidang Matematika**



Disusun oleh : Eddy Hermanto, ST

### BAGIAN PERTAMA

1. (Jawaban : C)

$$\therefore \frac{(2^4)^8}{(4^8)^2} = \frac{2^{32}}{4^{16}} = \frac{2^{32}}{2^{32}} = 1$$

2. (Jawaban : B)

Ingkaran dari : paling tidak salah satu di antara kita tidak pernah berbohong adalah :

$\therefore$  Kedua-duanya pernah berbohong

3. (Jawaban : C)

$$44^{44} = 4^{44} \cdot 11^{44} = 16^{22} \cdot 11^{44} = 8^{22} \cdot 2^{22} \cdot 11^{44} = 8^{22} \cdot (2^3)^7 \cdot 2 \cdot 11^{44} = 8^{29} \cdot 2 \cdot 11^{44}$$

Karena 8 tidak membagi  $(2 \cdot 11^{44})$ , maka :

$$\therefore n_{\text{maks}} = 29$$

4. (Jawaban : A)

Dasar teori :

Jika  $x < 0$  maka  $x^2 > x$

Jika  $0 < x < 1$  maka  $x^2 < x$

Jika  $x > 1$  maka  $x^2 > x$

A. Benar

B. Salah karena jika  $x^2 > 0$  dimungkinkan  $x < 0$  atau  $x > 0$

C. Salah. Karena  $x^2 > x$  maka  $x(x-1) > 0$  sehingga  $x < 0$  atau  $x > 1$

D. Salah karena jika  $x^2 > x$  dimungkinkan  $x < 0$  atau  $x > 1$

E. Salah karena untuk  $x < 0$  maka  $x^2 > x$

$\therefore$  Pernyataan yang benar adalah : jika  $x < 0$  maka  $x^2 > x$

5. (Jawaban : A)

$$(a^3 - b^3) = (a - b)(a^2 + ab + b^2)$$

$$a^3 - a^{-3} = a^3 - \left(\frac{1}{a}\right)^3$$

$$a^3 - a^{-3} = \left(a - \frac{1}{a}\right) \left(a^2 + a \cdot \frac{1}{a} + \left(\frac{1}{a}\right)^2\right)$$

$$\therefore a^3 - a^{-3} = \left(a - \frac{1}{a}\right) \left(a^2 + 1 + \frac{1}{a^2}\right)$$

6. (Jawaban : D)

Kecepatan makan untuk 1 ekor kambing,  $v_k = 1$  lap. bola/ 5 hari / 5 kambing.

$V_k = 1/5$  lap bola/hari/kambing

Banyaknya rumput yang dimakan,  $n_r$  dirumuskan dengan :

## Olimpiade Matematika Tk Kabupaten/Kota 2002

$$N_f = v_k \cdot n_{\text{hari}} \cdot n_{\text{kambing}}$$

$$3 = 1/5 \cdot n_{\text{hari}} \cdot 3$$

$$\therefore n_{\text{hari}} = 5 \text{ hari}$$

7. (Jawaban : D)

$$(x + y) \text{ \$ } (x - y) = (x + y)(x - y) - (x + y) + (x - y)$$

$$\therefore (x + y) \text{ \$ } (x - y) = x^2 - y^2 - 2y$$

8. (Jawaban : ?)

$$\text{Karena } b > 0 \text{ maka } \frac{1}{a} < \frac{1}{6} \text{ sehingga } a > 6 \quad \dots\dots (1)$$

$$\text{Karena } \frac{1}{a} + \frac{1}{b} = \frac{1}{6} \text{ maka } \frac{a+b}{ab} = \frac{1}{6}$$

$$a = \frac{6(b-6)+36}{b-6}$$

$$a = 6 + \frac{36}{b-6} \quad \dots\dots\dots (2)$$

$$\text{Karena } a > 6 \text{ maka } (b-6) > 0 \quad \dots\dots\dots (3)$$

Karena a bilangan bulat maka (b-6) adalah faktor dari 36 dan karena (b-6) > 0 maka nilai (b-6) yang memenuhi adalah 1; 2; 3; 4; 6; 9; 12; 18 atau 36.

Untuk	$b-6=1$	$b-6=2$	$b-6=3$	$b-6=4$	$b-6=6$
	$b=7$	$b=8$	$b=9$	$b=10$	$b=12$
	$a=42$	$a=24$	$a=18$	$a=15$	$a=12$
	$b-6=9$	$b-6=12$	$b-6=18$	$b-6=36$	
	$b=15$	$b=18$	$b=24$	$b=42$	
	$a=10$	$a=9$	$a=8$	$a=7$	

Pasangan bilangan bulat (a, b) yang memenuhi adalah :

{ (7,42) ; (8,24) ; (9,18) ; (10,15) ; (12,12) ; (15,10) ; (18,9) ; (24,8) ; (42,7) }

$\therefore$  Maka banyaknya pasangan (a, b) yang memenuhi adalah 9

9. (Jawaban : C)

$$\text{Karena } 6x = x^2 + a \text{ maka } x^2 - 6x + a = 0$$

$$\text{Disk} = 6^2 - 4(1)(a) = 36 - 4a$$

Syarat agar  $y = 6x$  memotong parabola  $y = x^2 + a$  di satu titik adalah Disk = 0

$$36 - 4a = 0$$

$$\therefore a = 9$$

10. (Jawaban : B)

Misal bilangan selanjutnya adalah ABCD, maka A = 2 karena  $1 + 9 + 9 + 9 \neq 27$ .

$$B + C + D = 25$$

Karena diinginkan B sekecil-kecilnya, maka (C + D) harus sebesar-besarnya dan karena  $B \leq 9$ ;

$C \leq 9$  dan  $D \leq 9$  maka  $(C + D)_{\text{maks}} = 18$  sehingga  $B_{\text{min}} = 25 - 18 = 7$ .

Maka tahun berikutnya yang digitnya berjumlah 27 adalah 2799

$\therefore$  Maka tahun berikutnya yang digitnya berjumlah 27 terjadi di antara tahun 2701 dan 2900

**BAGIAN KEDUA**

11.  $\angle C = 3\angle A$  dan  $\angle B = 2\angle A$

Karena  $\angle A + \angle B + \angle C = 180^\circ$  maka  $\angle A + 2\angle A + 3\angle A = 180^\circ$  sehingga  $\angle A = 30^\circ$   
 $\angle C = 3\angle A = 90^\circ$

$$\frac{AB}{\sin \angle C} = \frac{BC}{\sin \angle A}$$

$$\therefore \frac{AB}{BC} = \frac{\sin 90^\circ}{\sin 30^\circ} = 2$$

12. Misal kecepatan Bando mengecat  $v_0 = 1 \text{ pagar} / 3 \text{ jam} = 1/3 \text{ pagar/jam}$

Kecepatan Bandi mengecat  $v_1 = 1 \text{ pagar} / 4 \text{ jam} = 1/4 \text{ pagar/jam}$

$t_1$  adalah lamanya waktu Bando dan Bandi mengecat bersama (dalam jam)

Maka banyaknya pagar yang dicat oleh mereka  $n_{p1}$  adalah :

$$n_{p1} = v_0 \cdot t_1 + v_1 \cdot t_1$$

$$n_{p1} = \frac{1}{3}t_1 + \frac{1}{4}t_1 = \frac{7}{12}t_1$$

$t_2$  adalah lamanya waktu Bando mengecat pagar sendirian setelah pertengkaran (dalam jam)

$$n_{p2} = v_0 \cdot t_2$$

$$n_{p2} = \frac{1}{3}t_2$$

Karena  $t_{\text{total}}$  adalah waktu dari 12.00 sampai 14.25 maka  $t_{\text{total}} = \frac{29}{12} \text{ jam}$

Lama pertengkaran 10 menit atau  $\frac{1}{6} \text{ jam}$

$$t_{\text{total}} = t_1 + \text{lama pertengkaran} + t_2$$

$$\frac{29}{12} = t_1 + \frac{1}{6} + t_2$$

$$t_1 + t_2 = \frac{9}{4} \text{ . Maka } t_2 = \frac{9}{4} - t_1$$

$$n_{p1} + n_{p2} = 1 = \frac{7}{12}t_1 + \frac{1}{3}t_2$$

$$1 = \frac{7}{12}t_1 + \frac{1}{3}\left(\frac{9}{4} - t_1\right)$$

$$12 = 7t_1 + 9 - 4t_1 \text{ sehingga } t_1 = 1 \text{ jam}$$

Maka pertengkaran dimulai 1 jam setelah pukul 12.00

$\therefore$  Pertengkaran dimulai pukul 13.00

13.  $N = 2^{2002} \cdot 5^{2003} = 5 \cdot (2 \cdot 5)^{2002} = 5 \cdot 10^{2002}$

$N = 500000 \dots$  (Sebuah bilangan yang terdiri dari 2003 digit dengan digit pertama 5 diikuti digit 0 sebanyak 2002 kali)

$\therefore$  Jumlah digit  $N = 5 + 0 + 0 + 0 + \dots = 5$

14. Misal  $P = x^8 + y^8$  ; maka  $P < 10^4$

Karena  $x^8 > 0$  dan  $y^8 > 0$  maka  $x^8 < 10^4$  dan  $y^8 < 10^4$   
 $x^2 < 10$  dan  $y^2 < 10$

Maka  $x = 1; 2; \text{ atau } 3$  dan  $y = 1; 2; \text{ atau } 3$

Untuk  $x = 1$  dan  $y = 1$  maka  $P = 1^8 + 1^8 = 2 < 10000$  (memenuhi)

Untuk  $x = 1$  dan  $y = 2$  atau  $x = 2$  dan  $y = 1$  maka  $P = 1^8 + 2^8 = 257 < 10000$  (memenuhi)

Untuk  $x = 1$  dan  $y = 3$  atau  $x = 3$  dan  $y = 1$  maka  $P = 1^8 + 3^8 = 6562 < 10000$  (memenuhi)

Untuk  $x = 2$  dan  $y = 2$  maka  $P = 2^8 + 2^8 = 512 < 10000$  (memenuhi)

Untuk  $x = 2$  dan  $y = 3$  atau  $x = 3$  dan  $y = 2$  maka  $P = 2^8 + 3^8 = 6817 < 10000$  (memenuhi)

Untuk  $x = 3$  dan  $y = 3$  maka  $P = 3^8 + 3^8 = 13122 > 10000$  (tidak memenuhi)

Maka nilai  $P$  yang memenuhi adalah 2; 257; 6562; 512; 6817

$\therefore$  Banyaknya nilai yang berbentuk  $x^8 + y^8$  dengan  $x, y$  bilangan bulat adalah 5

15. Misal  $a - b = 8$ . Kemungkinan 2 nilai yang berselisih 8 adalah :

20 – 12	18 – 10	16 – 8	14 – 6	12 – 4	10 – 2
19 – 11	17 – 9	15 – 7	13 – 5	11 – 3	9 – 1

Bilangan 9; 10; 11; 12 berperan 2 baik sebagai  $a$  maupun  $b$ .

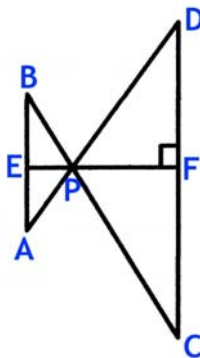
Jika kedelapan bilangan berikut :

- |       |       |              |              |
|-------|-------|--------------|--------------|
| a. 9  | c. 11 | e. 5 atau 13 | g. 7 atau 15 |
| b. 10 | d. 12 | f. 6 atau 14 | h. 8 atau 16 |

tidak termasuk dalam  $n_{\text{unsur}}$ , maka tidak akan ada 2 unsur dari  $n_{\text{unsur}}$  yang berselisih 8. Maka untuk  $n = 20 - 8$ , masih dimungkinkan tidak ada 2 unsur dari  $n_{\text{unsur}}$  yang berselisih 8.

$\therefore n_{\text{minimal}} = 13$

16. Dibuat garis EF tegak lurus AB maupun CD serta melalui titik P.



Karena  $\angle CPD = \angle APB$  dan AB sejajar dengan CD, maka  $\triangle APB$  sebangun dengan  $\triangle CPD$ .

$$\frac{EP}{PF} = \frac{CD}{AB} = \frac{12}{4} = 3$$

$$PF = \frac{1}{3} \cdot EP \dots\dots\dots (1)$$

$$EP + PF = 4$$

$$EP + \frac{1}{3} \cdot EP = 4$$

$$\therefore EP = 3 \text{ satuan}$$

17. Karena  $\frac{a}{b} + \frac{a+10b}{b+10a} = 2$  maka  $\frac{\frac{a}{b} + 10}{1 + 10\frac{a}{b}} = 2$

Misal  $\frac{a}{b} = x$ , maka  $\frac{x+10}{1+10x} = 2-x$

$$x+10 = 2-10x^2+19x$$

$$(5x-4)(x-1) = 0$$

$$x=1 \text{ atau } x = \frac{4}{5}$$

$\therefore$  Karena  $a \neq b$ , maka  $x \neq 1$  maka  $\frac{a}{b} = \frac{4}{5}$

18.  $1 < p < 100$

Dari pernyataan selanjutnya, maka :

$p = 1 + 5x$  dengan  $x$  adalah bilangan bulat.

Karena  $1 < 1 + 5x < 100$  maka  $0 < 5x < 99$

$$0 < x < 20 \dots\dots\dots (1)$$

$p = 6y - 1$  dengan  $y$  adalah bilangan bulat.

Karena  $1 < 6y - 1 < 100$  maka  $2 < 6y < 101$

$$0 < y < 17 \dots\dots\dots (2)$$

$$1 + 5x = 6y - 1$$

$$5x = 2(3y - 1) \dots\dots\dots (3)$$

$3y - 1 = 5t$  dan  $x = 2t$  dengan  $t$  adalah bilangan bulat

$$t = \frac{3y-1}{5} \dots\dots\dots (4)$$

Karena  $t$  adalah bilangan bulat, maka 5 membagi  $(3y - 1)$  sehingga  $(3y - 1)$  adalah bilangan dengan angka satuan 0 atau 5. Maka  $y$  harus suatu bilangan dengan angka satuan 2 atau 7.

Karena  $0 < y < 17$ , maka  $y = 2$  atau 7 atau 12.

Jika  $y = 2$  maka  $p = 6(2) - 1 = 11$  (bilangan prima)

Jika  $y = 7$  maka  $p = 6(7) - 1 = 41$  (bilangan prima)

Jika  $y = 12$  maka  $p = 6(12) - 1 = 71$  (bilangan prima)

$\therefore$  Maka jumlah seluruh bilangan prima =  $11 + 41 + 71 = 123$

19.  $a - b = \frac{1^2}{1} + \left(\frac{2^2}{3} - \frac{1^2}{3}\right) + \left(\frac{3^2}{5} - \frac{2^2}{5}\right) + \left(\frac{4^2}{7} - \frac{3^2}{7}\right) + \dots + \left(\frac{1001^2}{2001} - \frac{1000^2}{2001}\right) - \frac{1001^2}{2003}$

Mengingat  $(x^2 - y^2) = (x + y)(x - y)$ , maka persamaan di atas menjadi :

$$a - b = 1 + (1) + (1) + (1) + \dots + (1) - \frac{1001^2}{2003}$$

$$a - b = 1001 \cdot 1 - \frac{1001^2}{2003}$$

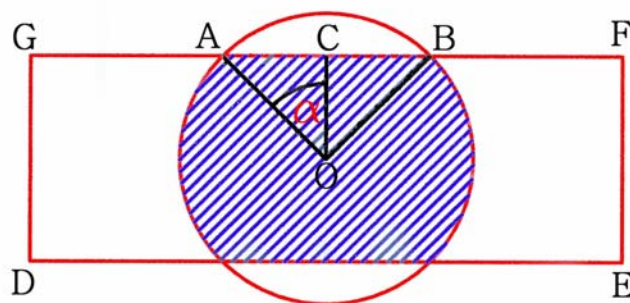
$$a - b = \frac{1001 \cdot (2003 - 1001)}{2003}$$

$$a - b = \frac{1001 \cdot 1002}{2003}$$

$$a - b \approx \frac{1002}{2} \quad \text{dengan mengingat } 2003 \approx 2 \cdot 1001$$

$$\therefore a - b \approx 501$$

20.



Dari soal diketahui bahwa  $DE = 8$  dan  $EF = 2\sqrt{2}$

$$OA = OB = 2$$

$$OC = \frac{1}{2} \cdot EF = \frac{1}{2} \cdot 2\sqrt{2} = \sqrt{2}$$

$$\cos \alpha = \frac{OC}{OA} = \frac{\sqrt{2}}{2}. \text{ Maka } \alpha = 45^\circ$$

$$\angle AOB = 90^\circ$$

$$\text{Luas juring OAB} = \frac{90^\circ}{360} \cdot \pi r^2 = \frac{1}{4} \cdot \pi (2^2) = \pi$$

$$\text{Luas } \triangle OAB = \frac{1}{2} \cdot OA \cdot OB \cdot \sin \angle AOB = \frac{1}{2} \cdot 2 \cdot 2 \cdot \sin 90^\circ = 2$$

$$\text{Luas tembereng AB} = \text{Luas juring OAB} - \text{Luas } \triangle OAB = \pi - 2$$

$$\text{Luas arsir} = \text{Luas lingkaran} - 2 \cdot \text{Luas tembereng AB}$$

$$\text{Luas arsir} = \pi (r)^2 - 2 \cdot (\pi - 2)$$

$$\text{Luas arsir} = 4\pi - 2\pi + 4$$

$$\therefore \text{Luas arsir} = 2\pi + 4$$





# SELEKSI OLIMPIADE MATEMATIKA INDONESIA 2003

## TINGKAT PROVINSI

Bidang Matematika

Bagian Pertama

Waktu : 90 Menit



DEPARTEMEN PENDIDIKAN NASIONAL  
DIREKTORAT JENDERAL PENDIDIKAN DASAR DAN MENENGAH  
DIREKTORAT PENDIDIKAN MENENGAH UMUM  
TAHUN 2002

# OLIMPIADE MATEMATIKA TINGKAT PROVINSI TAHUN 2002

## BAGIAN PERTAMA

1. Misalkan  $A = (-1)^{-1}$ ,  $B = (-1)^1$  dan  $C = 1^{-1}$ . Berapakah  $A + B + C$  ?
2. Jika  $y = \frac{x-1}{2x+3}$ , tuliskan  $x$  sebagai fungsi dari  $y$ .
3. Misalkan  $S = (x-2)^4 + 8(x-2)^3 + 24(x-2)^2 + 32(x-2) + 16$ . Apakah  $S$  jika dituliskan dalam sesedikit mungkin suku penjumlahan ?
4. Bilangan real  $2,525252\ldots$  adalah bilangan rasional, sehingga dapat ditulis dalam bentuk  $\frac{m}{n}$ , dimana  $m, n$  bilangan-bilangan bulat,  $n \neq 0$ . Jika dipilih  $m$  dan  $n$  yang relatif prima, berapakah  $m + n$  ?
5. Misalkan  $M$  dan  $m$  berturut-turut menyatakan bilangan terbesar dan bilangan terkecil di antara semua bilangan 4-angka yang jumlah keempat angkanya adalah 9. Berapakah faktor prima terbesar dari  $M - m$  ?
6. Tinjau persamaan yang berbentuk  $x^2 + bx + c = 0$ . Berapa banyakkah persamaan demikian yang memiliki akar-akar real jika koefisien  $b$  dan  $c$  hanya boleh dipilih dari himpunan  $\{1, 2, 3, 4, 5, 6\}$  ?
7. Diketahui tiga bilangan  $k, m$  dan  $n$ . Pernyataan "Jika  $k \geq m$ , maka  $k > n$ " adalah tidak benar. Apakah pernyataan yang benar dalam hal ini ?
8. Sebuah saluran air seharusnya dibuat dengan menggunakan pipa berdiameter 10 cm. Akan tetapi yang tersedia hanyalah pip-pipa kecil yang berdiameter 3 cm. Supaya kapasitas saluran tidak lebih kecil daripada yang diinginkan, berapakah banyaknya pipa 3 cm yang perlu dipakai sebagai pengganti satu pipa 10 cm ?
9. Sebuah segitiga samasisi, sebuah lingkaran dan sebuah persegi memiliki keliling yang sama. Di antara ketiga bangun tersebut, manakah yang memiliki luas terbesar ?
10. Segitiga  $ABC$  memiliki panjang sisi  $AB = 10$ ,  $BC = 7$ , dan  $CA = 12$ . Jika setiap sisi diperpanjang menjadi tiga kali panjang semula, maka segitiga yang terbentuk memiliki luas berapa kali luas  $\triangle ABC$  ?
11. Sebanyak  $n$  orang pengurus sebuah organisasi akan dibagi ke dalam empat komisi mengikuti ketentuan berikut : (i) setiap anggota tergabung ke dalam tepat dua komisi, dan (ii) setiap dua komisi memiliki tepat satu anggota bersama. Berapakah  $n$  ?

12. Didefinisikan  $a*b = a + b + ab$  untuk semua bilangan real  $a, b$ . Jika  $S = \{a \text{ bilangan real } a*(-a) > a\}$  tuliskan  $S$  sebagai sebuah selang (interval).
13. Garis tengah sebuah setengah lingkaran berimpit dengan alas  $AB$  dari  $\triangle ABC$ . Titik sudut  $C$  bergerak sedemikian rupa, sehingga titik tengah sisi  $AC$  selalu terletak pada setengah lingkaran. Berapa apakah lengkungan tempat kedudukan titik  $C$ ?
14. Berapakah bilangan bulat positif terbesar yang membagi semua bilangan  $1^5 - 1, 2^5 - 2, \dots, n^5 - n$ ?
15. Jika  $2002 = a_1 + a_2 \cdot 2! + a_3 \cdot 3! + \dots + a_n \cdot n!$ , dimana  $a_k$  adalah bilangan bulat,  $0 \leq a_k \leq k$ ,  $k = 1, 2, \dots, n$ , dan  $a_n \neq 0$ , tentukan pasangan terurut  $(n, a_n)$ .
16. Berapakah sisa pembagian  $43^{43}$  oleh 100?
17. Empat pasang suami-isteri membeli karcis untuk 8 kursi sebaris pada suatu pertunjukan. Dua orang akan duduk bersebelahan hanya kalau keduanya pasangan suami isteri atau berjenis kelamin sama. Berapa banyakkah cara menempatkan keempat pasang suami-isteri ke 8 kursi tersebut?
18. Ada berapa banyakkah bilangan 4-angka berbentuk  $\overline{abcd}$  dengan  $a \leq b \leq c \leq d$ ?
19. Kita gambarkan segibanyak beraturan (reguler)  $R$  dengan 2002 titik sudut beserta semua diagonalnya. Berapakah banyaknya segitiga yang terbentuk yang semua titik sudutnya adalah titik sudut  $R$ , tetapi tidak ada sisinya yang merupakan sisi  $R$ ?
20. Suatu lomba maraton diikuti oleh empat SMU : Merak, Merpati, Pipit dan Walet. Setiap SMU mengirimkan lima pelari. Pelari yang masuk finish ke-1, 2, 3, 4, 5, 6 memperoleh nilai berturut-turut 7, 5, 4, 3, 2, 1. Nilai setiap SMU adalah jumlah nilai kelima pelarinya. SMU dengan nilai terbesar adalah juara lomba. Di akhir lomba ternyata SMU Pipit menjadi juara dan tidak ada dua pelari yang masuk finish bersamaan. Ada berapa banyakkah kemungkinan nilai SMU pemenang?



# **SELEKSI OLIMPIADE MATEMATIKA INDONESIA 2003**

## **TINGKAT PROVINSI**

**Bidang Matematika**

**Bagian Kedua**

**Waktu : 120 Menit**



**DEPARTEMEN PENDIDIKAN NASIONAL  
DIREKTORAT JENDERAL PENDIDIKAN DASAR DAN MENENGAH  
DIREKTORAT PENDIDIKAN MENENGAH UMUM  
TAHUN 2002**

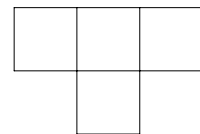
# OLIMPIADE MATEMATIKA TINGKAT PROVINSI TAHUN 2002

## BAGIAN KEDUA

1. Lima buah bilangan asli berbeda,  $k$ ,  $\ell$ ,  $m$ ,  $n$  dan  $p$ , akan dipilih. Kelima informasi berikut ternyata cukup untuk mengurutkan kelima bilangan tersebut :
  - (a) diantara setiap dua bilangan, salah satu bilangan mesti membagi bilangan yang lainnya,
  - (b)  $m$  adalah bilangan yang terbesar atau yang terkecil,
  - (c)  $p$  tidak boleh membagi sekaligus  $m$  dan  $k$ ,
  - (d)  $n \leq \ell - p$ , dan
  - (e)  $k$  membagi  $n$  atau  $p$  membagi  $n$ , tetapi tidak sekaligus keduanya.

Tentukan urutan yang mungkin bagi  $k$ ,  $\ell$ ,  $m$ ,  $n$  dan  $p$

2. Tentukan semua bilangan bulat positif  $p$  sehingga  $\frac{3p + 25}{2p - 5}$  juga bulat positif.
3. Diberikan sebuah bilangan 6-angka.  
Buktikan bahwa keenam angka bilangan tersebut dapat disusun ulang sedemikian rupa, sehingga jumlah tiga angka pertama dan jumlah tiga angka terakhir berselisih tidak lebih dari 9.
4. Diberikan segitiga sama sisi  $ABC$  dan sebuah titik  $P$  sehingga jarak  $P$  ke  $A$  dan ke  $C$  tidak lebih jauh dari jarak  $P$  ke  $B$ .  
Buktikan bahwa  $PB = PA + PC$  jika dan hanya jika  $P$  terletak pada lingkaran luar  $\triangle ABC$ .
5. Bangun datar pada gambar disebut *tetromino-T*. Misalkan setiap petak tetromino menutupi tepat satu petak pada papan catur. Kita ingin menutup papan catur dengan tetromino-tetromino sehingga setiap petak tetromino menutup satu petak catur tanpa tumpang tindih.
  - (a) Tunjukkan bahwa kita dapat menutup papan catur biasa, yaitu papan catur dengan  $8 \times 8$  petak, dengan menggunakan 16 tetromino-T.
  - (b) Tunjukkan bahwa kita tidak dapat menutup papan 'catur'  $10 \times 10$  petak dengan 25 tetromino-T.



tetromino-T

SELEKSI OLIMPIADE MATEMATIKA INDONESIA 2003  
TINGKAT PROVINSI TAHUN 2002

*Prestasi itu diraih bukan didapat !!!*

SOLUSI SOAL

Bidang Matematika

Bagian Pertama



Disusun oleh : Eddy Hermanto, ST

## BAGIAN PERTAMA

$$1. \quad A + B + C = \frac{1}{(-1)^1} + (-1)^1 + \frac{1}{(1)^1} = -1 - 1 + 1$$

$$\therefore A + B + C = -1$$

$$2. \quad y = \frac{x-1}{2x+3}$$

$$2yx + 3y = x - 1$$

$$x - 2yx = 3y + 1$$

$$x(1 - 2y) = 3y + 1$$

$$\therefore x = \frac{3y + 1}{1 - 2y}$$

$$3. \quad (a + b)^4 = a^0b^4 + 4a^1b^3 + 6a^2b^2 + 4a^3b^1 + a^4b^0$$

$$S = 2^0 \cdot (x-2)^4 + 4 \cdot 2^1 \cdot (x-2)^3 + 6 \cdot 2^2 \cdot (x-2)^2 + 4 \cdot 2^3 \cdot (x-2)^1 + 2^4 \cdot (x-2)^0$$

$$\text{Mengingat teori di atas, maka : } S = (2 + (x-2))^4$$

$$\therefore S = x^4$$

$$4. \quad \text{Misal } X = 2,525252\ldots \text{ maka } 100X = 252,525252\ldots$$

$$100X - X = 252,525252\ldots - 2,525252\ldots$$

$$99X = 250$$

$$X = \frac{250}{99}$$

$$\text{Karena 250 dan 99 relatif prima, maka } m = 250 \text{ dan } n = 99$$

$$\therefore m + n = 250 + 99 = 349$$

$$5. \quad \text{Misal bilangan itu adalah : } abcd$$

Agar abcd sebesar-besarnya maka a harus sebesar-besarnya. Maka  $a = 9$ .

Karena  $a = 9$ , agar  $a + b + c + d = 9$ , maka  $b = 0$ ;  $c = 0$ ;  $d = 0$ . Maka  $M = 9000$

Agar abcd sekecil-kecilnya maka a harus sekecil-kecilnya dan karena  $a \neq 0$ , maka  $a = 1$ .

b juga harus sekecil-kecilnya, maka  $b = 0$ .

c juga harus sekecil-kecilnya, maka  $c = 0$ .

Karena  $a + b + c + d = 9$ , maka  $d = 8$ . Akibatnya  $m = 1008$

$$M - m = 9000 - 1008 = 7992 = 8 \cdot 999 = 8 \cdot 27 \cdot 37$$

$$M - m = 2^3 \cdot 3^3 \cdot 37$$

$\therefore$  Maka faktor prima terbesar dari  $M - m$  adalah 37

6. Agar akar-akar persamaan tersebut real maka Diskriminan  $= b^2 - 4 \cdot (1) \cdot c \geq 0$ . Maka  $4c \leq b^2$   
 Karena  $1 \leq c \leq 6$ , maka  $4 \leq 4c \leq 24$   
 Untuk  $b = 1$  maka  $4c \leq 1$ . Akibatnya tidak ada nilai  $c$  yang memenuhi  
 Untuk  $b = 2$  maka  $4c \leq 4$ . Akibatnya nilai  $c$  yang memenuhi ada satu, yaitu  $c = 1$   
 Untuk  $b = 3$  maka  $4c \leq 9$ . Akibatnya nilai  $c$  yang memenuhi ada dua, yaitu  $c = 1 ; 2$   
 Untuk  $b = 4$  maka  $4c \leq 16$ . Akibatnya nilai  $c$  yang memenuhi ada empat, yaitu  $c = 1 ; 2 ; 3 ; 4$   
 Untuk  $b = 5$  maka  $4c \leq 25$ . Akibatnya nilai  $c$  yang memenuhi ada enam, yaitu  $c = 1 ; 2 ; 3 ; 4 ; 5 ; 6$   
 Untuk  $b = 6$  maka  $4c \leq 36$ . Akibatnya nilai  $c$  yang memenuhi ada enam, yaitu  $c = 1 ; 2 ; 3 ; 4 ; 5 ; 6$   
 $\therefore$  Maka banyaknya pasangan yang memenuhi ada :  $0 + 1 + 2 + 4 + 6 + 6 = 19$

7.  $p \rightarrow q \equiv \sim q \rightarrow \sim p \equiv \sim p \vee q$   
 $\sim (p \rightarrow q) \equiv \sim (\sim p \vee q) \equiv p \wedge \sim q$   
 $p : k \geq m \quad q : k > n$   
 Karena  $q : k > n$ , maka ingkaran dari  $q$  adalah  $\sim q \equiv k \leq n$   
 $\therefore$  Pernyataan yang benar adalah :  $k \geq m$  dan  $k \leq n$ . Penulisan lain adalah  $m \leq k \leq n$ .

8. Kapasitas pipa tergantung dari luas penampangnya.

$$L_{\text{pakai}} \geq L_{\text{seharusnya}}$$

$$n \cdot \frac{1}{4} \cdot \pi (3)^2 \geq \frac{1}{4} \cdot \pi \cdot (10)^2$$

$$9n \geq 100$$

$$n \geq 11,111\ldots$$

$$\therefore n_{\min} = 12$$

9. Misal masing-masing keliling bangun =  $K$

$$\text{Untuk segitiga jelas } 3s = K. \text{ Karena } s = K/3 \text{ maka Luas} = \frac{1}{2} s^2 \sin 60^\circ = \frac{1}{36} \sqrt{3} K^2$$

$$\text{Untuk lingkaran, } 2\pi R = K. \text{ Karena } R = \frac{K}{2\pi} \text{ maka Luas} = \pi R^2 = \frac{K^2}{4\pi}$$

$$\text{Untuk persegi, } 4s = K. \text{ Karena } s = \frac{K}{4} \text{ maka Luas} = s^2 = \frac{K^2}{16}$$

$$\text{Karena } \pi = 3,142\ldots < 4 \text{ dan } \sqrt{3} < 2, \text{ maka}$$

$$\frac{1}{4\pi} > \frac{1}{16} > \frac{1}{18} = \frac{2}{36} > \frac{\sqrt{3}}{36}$$

$$\therefore \text{ Karena } \frac{1}{4\pi} > \frac{1}{16} > \frac{\sqrt{3}}{36}, \text{ maka bangun yang memiliki luas terbesar adalah : lingkaran}$$

10. Luas segitiga semula =  $\frac{1}{2} ab \sin C$

$$\text{Luas segitiga akhir} = \frac{1}{2} (3a)(3b) \sin C = 9 \cdot \frac{1}{2} ab \sin C$$

$$\text{Luas segitiga akhir} = 9 \cdot \text{Luas segitiga semula}$$

$$\therefore \text{ Perbandingan luas segitiga akhir dengan luas segitiga semula adalah} = 9$$



11. (a) setiap anggota tergabung ke dalam tepat dua komisi

(b) setiap dua komisi memiliki tepat satu anggota bersama

Karena ada 4 komisi maka banyaknya pasangan komisi yang bisa dibuat adalah  ${}_4C_2 = 6$ .

Karena banyaknya pasangan komisi ada 6 maka banyaknya anggota minimal adalah 6 sebab jika kurang dari 6 maka akan ada seorang anggota yang tergabung dalam lebih dari 2 komisi.

Jika terdapat lebih dari 6 anggota maka akan ada seorang anggota yang masuk dalam sebuah komisi tetapi tidak masuk ke dalam tiga komisi lain. Hal ini bertentangan dengan (a) bahwa seorang anggota tergabung ke dalam tepat dua komisi. Akibatnya banyaknya anggota ada 6 orang.

Contoh pembagian keenam anggota ke dalam empat komisi yang memenuhi (a) dan (b) adalah :

Misalkan komisi tersebut adalah A, B, C, D dengan  $a_i$  menyatakan anggota ke- $i$  dengan  $1 \leq i \leq 6$ .

Komisi A	Komisi B	Komisi C	Komisi D
$a_1$	$a_1$	$a_2$	$a_3$
$a_2$	$a_4$	$a_4$	$a_5$
$a_3$	$a_5$	$a_6$	$a_6$

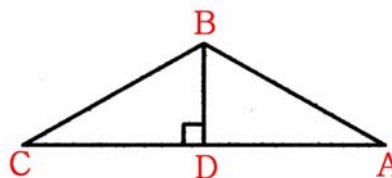
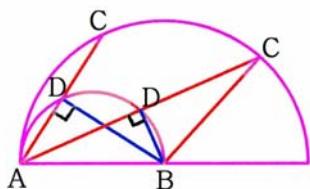
$\therefore$  Jadi, banyaknya pengurus agar memenuhi syarat tersebut adalah 6

12.  $a * (-a) = a + (-a) + a \cdot (-a) = -a^2$

$$S = \{ a \text{ bilangan real} \mid -a^2 > a \} = \{ a \text{ bilangan real} \mid a(a+1) < 0 \}$$

$$\therefore S = \{ a \text{ bilangan real} \mid -1 < a < 0 \}$$

- 13.



AB adalah diameter dan D terletak pada lingkaran. Maka  $\angle ADB = 90^\circ$

Karena  $AD = CD$  dan  $BD \perp AC$  maka  $\triangle ABC$  adalah segitiga sama kaki dengan  $AB = BC$ .

Karena  $BC = AB =$  diameter lingkaran yang berarti bernilai tetap dan B adalah titik yang tetap maka lengkung yang terjadi adalah berupa setengah lingkaran dengan pusat titik B.

$\therefore$  Lengkung yang terjadi adalah berupa setengah lingkaran

14.  $1^5 - 1 = 0$  ;  $2^5 - 2 = 30$ . Untuk  $n > 2$  maka  $n^5 - n > 30$ .

Semua bilangan membagi 0. Karena salah satu bilangan tersebut adalah 30 maka nilai maksimum bilangan yang membagi  $1^5 - 1$ ,  $2^5 - 2$ ,  $\dots$ ,  $n^5 - n$  adalah 30. Akan dibuktikan bahwa 30 membagi  $n^5 - n$  untuk setiap  $n$  bilangan asli.

**Alternatif 1 :**

$$\text{Misal : } N = n^5 - n = n(n^4 - 1) = n(n^2 - 1)(n^2 + 1) = (n - 1)n(n + 1)(n^2 + 1)$$

Karena  $(n - 1)$ ,  $n$  dan  $(n + 1)$  adalah tiga bilangan berurutan maka  $N$  pasti habis dibagi  $3! = 6$ .

- Untuk  $n = 5k$

Karena  $n$  adalah faktor dari  $N$  dan  $n$  habis dibagi 5 maka  $N$  pasti habis dibagi 5

- Untuk  $n = 5k + 1$

$$n - 1 = 5k$$

Karena  $(n - 1)$  adalah faktor dari  $N$  dan  $(n - 1)$  habis dibagi 5 maka  $N$  pasti habis dibagi 5

- Untuk  $n = 5k + 2$

$$n^2 + 1 = (5k + 2)^2 + 1 = 25k^2 + 20k + 5 = 5(5k^2 + 4k + 1)$$

Karena  $(n^2 + 1)$  adalah faktor dari  $N$  dan  $(n^2 + 1)$  habis dibagi 5 maka  $N$  pasti habis dibagi 5

- Untuk  $n = 5k + 3$

$$n^2 + 1 = (5k + 3)^2 + 1 = 25k^2 + 30k + 10 = 5(5k^2 + 6k + 2)$$

Karena  $(n^2 + 1)$  adalah faktor dari  $N$  dan  $(n^2 + 1)$  habis dibagi 5 maka  $N$  pasti habis dibagi 5

- Untuk  $n = 5k + 4$

$$n + 1 = 5k + 5 = 5(k + 1)$$

Karena  $(n + 1)$  adalah faktor dari  $N$  dan  $(n + 1)$  habis dibagi 5 maka  $N$  pasti habis dibagi 5

Karena untuk  $n = 5k$ ;  $n = 5k + 1$ ;  $n = 5k + 2$ ;  $n = 5k + 3$  dan  $n = 5k + 4$  semuanya menghasilkan  $N$  habis dibagi 5 maka  $N$  pasti habis dibagi 5 untuk  $n$  bilangan bulat positif.

Karena  $N$  habis dibagi 6 dan 5 serta 6 dan 5 relatif prima maka  $N$  pasti habis dibagi  $6 \cdot 5 = 30$

**Alternatif 2 :**

$$n^5 - n = (n - 1)n(n + 1)(n^2 + 1) = (n - 1)n(n + 1)(n^2 - 4 + 5)$$

$$n^5 - n = (n - 1)n(n + 1)(n^2 - 4) + 5(n - 1)n(n + 1)$$

$$n^5 - n = (n - 2)(n - 1)n(n + 1)(n + 2) + 5(n - 1)n(n + 1)$$

Karena  $(n - 2)$ ,  $(n - 1)$ ,  $n$ ,  $(n + 1)$  dan  $(n + 2)$  adalah lima bilangan bulat berurutan maka perkalian  $(n - 2)(n - 1)n(n + 1)(n + 2)$  habis dibagi  $5! = 120$  atau juga habis dibagi 30 sebab 30 membagi 120.

Karena  $(n - 1)$ ,  $n$  dan  $(n + 1)$  adalah 3 bilangan berurutan maka  $(n - 1)n(n + 1)$  pasti habis dibagi  $3! = 6$ . Maka  $5(n - 1)n(n + 1)$  habis dibagi  $5 \cdot 6 = 30$ .

$\therefore$  Bilangan nilai maksimum bilangan yang membagi  $1^5 - 1$ ,  $2^5 - 2$ ,  $\dots$ ,  $n^5 - n$  adalah 30.

15. Misal  $T = a_1 + a_2 \cdot 2! + a_3 \cdot 3! + \dots + a_n \cdot n!$

Karena  $7! = 5040$  dan  $6! = 720$  maka  $n_{\text{maksimum}} = 6$ .

Jika  $n = 5$  maka  $T_{\text{maks}} = 1 + 2 \cdot 2! + 3 \cdot 3! + 4 \cdot 4! + 5 \cdot 5! = 1 + 4 + 18 + 96 + 600 = 719 < 2002$

$T = 2002$  hanya jika  $n = 6$

Karena untuk  $n = 5$  maka  $T_{\text{maks}} = 719$  maka  $2002 - 719 = 1283 \leq a_6 \cdot 6! \leq 2002$  yang dipenuhi hanya jika  $a_6 = 2$

$$\text{Maka } a_1 + a_2 \cdot 2! + a_3 \cdot 3! + a_4 \cdot 4! + a_5 \cdot 5! = 2002 - 2 \cdot 6! = 562$$

$$\text{Jika } n = 4 \text{ maka } T_{\text{maks}} = 1 + 2 \cdot 2! + 3 \cdot 3! + 4 \cdot 4! = 119$$

$$562 - 119 = 443 \leq a_5 \cdot 5! \leq 562 \text{ yang dipenuhi hanya jika } a_5 = 4$$

$$\text{Maka } a_1 + a_2 \cdot 2! + a_3 \cdot 3! + a_4 \cdot 4! = 562 - 4 \cdot 5! = 562 - 480 = 82$$

$$\text{Jika } n = 3 \text{ maka } T_{\text{maks}} = 1 + 2 \cdot 2! + 3 \cdot 3! = 23$$

$$82 - 23 = 59 \leq a_4 \cdot 4! \leq 82 \text{ yang dipenuhi hanya jika } a_4 = 3$$

$$\text{Maka } a_1 + a_2 \cdot 2! + a_3 \cdot 3! = 82 - 3 \cdot 4! = 82 - 72 = 10$$

$$\text{Jika } n = 2 \text{ maka } T_{\text{maks}} = 1 + 2 \cdot 2! = 9$$

$$10 - 9 = 1 \leq a_3 \cdot 3! \leq 10 \text{ yang dipenuhi hanya jika } a_3 = 1$$

$$\text{Maka } a_1 + a_2 \cdot 2! = 10 - 1 \cdot 3! = 10 - 6 = 4$$

$$\text{Jika } n = 1 \text{ maka } T_{\text{maks}} = 1 = 1$$

$$4 - 1 = 3 \leq a_2 \cdot 2! \leq 4 \text{ yang dipenuhi hanya jika } a_2 = 2$$

$$\text{Maka } a_1 = 4 - 2 \cdot 2! = 4 - 4 = 0$$

$\therefore$  Pasangan terurut  $(n, a_n)$  adalah  $\{ (1, 0) ; (2, 2) ; (3, 1) ; (4, 3) ; (5, 4) ; (6, 2) \}$

## 16. Alternatif 1 :

Dua digit terakhir dari  $43^1$  adalah 43

Dua digit terakhir dari  $43^2$  adalah 49

Dua digit terakhir dari  $43^3$  adalah 07

Dua digit terakhir dari  $43^4$  adalah 01

Dua digit terakhir dari  $43^5$  adalah 43 ..... dst.

Karena  $43 = 4 \cdot 10 + 3$  maka 2 digit terakhir dari  $43^{43}$  sama dengan dua digit terakhir dari  $43^3$  yaitu 07. Sehingga  $43^{43} = \dots\dots 07 = 100t + 7 = 4k + 7$  dengan  $t$  dan  $k$  adalah bilangan bulat.

$$43^{43^{43}} = 43^{4k+7} = 43^{4k} \cdot 43^7 = (43^4)^k \cdot 43^7$$

Karena dua digit terakhir dari  $43^4$  adalah 01 maka dua digit terakhir dari  $(43^4)^k$  adalah juga 01.

Dua digit terakhir dari  $43^7$  sama dengan dua digit terakhir dari  $43^3$  yaitu 07.

Maka dua digit terakhir dari  $43^{43^{43}}$  sama dengan dua digit terakhir dari perkalian dua digit terakhir  $(43^4)^k$  dengan dua digit terakhir dari  $43^7$ .

Karena  $01 \times 07 = 07$ . Maka 2 digit terakhir dari  $43^{43^{43}}$  adalah 07.

## Alternatif 2 :

Karena  $43^{43} = (4 \cdot 11 - 1)^{43}$  maka  $43^{43} \equiv (-1)^{43} \pmod{4}$

$$43^{43} \equiv -1 \pmod{4} \equiv 3 \pmod{4}$$

Berarti  $43^{43} = 4k + 3$  dengan  $k$  adalah bilangan asli.

$$43^{43^{43}} = 43^{4k+3} = (1849)^{2k} \cdot 43^3$$

$$43^{43^{43}} \equiv (49)^{2k} \cdot 43^3 \pmod{100}$$

$$43^{43^{43}} \equiv (2401)^k \cdot 7 \pmod{100} \text{ sebab } 43^3 \equiv 7 \pmod{100}$$

$$43^{43^{43}} \equiv 1^k \cdot 7 \pmod{100}$$

$$43^{43^{43}} \equiv 7 \pmod{100}$$

Karena  $43^{43^{43}} \equiv 7 \pmod{100}$  berarti  $43^{43^{43}} = 100p + 7$  dengan  $p$  adalah bilangan asli.

$\therefore 43^{43^{43}}$  jika dibagi 100 akan bersisa 7

## 17. Misal S = suami dan I = isteri

Kemungkinan susunannya adalah :

a. SISSIIIS atau ISSIISSI

Karena yang berdekatan haruslah pasangan suami isteri maka kasus ini seolah-olah menempatkan 4 pasangan suami isteri dalam 4 tempat. Banyaknya cara =  $2 \cdot {}_4P_4 = 48$ .

b. SISSSII atau ISSIIIS

Karena ada 3 pasang kursi yang harus diisi 3 pasang suami isteri maka banyaknya cara menyusun =  $2 \cdot {}_4C_3 \cdot 3! = 48$

c. SSISSII atau ISSIISS

Kasus ini sama dengan (a). Banyaknya cara adalah 48.

d. SIISSSI atau ISSSIIS

Karena ada 3 pasang kursi yang harus diisi 3 pasang suami isteri maka banyaknya cara adalah  $2 \cdot 4 \cdot 3! = 48$

e. SSIISSI atau ISSSIIS

Kasus ini sama dengan (c). Banyaknya cara ada 48 cara.

f. SIISSS atau ISSSIIS

Ada 2 pasang kursi yang harus diisi oleh 2 pasang suami isteri. Banyaknya cara =  ${}_4C_2 \cdot 2!$ . Empat kursi lain terdiri dari 2 kursi diisi oleh 2 perempuan dan 2 kursi lainnya diisi 2 lelaki.

Maka banyaknya cara =  $2 \cdot ({}_4C_2 \cdot 2!) \cdot 2! \cdot 2! = 96$

g. SSIIIISS atau IISSSSII

Soal ini mirip dengan bagian (f). Banyaknya cara ada 96.

h. SSSIIIIIS atau IIISSSSII

Soal ini juga mirip dengan bagian (f). Banyaknya cara ada 96.

i. SSSSSIIII atau IIIISSSS

Pasangan yang di tengah dipilih dari 4 pasangan yang lain.

Maka banyaknya cara =  $2 \cdot 4 \cdot 3! \cdot 3! = 288$

Maka banyaknya cara =  $48 + 48 + 48 + 48 + 48 + 96 + 96 + 96 + 288 = 816$  cara

∴ Jadi, banyaknya cara menempatkan keempat pasang suami isteri ke-8 kursi adalah **816**.

18. a. Untuk  $a = 1$

- Untuk  $a = 1$  dan  $b = 1$ .

Untuk  $c = 1$  maka nilai  $d$  ada 9 kemungkinan. Untuk  $c = 2$  ada 8 kemungkinan. .... dst.

Maka untuk  $a = 1$  dan  $b = 1$  ada  $9 + 8 + 7 + 6 + 5 + 4 + 3 + 2 + 1 = 45$  kemungkinan.

- Untuk  $a = 1$  dan  $b = 2$

Sama dengan untuk  $a = 1$  dan  $b = 1$  dikurangi dengan untuk  $c = 1$ .

Maka untuk  $a = a$  dan  $b = 2$  ada  $45 - 9 = 36$  kemungkinan.

- Untuk  $a = 1$  dan  $b = 3$

Ada  $36 - 8 = 28$  kemungkinan

∴

dst

Untuk  $a = 1$  ada  $45 + 36 + 28 + 21 + 15 + 10 + 6 + 3 + 1$

b. Untuk  $a = 2$

Sama dengan untuk  $a = 1$  dikurangi untuk  $b = 1$

Untuk  $a = 2$  ada  $36 + 28 + 21 + 15 + 10 + 6 + 3 + 1$

∴

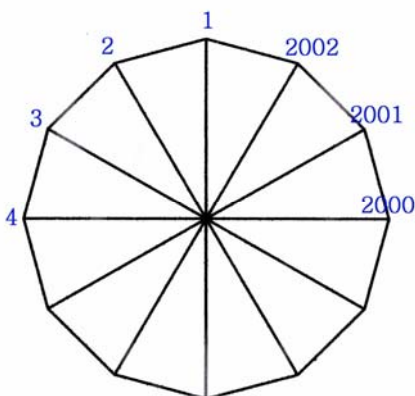
dst

Misalkan banyaknya bilangan =  $N$ .

$N = 1 \cdot 45 + 2 \cdot 36 + 3 \cdot 28 + 4 \cdot 21 + 5 \cdot 15 + 6 \cdot 10 + 7 \cdot 6 + 8 \cdot 3 + 9 \cdot 1 = 495$

∴ Banyaknya bilangan yang memenuhi  $a \leq b \leq c \leq d$  adalah **495**

19.



Misal :

A = Banyaknya segitiga seluruhnya yang dapat dibentuk termasuk yang sisinya merupakan sisi R.

B = Banyaknya segitiga yang dapat dibentuk dengan hanya 1 sisinya yang merupakan sisi R.

C = Banyaknya segitiga yang dapat dibentuk dengan 2 sisinya merupakan sisi R.

- Banyaknya segitiga seluruhnya yang dapat dibentuk termasuk yang sisinya merupakan sisi R  
Segitiga dibentuk dari 3 titik yang tidak segaris, maka banyaknya segitiga yang dapat

$$\text{dibentuk adalah } {}_{2002}C_3 = \frac{2002 \cdot 2001 \cdot 2000}{6} = 2002 \cdot 667 \cdot 1000$$

- Banyaknya segitiga yang dapat dibentuk dengan hanya 1 sisinya yang merupakan sisi R.  
Untuk membentuk segitiga ini maka 2 dari 3 titiknya harus berurutan, namun ketiga titiknya tidak berurutan. Misal kedua titik tersebut adalah n dan n+1, maka titik ketiga tidak boleh n-1 atau n+2. Banyaknya 2 titik yang berurutan ada 2002 kemungkinan, yaitu 1-2, 2-3, 3-4, 4-5, ..., 2001-2002, 2002-1. Misalkan titik yang kita pilih adalah 2-3, maka titik ketiga tidak boleh titik 1 atau 4, maka banyaknya kemungkinan 1 titik ketiga adalah 1998 cara.  
Banyaknya segitiga yang dapat dibentuk adalah  $1998 \times 2002$
- Banyaknya segitiga yang dapat dibentuk dengan 2 sisinya merupakan sisi R  
Untuk membentuk segitiga ini maka ke-3 titiknya harus berurutan. Banyaknya segitiga yang dapat dibentuk adalah 2002, yaitu 1-2-3, 2-3-4, 3-4-5, ..., 2001-2002-1, 2002-1-2.

Banyaknya segitiga dimaksud adalah  $= A - B - C$

$$= 2002 \cdot 667 \cdot 1000 - 1998 \cdot 2002 - 2002$$

$$= 2002 (667 \cdot 1000 - 1999)$$

$$= 1331332002$$

- ∴ Banyaknya segitiga yang semua titik sudutnya adalah titik sudut R, tetapi tidak ada sisinya yang merupakan sisi R adalah 1.331.332.002

20. Nilai total =  $7 + 5 + 4 + 3 + 2 + 1 = 22$

Nilai maksimum yang dapat diperoleh SMU Pipit adalah  $7 + 5 + 4 + 3 + 2 = 21$

Misal nilai minimum SMU Pipit adalah x maka nilai sisa adalah  $22 - x$ .

Nilai minimum yang dapat diperoleh adalah jika nilai sisa yang ada terdistribusi merata kepada ketiga

SMU yang lain. Misal nilai masing-masing ketiga SMU yang lain adalah k, maka :

$$x + 3k = 22 \text{ dan } x > k$$

$$3x > 22 - x. \text{ Maka } x > 22/4.$$

Jika  $x = 6$  maka nilai sisa =  $22 - 6 = 16$ . Ada 2 SMU mendapat nilai 5 dan satu SMU mendapat nilai 6. Hal yang tidak boleh karena berarti tidak ada pemenang.

Jika  $x = 7$  maka nilai sisa =  $22 - 7 = 15$ . Yang berarti ketiga SMU yang lain masing-masing mendapat nilai 5.

Nilai 5 dapat diperoleh dari 5 ; 3 + 2 dan 4 + 1 yang berarti memenuhi syarat.

Maka nilai maksimum SMU Pipit = 21 sedangkan nilai minimumnya = 7. Semua nilai dari 7 sampai 21 semua dapat diperoleh dari kombinasi : 7, 5, 4, 3, 2, 1. Nilai dari 7 sampai dengan 21 ada 15.

- ∴ Banyaknya kemungkinan nilai SMU pemenang adalah 15

# SELEKSI OLIMPIADE MATEMATIKA INDONESIA 2003 TINGKAT PROVINSI TAHUN 2002

*Prestasi itu diraih bukan didapat !!!*

## SOLUSI SOAL

Bidang Matematika

Bagian Kedua

Disusun oleh : Eddy Hermanto, ST



## BAGIAN KEDUA

1.

- Jika  $m$  adalah bilangan yang terbesar  
Berdasarkan (c) dan (a), maka  $p$  membagi  $m$  sedangkan  $k$  membagi  $p$  sehingga  $m > p > k$   
Berdasarkan (d),  $\ell \geq n + p$ , maka  $\ell > n$  dan  $\ell > p$  sehingga  $m > \ell > p > k$   
Berdasarkan (e) :  
➤ Jika  $k$  membagi  $n$  maka  $n$  membagi  $p$  sehingga  $p > n > k$ . Urutan yang mungkin adalah  $m > \ell > p > n > k$   
➤ Jika  $p$  membagi  $n$  maka  $n$  membagi  $k$  sehingga  $k > n > p$ . Karena  $p > k$  maka hal ini merupakan sebuah kontradiksi.
  - Jika  $m$  adalah bilangan terkecil  
Berdasarkan (c) dan (a), maka  $m$  membagi  $p$  dan  $p$  membagi  $k$  sehingga  $k > p > m$   
Berdasarkan (e) :  
➤ Jika  $k$  membagi  $n$  maka  $n$  membagi  $p$  sehingga  $p > n > k$ . Karena  $k > p$  maka hal ini merupakan sebuah kontradiksi.  
➤ Jika  $p$  membagi  $n$  maka  $n$  membagi  $k$  sehingga  $k > n > p$ . Akibatnya  $k > n > p > m$ .  
Berdasarkan (d) :  
➤ Karena  $n = \ell - p$  maka  $\ell = n + p$  dan karena  $p < n$  maka  $n < \ell < 2n$ . Karena  $n$  harus membagi  $\ell$  maka hal tersebut tidak mungkin.  
➤ Karena  $n < \ell - p$  maka  $\ell > p + n$ . Sehingga tidak dapat ditentukan yang lebih besar antara  $\ell$  dan  $k$ , maka urutan yang mungkin adalah :  $k > \ell > n > p > m$  atau  $\ell > k > n > p > m$ .
- ∴ Semua urutan yang mungkin bagi  $k, \ell, m, n$  dan  $p$  adalah :
1.  $m > \ell > p > n > k$  atau
  2.  $k > \ell > n > p > m$  atau
  3.  $\ell > k > n > p > m$

2. Alternatif 1 :

$$\text{Misal } m = \frac{3p + 25}{2p - 5} = \frac{2p - 5 + p + 30}{2p - 5} = 1 + \frac{p + 30}{2p - 5} \dots\dots\dots (1)$$

Ambil  $p + 30 = 2p - 5$  maka  $p = 35$ .

- Untuk  $p > 35$ , maka  $p + 30 < 2p - 5$  sehingga  $\frac{p + 30}{2p - 5} < 1$  sehingga tidak mungkin  $m$  bilangan bulat.
- Untuk  $0 < p < 35$   
Semakin besar nilai  $p$ , maka perbandingan  $p + 30$  dan  $2p - 5$  akan semakin kecil sehingga nilai  $m$  semakin kecil mendekati satu.

Karena  $m > 0$  maka  $2p - 5 > 0$ . Akibatnya  $p \geq 3$ 

Bentuk di atas dapat juga diubah menjadi :

$$2pm - 5m = 3p + 25$$

$$p(2m - 3) = 5m + 25$$

$$p = \frac{5m + 25}{2m - 3} \dots\dots\dots (2)$$

dengan  $2m - 3 > 0$  atau  $m > 1$ .

Berdasarkan persamaan (1)

Jika  $p = 3$  maka  $m = 1 + 33/1 = 34$  (bilangan bulat)

Jika  $p = 4$  maka  $m = 37/3$  (bukan bilangan bulat)

Jika  $p = 5$  maka  $m = 40/5 = 8$  (bilangan bulat)

Jika  $p = 6$  maka  $m = 43/7$  (bukan bilangan bulat)

Jika  $p = 7$  maka  $m = 36/9$  (bukan bilangan bulat)

Jika  $p = 8$  maka  $m = 49/11$  (bukan bilangan bulat)

Jika  $p = 9$  maka  $m = 52/13 = 4$  (bilangan bulat)

Karena semakin besar nilai  $p$  maka nilai  $m$  semakin kecil, maka sesuai persamaan (1) dicoba :

Jika  $m = 3$  maka  $p = 40/3$  (bukan bilangan bulat)

Jika  $m = 2$  maka  $p = 35$  (bilangan bulat)

Alternatif 2 :

Karena  $m = \frac{3p+25}{2p-5}$  maka  $2mp - 5m = 3p + 25$ .

$$4mp - 10m = 6p + 50$$

$$(2m - 3)(2p - 5) = 50 + 15$$

$$(2m - 3)(2p - 5) = 65$$

$2m - 3$  dan  $2p - 5$  masing-masing adalah faktor dari 65. Faktor dari 65 adalah  $\pm 1, \pm 5, \pm 13, \pm 65$ .

Jika  $2p - 5 = -1$  dan  $2m - 3 = -65$  maka  $p = 2$  dan  $m = -31$  (tidak memenuhi  $p$  dan  $m$  asli)

Jika  $2p - 5 = 1$  dan  $2m - 3 = 65$  maka  $p = 3$  dan  $m = 34$  (memenuhi  $p$  dan  $m$  asli)

Jika  $2p - 5 = -5$  dan  $2m - 3 = -13$  maka  $p = 0$  dan  $m = -5$  (tidak memenuhi  $p$  dan  $m$  asli)

Jika  $2p - 5 = 5$  dan  $2m - 3 = 13$  maka  $p = 5$  dan  $m = 8$  (memenuhi  $p$  dan  $m$  asli)

Jika  $2p - 5 = -13$  dan  $2m - 3 = -5$  maka  $p = -4$  dan  $m = -1$  (tidak memenuhi  $p$  dan  $m$  asli)

Jika  $2p - 5 = 13$  dan  $2m - 3 = 5$  maka  $p = 9$  dan  $m = 4$  (memenuhi  $p$  dan  $m$  asli)

Jika  $2p - 5 = -65$  dan  $2m - 3 = -1$  maka  $p = -30$  dan  $m = 1$  (tidak memenuhi  $p$  dan  $m$  asli)

Jika  $2p - 5 = 65$  dan  $2m - 3 = 1$  maka  $p = 35$  dan  $m = 2$  (memenuhi  $p$  dan  $m$  asli)

$\therefore$  Bilangan bulat positif  $p$  sehingga  $\frac{3p+25}{2p-5}$  juga bulat positif adalah 3 ; 5 ; 9 atau 35

3. Misal ke-6 angka itu A, B, C, D, E, F dengan  $A \geq B \geq C \geq D \geq E \geq F$  dengan  $0 \leq A, B, C, D, E, F \leq 9$ . Penyusunan bilangan yang benar sehingga didapat selisih tiga bilangan pertama dengan tiga bilangan terakhir seminimal mungkin adalah ACEBDF.

$$\text{Misal } T = A + C + E - B - D - F$$

$$T = (A - F) + (C - B) + (E - D)$$

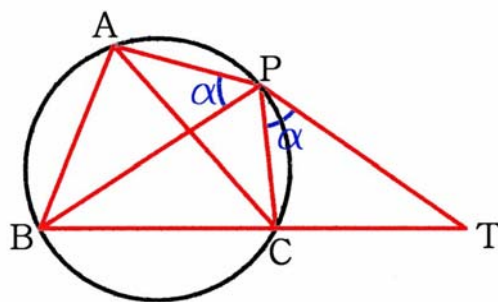
Jelas bahwa  $A - F \leq 9$ . Tanda kesamaan akan terpenuhi hanya apabila  $A = 9$  dan  $F = 0$ .

Karena  $C \leq B$  dan  $E \leq D$  maka  $C - B \leq 0$  dan  $E - D \leq 0$ . Tanda kesamaan terjadi hanya jika  $C = B$  dan  $E = D$ .

$$\text{Maka } T = (A - F) + (C - B) + (E - D) \leq 9 + 0 + 0 = 9$$

$\therefore$  Terbukti bahwa jumlah tiga angka pertama dan jumlah tiga angka terakhir suatu bilangan enam angka dapat disusun sedemikian rupa sehingga berselisih tidak lebih dari 9



4. Pembuktian *Teorema Ptolemy*

ABCP adalah segiempat talibusur atau dengan kata lain titik P terletak pada lingkaran luar segitiga ABC dengan titik P terletak pada busur AC. Misal  $\angle APB = \alpha$ . Dibuat segitiga PCT dengan CT adalah perpanjangan BC dan  $\angle CPT = \alpha$ . Karena ABCP adalah segi empat tali busur maka  $\angle BAP + \angle BCP = 180^\circ$  sehingga  $\angle BAP = \angle PCT$ . Karena  $\angle APB = \angle CPT$  dan  $\angle BAP = \angle PCT$  maka  $\triangle BAP$  sebangun dengan  $\triangle PCT$ .

$$\text{Akibatnya } \frac{PA}{PC} = \frac{AB}{CT} = \frac{PB}{PT} \quad \dots\dots (1)$$

$$CT = \frac{AB}{PA} \cdot PC \quad \dots\dots\dots (2)$$

$$\text{Dari persamaan (1) juga didapat : } \frac{PA}{PB} = \frac{PC}{CT}.$$

$$\text{Karena } \angle APC = \angle BPT = \alpha + \angle BPC \text{ dan } \frac{PA}{PB} = \frac{PC}{PT} \text{ maka } \triangle APC \text{ sebangun dengan } \triangle BPT$$

$$\text{Akibatnya } \frac{PA}{PB} = \frac{PC}{PT} = \frac{AC}{BT} \quad \dots\dots (3)$$

$$BT = \frac{PB}{PA} \cdot AC \quad \dots\dots\dots (4)$$

$$BT = BC + CT$$

Substitusikan pers. (2) dan (4)

$$\frac{PB}{PA} \cdot AC = BC + \frac{AB}{PA} \cdot PC$$

$$PB \cdot AC = PA \cdot BC + PC \cdot AB \quad (\text{Teorema Ptolemy})$$

Jika  $\triangle ABC$  adalah segitiga sama sisi, maka  $AC = BC = AB$ , maka :

$$PB = PA + PC \quad (\text{Terbukti})$$

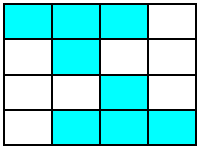
atau

Jika  $PB = PA + PC$  dan karena  $AB = BC = AC$ , maka

$$PB \cdot AC = PA \cdot BC + PC \cdot AB$$



$\therefore$  Sesuai dengan *Teorema Ptolemy*, maka ABCP adalah segi empat tali busur atau dengan kata lain titik P terletak pada lingkaran luar segitiga ABC.

5. a.



Karena petak  $4 \times 4$  dapat ditutupi oleh 4 buah *Tetromino-T*, maka tentunya kita dapat menutup petak catur  $8 \times 8$  dengan 16 buah *Tetromino-T*.

- b. Andaikan 25 tetronimo tersebut dapat menutup papan 'catur'  $10 \times 10$  petak. Sebuah *tetromino-T* akan menutupi 1 buah petak hitam dan 3 buah petak putih atau 1 buah petak putih dan 3 buah petak hitam pada papan catur.



Karena 1 dan 3 bilangan ganjil serta banyaknya *Tetromino-T* ada 25 yang juga merupakan bilangan ganjil maka ke-25 *Tetromino-T* tersebut akan menutupi sejumlah ganjil petak hitam dan sejumlah ganjil petak putih pada papan catur. Hal ini kontradiksi dengan kenyataan bahwa pada papan catur  $10 \times 10$  terdapat 50 petak hitam dan 50 petak putih. Terbukti bahwa kita tidak dapat menutup papan 'catur'  $10 \times 10$  petak dengan 25 *tetromino-T*.



**SELEKSI TIM OLIMPIADE MATEMATIKA INDONESIA 2003**  
**OLIMPIADE SAINS NASIONAL 2002**  
**YOGYAKARTA, 10 SEPTEMBER 2002**

**Bidang Matematika**

**Waktu : 4 Jam**



**DEPARTEMEN PENDIDIKAN NASIONAL**  
**DIREKTORAT JENDERAL PENDIDIKAN DASAR DAN MENENGAH**  
**DIREKTORAT PENDIDIKAN MENENGAH UMUM**  
**TAHUN 2002**



## OLIMPIADE SAINS NASIONAL 2002 YOGYAKARTA, 10 SEPTEMBER 2002

### BIDANG : MATEMATIKA

WAKTU : 4 JAM

1. Buktikan bahwa  $n^4 - n^2$  habis dibagi oleh 12 untuk sebarang bilangan bulat  $n > 1$
2. Lima buah dadu (enam-muka) akan dilempar satu demi satu, lalu hasil kelima angka yang muncul akan dihitung. Manakah yang lebih besar peluang terjadinya hasil kali 180 atau hasil kali 144 ?
3. Tentukan semua solusi dari sistem persamaan
$$\begin{aligned}x + y + z &= 6 \\x^2 + y^2 + z^2 &= 12 \\x^3 + y^3 + z^3 &= 24\end{aligned}$$
4. Diberikan segitiga ABC dengan  $AC > BC$ . Pada lingkaran luar segitiga ABC terletak titik D yang merupakan titik tengah busur AB yang memuat titik C. Misalkan E adalah titik pada AC sehingga DE tegak lurus pada AC. Buktikan bahwa  $AE = EC + CB$
5. Sembilan dari sepuluh bilangan berikut : 4, 5, 6, 7, 8, 12, 13, 16, 18, 19 akan diisikan ke dalam petak kosong pada tabel 3 x 5 di samping. Sesudah semua petak terisi, jumlah bilangan pada setiap baris akan sama. Demikian pula halnya jumlah bilangan pada setiap kolom akan sama. Tentukan semua pengisian petak yang mungkin.

10		
		9
	3	
11		17
	20	
6. Tentukan semua bilangan prima  $p$  yang membuat  $4p^2 + 1$  dan  $6p^2 + 1$  keduanya bilangan prima.
7. Misalkan ABCD sebuah belah ketupat dengan  $\angle A = 60^\circ$  dan P adalah titik potong kedua diagonal AC dan BD. Misalkan Q, R dan S tiga titik pada (keliling) belah ketupat. Jika PQRS juga membentuk belah ketupat, tunjukkan bahwa tepat satu di antara Q, R, S berimpit dengan titik sudut belah ketupat ABCD.

**SELEKSI TIM OLIMPIADE MATEMATIKA INDONESIA 2003**  
**OLIMPIADE SAINS NASIONAL 2002**  
**YOGYAKARTA, 10 SEPTEMBER 2002**

*Prestasi itu diraih bukan didapat !!!*

**SOLUSI SOAL**

**Bidang Matematika**



**Disusun oleh : Eddy Hermanto, ST**

## 1. Alternatif 1 :

$$n^4 - n^2 = n^2(n^2 - 1) = n^2(n - 1)(n + 1)$$

$(n - 1)$ ,  $n$  dan  $(n + 1)$  adalah 3 bilangan bulat berurutan maka  $3! = 6$  membagi  $(n - 1)n(n + 1)$ .

Maka  $3 \mid n^4 - n^2$ .

Jika  $n$  genap maka  $4 \mid n^2$  sedangkan jika  $n$  ganjil maka  $4 \mid n^2 - 1$ . Maka  $4 \mid n^2(n^2 - 1) = n^4 - n^2$

Karena 3 dan 4 relatif prima maka  $n^4 - n^2$  habis dibagi  $3 \cdot 4 = 12$ .

## Alternatif 2 :

$$n^4 - n^2 = n^2(n^2 - 1) = n^2(n - 1)(n + 1) = (n - 1)n(n + 1)(n + 2 - 2)$$

$$n^4 - n^2 = (n - 1)n(n + 1)(n + 2) - 2(n - 1)n(n + 1)$$

$n - 1$ ,  $n$ ,  $n + 1$  dan  $n + 2$  adalah 4 bilangan bulat berurutan maka  $4! = 24 \mid (n - 1)n(n + 1)(n + 2)$ .

$(n - 1)$ ,  $n$  dan  $(n + 1)$  adalah 3 bilangan bulat berurutan maka  $3! = 6$  membagi  $(n - 1)n(n + 1)$ .

Maka  $12 \mid 2(n - 1)n(n + 1)$ .

Maka  $12 \mid n^4 - n^2$

$\therefore$  Terbukti bahwa  $n^4 - n$  habis dibagi 12 untuk sebarang bilangan bulat  $n > 1$ .

2.  $180 = 2^2 \cdot 3^2 \cdot 5$ 

Maka kemungkinan lima mata dadu yang memenuhi perkaliannya = 180 adalah  $(1, 3, 3, 4, 5)$ ,  $(1, 2, 3, 5, 6)$ ,  $(1, 1, 5, 6, 6)$ ,  $(2, 2, 3, 3, 5)$  dan permutasinya yang secara berurutan banyaknya

kemungkinan tersebut adalah  $\frac{5!}{2!}$ ,  $5!$ ,  $\frac{5!}{2! \cdot 2!}$ ,  $\frac{5!}{2! \cdot 2!}$

$$\text{Peluang hasil kali mata dadu sama dengan 180 adalah} = \frac{1}{6^5} \left( \frac{5!}{2!} + 5! + 2 \cdot \frac{5!}{2! \cdot 2!} \right) = \frac{240}{6^5}$$

$$144 = 2^4 \cdot 3^2$$

Maka kemungkinan lima mata dadu yang memenuhi perkaliannya = 144 adalah  $(1, 1, 4, 6, 6)$ ,  $(1, 2, 2, 6, 6)$ ,  $(1, 2, 3, 4, 6)$ ,  $(1, 3, 3, 4, 4)$ ,  $(2, 2, 3, 3, 4)$ ,  $(2, 2, 2, 3, 6)$  dan permutasinya yang

secara berurutan banyaknya kemungkinan tersebut adalah  $\frac{5!}{2! \cdot 2!}$ ,  $\frac{5!}{2! \cdot 2!}$ ,  $5!$ ,  $\frac{5!}{2! \cdot 2!}$ ,  $\frac{5!}{2! \cdot 2!}$ ,  $\frac{5!}{3!}$ .

$$\text{Peluang hasil kali mata dadu sama dengan 144 adalah} = \frac{1}{6^5} \left( 4 \cdot \frac{5!}{2! \cdot 2!} + 5! + \frac{5!}{3!} \right) = \frac{260}{6^5}$$

$\therefore$  Maka peluang yang lebih besar adalah terjadinya hasil kali 144.

## 3. Alternatif 1 :

$$x + y + z = 6 \quad \dots\dots\dots (1)$$

$$x^2 + y^2 + z^2 = 12 \quad \dots\dots\dots (2)$$

$$x^3 + y^3 + z^3 = 24 \quad \dots\dots\dots (3)$$

$$(x + y + z)^2 = 6^2$$

$$x^2 + y^2 + z^2 + 2(xy + xz + yz) = 36$$

$$xy + xz + yz = 12 \quad \dots\dots\dots (4)$$

## Alternatif 1.a :

$$(x + y + z)(x^2 + y^2 + z^2) = 6 \cdot 12 = 72$$

$$x^3 + y^3 + z^3 + xy^2 + xz^2 + x^2y + x^2z + yz^2 + y^2z = 72$$

$$xy^2 + xz^2 + x^2y + x^2z + yz^2 + y^2z = 48 \quad \dots\dots\dots (5)$$

$$(x + y + z)(xy + xz + yz) = 6 \cdot 12 = 72$$

$$xy^2 + xz^2 + x^2y + x^2z + yz^2 + y^2z + 3xyz = 72. \text{ Maka } 48 + 3xyz = 72$$

$$xyz = 8 \quad \dots\dots\dots (6)$$

Dari persamaan (1), (4) dan (6) dapat disimpulkan bahwa  $x$ ,  $y$  dan  $z$  adalah akar-akar persamaan  $t^3 - 6t^2 + 12t - 8 = 0$  sehingga  $(t - 2)^3 = 0$

$$\text{Maka } x = y = z = 2$$

$\therefore$  Semua solusi yang memenuhi sistem persamaan tersebut hanya  $x = y = z = 2$ .

#### Alternatif 1.b :

Dengan AM-GM

$$x^2 + y^2 \geq 2xy$$

$$x^2 + z^2 \geq 2xz$$

$$y^2 + z^2 \geq 2yz$$

Tanda kesamaan terjadi jika dan hanya jika  $x = y = z$

Maka

$$12 = x^2 + y^2 + z^2 \geq xy + xz + yz = 12 \quad \dots\dots\dots (7)$$

Berdasarkan persamaan (2) dan (4) maka  $x = y = z$

Karena  $x + y + z = 6$  maka  $x = y = z = 2$ .

Setelah dicek ternyata  $x = y = z = 2$  memenuhi ketiga persamaan.

$\therefore$  Semua solusi yang memenuhi sistem persamaan tersebut hanya  $x = y = z = 2$ .

#### Alternatif 2 :

Dari persamaan (1) dan (2) didapat

$$\sqrt{\frac{x^2 + y^2 + z^2}{3}} = \frac{x + y + z}{3} \quad \dots\dots\dots (8)$$

Berdasarkan ketaksamaan QM-AM maka

$$\sqrt{\frac{x^2 + y^2 + z^2}{3}} \geq \frac{x + y + z}{3} \quad \dots\dots\dots (9)$$

Tanda kesamaan terjadi jika dan hanya jika  $x = y = z$ .

Berdasarkan persamaan (8) dan (9) dapat disimpulkan bahwa  $x = y = z = 2$ .

Setelah dicek ternyata  $x = y = z = 2$  memenuhi ketiga persamaan.

$\therefore$  Semua solusi yang memenuhi sistem persamaan tersebut hanya  $x = y = z = 2$ .

#### Alternatif 3 :

$$(x - 2)^2 + (y - 2)^2 + (z - 2)^2 = x^2 + y^2 + z^2 + 12 - 4(x + y + z)$$

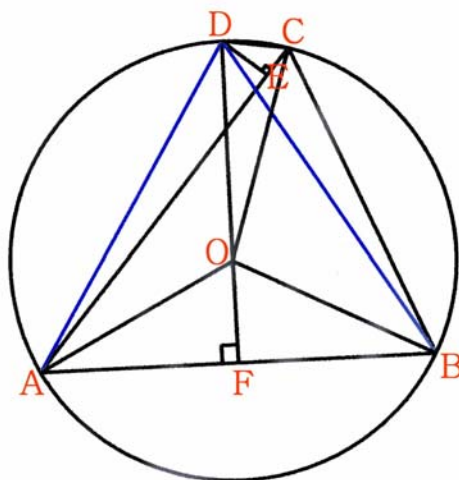
$$(x - 2)^2 + (y - 2)^2 + (z - 2)^2 = 12 + 12 - 4(6) = 0$$

Karena bilangan kuadrat tidak mungkin negatif maka kesamaan terjadi hanya jika  $x = y = z = 2$ .

Setelah dicek ternyata  $x = y = z = 2$  memenuhi ketiga persamaan.

$\therefore$  Semua solusi yang memenuhi sistem persamaan tersebut hanya  $x = y = z = 2$ .

4.



Misalkan  $\angle ACB = \gamma$

Karena  $\triangle ABD$  dan  $\triangle ABC$  memiliki alas yang sama dan titik A, B, C dan D semuanya terletak pada satu lingkaran yang sama maka  $\angle ADB = \angle ACB = \gamma$ .

Titik F adalah pertengahan AB dengan DF tegak lurus AB. Maka  $AD = BD$ .

Karena DF tegak lurus AB dan F pertengahan maka  $\angle ADF = \angle FDB = \frac{1}{2}\gamma$ .

Karena O pusat lingkaran maka  $\angle AOB = 2\angle ACB = 2\gamma$  serta  $\angle AOB = \angle FOB = \gamma$

$$AD = BD = \frac{AB}{2 \sin \frac{1}{2}\gamma} \quad \dots\dots\dots (1)$$

ABCD adalah segiempat talibusur, maka sesuai teorema *Ptolemy* berlaku :

$$AC \cdot BD = DC \cdot AB + AD \cdot BC$$

Karena  $AD = BD$  maka

$$DC = \frac{(AC - BC)}{2 \sin \frac{1}{2}\gamma} \quad \dots\dots\dots (2)$$

$$\text{Karena DE tegak lurus AC maka pada } \triangle ADE \text{ berlaku } AD^2 = DE^2 + AE^2 \quad \dots\dots\dots (3)$$

$$\text{Pada } \triangle DEC \text{ berlaku } DC^2 = DE^2 + EC^2 \quad \dots\dots\dots (4)$$

Dari persamaan (3) dan (4) didapat :

$$AD^2 - DC^2 = AE^2 - EC^2$$

Mengingat  $AE = AC - EC$  maka :

$$AD^2 - DC^2 = AC^2 - 2 AC \cdot EC$$

$$\frac{(AB)^2 - (AC - BC)^2}{4 \sin^2 \frac{1}{2}\gamma} = AC^2 - 2 AC \cdot EC$$

Mengingat bahwa  $2 \sin^2 \frac{1}{2}\gamma = 1 - \cos \gamma$  dan  $AB^2 = AC^2 + BC^2 - 2 AC BC \cos \gamma$  maka :

$$\frac{AC \cdot BC \cdot (2 - 2 \cos \gamma)}{2 - 2 \cos \gamma} = AC^2 - 2 AC \cdot EC$$

$$BC = AC - 2EC$$

Karena  $AC = AE + EC$  maka  $AE = EC + CB$  (terbukti)

$\therefore$  Terbukti bahwa  $AE = EC + CB$ .



5. Karena jumlah pada setiap barisan sama dan jumlah pada setiap kolom sama maka jumlah ke-15 bilangan tersebut akan habis dibagi 3 dan 5 yang berarti jumlah ke-15 bilangan tersebut habis dibagi 15.

Jumlah ke-16 bilangan =  $3+4+5+6+7+8+9+10+11+12+13+16+17+18+19+20 = 178$

Karena  $178 \equiv 13 \pmod{15}$  maka bilangan yang harus dibuang adalah 13.

10	A	B
C	D	9
E	3	F
11	G	17
H	20	J

Karena jumlah bilangan = 165 maka jumlah masing-masing baris =  $165 : 5 = 33$  dan jumlah pada masing-masing kolom =  $165 : 3 = 55$ .

Berdasarkan hal tersebut maka jelas bahwa  $G = 5$ .

$H + J = 13$ . Pasangan yang mungkin memenuhi adalah (6, 7) atau (7, 6)

$A + B = 23$ . Pasangan yang mungkin memenuhi adalah (4, 19), (19, 4). Pasangan (7, 16) dan (16, 7) tidak mungkin memenuhi sebab 7 pasti berada pada baris ke-5.

Jika  $A = 4$  dan  $B = 19$  maka  $A + D + 3 + G + 20 = 55$ . Akibatnya  $D = 23$  (tidak ada bilangan 23).

Maka nilai yang mungkin memenuhi hanya  $A = 19$  dan  $B = 4$  yang dipenuhi oleh  $D = 8$ .

Pada baris ke-2,  $C + D + 9 = 33$ . Maka  $C = 16$ .

Pada baris ke-3 berlaku  $E + F = 30$ . Pasangan (E, F) yang mungkin hanya (12, 18) atau (18, 12).

Jika  $E = 18$  maka  $10 + C + E + 11 + H = 55$ . Akibatnya  $H = 0$  (tidak ada bilangan 0)

Maka kemungkinan nilai E hanya jika  $E = 12$ . Maka  $F = 18$  dan  $H = 6$  yang berakibat  $J = 7$

Dengan mengecek kembali semua bilangan tersebut maka semuanya terpenuhi.

∴ Hanya ada satu kemungkinan pengisian petak yaitu :

10	19	4
16	8	9
12	3	18
11	5	17
6	20	7

6. Karena  $p$  prima maka  $4p^2 + 1$  dan  $6p^2 + 1$  keduanya bilangan prima  $> 5$ .

Alternatif 1 :

Jika  $p^2 \equiv \pm 1 \pmod{5}$  maka  $4p^2 + 1 \equiv 0 \pmod{5}$  yang tidak mungkin merupakan bilangan prima.

Jika  $p^2 \equiv \pm 2 \pmod{5}$  maka  $6p^2 + 1 \equiv 0 \pmod{5}$  yang tidak mungkin merupakan bilangan prima.

Sedangkan jika  $p^2 \equiv 0 \pmod{5}$  maka bilangan prima  $p$  yang memenuhi hanya  $p = 5$ .

Untuk  $p = 5$  maka  $4p^2 + 1 = 101$  dan  $6p^2 + 1 = 151$  yang keduanya merupakan bilangan prima.

Alternatif 2 :

Angka satuan bilangan kuadrat adalah 0, 1, 4, 5, 6, 9.

Jika angka satuan  $p^2$  adalah 0 maka angka satuan  $p$  juga 0 yang membuat tidak mungkin  $p$  prima.

Jika angka satuan  $p^2$  adalah 5 maka angka satuan  $p$  juga 5. Bilangan prima  $p$  yang memenuhi hanya jika  $p = 5$  maka  $4p^2 + 1 = 101$  dan  $6p^2 + 1 = 151$  yang keduanya merupakan bilangan prima.

Jika angka satuan  $p^2$  adalah 1 atau 6 maka angka satuan  $4p^2 + 1$  adalah 5 yang membuat tidak mungkin  $4p^2 + 1$  bilangan prima.

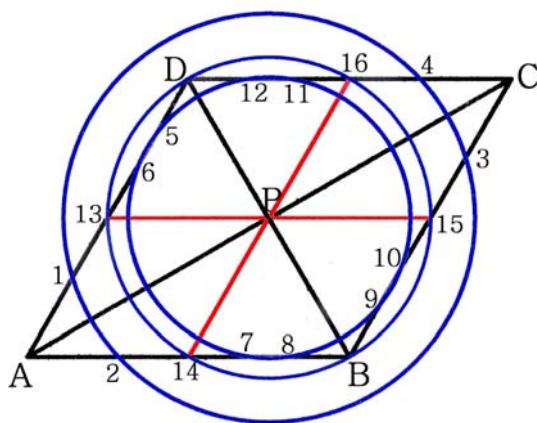
Jika angka satuan  $p^2$  adalah 4 atau 9 maka angka satuan  $6p^2 + 1$  adalah 5 yang membuat tidak mungkin  $6p^2 + 1$  bilangan prima.

∴ Maka nilai  $p$  prima yang memenuhi  $4p^2 + 1$  dan  $6p^2 + 1$  hanya  $p = 5$ .

7. ABCD adalah belah ketupat sehingga  $AB = BC = CD = DA$ .

Tidak mungkin Q, R dan S ketiga berimpit dengan titik sudut belah ketupat ABCD sebab akan menyebabkan terdapat tiga titik P dan dua di antara Q, R dan S akan sejajar.

Misalkan terdapat dua titik, misalkan Q dan R, yang berhimpit dengan titik sudut ABCD. Salah satu PQ atau PR adalah merupakan sisi belah ketupat PQRS. Tanpa mengurangi keumuman misalkan PQ adalah sisi belah ketupat PQRS. Maka PQ akan sejajar dengan salah satu diagonal ABCD. Karena R berhimpit dengan titik sudut belah ketupat ABCD maka tidak mungkin ada ruas garis sejajar PQ dengan salah ujungnya merupakan titik sudut ABCD.



Misalkan titik Q terletak pada sisi belah ketupat ABCD sehingga PQ tidak sejajar dengan salah satu sisi ABCD serta PQ merupakan salah satu sisi belah ketupat PQRS. Misalkan juga titik R adalah titik sehingga PR juga merupakan sisi belah ketupat PQRS. Tidak mungkin PR sejajar sisi-sisi ABCD sebab akan membuat panjang  $PR = \frac{1}{2}AB \neq PQ$ . Maka titik S tidak akan mungkin terletak pada sisi yang sama dengan Q dan R sebab akan menyebabkan QS atau QR sejajar sisi ABCD, padahal PQ maupun PR tidak sejajar sisi ABCD.

Misalkan terdapat dua titik di antara Q, R atau S yang terletak pada sisi yang sama. Misalkan titiki tersebut adalah QR. Tidak mungkin QR diagonal sebab akan menyebabkan titik S terletak di luar ABCD. Akibatnya PS harus sejajar QR maka titik S adalah pertengahan dari sisi AB, BC, CD atau DA. Panjang  $PS = \frac{1}{2}AB$ . Dengan pusat P dan jari-jari PS dibuat lingkaran yang memotong belah ketupat ABCD di pertengahan sisi AB, BC, CD, DA, B atau D Akibatnya titik Q atau R haruslah terletak pada pertengahan sisi ABCD. Maka titik keempat haruslah terletak pada A, B, C atau D.

Jika tidak terdapat dua titik yang terletak pada sisi yang sama. Maka akan terdapat dua titik yang terletak pada sisi yang sejajar. Tanpa mengurangi keumuman misalakan sisi yang sejajar tersebut adalah AD dan BC.

Jika titik Q terletak pada bagian A-13. Misalkan juga titik Q adalah titik 1. Dari titik Q dibuat garis lurus melalui P dan meotong sisi BC di titik K. Karena  $\triangle APD$  kongruen dengan  $\triangle BPC$  (ketiga

sudutnya sama dan  $AD = BC$ ), maka  $PQ = PK$ . Dengan P sebagai pusat dan jari-jari PQ dibuat sebuah lingkaran yang akan memotong sisi BC di titik K. Maka agar terbentuk belah ketupat PQRS, haruslah titik K merupakan salah satu titik sudut belah ketupat PQRS. Padahal Q, P dan K berada pada satu garis lurus. Maka tidak mungkin dapat dibentuk belah ketupat PQRS dengan salah satu titik terletak pada sisi A-13.

Jika titik Q terletak pada bagian 13-D. Tanpa mengurangi keumuman misalkan titik Q adalah titik 5. Dengan pusat P dan jari-jari PQ dapat dibuat sebuah lingkaran yang memotong belah ketupat ABCD di titik 6 sampai 12. Dengan cara yang sama dengan sebelumnya maka 5-P-9, 6-P-10, 7-P-11, 8-P-12 masing-masing merupakan garis lurus. Karena Q adalah titik 5 maka satu titik yang terletak pada sisi BC adalah titik 10, misalkan titik ini adalah R. Dari titik Q dibuat garis sejajar PR yang hanya akan memotong sisi BC sehingga pada sisi BC akan terdapat dua titik di antara Q, R dan S dan sesuai penjelasan sebelumnya hal tersebut tidak akan terpenuhi .

Maka dapat disimpulkan bahwa PQRS akan berbentuk belah ketupat hanya jika dua titik di antara Q, R atau S merupakan pertengahan sisi AB, BC, CD atau DA dan satu di anatar berhimpit dengan titik A, B, C atau D.

∴ Terbukti bahwa jika PQRS membentuk belah ketupat maka tepat satu di antara Q, R atau S berhimpit dengan titik sudut belah ketupat ABCD.



**SELEKSI OLIMPIADE TINGKAT KABUPATEN/KOTA TAHUN 2003  
TIM OLIMPIADE MATEMATIKA INDONESIA TAHUN 2004**

**Bidang Matematika**

**Waktu : 90 Menit**



**DEPARTEMEN PENDIDIKAN NASIONAL  
DIREKTORAT JENDERAL PENDIDIKAN DASAR DAN MENENGAH  
DIREKTORAT PENDIDIKAN MENENGAH UMUM  
TAHUN 2003**

# OLIMPIADE MATEMATIKA TINGKAT KABUPATEN/KOTA TAHUN 2003

## 1 Bagian Pertama

1. Ada berapa banyak diantara bilangan-bilangan 20000002, 20011002, 20022002, 20033002 yang habis dibagi 9 ?  
A. 0                      B. 1                      C. 2                      D. 3                      E. 4
2. Ada berapa banyak bilangan 4-angka (digit) yang semua angkanya genap dan bukan merupakan kelipatan 2003 ?  
A. 499                      C. 624                      E. Tidak satupun diantaranya  
B. 500                      D. 625
3. Hari ini usiaku  $\frac{1}{3}$  kali usia ayahku. Lima tahun yang lalu, usiaku  $\frac{1}{4}$  kali usia ayahku pada waktu itu. Berapakah usiaku sekarang ?  
A. 12                      B. 15                      C. 17                      D. 20                      E. 21
4. Sebuah kelas terdiri dari 40 siswa. Diantaranya, 20 siswa menyukai pelajaran Matematika, 15 orang menyukai pelajaran Biologi, 15 orang menyukai pelajaran Bahasa Inggris dan lima orang menyukai ketiganya. Banyaknya siswa yang menyukai sedikitnya satu dari ketiga pelajaran tersebut adalah ?  
A. 10                      C. 20                      E. Tidak satupun diantaranya  
B. 15                      D. 25
5. Masing-masing dari kelima pernyataan berikut benar atau salah.  
(a) pernyataan (c) dan (d) keduanya benar  
(b) pernyataan (d) dan (e) tidak keduanya salah  
(c) pernyataan (a) benar  
(d) pernyataan (c) salah  
(e) pernyataan (a) dan (c) keduanya salah.  
Berapa banyak diantara kelima pernyataan di atas yang benar ?  
A. 0                      B. 1                      C. 2                      D. 3                      E. 4
6. Misalkan x dan y adalah bilangan tak nol yang memenuhi

$$xy = \frac{x}{y} = x - y$$

Berapakah nilai  $x + y$  ?

- A.  $-\frac{3}{2}$                       B.  $-\frac{1}{2}$                       C. 0                      D.  $\frac{1}{2}$                       E.  $\frac{3}{2}$

7. Di dalam suatu lingkaran  $L_1$  berjari-jari 1 dan berpusat di titik asal dilukis suatu lingkaran  $L_2$  yang bersinggungan dengan lingkaran  $L_1$ , dan dengan sumbu-x dan sumbu-y positif. Jari-jari lingkaran  $L_2$  adalah ?
- A.  $\frac{1}{3}$                       B.  $\frac{2}{5}$                       C.  $\sqrt{2} - 1$                       D.  $\frac{1}{2}$                       E.  $2 - \sqrt{2}$
8. Misalkan  $3^a = 4$ ,  $4^b = 5$ ,  $5^c = 6$ ,  $6^d = 7$ ,  $7^e = 8$ , dan  $8^f = 9$ . Berapakah hasil kali abcdef ?
- A. 1                      B. 2                      C.  $\sqrt{6}$                       D. 3                      E.  $\frac{10}{3}$
9. Misalkan N adalah bilangan bulat terkecil yang bersifat : bersisa 2 jika dibagi 5, bersisa 3 jika dibagi oleh 7, dan bersisa 4 jika dibagi 9. Berapakah hasil penjumlahan digit-digit dari N ?
- A. 4                      B. 8                      C. 13                      D. 22                      E. 40
10. Suatu garis melalui titik  $(m, -9)$  dan  $(7, m)$  dengan kemiringan m. Berapakah nilai m ?
- A. 1                      B. 2                      C. 3                      D. 4                      E. 5

## 2 Bagian Kedua

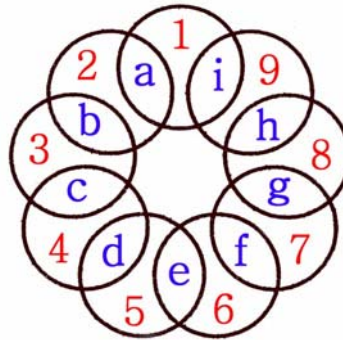
11. Misalkan f suatu fungsi yang memenuhi

$$f\left(\frac{1}{x}\right) + \frac{1}{x}f(-x) = 2x$$

untuk setiap bilangan real  $x \neq 0$ . Berapakah nilai  $f(2)$  ?

12. Jika a dan b bilangan bulat sedemikian sehingga  $a^2 - b^2 = 2003$ , maka berapakah nilai  $a^2 + b^2$  ?  
(Diketahui bahwa 2003 merupakan bilangan prima)
13. Dari sepuluh orang siswa akan dibentuk 5 kelompok, masing-masing beranggota dua orang. Berapa banyaknya cara membentuk kelima kelompok ini ?
14. Misalkan bahwa
- $$f(x) = x^5 + ax^4 + bx^3 + cx^2 + dx + c$$
- dan bahwa  $f(1) = f(2) = f(3) = f(4) = f(5)$ . Berapakah nilai a ?
15. Berapakah hasil perkalian
- $$\left(1 - \frac{1}{2^2}\right)\left(1 - \frac{1}{3^2}\right)\left(1 - \frac{1}{4^2}\right) \cdots \left(1 - \frac{1}{2003^2}\right)$$
16. Iwan selalu berbohong pada hari Senin, Selasa, Rabu dan berkata jujur pada hari-hari lainnya. Di lain pihak Budi selalu berbohong pada hari Kamis, Jumat, Sabtu dan berkata jujur pada hari-hari lainnya. Pada suatu hari terjadi percakapan berikut :
- Iwan : Kemarin saya berbohong  
Budi : Saya juga
- Pada hari apa percakapan tersebut terjadi ?

17. Segitiga ABC adalah segitiga samasisi dengan panjang sisi 1 satuan. Melalui B dibuat garis yang tegak lurus BC. Garis tersebut berpotongan dengan perpanjangan garis AC di titik D. Berapakah panjang BD ?
18. Untuk setiap bilangan real  $\alpha$ , kita definisikan  $\lfloor \alpha \rfloor$  sebagai bilangan bulat yang kurang dari atau sama dengan  $\alpha$ . Sebagai contoh  $\lfloor 4,9 \rfloor = 4$  dan  $\lfloor 7 \rfloor = 7$ . Jika  $x$  dan  $y$  bilangan real sehingga  $\lfloor \sqrt{x} \rfloor = 9$  dan  $\lfloor \sqrt{y} \rfloor = 12$ , maka nilai terkecil yang mungkin dicapai oleh  $\lfloor y - x \rfloor$  adalah ?
19. Untuk menentukan wakilnya dalam cabang lari 110 m gawang putera, sebuah SMU mengadakan seleksi yang diikuti 5 orang siswa. Dalam seleksi tersebut diadakan tiga kali lomba yang pada setiap lomba, pelari tercepat diberi nilai 5, sedangkan peringkat di bawahnya berturut-turut mendapat nilai 3, 2, 1, 1. Tidak ada dua pelari yang menempati peringkat yang sama. Jika pemenang seleksi diberikan kepada yang nilai totalnya paling tinggi pada ketiga lomba, berapakah nilai terendah yang mungkin dicapai oleh pemenang seleksi ?
20. Misalkan  $a, b, c, d, e, f, g, h, i$  menyatakan bilangan-bilangan bulat positif berbeda yang kurang dari atau sama dengan sembilan. Jika jumlah setiap tiga bilangan dalam setiap lingkaran bernilai sama, berapakah nilai  $a + d + g$  ?



**SELEKSI OLIMPIADE TINGKAT KABUPATEN/KOTA 2003**  
**TIM OLIMPIADE MATEMATIKA INDONESIA 2004**

*Prestasi itu diraih bukan didapat !!!*

**SOLUSI SOAL**

**Bidang Matematika**



Disusun oleh : Eddy Hermanto, ST



### BAGIAN PERTAMA

1. (Jawaban : A)

*Teori : Sebuah bilangan bulat habis dibagi 9 jika jumlah digit bilangan tersebut habis dibagi 9.*

Jumlah digit 20000002 =  $2 + 0 + 0 + 0 + 0 + 0 + 0 + 2 = 4$  (Tidak habis dibagi 9)

Jumlah digit 20011002 =  $2 + 0 + 0 + 1 + 1 + 0 + 0 + 2 = 6$  (Tidak habis dibagi 9)

Jumlah digit 20022002 =  $2 + 0 + 0 + 2 + 2 + 0 + 0 + 2 = 8$  (Tidak habis dibagi 9)

Jumlah digit 20033002 =  $2 + 0 + 0 + 3 + 3 + 0 + 0 + 2 = 10$  (Tidak habis dibagi 9)

∴ Banyaknya bilangan yang habis dibagi 3 adalah 0

2. (Jawaban : A)

Angka pertama ada 4 kemungkinan : 2, 4, 6, 8. Angka ke-2, ke-3 dan ke-4 masing-masing ada 5 kemungkinan. Banyaknya bilangan empat angka yang semua digitnya genap ada :  $4 \times 5 \times 5 \times 5 = 500$  bilangan.

Bilangan kelipatan 2003 yang terdiri dari 4 angka adalah : 2003, 4006, 6009, 8012. Yang semua digitnya bilangan genap hanya 4006.

∴ Banyaknya bilangan 4 angka yang semua digitnya genap dan bukan merupakan kelipatan 2003 ada :  $500 - 1 = 499$  bilangan

3. (Jawaban : B)

Misal usiaku saat ini =  $X$  dan usia ayahku saat ini =  $Y$ , maka :  $X = \frac{1}{3}Y$  dan

$$(X - 5) = \frac{1}{4}(Y - 5)$$

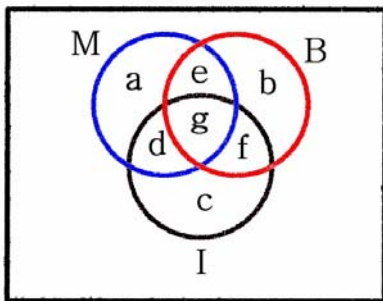
$$X - 5 = \frac{1}{4}(3X - 5)$$

$$4X - 20 = 3X - 5$$

$$X = 15$$

∴ Usiaku saat ini 15 tahun

4. (Jawaban : ?)



Misalkan M adalah himpunan siswa yang menyukai Matematika ; B adalah himpunan siswa yang menyukai Biologi dan I adalah himpunan siswa yang menyukai Bahasa Inggris.

## Olimpiade Matematika Tk Kabupaten/Kota 2003

Misalkan  $n(M \cup B \cup I) = T$ . Maka banyaknya siswa yang menyukai paling sedikit 1 mata pelajaran adalah T.

Misalkan banyaknya siswa yang tidak menyukai satupun dari ketiga pelajaran tersebut adalah k

$$n(M \cup B \cup I) = n(M) + n(B) + n(I) - n(M \cap B) - n(M \cap I) - n(B \cap I) + n(M \cap B \cap I)$$

$$T = 40 - k = 20 + 15 + 15 - (e + g) - (d + g) - (f + g) + g$$

$$T = 40 - k = 40 - d - e - f. \text{ Maka } k = d + e + f$$

Tampak ada yang kurang pada soal. Kemungkinan maksud soal :

a.  $k = 0$ , banyaknya siswa yang menyukai hanya 1 pelajaran ?

$$n(M \cup B \cup I) = n(M) + n(B) + n(I) - n(M \cap B) - n(M \cap I) - n(B \cap I) + n(M \cap B \cap I)$$

$$40 = 20 + 15 + 15 - (e + g) - (d + g) - (f + g) + g$$

$$d + e + g = 0$$

Karena  $d \geq 0$  ;  $e \geq 0$  dan  $f \geq 0$  maka  $d = 0$  ;  $e = 0$  dan  $f = 0$

$$a + d + e + g = 20 \quad \text{sehingga} \quad a = 20 - 5 - 0 - 0 = 15$$

$$c + d + f + g = 15 \quad \text{sehingga} \quad c = 15 - 5 - 0 - 0 = 10$$

$$b + e + f + g = 15 \quad \text{sehingga} \quad b = 15 - 5 - 0 - 0 = 10$$

Banyaknya siswa yang menyukai hanya 1 pelajaran adalah  $= a + b + c = 35$

b.  $n(M \cup B \cup I) = 40$  dan pertanyaan sesuai dengan soal

Maka jelas  $a + b + c + d + e + f + g = 40$

( *Catatan* : Jawaban asli soal ini adalah 25, tapi bagaimana mendapatkannya ? )

5. (Jawaban : D)

Misalkan (a) benar maka (c) dan (d) benar

Berdasarkan (d) hal ini merupakan kontradiksi. Maka (a) salah.

Karena (a) salah maka (c) juga salah sehingga (d) dan (e) benar. Akibatnya (b) juga benar.

Pernyataan yang benar adalah (b) ; (d) dan (e).

$\therefore$  Banyaknya pernyataan yang benar ada : 3

6. (Jawaban : A)

$$xy = \frac{x}{y} \quad ; \quad y \neq 0$$

$$xy^2 = x \quad \dots\dots\dots (1)$$

a. Untuk  $x = 0$

$$\frac{x}{y} = x - y \quad . \text{ Maka } 0 = 0 - y \text{ sehingga } y = 0 \quad (\text{Tidak memenuhi syarat awal bahwa } y \neq 0)$$

b. Untuk  $x \neq 0$

Berdasarkan pers (1) maka  $y^2 = 1$  sehingga  $y = 1$  atau  $y = -1$

\* Untuk  $y = 1$

$$\frac{x}{y} = x - y \quad . \text{ Maka } x = x - 1. \text{ Karena } 0 = -1 \text{ maka tidak ada nilai } x \text{ yang memenuhi}$$

\* Untuk  $y = -1$

$$\frac{x}{y} = x - y \quad . \text{ Maka } -x = x + 1 \text{ sehingga } x = -\frac{1}{2}$$

$$\therefore x + y = -\frac{1}{2} + (-1) = -\frac{3}{2}$$

7. (Jawaban : C)

OB adalah jari-jari lingkaran besar dengan pusat O

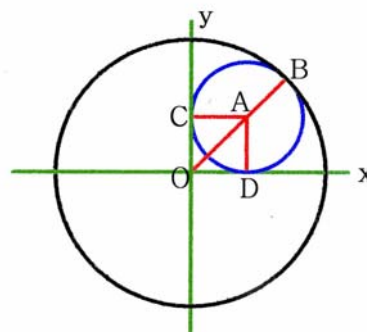
Misal jari-jari lingkaran dalam = r, maka AB = r

Karena OD = OC = r maka OA =  $r\sqrt{2}$

$$OB = OA + AB$$

$$1 = r\sqrt{2} + r$$

$$\therefore r = \frac{1}{\sqrt{2} + 1} = \sqrt{2} - 1$$



8. (Jawaban : B)

Karena  $3^a = 4$  maka  $a = {}^3\log 4$

Karena  $4^b = 5$  maka  $b = {}^4\log 5$

Karena  $5^c = 6$  maka  $c = {}^5\log 6$

Karena  $6^d = 7$  maka  $d = {}^6\log 7$

Karena  $7^e = 8$  maka  $e = {}^7\log 8$

Karena  $8^f = 9$  maka  $f = {}^8\log 9$

$$abcdef = {}^3\log 4 \cdot {}^4\log 5 \cdot {}^5\log 6 \cdot {}^6\log 7 \cdot {}^7\log 8 \cdot {}^8\log 9 = {}^3\log 9 = 2$$

$$\therefore abcdef = 2$$

9. (Jawaban : C)

**Alternatif 1 :**

Karena N bersisa 2 jika dibagi 5 maka  $N = 5m + 2$ . Bilangan-bilangan N adalah 2, 7, 12, 17, 22, ....

Karena N bersisa 3 jika dibagi 7 maka  $N = 7n + 3$ . Bilangan-bilangan N adalah 3, 10, 17, 24, 31, ...

Karena persekutuan terkecilnya 17 maka bilangan yang bersisa 2 jika dibagi 5 dan bersisa 3 jika dibagi 7 akan berbentuk  $N = (5 \cdot 7)p + 17 = 35p + 17$  dengan p adalah bilangan bulat. Bilangan-bilangan N adalah 17, 52, 87, 122, 157, 192, .....

N bersisa 4 jika dibagi 9. Maka  $N = 9t + 4$ . Bilangan-bilangan N adalah 4, 13, 22, 31, 40, 49, 58, 67, 76, 85, 94, 103, 112, 121, 130, 139, 148, 157, 166, .....

Karena persekutuan terkecilnya adalah 157, maka bilangan yang bersisa 2 jika dibagi 5, bersisa 3 jika dibagi 7 dan bersisa 4 jika dibagi 9 akan berbentuk  $N = (35 \cdot 9)k + 157$

$$N = 315k + 157$$

$$N_{\min} = 157 \text{ jika } k = 0$$

$$\therefore \text{Jumlah digit dari } N_{\min} \text{ adalah } = 1 + 5 + 7 = 13$$

**Alternatif 2 :**

Karena N bersisa 2 jika dibagi 5 maka  $N = 5m + 2$  untuk suatu bilangan bulat tak negatif m.

$$N \equiv 3 \pmod{7}$$

$$5m + 2 \equiv 3 \pmod{7}$$

$$5m \equiv 1 \pmod{7}$$

Nilai m yang memenuhi haruslah berbentuk  $m = 7k + 3$  untuk suatu bilangan bulat tak negatif k.

$$N = 5m + 2 = 5(7k + 3) + 2 = 35k + 17$$

$$N \equiv 4 \pmod{9}$$

$$35k + 17 \equiv 4 \pmod{9} \equiv 22 \pmod{9}$$

$$35k \equiv 5 \pmod{9}$$

Nilai k yang memenuhi haruslah berbentuk  $k = 9p + 4$  untuk suatu bilangan bulat tak negatif p.

$$N = 35k + 17 = 35(9p + 4) + 17 = 315p + 157.$$

$$N_{\min} = 157 \text{ jika } p = 0$$

$$\therefore \text{Jumlah digit dari } N_{\min} \text{ adalah } = 1 + 5 + 7 = 13$$

10. (Jawaban : C)

$$\text{Gradien} = \frac{y_2 - y_1}{x_2 - x_1}$$

$$m = \frac{m - (-9)}{7 - m}$$

$$m + 9 = 7m - m^2$$

$$(m - 3)^2 = 0$$

$$\therefore m = 3$$

#### BAGIAN KEDUA

$$11. f\left(\frac{1}{x}\right) + \frac{1}{x}f(-x) = 2x$$

$$\text{Untuk } x = \frac{1}{2} \text{ maka } f(2) + 2f\left(-\frac{1}{2}\right) = 1 \quad \dots\dots\dots (1)$$

$$\text{Untuk } x = -2 \text{ maka } f\left(-\frac{1}{2}\right) - \frac{1}{2}f(2) = -4$$

$$2f\left(-\frac{1}{2}\right) - f(2) = -8 \quad \dots\dots\dots (2)$$

Kurangkan persamaan (1) dengan persamaan (2)

$$2f(2) = 9$$

$$\therefore f(2) = \frac{9}{2}$$

$$12. a^2 - b^2 = 2003. \text{ Maka } (a + b)(a - b) = 2003 \cdot 1$$

\* Untuk  $a + b = 2003$  dan  $(a - b) = 1$   
didapat  $2a = 2004$ . Maka  $a = 1002$  dan  $b = 1001$

$$a^2 + b^2 = (1002)^2 + (1001)^2 = 2006005$$

\* Untuk  $(a + b) = 1$  dan  $(a - b) = 2003$   
didapat  $2a = 2004$ . Maka  $a = 1002$  dan  $b = -1001$

$$a^2 + b^2 = (1002)^2 + (-1001)^2 = 2006005$$

$$\therefore a^2 + b^2 = 2006005$$

13. Alternatif 1:

\* Jika 2 orang siswa akan dibentuk 1 kelompok  
Banyaknya cara ada 1

\* Jika 4 orang siswa (misal A, B, C dan D) akan dibentuk menjadi 2 kelompok yang masing-masing beranggota 2 orang

Pasangkan A dengan salah satu anggota lainnya. Maka sisanya adalah membentuk 1 kelompok yang masing-masing beranggota 2 orang. Banyaknya cara ada 1.

Karena kemungkinan pasangan A ada 3, maka banyaknya cara dari 4 orang siswa akan dibentuk 2 kelompok yang masing-masing beranggota dua orang adalah  $3 \times 1 = 3$  cara.

- \* Jika 6 orang siswa (misal A, B, C, D, E dan F) akan dibentuk menjadi 3 kelompok yang masing-masing beranggota 2 orang

Pasangkan A dengan salah satu anggota lainnya. Maka sisanya adalah membentuk 2 kelompok yang masing-masing beranggota 2 orang. Banyaknya cara ada  $3 \times 1$ .

Karena kemungkinan pasangan A ada 5, maka banyaknya cara dari 6 orang siswa akan dibentuk 3 kelompok yang masing-masing beranggota dua orang adalah  $5 \times 3 \times 1 = 15$  cara.

- \* Jika 8 orang siswa (misal A, B, C, D, E, F, G dan H) akan dibentuk menjadi 4 kelompok yang masing-masing beranggota 2 orang

Pasangkan A dengan salah satu anggota lainnya. Maka sisanya adalah membentuk 3 kelompok yang masing-masing beranggota 2 orang. Banyaknya cara ada  $5 \times 3 \times 1$ .

Karena kemungkinan pasangan A ada 7, maka banyaknya cara dari 8 orang siswa akan dibentuk 4 kelompok yang masing-masing beranggota dua orang adalah  $7 \times 5 \times 3 \times 1 = 105$  cara.

- \* Jika 10 orang siswa (misal A, B, C, D, E, F, G, H, I dan J) akan dibentuk menjadi 5 kelompok yang masing-masing beranggota 2 orang

Pasangkan A dengan salah satu anggota lainnya. Maka sisanya adalah membentuk 4 kelompok yang masing-masing beranggota 2 orang. Banyaknya cara ada  $7 \times 5 \times 3 \times 1$ .

Karena kemungkinan pasangan A ada 9, maka banyaknya cara dari 10 orang siswa akan dibentuk 5 kelompok yang masing-masing beranggota dua orang adalah  $9 \times 7 \times 5 \times 3 \times 1 = 945$  cara.

## Alternatif 2 :

Pilih salah satu siswa. Banyaknya cara memasangkan siswa tersebut dengan siswa lain adalah  ${}^9C_1$ . Pilih salah satu siswa dari 8 siswa yang sisa. Banyaknya cara memasangkan siswa tersebut dengan siswa yang lain adalah  ${}^7C_1$ . Pilih salah satu siswa dari 6 siswa yang sisa. Banyaknya cara memasangkan siswa tersebut dengan siswa yang lain adalah  ${}^5C_1$ . Pilih salah satu siswa dari 4 siswa yang sisa. Banyaknya cara memasangkan siswa tersebut dengan siswa yang lain adalah  ${}^3C_1$ . Sisanya adalah 2 orang siswa yang tidak dapat dipilih lagi.

Banyaknya cara membentuk kelima kelompok adalah  ${}^9C_1 \cdot {}^7C_1 \cdot {}^5C_1 \cdot {}^3C_1 \cdot 1 = 945$ .

$\therefore$  Banyaknya cara membentuk kelima kelompok tersebut adalah **945**

14. Misal  $f(1) = f(2) = f(3) = f(4) = f(5) = k$

Dibentuk persamaan polinomial :

$$g(x) = x^5 + ax^4 + bx^3 + cx^2 + dx + c - k$$

$$g(x) = f(x) - k$$

Jelas bahwa  $g(1) = g(2) = g(3) = g(4) = g(5) = 0$

Berarti bahwa 1; 2; 3; 4 dan 5 adalah akar-akar persamaan polinomial  $g(x) = 0$ .

$$x^5 + ax^4 + bx^3 + cx^2 + dx + c - k = 0$$

$$x_1 + x_2 + x_3 + x_4 + x_5 = -\frac{B}{A} = -\frac{a}{1} = -a$$

Karena akar-akarnya adalah 1; 2; 3; 4 dan 5 maka :

$$1 + 2 + 3 + 4 + 5 = -a$$

$$\therefore a = -15$$

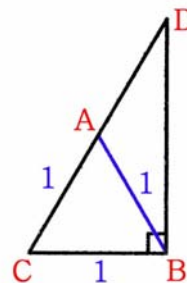
$$\begin{aligned}
 15. S &= \left(1 - \frac{1}{2^2}\right) \left(1 - \frac{1}{3^2}\right) \left(1 - \frac{1}{4^2}\right) \cdots \left(1 - \frac{1}{2002^2}\right) \left(1 - \frac{1}{2003^2}\right) \\
 S &= \left(1 - \frac{1}{2}\right) \left(1 + \frac{1}{2}\right) \left(1 - \frac{1}{3}\right) \left(1 + \frac{1}{3}\right) \left(1 - \frac{1}{4}\right) \left(1 + \frac{1}{4}\right) \cdots \left(1 - \frac{1}{2002}\right) \left(1 + \frac{1}{2002}\right) \left(1 - \frac{1}{2003}\right) \left(1 + \frac{1}{2003}\right) \\
 S &= \frac{1}{2} \cdot \left(\frac{3}{2} \cdot \frac{2}{3}\right) \cdot \left(\frac{4}{3} \cdot \frac{3}{4}\right) \cdot \left(\frac{5}{4} \cdot \frac{4}{5}\right) \cdots \left(\frac{2002}{2001} \cdot \frac{2001}{2002}\right) \cdot \left(\frac{2003}{2002} \cdot \frac{2002}{2003}\right) \cdot \frac{2004}{2003} \\
 S &= \frac{1}{2} \cdot \frac{2004}{2003} \\
 \therefore S &= \frac{1002}{2003}
 \end{aligned}$$

16. Misalkan pada hari tersebut Iwan berbohong dan dengan berdasarkan perkataannya, pada hari sebelumnya Iwan harus berkata jujur. Akibatnya hari tersebut adalah Senin karena pada hari Minggu Iwan berkata jujur. Pada hari Senin Budi berkata jujur. Maka berdasarkan perkataannya berarti pada hari Minggu Budi berbohong. Hal tersebut kontradiksi karena pada hari Minggu Budi berkata jujur.

Misalkan pada hari tersebut Iwan berkata jujur dan dengan berdasarkan perkataannya, pada hari sebelumnya Iwan harus berkata bohong. Akibatnya hari tersebut adalah Kamis karena Rabu Iwan berbohong. Pada hari Kamis Budi berkata bohong. Maka berdasarkan perkataannya berarti pada hari Rabu Budi berkata jujur. Hal tersebut sesuai karena pada hari Rabu Budi berkata jujur.

$\therefore$  Percakapan tersebut terjadi pada hari Kamis

17.  $\angle CBA = 60^\circ$  maka  $\angle ABD = 30^\circ$   
 Jelas  $\angle ACB = 60^\circ$ , maka  $\angle ADB = 90^\circ - \angle ACB = 30^\circ$   
 $\frac{BD}{\sin \angle BAD} = \frac{AB}{\sin \angle ADB}$ , maka  $\frac{BD}{\sin 120^\circ} = \frac{1}{\sin 30^\circ}$   
 $BD = \frac{\sin 120^\circ}{\sin 30^\circ}$   
 $\therefore BD = \sqrt{3}$



18. Karena  $\sqrt{81} = 9$  dan  $\sqrt{100} = 10$  maka  $\lfloor \sqrt{x} \rfloor = 9$  dipenuhi oleh  $81 \leq x < 100$   
 Karena  $\sqrt{144} = 12$  dan  $\sqrt{169} = 13$  maka  $\lfloor \sqrt{y} \rfloor = 12$  dipenuhi oleh  $144 \leq y < 169$   
 $\lfloor y - x \rfloor_{\min} = \lfloor y_{\min} - x_{\max} \rfloor = \lfloor 144 - 99,99... \rfloor = \lfloor 44,00... \rfloor$   
 $\therefore \lfloor y - x \rfloor_{\min} = 44$

19. Nilai total =  $3 \cdot (5 + 3 + 2 + 1 + 1) = 36$   
 Misal nilai pemenang =  $x$ . Maka nilai sisa =  $36 - x$

## Olimpiade Matematika Tk Kabupaten/Kota 2003

Agar  $x$  minimum maka nilai sisa harus terdistribusi merata kepada 4 pelari lain. Misal nilai masing-masing pelari lain =  $y$

$$x + 4y = 36 \text{ dengan } x > y. \text{ Maka } 4x > 4y$$

$$4x > 36 - x.$$

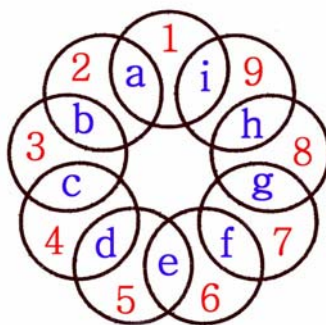
$$5x > 36$$

Jika  $x = 8$  maka  $4y = 28$  sehingga  $y = 7$ .

Kombinasi nilai 7 adalah  $(5,1,1)$  ;  $(1,5,1)$  ;  $(3,1,3)$  ;  $(2,3,2)$ . Karena masing-masing nilai 2, 3 dan 5 tidak lebih dari tiga kali dan nilai 1 tidak lebih dari 6 kali, maka kombinasi di atas memenuhi.

∴ Nilai minimum pemenang adalah 8

20.



$$1 \leq a, b, c, d, e, f, g, h, i \leq 9$$

Karena  $a, b, c, d, e, f, g, h, i$  adalah bilangan bulat berbeda maka :

$$a + b + c + d + e + f + g + h + i = 1 + 2 + 3 + 4 + 5 + 6 + 7 + 8 + 9 = 45$$

Misal masing-masing lingkaran berjumlah  $k$  dan karena ada 9 lingkaran, maka :

$$(a+1+i)+(b+2+a)+(c+3+b)+(d+4+c)+(e+5+d)+(f+6+e)+(g+7+f)+(h+8+g)+(i+9+h) = 9k$$

$$(1 + 2 + 3 + 4 + 5 + 6 + 7 + 8 + 9) + 2(a + b + c + d + e + f + g + h + i) = 9k$$

$$45 + 2 \cdot 45 = 9k$$

$$k = 15$$

$$\text{Karena } a + 1 + i = 15 \text{ maka } a + i = 14$$

Kemungkinan nilai  $a$  dan  $i$  adalah :  $a = 5$  dan  $i = 9$  atau  $a = 9$  dan  $i = 5$  atau  $a = 6$  dan  $i = 8$  atau  $a = 8$  dan  $i = 6$ .

$$\text{Karena } i + 9 + h = 15 \text{ maka } i + h = 6$$

Kemungkinan nilai  $h$  dan  $i$  adalah :  $h = 1$  dan  $i = 5$  atau  $h = 5$  dan  $i = 1$  atau  $h = 2$  dan  $i = 4$  atau  $h = 4$  dan  $i = 2$ .

Irisan dari kedua persamaan di atas didapat  $i = 5$ . Maka  $h = 1$  dan  $a = 9$

$$\text{Karena } b + 2 + a = 15 \text{ maka } b = 15 - 2 - 9 = 4$$

$$\text{Karena } c + 3 + b = 15 \text{ maka } c = 15 - 3 - 4 = 8$$

$$\text{Karena } d + 4 + c = 15 \text{ maka } d = 15 - 4 - 8 = 3$$

$$\text{Karena } e + 5 + d = 15 \text{ maka } e = 15 - 5 - 3 = 7$$

$$\text{Karena } f + 6 + e = 15 \text{ maka } f = 15 - 6 - 7 = 2$$

$$\text{Karena } g + 7 + f = 15 \text{ maka } g = 15 - 7 - 2 = 6$$

$$\therefore a + d + g = 9 + 3 + 6 = 18$$



# SELEKSI OLIMPIADE MATEMATIKA INDONESIA 2004

## TINGKAT PROVINSI

Bidang Matematika

Bagian Pertama

Waktu : 90 Menit



DEPARTEMEN PENDIDIKAN NASIONAL  
DIREKTORAT JENDERAL PENDIDIKAN DASAR DAN MENENGAH  
DIREKTORAT PENDIDIKAN MENENGAH UMUM  
TAHUN 2003



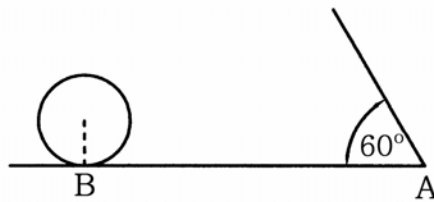
# OLIMPIADE MATEMATIKA TINGKAT PROVINSI TAHUN 2003

## BAGIAN PERTAMA

1. Jika  $a$  dan  $b$  bilangan bulat ganjil dengan  $a > b$ , berapa banyakkah bilangan bulat genap di antara  $a$  dan  $b$  ?
2. Agung mendapatkan bahwa nilai rata-rata dari tiga ulangan matematika yang diikutinya adalah 81. Nilai ulangan pertama adalah 85. Nilai ulangan ketiga lebih rendah 4 dari nilai ulangan kedua. Berapakah nilai ulangan kedua Agung ?
3. Apakah himpunan jawab dari persamaan  $|x + 2| + |3x| = 14$  ?
4.  $\square - \frac{\square}{\square} - \square$  Keempat bilangan 3, 5, 7 dan 8 akan diisikan ke dalam kotak-kotak di samping. Berapakah hasil terbesar yang dapat diperoleh ?
5. Misalkan  $x, y, z$  tiga bilangan asli berbeda. Faktor persekutuan terbesar ketiganya adalah 12, sedangkan kelipatannya persekutuan terkecil ketiganya adalah 840. Berapakah nilai terbesar bagi  $x + y + z$  ?
6. Berapakah bilangan bulat positif  $k$  terkecil sehingga  $\underbrace{20032003 \cdots 2003}_k$  habis dibagi 9 ?
7. Persamaan kuadrat  $2x^2 - 2(2a + 1)x + a(a - 1) = 0$  mempunyai dua akar real  $x_1$  dan  $x_2$ . Berapakah nilai  $a$  yang memenuhi persamaan kuadrat tersebut sehingga  $x_1 < a < x_2$  ?
8. Dalam sebuah segitiga ABC siku-siku sama kaki, dibuat persegi PQRS sebagai berikut : Titik P pada sisi AB, titik Q pada sisi AC, sedangkan titik-titik R dan S pada sisi miring BC. Jika luas segitiga ABC adalah  $x$ , berapakah luas persegi PQRS ?
9. Upik melemparkan  $n$  dadu. Ia menghitung peluang terjadinya jumlah mata dadu sama dengan 6. Untuk  $n$  berapakah peluang tersebut paling besar ?
10. Suatu garis vertikal membagi segitiga dengan titik sudut  $(0,0)$ ,  $(1,1)$  dan  $(9,1)$  menjadi dua daerah dengan luas yang sama. Apakah persamaan garis tersebut ?
11. Misalkan  $m$  dan  $n$  dua bilangan asli yang memenuhi  $m^2 - 2003 = n^2$ . Berapakah  $mn$  ?
12. Berapakah nilai  $x$  yang memenuhi  ${}^4\log ({}^2\log x) + {}^2\log ({}^4\log x) = 2$  ?
13. Titik P terletak di dalam persegi ABCD demikian rupa, sehingga  $AP : BP : CP = 1 : 2 : 3$ . Berapakah besar sudut APB ?
14. Dengan mengkombinasikan ketiga warna dasar merah, kuning, dan biru dapat dibentuk warna-warna yang lain. Misalkan terdapat 5 kaleng cat warna merah, 5 kaleng warna kuning, dan 5

kaleng warna biru. Budi boleh memilih kaleng manapun untuk mencampurkan warna, dan semua cat dalam sebuah kaleng harus dipakai semua. Ada berapa pilihan warna yang dihasilkan ?

15. Pak Oto membeli dua mobil untuk dijual kembali. Ia memperoleh keuntungan 30% dari mobil pertama, tetapi menderita kerugian 20% pada mobil kedua. Harga jual kedua mobil sama. Berapa persenkah keuntungan (atau kerugian) pak Oto secara keseluruhan ?  
[Catatan : Semua persentase terhadap harga pembelian. Untuk jawaban, gunakan tanda '–' untuk menyatakan kerugian dan tanda '+' untuk menyatakan keuntungan.]
16. Empat pasang suami isteri menonton pagelaran orkestra. Tempat duduk mereka harus dipisah antara kelompok suami dan kelompok isteri. Untuk masing-masing kelompok disediakan 4 buah tempat duduk bersebelahan dalam satu barisan. Ada berapa banyak cara memberikan tempat duduk kepada mereka ?
17. Sebuah bola dengan jari-jari  $r$  ditendang dari B ke A. Bola tersebut menggelinding sebanyak tepat 10 putaran sebelum membentur bidang miring dan berhenti. Berapakah jarak dari B ke A ?



18. Berapakah sisa pembagian  $1 \cdot 1! + 2 \cdot 2! + 3 \cdot 3! + \dots + 99 \cdot 99! + 100 \cdot 100!$  oleh 101 ?
19. Suatu lingkaran mempunyai diameter AB yang panjangnya merupakan bilangan bulat 2-angka. Tali busur CD tegak lurus pada AB dan memotong AB di titik H. Panjang CD sama dengan bilangan yang diperoleh dengan menukar letak kedua angka dari panjang AB. Jika jarak dari H ke pusat lingkaran merupakan bilangan rasional, berapakah panjang AB ?
20. Berapakah banyaknya cara memilih tiga bilangan berbeda sehingga tidak ada dua bilangan yang berurutan, jika bilangan-bilangan tersebut dipilih dari himpunan  $\{1, 2, 3, \dots, 9, 10\}$  ?



# SELEKSI OLIMPIADE MATEMATIKA INDONESIA 2004

## TINGKAT PROVINSI

Bidang Matematika

Bagian Kedua

Waktu : 120 Menit



DEPARTEMEN PENDIDIKAN NASIONAL  
DIREKTORAT JENDERAL PENDIDIKAN DASAR DAN MENENGAH  
DIREKTORAT PENDIDIKAN MENENGAH UMUM  
TAHUN 2003

# OLIMPIADE MATEMATIKA TINGKAT PROVINSI TAHUN 2003

## BAGIAN KEDUA

1. Andi, Beni, Coki, Doni dan Edo bermain kancil-serigala. Setiap anak menjadi kancil atau serigala, tetapi tidak kedua-duanya. Kancil selalu jujur, sementara serigala selalu berdusta. Andi berkata bahwa Beni adalah kancil. Coki berkata bahwa Doni adalah serigala. Edo berkata Andi bukan serigala. Beni berkata Coki bukan kancil. Doni berkata bahwa Edo dan Andi adalah binatang yang berbeda.  
Tentukan banyaknya serigala dalam permainan ini.
2. Tentukan semua bilangan bulat  $a$  dan  $b$  sehingga bilangan
$$\frac{\sqrt{2} + \sqrt{a}}{\sqrt{3} + \sqrt{b}}$$
merupakan bilangan rasional
3. Titik-titik  $P$  dan  $Q$  berturut-turut adalah titik tengah rusuk  $AE$  dan  $CG$  pada kubus  $ABCD.EFGH$ . Jika panjang rusuk kubus adalah 1 satuan, tentukan luas segi-empat  $DPFQ$ .
4. Buktikan bahwa  $999! < 500^{999}$ .  
[Catatan :  $n! = 1 \times 2 \times 3 \times \dots \times n$ .]
5. Tiga buah titik terletak pada daerah yang dibatasi oleh sumbu  $y$  dan grafik persamaan  $7x - 3y^2 + 21 = 0$ . Buktikan bahwa sedikitnya dua di antara ketiga titik tersebut mempunyai jarak tidak lebih dari 4 satuan.

**SELEKSI OLIMPIADE MATEMATIKA INDONESIA 2004**  
**TINGKAT PROVINSI TAHUN 2003**

*Prestasi itu diraih bukan didapat !!!*

**SOLUSI SOAL**

**Bidang Matematika**

**Bagian Pertama**



Disusun oleh : Eddy Hermanto, ST

## BAGIAN PERTAMA

1. Banyaknya bilangan bulat antara  $a$  dan  $b$  adalah  $a - b - 1$ . Karena  $a$  dan  $b$  ganjil, maka banyaknya bilangan genap di antara  $a$  dan  $b$  lebih satu dari banyaknya bilangan ganjil di antara  $a$  dan  $b$ .

Maka banyaknya bilangan bulat genap dirumuskan dengan  $\frac{(a - b - 1) + 1}{2}$ .

$\therefore$  Banyaknya bilangan genap di antara  $a$  dan  $b$  adalah  $\frac{a - b}{2}$

2. Misal nilai ulangan ke-2 Agung =  $x$ , maka  $\frac{(85) + (x) + (x - 4)}{3} = 81$

$81 + 2x = 81 \cdot 3$ . Maka  $x = 81$

$\therefore$  Nilai ulangan Agung ke-2 = 81

3. \* Untuk  $x \leq -2$ , maka  $|x + 2| = -x - 2$  dan  $|3x| = -3x$   
 $|x + 2| + |3x| = 14$ . Maka  $-x - 2 - 3x = 14$  sehingga  $x = -4$  (memenuhi bahwa  $x \leq -2$ )  
 \* Untuk  $-2 \leq x \leq 0$  maka  $|x + 2| = x + 2$  dan  $|3x| = -3x$   
 $|x + 2| + |3x| = 14$ . Maka  $x + 2 - 3x = 14$  sehingga  $x = -6$  (tidak memenuhi bahwa  $-2 \leq x \leq 0$ )  
 \* Untuk  $x \geq 0$  maka  $|x + 2| = x + 2$  dan  $|3x| = 3x$   
 $|x + 2| + |3x| = 14$ . Maka  $x + 2 + 3x = 14$  sehingga  $x = 3$  (memenuhi bahwa  $x \geq 0$ )  
 $\therefore$  Himpunan jawab dari persamaan  $|x + 2| + |3x| = 14$  adalah =  $\{-4, 3\}$

4.

$$N = A - \frac{B}{D} \cdot C$$

*Teori : Agar  $T - M$  maksimal, maka  $T$  harus sebesar-besarnya dan  $M$  harus sekecil-lecilnya.*

Jika diinginkan  $N$  sebesar-besarnya, maka  $A$  dan  $D$  harus maksimal dengan  $A > D$  sedangkan  $B$  dan  $C$  harus minimum dan karena  $B \cdot C = C \cdot B$ , maka tidak ada pengaruh posisi  $B$  dan  $C$ .

Berarti  $A = 8$ ,  $B = 3$ ,  $C = 5$ ,  $D = 7$  atau  $A = 8$ ,  $B = 5$ ,  $C = 3$ ,  $D = 7$

$$\therefore N = 8 - \frac{3}{7} \cdot 5 = \frac{41}{7}$$

5. Karena faktor persekutuan terbesar dari  $x$ ,  $y$ ,  $z$  adalah 12, maka  $x$ ,  $y$ ,  $z$  akan berbentuk  $x = 12a$ ,  $y = 12b$  dan  $z = 12c$  dengan  $a$ ,  $b$  dan  $c$  adalah bilangan bulat FPB( $a$ ,  $b$ ,  $c$ ) = 1  
 Dan karena  $840 : 12 = 70$ , maka  $a$ ,  $b$  dan  $c$  masing-masing harus faktor dari 70. Nilai  $a$ ,  $b$  dan  $c$  harus diambil dari faktor-faktor 70 yaitu : 1, 2, 5, 7, 10, 14, 35 dan 70.  
 Karena diinginkan nilai  $x + y + z$  yang terbesar maka nilai  $a + b + c$  juga harus yang terbesar.  
 Karena FPB (14, 35, 70), FPB (10, 35, 70), FPB (7, 35, 70), FPB (5, 35, 70) semuanya lebih dari 1 maka  $a$ ,  $b$  dan  $c$  diambil dari 2, 35 dan 70 atau 10, 14, 35 dan karena  $2 + 35 + 70 > 10 + 14 + 35$  maka  $a$ ,  $b$  dan  $c$  diambil dari 2, 35 dan 70.  
 $\therefore (x + y + z)_{\text{terbesar}} = 12 \cdot 2 + 12 \cdot 35 + 12 \cdot 70 = 1284$

6. Misal  $N = \underbrace{20032003 \dots 2003}_k$ .

Agar  $N$  habis dibagi 9 maka jumlah digit  $N$  harus habis dibagi 9.

Karena  $2 + 0 + 0 + 3 = 5$  maka jumlah digit  $N = 5k$ .

$\therefore$  Bilangan bulat positif  $k$  terkecil yang memenuhi adalah  $k = 9$

$$7. x_{1,2} = \frac{4a + 2 \pm \sqrt{(4a + 2)^2 - 4(2)(a^2 - a)}}{2 \cdot 2} = a + \frac{1}{2} \pm \frac{1}{2} \sqrt{2a^2 + 6a + 1}$$

\* Akar-akarnya real berarti Disk  $\geq 0$ . Maka Disk  $= (4a + 2)^2 - 4(2)(a^2 - a) \geq 0$

$$8a^2 + 24a + 4 \geq 0$$

$$2a^2 + 6a + 1 \geq 0$$

$$a_{1,2} = \frac{-6 \pm \sqrt{6^2 - 4(2)(1)}}{2 \cdot 2} = -\frac{3}{2} \pm \frac{1}{2} \sqrt{7}$$

$$\text{Nilai } a \text{ yang memenuhi adalah } a \leq -\frac{3}{2} - \frac{1}{2} \sqrt{7} \text{ atau } a \geq -\frac{3}{2} + \frac{1}{2} \sqrt{7} \dots\dots\dots (1)$$

\*  $a < x_2$ . Maka  $a < a + \frac{1}{2} + \frac{1}{2} \sqrt{2a^2 + 6a + 1}$  sehingga  $\sqrt{2a^2 + 6a + 1} > -1$

Akar dari suatu bilangan bernilai positif sehingga semua nilai  $a$  memenuhi.  $\dots\dots\dots (2)$

\*  $a > x_1$ . Maka  $a > a + \frac{1}{2} - \frac{1}{2} \sqrt{2a^2 + 6a + 1}$  sehingga  $\sqrt{2a^2 + 6a + 1} > 1$

$$2a^2 + 6a + 1 > 1$$

$$2a(a + 3) > 0$$

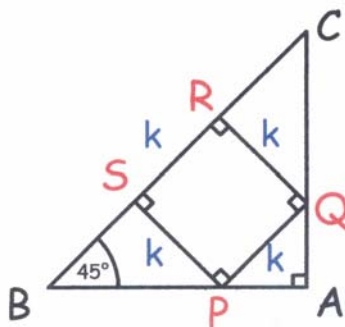
Nilai  $a$  yang memenuhi adalah  $a < -3$  atau  $a > 0 \dots\dots\dots (3)$

Karena  $\sqrt{7} < 3$  maka  $-\frac{3}{2} - \frac{1}{2} \sqrt{7} > -3$  dan  $-\frac{3}{2} + \frac{1}{2} \sqrt{7} < 0$ .

Irisan dari ketiga penyelesaian untuk  $a$  adalah  $a < -3$  atau  $a > 0$

$\therefore$  Maka nilai  $a$  yang memenuhi adalah  $a < -3$  atau  $a > 0$

8.



Misal  $PQ = QR = RS = PS = k$

$$\angle ACB = \angle ABC = \angle APQ = \angle AQP = \angle BPS = \angle CQR = 45^\circ$$

Maka  $BS = CR = k$

$$BP = CQ = k\sqrt{2}$$

$$\text{Luas } \triangle ABC = \frac{1}{2}(AB)(AC) = \frac{1}{2}\left(k\sqrt{2} + \frac{1}{2}k\sqrt{2}\right)\left(k\sqrt{2} + \frac{1}{2}k\sqrt{2}\right) = x$$

$$k^2 = \frac{4x}{9}$$

$$\therefore \text{Luas persegi PQRS} = \frac{4x}{9}$$

9. Karena nilai terkecil dadu = 1, maka  $n \leq 6$ .

\* Untuk  $n = 1$

Peluang terjadinya jumlah mata dadu sama dengan 6 adalah  $\frac{1}{6}$

\* Untuk  $n = 2$

Kejadian jumlah mata dadu sama dengan 6 adalah  $(1,5), (2,4), (3,3), (4,2), (5,1) = 5$

Peluang terjadinya jumlah mata dadu sama dengan 6 adalah  $\frac{5}{6^2} = \frac{5}{36} < \frac{1}{6}$

\* Untuk  $n = 3$

Kejadian jumlah mata dadu sama dengan 6 adalah  $(1,1,4), (1,2,3), (1,3,2), (1,4,1), (2,1,3), (2,2,2), (2,3,1), (3,1,2), (3,2,1), (4,1,1) = 10$

Peluang terjadinya jumlah mata dadu sama dengan 6 adalah  $\frac{10}{6^3} = \frac{10}{216} < \frac{5}{36} < \frac{1}{6}$

\* Untuk  $n = 4$

Kejadian jumlah mata dadu sama dengan 6 adalah  $(1,1,1,3), (1,1,2,2), (1,1,3,1), (1,2,1,2), (1,2,2,1), (1,3,1,1), (2,1,1,2), (2,1,2,1), (2,2,1,1), (3,1,1,1) = 10$

Peluang terjadinya jumlah mata dadu sama dengan 6 adalah  $\frac{10}{6^4} = \frac{10}{1296} < \frac{10}{216} < \frac{5}{36} < \frac{1}{6}$

\* Untuk  $n = 5$

Kejadian jumlah mata dadu sama dengan 6 adalah  $(1,1,1,1,2), (1,1,1,2,1), (1,1,2,1,1), (1,2,1,1,1), (2,1,1,1,1) = 5$

Peluang terjadinya jumlah mata dadu sama dengan 6 adalah  $\frac{5}{6^5} < \frac{10}{1296} < \frac{10}{216} < \frac{5}{36} < \frac{1}{6}$

\* Untuk  $n = 6$

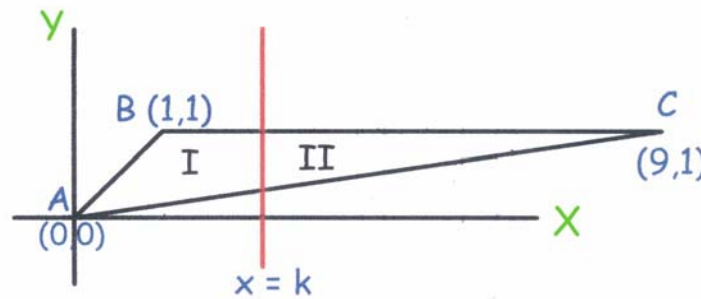
Kejadian jumlah mata dadu sama dengan 6 adalah  $(1,1,1,1,1,1) = 1$

Peluang jumlah mata dadu sama dengan 6 adalah  $\frac{1}{6^6} < \frac{5}{6^5} < \frac{10}{1296} < \frac{10}{216} < \frac{5}{36} < \frac{1}{6}$

$\therefore$  Peluang terbesar adalah jika  $n = 1$



10.



Misal persamaan garis vertikal tersebut adalah  $x = k$

$$\text{Luas } \triangle ABC = \frac{1}{2} (9 - 1)(1 - 0) = 4$$

$$\text{Persamaan garis melalui } (0,0) \text{ dan } (9,1) \text{ adalah } y = \frac{1}{9}x$$

$$\text{Untuk } x = k \text{ maka } y = \frac{1}{9}k$$

$$\text{Luas } \triangle II = \frac{1}{2} \text{ Luas } \triangle ABC$$

$$\frac{1}{2} (9 - k)(1 - \frac{1}{9}k) = \frac{1}{2} \cdot 4$$

$$9 - k = \pm 6$$

$$k = 3 \text{ (memenuhi) atau } k = 15 \text{ (tidak memenuhi bahwa } 0 \leq k \leq 9)$$

$$\therefore \text{ Persamaan garis vertikal tersebut adalah } x = 3$$

$$11. m^2 - 2003 = n^2$$

$$m^2 - n^2 = 2003$$

$$(m + n)(m - n) = 2003$$

2003 adalah bilangan prima sehingga persamaan dipenuhi hanya jika  $m + n = 2003$  dan  $m - n = 1$

Sehingga  $m = 1002$  dan  $n = 1001$

$$\therefore mn = 1002 \cdot 1001 = 1003002$$

$$12. {}^4\log({}^2\log x) + {}^2\log({}^4\log x) = 2$$

$${}^2\log({}^2\log x)^{1/2} + {}^2\log({}^2\log \sqrt{x}) = 2$$

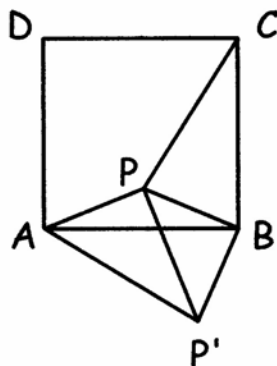
$$\sqrt{{}^2\log x} \cdot \frac{1}{2} \cdot {}^2\log x = 2^2 = 4$$

$$({}^2\log x)^{3/2} = 8$$

$$x = 2^4$$

$$\therefore x = 16$$

13.



Misalkan  $AP = a$  maka  $BP = 2a$  dan  $CP = 3a$

Dengan berpusat di B, titik P diputar sejauh  $90^\circ$  menjadi titik  $P'$ . maka  $\triangle BPP'$  adalah segitiga siku-siku sama kaki.

$$\angle BPP' = 45^\circ \text{ dan } PP' = 2a\sqrt{2}$$

$$\triangle BPC \cong \triangle AP'B \text{ sehingga } AP' = 3a$$

$$(AP')^2 = (AP)^2 + (PP')^2 - 2(AP)(PP')\cos \angle APP'$$

$$(3a)^2 = (a)^2 + (2a\sqrt{2})^2 - 2(a)(2a\sqrt{2})\cos \angle APP'$$

$$\cos \angle APP' = 0$$

$$\angle APP' = 90^\circ$$

$$\therefore \angle APB = \angle APP' + \angle BPP' = 90^\circ + 45^\circ = 135^\circ$$

14. \* Jika terdapat sedikitnya satu warna yang tidak ikut dicampur  
Salah satu perbandingan yang menghasilkan warna adalah 0:0:1. Karena ada 3 warna, maka akan ada 3 warna yang dihasilkan dari perbandingan ini. Perbandingan 0:0:2, 0:0:3, 0:0:4, 0:0:5 akan menghasilkan warna yang sama dengan perbandingan 0:0:1. Perbandingan lainnya yang memenuhi adalah 0:1:1, 0:1:2, 0:1:3, 0:1:4, 0:1:5, 0:2:3, 0:2:5, 0:3:4, 0:3:5, 0:4:5. Banyaknya warna yang dihasilkan adalah  $3 \times 11 = 33$ .
- \* Jika terdapat sedikitnya satu warna dengan tepat 1 kaleng warna tersebut yang dicampur  
Kemungkinan perbandingannya adalah 1:1:1, 1:1:2, 1:1:3, 1:1:4, 1:1:5, 1:2:2, 1:2:3, 1:2:4, 1:2:5, 1:3:3, 1:3:4, 1:3:5, 1:4:4, 1:4:5, 1:5:5. Perbandingan 1:1:1 hanya ada 1 kemungkinan. Banyaknya warna yang dihasilkan adalah  $1 + 3 \times 14 = 43$ .
- \* Jika terdapat sedikitnya satu warna dengan tepat 2 kaleng warna tersebut yang dicampur  
Kemungkinan perbandingannya adalah 2:2:3, 2:2:5, 2:3:3, 2:3:4, 2:3:5, 2:4:5, 2:5:5. Perbandingan 2:2:2 akan menghasilkan warna yang sama dengan perbandingan 1:1:1. Hal yang hampir sama berhubungan dengan perbandingan 2:2:4 dan 2:4:4. Banyaknya warna yang dihasilkan adalah  $3 \times 7 = 21$ .
- \* Jika terdapat sedikitnya satu warna dengan tepat 3 kaleng warna tersebut yang dicampur  
Kemungkinan perbandingannya adalah 3:3:4, 3:3:5, 3:4:4, 3:4:5, 3:5:5. Banyaknya warna yang dihasilkan adalah  $3 \times 5 = 15$ .
- \* Jika terdapat sedikitnya satu warna dengan tepat 4 kaleng warna tersebut yang dicampur  
Kemungkinan perbandingannya adalah 4:4:5, 4:5:5. Banyaknya warna yang dihasilkan adalah  $3 \times 2 = 6$ .
- $\therefore$  Banyaknya warna keseluruhan yang dihasilkan adalah  $33 + 43 + 21 + 15 + 6 = 118$ .

15. Misal harga jual masing-masing mobil =  $p$   
 Misal harga pembelian mobil pertama =  $y_1$

$$y_1 + 0,3y_1 = p, \text{ maka } y_1 = \frac{10}{13}p$$

Misal harga pembelian mobil kedua =  $y_2$

$$y_2 - 0,2y_2 = p, \text{ maka } y_2 = \frac{5}{4}p$$

$$\text{Harga pembelian total} = y_1 + y_2 = \frac{10}{13}p + \frac{5}{4}p = \frac{105}{52}p$$

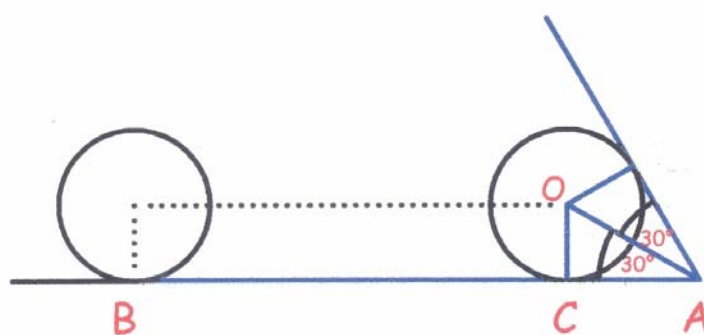
$$\text{Selisih} = 2p - \frac{10}{13}p - \frac{5}{4}p = -\frac{1}{52}p$$

$$\text{Kerugian Pak Oto} = \frac{-\frac{1}{52}p}{\frac{105}{52}p} \times 100\% = -\frac{100}{105}\%$$

$$\therefore \text{Kerugian Pak Oto} = -\frac{20}{21}\%$$

16. Banyaknya cara duduk masing-masing kelompok adalah sama dengan permutasi 4 obyek pada 4 tempat =  ${}_4P_4 = 24$ .  
 Posisi duduk kelompok isteri dapat di sebelah kanan maupun di sebelah kiri kelompok suami.  
 $\therefore$  Banyaknya cara memberikan tempat duduk kepada mereka adalah =  $2 \cdot 24 \cdot 24 = 1152$  cara.

17.



$$BC = 10 \cdot 2\pi r = 20\pi r$$

$$CA = OC \cdot \cotg 30^\circ = r\sqrt{3}$$

$$AB = BC + CA = 20\pi r + r\sqrt{3}$$

$$\therefore \text{Jarak dari B ke A} = (20\pi + \sqrt{3})r$$

18. Misal  $P = 1 \cdot 1! + 2 \cdot 2! + 3 \cdot 3! + \dots + 99 \cdot 99! + 100 \cdot 100!$

$$T = 2 \cdot 1! + 3 \cdot 2! + 4 \cdot 3! + \dots + 100 \cdot 99! + 101 \cdot 100! = 2! + 3! + 4! + \dots + 100! + 101!$$

$$T - P = (2 - 1) 1! + (3 - 2) 2! + (4 - 3) 3! + \dots + (100 - 99) 99! + (101 - 100) 100!$$

$$T - P = 1! + 2! + 3! + \dots + 99! + 100!$$

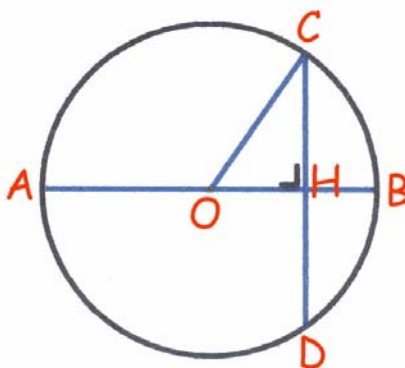
$$2! + 3! + 4! + \dots + 100! + 101! - P = 1! + 2! + 3! + \dots + 99! + 100!$$

$$P = 101! - 1! = 101! - 1$$

$101!$  adalah bilangan yang habis dibagi 101, maka  $P = 101! - 1 = 101k + 101 - 1 = 101k + 100$

$\therefore 1 \cdot 1! + 2 \cdot 2! + 3 \cdot 3! + \dots + 99 \cdot 99! + 100 \cdot 100!$  dibagi 101 akan bersisa 100

19.



Misal panjang  $AB = 10a + b$

$$OC = \frac{1}{2} AB = \frac{1}{2} (10a + b)$$

Panjang  $CD = 10b + a$

$$CH = \frac{1}{2} (10b + a)$$

Dengan  $a$  dan  $b$  adalah bilangan bulat positif dan  $0 < a \leq 9$ ,  $0 < b \leq 9$

$$OH = \sqrt{(OC)^2 - (CH)^2}$$

$$OH = \frac{1}{2} \sqrt{(10a + b)^2 - (10b + a)^2}$$

$$OH = \frac{3}{2} \sqrt{11(a + b)(a - b)}$$

Karena  $OH$  adalah bilangan rasional dan  $a + b > a - b$  maka :

$a + b = 11k$  dan  $a - b = km^2$  dengan  $k$  dan  $m$  adalah bilangan asli sebab  $a$  dan  $b$  asli.

Karena  $a + b \leq 18$  maka  $11k \leq 18$  sehingga nilai  $k$  yang memenuhi hanya jika  $k = 1$ .

Maka  $a - b = m^2$ . Karena  $a - b < 9$  maka nilai  $m^2$  yang mungkin hanya 1 atau 4.

Jika  $a + b = 11$  dan  $a - b = 4$  maka tidak mungkin didapat  $a$  dan  $b$  asli.

Jika  $a + b = 11$  dan  $a - b = 1$  maka nilai  $a$  dan  $b$  yang memenuhi hanya jika  $a = 6$  dan  $b = 5$ .

$\therefore$  Panjang  $AB = 65$

20. Misal  $H = \{1, 2, 3, \dots, 9, 10\}$

Alternatif 1 :

- \* Banyaknya 2 bilangan berurutan dari himpunan  $H$  ada 9 yaitu :  $(1,2), (2,3), (3,4), \dots, (9,10)$
- \* Menentukan 3 bilangan dari  $H$  yang 2 berurutan namun ketiganya tidak berurutan :  
Untuk  $(1,2)$  hanya ada satu bilangan ketiga yang akan membuat ketiga bilangan tersebut berurutan, yaitu 3. Maka banyaknya cara 3 bilangan diambil dari himpunan  $H$  yang 2 bilangannya adalah  $(1,2)$  namun bilangan ketiga bukan 3 ada 7, yaitu :  $(1,2,4), (1,2,5), \dots, (1,2,10)$ . Banyaknya cara ini juga sama dengan 2 bilangan di antaranya adalah  $(9,10)$   
Untuk  $(2,3)$  ada dua bilangan ketiga yang akan membuat ketiga bilangan tersebut berurutan, yaitu 1 dan 4. Maka banyaknya cara 3 bilangan diambil dari himpunan  $H$  yang 2 bilangannya adalah  $(2,3)$  namun bilangan ketiga bukan 1 atau 4 ada 6, yaitu :  $(2,3,5), (2,3,6), \dots, (2,3,10)$ . Banyaknya cara ini juga sama dengan 2 bilangan di antaranya adalah  $(3,4), (4,5), \dots, (8,9)$ .  
Banyaknya cara 3 bilangan diambil dari himpunan  $H$  yang 2 di antaranya berurutan namun ketiga bilangan tersebut tidak berurutan adalah  $= 2 \cdot 7 + 7 \cdot 6 = 56$ .
- \* Banyaknya cara 3 bilangan diambil dari himpunan  $H$  yang ketiganya berurutan = 8, yaitu :  $(1,2,3), (2,3,4), (3,4,5), \dots, (7,8,9), (8,9,10)$ .
- \* Banyaknya cara 3 bilangan diambil dari himpunan  $H = {}_{10}C_3 = 120$ .
- $\therefore$  Banyaknya cara memilih 3 bilangan berbeda dari himpunan  $H$  sehingga tidak ada 2 bilangan berurutan  $= 120 - 56 - 8 = 56$ .

Alternatif 2 :

Jika  $(a, b, c)$  adalah 3 bilangan dari  $H$  yang memenuhi bahwa tidak ada 2 bilangan di antaranya yang berurutan maka  $(a, b - 1, c - 2)$  haruslah merupakan 3 bilangan yang berbeda dan merupakan elemen dari himpunan  $\{1, 2, 3, \dots, 7, 8\}$ .

Banyaknya cara memilih 3 bilangan dari himpunan  $\{1, 2, 3, \dots, 7, 8\}$  adalah  ${}_8C_3 = 56$

- $\therefore$  Banyaknya cara memilih 3 bilangan berbeda dari himpunan  $H$  sehingga tidak ada 2 bilangan berurutan  $= 56$ .

**SELEKSI OLIMPIADE MATEMATIKA INDONESIA 2004**  
**TINGKAT PROVINSI TAHUN 2003**

*Prestasi itu diraih bukan didapat !!!*

**SOLUSI SOAL**

**Bidang Matematika**

**Bagian Kedua**

Disusun oleh : Eddy Hermanto, ST



## BAGIAN KEDUA

1. Pernyataan-pernyataan :

- Andi berkata bahwa Beni adalah kancil
- Coki berkata bahwa Doni adalah serigala
- Edo berkata Andi bukan serigala
- Beni berkata Coki bukan kancil
- Doni berkata bahwa Edo dan Andi adalah binatang berbeda

➤ Misalkan Andi adalah kancil.

Berdasarkan (a) maka Beni adalah kancil.

Berdasarkan (d) maka Coki adalah serigala.

Berdasarkan (b) maka Doni adalah kancil.

Berdasarkan (e) karena Andi kancil maka Edo adalah serigala.

Berdasarkan (c) maka Andi adalah serigala. Pernyataan ini kontradiksi dengan permisalan bahwa Andi adalah kancil.

➤ Misalkan Andi adalah serigala.

Berdasarkan (a) maka Beni adalah serigala.

Berdasarkan (d) maka Coki adalah kancil.

Berdasarkan (b) maka Doni adalah serigala.

Berdasarkan (e) maka Edo dan Andi sejenis. Karena Andi serigala maka Edo juga serigala.

Berdasarkan (c) maka Andi adalah serigala yang berarti sesuai dengan permisalan bahwa Andi adalah kancil.

Yang termasuk kancil adalah Coki dan yang termasuk serigala adalah Andi, Beni, Doni dan Edo.

∴ Banyaknya serigala ada 4

2. Karena  $\frac{\sqrt{2} + \sqrt{a}}{\sqrt{3} + \sqrt{b}}$  adalah bilangan rasional maka  $\frac{\sqrt{2} + \sqrt{a}}{\sqrt{3} + \sqrt{b}} = \frac{p}{q}$  dengan a, b, p dan q adalah

bilangan asli dan  $q \neq 0$  serta p dan q relatif prima.

$$q\sqrt{2} + q\sqrt{a} = p\sqrt{3} + p\sqrt{b}, \text{ maka } (q\sqrt{2} - p\sqrt{3})^2 = (p\sqrt{b} - q\sqrt{a})^2$$

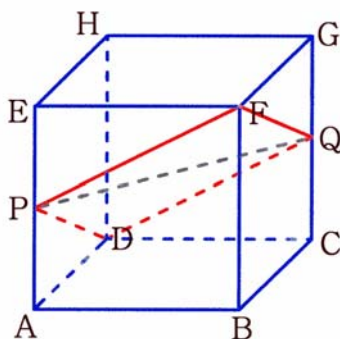
$$2q^2 + 3p^2 - 2pq\sqrt{6} = p^2b + q^2a - 2pq\sqrt{ab}$$

Karena a, b, p dan q adalah bilangan asli maka  $6 = ab$ . Pasangan (a, b) yang memenuhi adalah (1,6) ; (2,3) ; (3,2) ; (6,1). Substitusikan keempat pasangan ini ke persamaan semula untuk dicek apakah memenuhi bilangan rasional atau tidak. Setelah dicek maka pasangan (a,b) yang akan membuat persamaan semula merupakan bilangan rasional adalah (3,2).

$$\frac{\sqrt{2} + \sqrt{a}}{\sqrt{3} + \sqrt{b}} = \frac{\sqrt{2} + \sqrt{3}}{\sqrt{3} + \sqrt{2}} = 1$$

$$\therefore a = 3 \text{ dan } b = 2$$

3.



Karena bidang ADHE sejajar dengan BCGF dan bidang ABFE sejajar dengan bidang DCGH maka DP sejajar FQ dan FP sejajar DQ.

$$PF = DP = DQ = FQ = \sqrt{(1)^2 + \left(\frac{1}{2}\right)^2} = \frac{1}{2}\sqrt{5}$$

$$PQ \text{ sejajar } AC \text{ maka } PQ = AC = \sqrt{2}$$

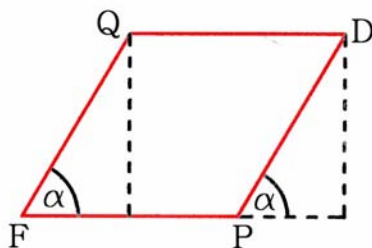
*Alternatif 1 :*

Mencari sudut PFQ. Misal  $\angle PFQ = \alpha$

$$(PQ)^2 = (PF)^2 + (FQ)^2 - 2(PF)(FQ) \cos \alpha$$

$$2 = \frac{5}{4} + \frac{5}{4} - 2\left(\frac{1}{2}\sqrt{5}\right)\left(\frac{1}{2}\sqrt{5}\right) \cos \alpha$$

$$\cos \alpha = \frac{1}{5} \text{ sehingga } \sin \alpha = \frac{2}{5}\sqrt{6}$$



$$\text{Luas segi empat DPFO} = (FP)(PD) \sin \alpha$$

$$\text{Luas segi empat DPFO} = \left(\frac{1}{2}\sqrt{5}\right)\left(\frac{1}{2}\sqrt{5}\right)\left(\frac{2}{5}\sqrt{6}\right)$$

$$\therefore \text{Luas segi empat DPFO} = \frac{1}{2}\sqrt{6}$$

*Alternatif 2 :*

Karena  $PF = DP = DQ = FQ$  maka segiempat DPFO adalah belah ketupat. Diagonal PQ =  $\sqrt{2}$  sedangkan diagonal DF adalah diagonal ruang maka  $FD = \sqrt{3}$ .

$$\text{Luas segiempat DPFO} = \frac{1}{2} \cdot PQ \cdot FD = \frac{1}{2} \cdot \sqrt{2} \cdot \sqrt{3}$$

$$\therefore \text{Luas segi empat DPFO} = \frac{1}{2}\sqrt{6}$$



4. Rataan Geometri  $\leq$  Rataan Aritmatika

$$\sqrt[n]{a_1 \cdot a_2 \cdot a_3 \cdots a_{n-1} \cdot a_n} \leq \frac{a_1 + a_2 + a_3 + \cdots + a_{n-1} + a_n}{n}$$

Tanda kesamaan berlaku jika  $a_1 = a_2 = a_3 = \cdots = a_{n-1} = a_n$ . Maka :

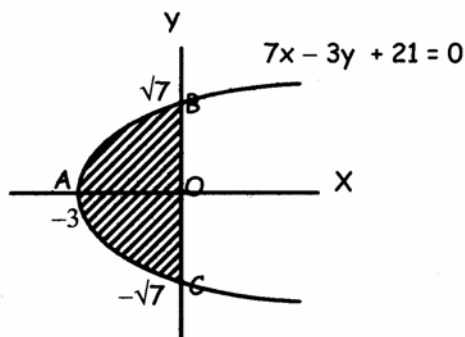
$$\sqrt[999]{1 \cdot 2 \cdot 3 \cdots 998 \cdot 999} < \frac{1 + 2 + 3 + \cdots + 998 + 999}{999}$$

$$\sqrt[999]{999!} < \frac{1}{999} \cdot \frac{999}{2} (1 + 999)$$

$$\sqrt[999]{999!} < 500$$

$\therefore$  Terbukti bahwa  $999! < 500^{999}$

5.  $7x - 3y^2 + 21 = 0$ . Maka  $x = \frac{3}{7}(y + \sqrt{7})(y - \sqrt{7})$  yang merupakan suatu persamaan parabola dengan puncak di  $(-3, 0)$  dan titik potong dengan sumbu Y di  $(0, \sqrt{7})$  dan  $(0, -\sqrt{7})$ . Tampak bahwa ada 2 daerah. Satu daerah di atas sumbu X dan satu daerah lagi di bawah sumbu X.



$$\text{Jarak AB} = \sqrt{(-3-0)^2 + (0-\sqrt{7})^2} = 4$$

$$\text{Jarak AC} = \sqrt{(-3-0)^2 + (0-(-\sqrt{7}))^2} = 4$$

Untuk  $0 \leq y \leq \sqrt{7}$ , tampak bahwa jarak terjauh 2 titik terjadi jika kedua titik tersebut di A dan B dengan jarak AB = 4.

Untuk  $-\sqrt{7} \leq y \leq 0$ , tampak bahwa jarak terjauh 2 titik terjadi jika kedua titik tersebut di A dan C dengan jarak AC = 4.

Karena ada 3 buah titik dan ada 2 daerah maka sesuai *Pigeon Hole Principle* (PHP) maka sedikitnya ada 2 titik dalam satu daerah yaitu memiliki ordinat  $0 \leq y \leq \sqrt{7}$  atau  $-\sqrt{7} \leq y \leq 0$ .

$\therefore$  Dari penjelasan di atas dapat disimpulkan bahwa jika 3 titik terletak pada daerah yang dibatasi oleh sumbu Y dan grafik persamaan  $7x - 3y^2 + 21 = 0$ , maka sedikitnya 2 titik di antara ketiga titik tersebut mempunyai jarak tidak lebih dari 4 satuan.



**SELEKSI TIM OLIMPIADE MATEMATIKA INDONESIA 2004**

**OLIMPIADE SAINS NASIONAL 2003**

**BALIK PAPAN (KALIMANTAN TIMUR), 15 - 19 SEPTEMBER 2003**

**Bidang Matematika**

**Hari Pertama**

**Waktu : 180 Menit**



**DEPARTEMEN PENDIDIKAN NASIONAL  
DIREKTORAT JENDERAL PENDIDIKAN DASAR DAN MENENGAH  
DIREKTORAT PENDIDIKAN MENENGAH UMUM  
TAHUN 2003**



OLIMPIADE SAINS NASIONAL 2003  
15 – 19 SEPTEMBER 2003  
BALIK PAPAN, KALIMANTAN TIMUR

**BIDANG : MATEMATIKA**

**HARI PERTAMA**

**WAKTU : 180 MENIT**

1. Buktikan bahwa  $a^9 - a$  habis dibagi 6, untuk setiap bilangan bulat  $a$ .
2. Diberikan sebuah segiempat ABCD sebarang. Misalkan P, Q, R, S berturut-turut adalah titik-titik tengah AB, BC, CD, DA. Misalkan pula PR dan QS berpotongan di O. Buktikan bahwa  $PO = OR$  dan  $QO = OS$ .
3. Tentukan semua solusi bilangan real persamaan  $\lfloor x^2 \rfloor + \lceil x^2 \rceil = 2003$ .  
[Catatan : Untuk sebarang bilangan real  $\alpha$ , notasi  $\lfloor \alpha \rfloor$  menyatakan bilangan bulat terbesar yang lebih kecil atau sama dengan  $\alpha$ , sedangkan  $\lceil \alpha \rceil$  menyatakan bilangan bulat terkecil yang lebih besar atau sama dengan  $\alpha$ .]
4. Diberikan sebuah matriks berukuran  $19 \times 19$ , yang setiap komponennya bernilai  $+1$  atau  $-1$ . Misalkan pula  $b_i$  adalah hasil kali semua komponen matriks di baris ke- $i$ , dan  $k_j$  adalah hasil kali semua komponen matriks di kolom ke- $j$ .  
Buktikan bahwa  $b_1 + k_1 + b_2 + k_2 + \dots + b_{19} + k_{19} \neq 0$ .



**SELEKSI TIM OLIMPIADE MATEMATIKA INDONESIA 2004**

**OLIMPIADE SAINS NASIONAL 2003**

**BALIK PAPAN (KALIMANTAN TIMUR), 15 - 19 SEPTEMBER 2003**

**Bidang Matematika**

**Hari Kedua**

**Waktu : 180 Menit**



**DEPARTEMEN PENDIDIKAN NASIONAL  
DIREKTORAT JENDERAL PENDIDIKAN DASAR DAN MENENGAH  
DIREKTORAT PENDIDIKAN MENENGAH UMUM  
TAHUN 2003**

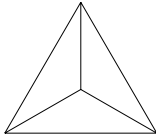


OLIMPIADE SAINS NASIONAL 2003  
15 – 19 SEPTEMBER 2003  
BALIK PAPAN, KALIMANTAN TIMUR

**BIDANG : MATEMATIKA**

**HARI KEDUA**

**WAKTU : 180 MENIT**

5. Untuk sebarang bilangan real  $a, b, c$  buktikan ketaksamaan  
$$5a^2 + 5b^2 + 5c^2 \geq 4ab + 4ac + 4bc$$
  
dan tentukan kapan kesamaan berlaku.
6. Balairung sebuah istana berbentuk segi-6 beraturan dengan panjang sisi 6 meter. Lantai balairung tersebut ditutupi dengan ubin-ubin keramik berbentuk segitiga samasisi dengan panjang sisi 50 cm. Setiap ubin keramik dibagi ke dalam 3 daerah segitiga yang kongruen, lihat gambar. Setiap daerah segitiga diberi satu warna tertentu sehingga setiap ubin memiliki tiga warna berbeda. Raja menginginkan agar tidak ada dua ubin yang memiliki pola warna sama. Paling sedikit berapa warna yang diperlukan ?
- 
7. Misalkan  $k, m, n$  adalah bilangan-bilangan asli demikian, sehingga  $k > n > 1$  dan faktor persekutuan terbesar  $k$  dan  $n$  sama dengan 1. Buktikan bahwa jika  $k - n$  membagi  $k^m - n^{m-1}$ , maka  $k \leq 2n - 1$ .
8. Diketahui segitiga ABC siku-siku di C dengan panjang sisi-sisinya merupakan bilangan bulat. Tentukan panjang sisi-sisi segitiga tersebut jika hasil kali dari dua sisi yang bukan sisi miring sama dengan tiga kali keliling segitiga.

**SELEKSI TIM OLIMPIADE MATEMATIKA INDONESIA 2004**  
**OLIMPIADE SAINS NASIONAL 2003**  
**BALIK PAPAN (KALIMANTAN TIMUR), 15 - 19 SEPTEMBER 2003**

*Prestasi itu diraih bukan didapat !!!*

**SOLUSI SOAL**

**Bidang Matematika**



**Disusun oleh : Eddy Hermanto, ST**

## 1. Alternatif 1 :

$$a^9 - a = a(a^8 - 1)$$

$$a^9 - a = a(a^4 - 1)(a^4 + 1)$$

$$a^9 - a = a(a^2 - 1)(a^2 + 1)(a^4 + 1)$$

$$a^9 - a = (a - 1)a(a + 1)(a^2 + 1)(a^4 + 1)$$

Karena  $(a - 1)a(a + 1)$  adalah perkalian tiga bilangan bulat berurutan maka  $a^9 - a$  habis dibagi  $3! = 6$ .

## Alternatif 2 :

Sebuah bilangan bulat pasti akan memenuhi bahwa ia ganjil atau genap .

\* Jika  $a$  genap maka  $a^9$  adalah genap

Maka  $a^9 - a$  adalah selisih antara dua bilangan genap sehingga  $a^9 - a$  genap

\* Jika  $a$  ganjil maka  $a^9$  adalah ganjil

Maka  $a^9 - a$  adalah selisih antara dua bilangan ganjil sehingga  $a^9 - a$  genap

Karena  $a^9 - a$  genap maka berarti  $a^9 - a$  habis dibagi 2.

Akan dibuktikan bahwa  $a^9 - a$  juga habis dibagi 3.

## Alternatif 2. a :

Sebuah bilangan bulat akan memenuhi salah satu bentuk dari  $3k$ ,  $3k + 1$  atau  $3k + 2$

\* Jika  $a = 3k \equiv 0 \pmod{3}$

$$a^9 - a = 3^9 k^9 - 3k = 3(3^8 k^9 - k) \text{ yang berarti } a^9 - a \text{ habis dibagi } 3$$

Penulisan lain.  $a^9 - a \equiv 0^9 - 0 \pmod{3} \equiv 0 \pmod{3}$  yang berarti  $a^9 - a$  habis dibagi 3.

\* Jika  $a = 3k + 1 \equiv 1 \pmod{3}$

$$a^9 - a = (3k + 1)^9 - (3k + 1) = 3^9 k^9 + {}_9C_1 3^8 k^8 + {}_9C_2 3^7 k^7 + \dots + {}_9C_7 3^2 k^2 + {}_9C_8 3k + 1 - (3k + 1)$$

$$a^9 - a = 3^9 k^9 + {}_9C_1 3^8 k^8 + {}_9C_2 3^7 k^7 + \dots + {}_9C_7 3^2 k^2 + 24k = 3p$$

Penulisan lain.  $a^9 - a \equiv 1^9 - 1 \pmod{3} \equiv 0 \pmod{3}$  yang berarti  $a^9 - a$  habis dibagi 3.

$a^9 - a$  habis dibagi 3

\* Jika  $a = 3k + 2 \equiv -1 \pmod{3}$

$$a^9 - a = (3k + 2)^9 - (3k + 2)$$

$$a^9 - a = 3^9 k^9 + {}_9C_1 3^8 2^1 k^8 + {}_9C_2 3^7 2^2 k^7 + \dots + {}_9C_7 3^2 2^7 k^2 + {}_9C_8 3k 2^8 + 1 - (3k + 2)$$

$$a^9 - a = 3^9 k^9 + {}_9C_1 3^8 2^1 k^8 + {}_9C_2 3^7 2^2 k^7 + \dots + {}_9C_7 3^2 2^7 k^2 + {}_9C_8 3k 2^8 + 2^9 - (3k + 2)$$

$${}_9C_8 3k 2^8 - 3k = 3k({}_9C_8 \cdot 2^8 - 1) \text{ yang berarti habis dibagi } 3$$

$$2^9 - 2 = 512 - 2 = 510 \text{ habis dibagi } 3.$$

Penulisan lain.  $a^9 - a \equiv (-1)^9 - (-1) \pmod{3} \equiv 0 \pmod{3}$  yang berarti  $a^9 - a$  habis dibagi 3.

$a^9 - a$  habis dibagi 3

Dapat disimpulkan bahwa  $a^9 - a$  habis dibagi 3.

## Alternatif 2. b :

*Teorema Fermat* : Untuk  $a$  bilangan bulat dan  $p$  prima maka  $a^p - a$  habis dibagi  $p$ . Penulisan dalam bentuk lain adalah  $a^p - a \equiv 0 \pmod{p}$  atau bisa juga  $a^p \equiv a \pmod{p}$

Berdasarkan teorema Fermat maka  $a^3 - a$  habis dibagi 3 dan  $(a^3)^3 - a^3$  juga habis dibagi 3.

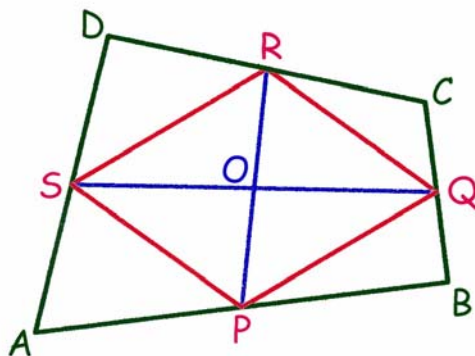
Maka  $(a^3)^3 - a^3 + a^3 - a$  harus habis dibagi 3.

Karena  $(a^3)^3 - a^3 + a^3 - a = a^9 - a$  maka  $a^9 - a$  habis dibagi 3.

Karena 2 dan 3 relatif prima maka  $a^9 - a$  habis dibagi  $2 \cdot 3 = 6$

$\therefore$  Terbukti bahwa  $a^9 - a$  habis dibagi 6 untuk setiap bilangan bulat  $a$

2.

**Alternatif 1 :**

Dengan cara vektor :

$$\overrightarrow{AB} + \overrightarrow{BC} + \overrightarrow{CD} + \overrightarrow{DA} = 0$$

$$\overrightarrow{SR} = \overrightarrow{SD} + \overrightarrow{DR} = 0,5(\overrightarrow{AD} + \overrightarrow{DC}) = -0,5(\overrightarrow{DA} + \overrightarrow{CD}) = 0,5(\overrightarrow{AB} + \overrightarrow{BC})$$

$$\overrightarrow{PQ} = \overrightarrow{PB} + \overrightarrow{BQ} = 0,5(\overrightarrow{AB} + \overrightarrow{BC})$$

Karena  $\overrightarrow{SR} = \overrightarrow{PQ}$  maka ruas garis SR dan PQ sejajar dan sama panjang.

$$\overrightarrow{QR} = \overrightarrow{QC} + \overrightarrow{CR} = 0,5(\overrightarrow{BC} + \overrightarrow{CD})$$

$$\overrightarrow{PS} = \overrightarrow{PA} + \overrightarrow{AS} = 0,5(\overrightarrow{BA} + \overrightarrow{AD}) = -0,5(\overrightarrow{AB} + \overrightarrow{DA}) = 0,5(\overrightarrow{BC} + \overrightarrow{CD})$$

Karena  $\overrightarrow{QR} = \overrightarrow{PS}$  maka ruas garis QR dan PS sejajar dan sama panjang.

Akibatnya segiempat PQRS adalah jajaran genjang.

Karena  $\angle SOP = \angle QOR$  dan PS sejajar serta sama panjang dengan QR maka  $\triangle SOP$  kongruen dengan  $\triangle QOR$  yang berakibat  $QO = OS$  dan  $PO = OR$

**Alternatif 2 :**

Pada  $\triangle ABC$  dan  $\triangle PBQ$  berlaku  $\angle ABC = \angle PBQ$  serta  $\frac{AB}{PA} = 2$  dan  $\frac{CB}{QB} = 2$  yang berarti  $\triangle ABC$  dan

$\triangle PBQ$  sebangun. Maka AC sejajar PQ dan  $\frac{AC}{PQ} = 2$ .

Pada  $\triangle ADC$  dan  $\triangle SDR$  berlaku  $\angle ADC = \angle SDR$  serta  $\frac{AD}{SD} = 2$  dan  $\frac{CD}{RD} = 2$  yang berarti  $\triangle ADC$  dan

$\triangle SDR$  sebangun. Maka AC sejajar SR dan  $\frac{AC}{SR} = 2$  sehingga SR sejajar PQ dan  $SR = PQ$ .

Karena  $SR \parallel PQ$  maka  $\angle SRP = \angle QPR$  dan  $\angle RSQ = \angle PQS$  dan karena  $SR = PQ$  maka  $\triangle SOP$  kongruen dengan  $\triangle QOR$  yang berakibat  $QO = OS$  dan  $PO = OR$

**Alternatif 3 :**

PQRS adalah sebuah jajaran genjang (Varignon Parallelogram)

Menurut sifat jajaran genjang, diagonalnya saling membagi dua sama panjang.

$\therefore$  Terbukti bahwa  $PO = OR$  dan  $QO = OS$



3. \* Untuk  $x^2 \leq 1001$  maka  $\lfloor x^2 \rfloor \leq 1001$  dan  $\lceil x^2 \rceil \leq 1001$  sehingga  $\lfloor x^2 \rfloor + \lceil x^2 \rceil \leq 2002$   
 \* Untuk  $x^2 \geq 1002$  maka  $\lfloor x^2 \rfloor \geq 1002$  dan  $\lceil x^2 \rceil \geq 1002$  sehingga  $\lfloor x^2 \rfloor + \lceil x^2 \rceil \geq 2004$   
 \* Untuk  $1001 < x^2 < 1002$  maka  $\lfloor x^2 \rfloor = 1001$  dan  $\lceil x^2 \rceil = 1002$  sehingga  $\lfloor x^2 \rfloor + \lceil x^2 \rceil = 2003$

Maka persamaan  $\lfloor x^2 \rfloor + \lceil x^2 \rceil = 2003$  hanya dipenuhi oleh  $1001 < x^2 < 1002$

$$\therefore \lfloor x^2 \rfloor + \lceil x^2 \rceil = 2003 \text{ hanya dipenuhi oleh } \sqrt{1001} < x < \sqrt{1002} \text{ atau } -\sqrt{1002} < x < -\sqrt{1001}$$

4. Karena komponen-komponen matriks bernilai +1 atau -1 maka  $b_i$  dan  $k_i$  masing-masing juga akan bernilai +1 atau -1.

#### Alternatif 1 :

Andaikan bahwa  $b_1 + k_1 + b_2 + k_2 + \dots + b_{19} + k_{19} = 0$

Maka harus ada 19 di antara  $b_1, k_1, b_2, k_2, \dots, b_{19}, k_{19}$  yang bernilai -1. Kemungkinannya adalah :

- Ada  $p$  genap di antara  $b_1, b_2, b_3, \dots, b_{19}$  yang bernilai -1 dan ada  $(19 - p)$  ganjil di antara  $k_1, k_2, k_3, \dots, k_{19}$  yang bernilai -1.

Berdasarkan fakta bahwa ada  $p$  genap di antara  $b_1, b_2, b_3, \dots, b_{19}$  yang bernilai -1 maka di antara  $19 \times 19$  komponen harus ada komponen bertanda -1 sebanyak  $(\text{ganjil} \cdot p + \text{genap} \cdot \text{ganjil}) = \text{genap}$

Berdasarkan fakta bahwa ada  $(19 - p)$  ganjil di antara  $k_1, k_2, k_3, \dots, k_{19}$  yang bernilai -1 maka di antara  $19 \times 19$  komponen harus ada sebanyak  $(\text{ganjil} \cdot (19 - p) + \text{genap} \cdot \text{genap}) = \text{ganjil}$  komponen bertanda -1. Hal ini bertentangan dengan kenyataan sebelumnya bahwa komponen bertanda -1 harus ada sebanyak genap.

Maka tidak mungkin bahwa ada  $p$  genap di antara  $b_1, b_2, b_3, \dots, b_{19}$  yang bernilai -1 dan ada  $(19 - p)$  ganjil di antara  $k_1, k_2, k_3, \dots, k_{19}$  yang bernilai -1.

- Ada  $q$  ganjil di antara  $b_1, b_2, b_3, \dots, b_{19}$  yang bernilai -1 dan ada  $(19 - q)$  genap di antara  $k_1, k_2, k_3, \dots, k_{19}$  yang bernilai -1.

Berdasarkan fakta bahwa ada  $q$  ganjil di antara  $b_1, b_2, b_3, \dots, b_{19}$  yang bernilai -1 maka di antara  $19 \times 19$  komponen harus ada komponen bertanda -1 sebanyak  $(\text{ganjil} \cdot q + \text{genap} \cdot \text{genap}) = \text{ganjil}$

Berdasarkan fakta bahwa ada  $(19 - q)$  genap di antara  $k_1, k_2, k_3, \dots, k_{19}$  yang bernilai -1 maka di antara  $19 \times 19$  komponen harus ada sebanyak  $(\text{ganjil} \cdot (19 - q) + \text{genap} \cdot \text{ganjil}) = \text{genap}$  komponen bertanda -1. Hal ini bertentangan dengan kenyataan sebelumnya bahwa komponen bertanda -1 harus ada sebanyak ganjil.

Maka tidak mungkin bahwa ada  $q$  ganjil di antara  $b_1, b_2, b_3, \dots, b_{19}$  yang bernilai -1 dan ada  $(19 - q)$  genap di antara  $k_1, k_2, k_3, \dots, k_{19}$  yang bernilai -1.

#### Alternatif 2 :

Pada matriks berlaku  $b_1 b_2 b_3 \dots b_{19} = k_1 k_2 k_3 \dots k_{19}$  ..... (1)

Andaikan bahwa  $b_1 + k_1 + b_2 + k_2 + \dots + b_{19} + k_{19} = 0$  ..... (2)

Karena  $b_i$  dan  $k_j$  bernilai +1 atau -1 Maka harus ada 19 di antara  $b_1, k_1, b_2, k_2, \dots, b_{19}, k_{19}$  yang bernilai -1.

Jika di antara  $b_i$  ada terdapat sebanyak  $n$  buah yang bertanda -1 maka harus ada sebanyak  $(19 - n)$  di antara  $k_i$  yang bertanda -1. Tetapi  $n$  dan  $(19 - n)$  berbeda paritasnya (salah satunya ganjil dan satunya lagi genap), sehingga persamaan (1) tidak mungkin dapat dipenuhi. Akibatnya tidak mungkin  $b_1 + k_1 + b_2 + k_2 + \dots + b_{19} + k_{19} = 0$

$$\therefore \text{Terbukti } b_1 + k_1 + b_2 + k_2 + \dots + b_{19} + k_{19} \neq 0$$

## 5. Alternatif 1 :

$$(a - b)^2 \geq 0. \text{ Maka } a^2 + b^2 \geq 2ab$$

Pertidaksamaan di atas dapat diperoleh pula dari pertidaksamaan AM-GM

$$\frac{a^2 + b^2}{2} \geq \sqrt{a^2 b^2} \text{ sehingga } a^2 + b^2 \geq 2ab \quad \dots\dots\dots (1)$$

Kesamaan terjadi bila  $a = b$

Berdasarkan persamaan (1) didapat :

$$a^2 + c^2 \geq 2ac \quad \dots\dots\dots (2)$$

$$b^2 + c^2 \geq 2bc \quad \dots\dots\dots (3)$$

Jumlahkan persamaan (1), (2) dan (3)

$$a^2 + b^2 + c^2 \geq ab + ac + bc \text{ sehingga } 4a^2 + 4b^2 + 4c^2 \geq 4ab + 4ac + 4bc \quad \dots\dots\dots (4)$$

Bilangan kuadrat bernilai  $\geq 0$  maka :

$$a^2 + b^2 + c^2 \geq 0 \quad \dots\dots\dots (5)$$

Kesamaan terjadi hanya jika  $a = 0$ ,  $b = 0$  dan  $c = 0$

$$\text{Jumlahkan persamaan (4) + (5) sehingga } 5a^2 + 5b^2 + 5c^2 \geq 4ab + 4ac + 4bc$$

Kesamaan terjadi hanya jika  $a = b = c = 0$

$$\therefore \text{ Terbukti bahwa } 5a^2 + 5b^2 + 5c^2 \geq 4ab + 4ac + 4bc$$

## Alternatif 2 :

$$(2a - b)^2 \geq 0$$

Tanda kesamaan terjadi jika  $2a = b$ .

$$4a^2 + b^2 \geq 4ab \quad \dots\dots\dots (6)$$

Dengan cara yang sama didapat

$$4b^2 + c^2 \geq 4bc \quad \dots\dots\dots (7)$$

$$4c^2 + a^2 \geq 4ac \quad \dots\dots\dots (8)$$

Tambahkan persamaan (6), (7) dan (8) didapat

$$5a^2 + 5b^2 + 5c^2 \geq 4ab + 4ac + 4bc$$

Tanda kesamaan terjadi jika  $2a = b$ ,  $2b = c$  dan  $2c = a$  yang terpenuhi hanya jika  $a = b = c = 0$

$$\therefore \text{ Terbukti bahwa } 5a^2 + 5b^2 + 5c^2 \geq 4ab + 4ac + 4bc$$

## 6. Segienam beraturan dibuat dari 6 buah segitiga sama sisi yang kongruen.

$$\text{Luas lantai balairung} = 6 \cdot \frac{1}{2} \cdot 6 \cdot 6 \cdot \sin 60^\circ = 108 \sin 60^\circ$$

$$\text{Luas 1 buah ubin} = \frac{1}{2} \cdot 0,5 \cdot 0,5 \cdot \sin 60^\circ$$

$$\text{Luas lantai balairung : Luas 1 buah ubin} = 8 \cdot 108 = 864$$

Maka untuk menutupi lantai balairung dibutuhkan 864 buah ubin

Jika ada  $n$  buah warna maka banyaknya pola yang dapat dibuat  $= {}_nC_3 \cdot (3 - 1)! =$

$$\frac{n(n-1)(n-2)}{3}$$

$$\frac{n(n-1)(n-2)}{3} \geq 864$$

$$n(n-1)(n-2) \geq 2592$$

$$\text{Untuk } n = 14 \text{ maka } n(n-1)(n-2) = 2184 < 2592$$

$$\text{Untuk } n = 15 \text{ maka } n(n-1)(n-2) = 2730 > 2592$$

$\therefore$  Banyaknya warna minimum yang diperlukan adalah 15 buah

7.  $k - n \mid k^m - n^{m-1}$

$$k - n \mid k^m - n^m + n^m - n^{m-1}$$

$$k - n \mid k^m - n^m + n^{m-1}(n - 1)$$

Untuk  $m \in \text{bilangan asli}$  maka  $k - n$  membagi  $k^m - n^m$ .

Karena FPB  $(k, n) = 1$  maka FPB  $(k - n, n^{m-1}) = 1$ . Akibatnya  $k - n$  harus membagi  $n - 1$ .

Karena  $k - n$  membagi  $n - 1$  maka  $k - n \leq n - 1$

$$k \leq 2n - 1$$

$\therefore$  Terbukti bahwa  $k \leq 2n - 1$

8. Misalkan sisi-sisi segitiga tersebut adalah  $a$ ,  $b$  dan  $c$  dengan  $c$  adalah sisi miring, maka :

$$b = \sqrt{c^2 - a^2} \dots\dots\dots (1)$$

$$ab = 3(a + b + c) \dots\dots\dots (2)$$

Karena  $a$ ,  $b$  dan  $c$  adalah bilangan bulat maka sekurang-kurangnya salah satu di antara  $a$  atau  $b$  adalah kelipatan 3.

Tanpa mengurangi keumuman misalkan  $a = 3k$  dengan  $k \in \text{bilangan asli}$  (sama saja jika dimisalkan  $b = 3k$ ) maka :

$$3k\sqrt{c^2 - 9k^2} = 3(3k + \sqrt{c^2 - 9k^2} + c)$$

$$k\sqrt{c^2 - 9k^2} = (3k + \sqrt{c^2 - 9k^2} + c)$$

$$(k - 1)\sqrt{c^2 - 9k^2} = c + 3k$$

$$(k - 1)^2(c + 3k)(c - 3k) = (c + 3k)^2$$

$$(k - 1)^2(c - 3k) = (c + 3k)$$

$$(k - 1)^2(c - 3k) = c - 3k + 6k$$

$$(c - 3k)(k^2 - 2k) = 6k$$

$$\text{Karena } k \neq 0 \text{ maka } (c - 3k)(k - 2) = 6 \dots\dots\dots (3)$$

Karena  $c$ ,  $k \in \text{bilangan asli}$  maka  $(k - 2)$  pasti membagi 6 dan karena  $c > 3k$  maka  $(k - 2) > 0$

Nilai  $k$  yang memenuhi adalah 3; 4; 5; 8

$$c = 3k + \frac{6}{k - 2} \dots\dots\dots (4)$$

$$\text{Untuk } k = 3 \text{ maka } a = 9 \quad \text{sehingga } c = 15 \text{ dan } b = 12 \dots\dots\dots (5)$$

$$\text{Untuk } k = 4 \text{ maka } a = 12 \quad \text{sehingga } c = 15 \text{ dan } b = 9 \dots\dots\dots (6)$$

$$\text{Untuk } k = 5 \text{ maka } a = 15 \quad \text{sehingga } c = 17 \text{ dan } b = 8 \dots\dots\dots (7)$$

$$\text{Untuk } k = 8 \text{ maka } a = 24 \quad \text{sehingga } c = 25 \text{ dan } b = 7 \dots\dots\dots (8)$$

Substitusikan persamaan (5), (6), (7), (8) ke persamaan (2) yang ternyata semuanya memenuhi.

$\therefore$  Panjang sisi-sisi segitiga yang memenuhi adalah :

$$* \quad a = 9 \quad b = 12 \quad c = 15$$

$$* \quad a = 12 \quad b = 9 \quad c = 15$$

$$* \quad a = 8 \quad b = 15 \quad c = 17$$

$$* \quad a = 15 \quad b = 8 \quad c = 17$$

$$* \quad a = 7 \quad b = 24 \quad c = 25$$

$$* \quad a = 24 \quad b = 7 \quad c = 25$$



**SELEKSI OLIMPIADE TINGKAT KABUPATEN/KOTA TAHUN 2004  
TIM OLIMPIADE MATEMATIKA INDONESIA TAHUN 2005**

**Bidang Matematika**

**Waktu : 90 Menit**



**DEPARTEMEN PENDIDIKAN NASIONAL  
DIREKTORAT JENDERAL PENDIDIKAN DASAR DAN MENENGAH  
DIREKTORAT PENDIDIKAN MENENGAH UMUM  
TAHUN 2004**

# OLIMPIADE MATEMATIKA TINGKAT KABUPATEN/KOTA TAHUN 2004

## Bagian Pertama

Pilih satu jawaban yang benar. Dalam hal terdapat lebih dari satu jawaban yang benar, pilih jawaban yang paling baik.

1. Jika  $a$  dan  $b$  adalah bilangan real yang memenuhi  $a + b = 3$  dan  $a^2 + ab = 7$ , maka  $a$  adalah  
A.  $3/7$                       B.  $5/7$                       C.  $3/4$                       D.  $7/5$                       E.  $7/3$
2. Bilangan 2004 memiliki faktor selain 1 dan 2004 sendiri sebanyak  
A. 3                      B. 4                      C. 6                      D. 10                      E. 12
3. Misalkan  $k$  bilangan bulat. Nilai  $4^{k+1} \times 5^{k-1}$  sama dengan  
A.  $\frac{4}{5} \times 20^k$                       B.  $\frac{4}{5} \times 20^{2k}$                       C.  $16 \times 20^{k-1}$                       D.  $20^{2k}$                       E.  $20^{k^2-1}$
4. Untuk  $a$  dan  $b$  bilangan bulat dengan  $a \neq 0$ , notasi  $a|b$  menyatakan “ $a$  membagi  $b$ ”. Pernyataan berikut yang *salah* adalah  
A. Jika  $a|b$  dan  $a|c$ , maka  $a|(bc)$   
B. Jika  $a|c$  dan  $b|c$ , maka  $(ab)|c$   
C. Jika  $a|b$  dan  $a|c$ , maka  $a|(b+c)$   
D. Untuk setiap bilangan bulat  $a \neq 0$  berlaku  $a|0$   
E. Jika  $a|b$ , maka  $a|(bc)$ , untuk setiap bilangan bulat  $c$ .
5. Di suatu hotel, rata-rata 96% kamar terpakai sepanjang sebulan liburan kenaikan kelas dan rata-rata 72% kamar terpakai sepanjang sebelas bulan lainnya. Maka rata-rata pemakaian kamar sepanjang tahun di hotel tersebut adalah  
A. 70%                      B. 74%                      C. 75%                      D. 80%                      E. 84%
6. Dalam ketidaksamaan berikut, besar sudut dinyatakan dalam radian. Ketidaksamaan yang benar adalah  
A.  $\sin 1 < \sin 2 < \sin 3$                       C.  $\sin 1 < \sin 3 < \sin 2$                       E.  $\sin 3 < \sin 1 < \sin 2$   
B.  $\sin 3 < \sin 2 < \sin 1$                       D.  $\sin 2 < \sin 1 < \sin 3$
7. Sebuah kotak berisi 6 bola merah dan 6 bola putih. Secara acak diambil dua bola sekaligus. Peluang untuk mendapatkan dua bola berwarna sama adalah  
A.  $\frac{5}{12}$                       B.  $\frac{5}{11}$                       C.  $\frac{1}{2}$                       D.  $\frac{5}{9}$                       E.  $\frac{5}{7}$
8. Segitiga dengan panjang sisi 6 dan 8 memiliki luas terbesar jika sisi ketiganya memiliki panjang  
A. 6                      B. 8                      C. 10                      D. 12                      E. 15

9. Pada sebuah segi6 beraturan, rasio panjang antara diagonal terpendek terhadap diagonal terpanjang adalah  
 A. 1 : 3                      B. 1 : 2                      C. 1 :  $\sqrt{3}$                       D. 2 : 3                      E.  $\sqrt{3}$  : 2
10. Nomor polisi mobil-mobil di suatu negara selalu terdiri dari 4 angka. Jika jumlah keempat angka pada setiap nomor juga harus genap, mobil yang bisa terdaftar di negara itu paling banyak ada  
 A. 600                      B. 1800                      C. 2000                      D. 4500                      E. 5000

## Bagian Kedua

Isikan hanya jawaban saja pada tempat yang disediakan

11. Jika  $\frac{x}{y} = \frac{2}{3}$  dan  $\frac{z}{y} = \frac{4}{5}$  maka  $\frac{x}{z} = \dots$
12. Jika 2004 dibagi ke dalam tiga bagian dengan perbandingan 2 : 3 : 5, maka bagian terkecil adalah .....
13. Untuk dua bilangan bulat a dan b, penulisan  $a * b$  menyatakan sisa tak negatif ab jika dibagi 5. Nilai  $(-3) * 4 = \dots$
14. Jika luas segitiga ABC sama dengan kelilingnya, maka jari-jari lingkaran dalam segitiga ABC adalah ....
15. Agar bilangan  $2^0 + 2^1 + 2^2 + \dots + 2^n$  sedekat mungkin kepada 2004, haruslah  $n = \dots$
16. Jika  $\log p + \log q = \log (p + q)$ , maka p dinyatakan dalam q adalah  $p = \dots$
17. Luas sebuah segitiga siku-siku adalah 5. Panjang sisi miring segitiga ini adalah 5. Maka keliling segitiga tersebut adalah ....
18. Jika x dan y dua bilangan asli dan  $x + y + xy = 34$ , maka nilai  $x + y = \dots$
19. Sepuluh tim mengikuti turnamen sepakbola. Setiap tim bertemu satu kali dengan setiap tim lainnya. Pemenang setiap pertandingan memperoleh nilai 3, sedangkan yang kalah memperoleh nilai 0. Untuk pertandingan yang berakhir seri, kedua tim memperoleh nilai masing-masing 1. Di akhir turnamen, jumlah nilai seluruh tim adalah 124. Banyaknya pertandingan yang berakhir seri adalah .....
20. Delegasi Indonesia ke suatu pertemuan pemuda internasional terdiri dari 5 orang. Ada 7 orang pria dan 5 orang wanita yang mencalonkan diri untuk menjadi anggota delegasi. Jika dipersyaratkan bahwa paling sedikit seorang anggota itu harus wanita, banyaknya cara memilih anggota delegasi adalah ....

SELEKSI OLIMPIADE TINGKAT KABUPATEN/KOTA 2004  
TIM OLIMPIADE MATEMATIKA INDONESIA 2005

*Prestasi itu diraih bukan didapat !!!*

**SOLUSI SOAL**

**Bidang Matematika**



Disusun oleh : Eddy Hermanto, ST

### BAGIAN PERTAMA

1. (Jawaban : E)

$a + b = 3$  dan  $a^2 + ab = 7$ , maka  $a(a + b) = 7$  sehingga  $a(3) = 7$

$$\therefore a = \frac{7}{3}$$

2. (Jawaban : D)

$2004 = 2^2 \cdot 501 = 2^2 \cdot 3 \cdot 167$  dan 167 adalah bilangan prima.

Maka banyaknya faktor positif dari 2004 termasuk 1 dan 2004  $= (2 + 1)(1 + 1)(1 + 1) = 12$

Banyaknya faktor 2004 selain 1 dan 2004 adalah  $= 12 - 2 = 10$

Faktor dari 2004 selain 1 dan 2004 adalah : 2, 3, 4, 6, 12, 167, 334, 501, 668, 1002. Banyaknya faktor ada 10

$\therefore$  Banyaknya faktor ada 10

3. (Jawaban : A atau C)

$$4^{k+1} \times 5^{k-1} = 4 \times 4^k \times \frac{5^k}{5} = \frac{4}{5} \times 20^k \text{ atau}$$

$$4^{k+1} \times 5^{k-1} = 16 \times 4^{k-1} \times 5^{k-1} = 16 \times 20^{k-1}$$

$$\therefore 4^{k+1} \times 5^{k-1} \text{ sama dengan } \frac{4}{5} \times 20^k \text{ atau } 16 \times 20^{k-1}$$

Catatan : Jawaban yang dikirimkan dari panitia pusat menyatakan hanya A saja yang benar. Namun dalam hitungan ternyata C juga bernilai sama.

4. (Jawaban : B)

- A benar karena jika  $a \mid b$  maka  $a \mid (bc)$

- B salah karena yang benar adalah jika  $a \mid c$  dan  $b \mid c$ , maka  $(ab) \mid c^2$

- C benar

- D benar

- E benar sesuai dengan A

$\therefore$  Pernyataan yang salah adalah B

5. (Jawaban : B)

$$\text{Rata-rata \% pemakaian kamar setahun} = \frac{1 \cdot 96\% + 11 \cdot 72\%}{1 + 11} = 74\%$$

$\therefore$  Rata-rata pemakaian kamar sepanjang tahun di hotel tersebut adalah 74 %

6. (Jawaban : E)

$1 \text{ rad} \approx 57,3^\circ$  sehingga  $2 \text{ rad} \approx 114,6^\circ$  dan  $3 \text{ rad} \approx 171,9^\circ$

$$\sin 114,6^\circ = \sin (180 - 114,6)^\circ = \sin 65,4^\circ$$

$$\sin 171,9^\circ = \sin (180 - 171,9)^\circ = \sin 8,1^\circ$$



## Olimpiade Matematika Tk Kabupaten/Kota 2004

Untuk  $0 \leq x \leq 90^\circ$  berlaku bahwa  $\sin x_1 < \sin x_2$  jika  $x_1 < x_2$

$\therefore$  Ketidaksamaan yang benar adalah  $\sin 3 < \sin 1 < \sin 2$

Catatan : Jawaban yang dikirimkan dari panitia pusat menyatakan bahwa jawaban yang benar adalah B, namun bisa dibuktikan bahwa seharusnya jawaban yang benar adalah E. Jawaban soal ini juga bisa dibuktikan dengan hitungan dengan alat hitung berupa kalkulator atau komputer.

7. (Jawaban : B)

2 bola berwarna sama bisa didapat dari keduanya berwarna merah atau keduanya berwarna putih.

$$P(A) = \frac{{}_6C_2 \cdot {}_6C_0}{{}_{12}C_2} + \frac{{}_6C_0 \cdot {}_6C_2}{{}_{12}C_2} = \frac{30}{66} = \frac{5}{11}$$

$\therefore$  Peluang untuk mendapatkan dua bola berwarna sama adalah  $\frac{5}{11}$

8. (Jawaban : C)

Misal segitiga tersebut adalah segitiga ABC.

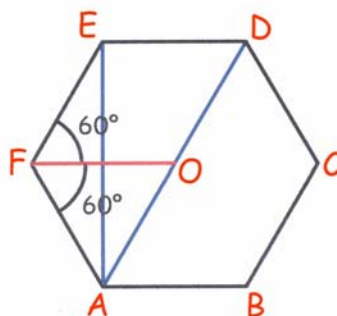
Luas segitiga =  $\frac{1}{2} ab \sin C$

Karena a dan b bernilai konstan, maka luas segitiga akan maksimum jika  $\sin C$  bernilai maksimum. Maksimum  $\sin C = 1$  untuk  $C = 90^\circ$  yang berarti segitiga ABC siku-siku di C.

$$c = \sqrt{6^2 + 8^2} = 10$$

$\therefore$  Panjang sisi ketiga agar segitiga tersebut memiliki luas terbesar adalah 10.

9. (Jawaban : E)



Misal sisi segi-6 beraturan tersebut adalah a dan O adalah pusat segi-6 beraturan.

Karena bangun adalah segi-6 beraturan maka berlaku :

$$OA = OB = OC = OD = OE = OF = AB = BC = CD = DE = EF = AF = a$$

$$\angle AFO = \angle OFE = 60^\circ$$

$$(AE)^2 = (AF)^2 + (FE)^2 - 2(AF)(FE) \cos 120^\circ$$

$$(AE)^2 = a^2 + a^2 - 2 \cdot a \cdot a \cdot (-\frac{1}{2})$$

$$(AE) = a\sqrt{3}$$

$$(AD) = (AO) + (OD) = a + a = 2a$$

$$(AE) : (AD) = \sqrt{3} : 2$$

$\therefore$  Rasio panjang diagonal terpendek terhadap diagonal terpanjang adalah  $\sqrt{3} : 2$

10. (Jawaban : D)

Untuk plat angka pertama tidak boleh 0. Agar jumlah keempat angka tersebut genap, maka keempat angka tersebut harus genap atau keempatnya harus ganjil atau 2 genap dan 2 ganjil.

- Jika keempat angka tersebut genap maka banyaknya plat =  $4 \times 5 \times 5 \times 5 = 500$
- Jika keempat angka tersebut ganjil maka banyaknya plat =  $5 \times 5 \times 5 \times 5 = 625$
- Jika keempat angka tersebut terdiri dari 2 genap dan 2 ganjil

Misal angka genap = p dan angka ganjil = j

Banyaknya susunan angka genap dan ganjil ada  $\frac{4!}{2!2!} = 6$ , yaitu : ppjj, pj pj, pj jp, jjpp, jp jp, jppj.

Untuk susunan ppjj, pj pj, pj jp, banyaknya plat untuk masing-masing susunan =  $4 \times 5 \times 5 \times 5 = 500$ .

Untuk susunan jjpp, jp jp, jppj, banyaknya plat untuk masing-masing susunan =  $5 \times 5 \times 5 \times 5 = 625$ .

∴ Mobil yang bisa terdaftar di negara itu paling banyak =  $500 + 625 + 3(500) + 3(625) = 4500$ .

### BAGIAN KEDUA

$$11. \frac{x}{z} = \frac{x}{y} : \frac{z}{y} = \frac{2}{3} : \frac{4}{5} = \frac{5}{6}$$

$$\therefore \frac{x}{z} = \frac{5}{6}$$

$$12. \text{Bagian yang terkecil} = \frac{2}{2+3+5} \cdot 2004 = \frac{4008}{10}$$

∴ Bagian yang terkecil adalah 400,8

$$13. (-3) \cdot 4 = -12 = (-3) \cdot 5 + 3$$

Maka : -12 dibagi 5 akan bersisa 3

$$\therefore (-3) * 4 = 3$$

14. Misal jari-jari lingkaran dalam sama dengan r dan ketiga sisinya adalah a, b dan c, maka :

$$\text{Luas segitiga} = \frac{1}{2} r (a + b + c)$$

$$\text{Luas segitiga} = \frac{1}{2} r \cdot \text{Keliling segitiga}$$

Karena Luas segitiga sama dengan Keliling segitiga maka  $r = 2$

∴ Jari-jari lingkaran dalam segitiga ABC adalah 2

$$15. 2^0 + 2^1 + 2^2 + \dots + 2^n = \frac{2^0(2^{n+1} - 1)}{2 - 1} = 2^{n+1} - 1$$

Diinginkan  $2^{n+1} - 1$  sedekat mungkin ke 2004 sedangkan  $2^{10} = 1024$  dan  $2^{11} = 2048$ , maka  $n = 10$

∴  $n = 10$

16.  $\log p + \log q = \log (p + q)$

$$\log (pq) = \log (p + q)$$

$$pq = p + q$$

$$p(q - 1) = q$$

$$\therefore p = \frac{q}{q-1}$$

17. Misal sisi siku-siku segitiga tersebut adalah a dan b.

$$\text{Luas segitiga} = \frac{1}{2} ab = 5$$

$$ab = 10 \quad \dots\dots\dots (1) \text{ dan } a^2 + b^2 = 5^2 = 25 \quad \dots\dots\dots (2)$$

$$(a + b)^2 - 2ab = 25$$

$$(a + b)^2 - 2 \cdot 10 = 25 \text{ sehingga } a + b = \sqrt{45} = 3\sqrt{5}$$

$$\text{Keliling segitiga} = 5 + a + b$$

$$\therefore \text{Keliling setiga tersebut} = 5 + 3\sqrt{5}$$

18.  $x + y + xy = 34$

$$(x + 1)(y + 1) = 34 + 1 = 35 = 5 \cdot 7$$

Karena x dan y bilangan asli maka persamaan hanya dipenuhi jika  $x + 1 = 5$  dan  $y + 1 = 7$  atau  $x + 1 = 7$  dan  $y + 1 = 5$ . Akibatnya  $x = 4$  dan  $y = 6$  atau  $x = 6$  dan  $y = 4$

$$x + y = 4 + 6 = 6 + 4 = 10$$

$$\therefore x + y = 10$$

19. Jika dalam pertandingan ada salah satu yang menang maka nilai total kedua tim = 3.

Jika dalam pertandingan berakhir seri maka nilai total kedua tim =  $1 + 1 = 2$  atau ada 1 nilai yang hilang per pertandingan yang berakhir seri.

Banyaknya pertandingan keseluruhan =  ${}_{10}C_2 = 45$  pertandingan.

Jumlah nilai untuk seluruh tim maksimum terjadi jika tidak ada pertandingan yang berakhir seri, yaitu  $3 \times 45 = 135$ .

Karena di akhir turnamen, jumlah nilai seluruh tim adalah 124, maka banyaknya pertandingan yang berakhir seri =  $135 - 124 = 11$

$$\therefore \text{Banyaknya pertandingan yang berakhir seri} = 11$$

20. Susunan delegasi yang mungkin adalah 4 pria dan 1 wanita atau 3 pria dan 2 wanita atau 2 pria dan 3 wanita atau 1 pria dan 4 wanita atau 5 wanita .

$$\text{Banyaknya cara memilih anggota delegasi} = {}_7C_4 \cdot {}_5C_1 + {}_7C_3 \cdot {}_5C_2 + {}_7C_2 \cdot {}_5C_3 + {}_7C_1 \cdot {}_5C_4 + {}_7C_0 \cdot {}_5C_5 = 35 \cdot 5 + 35 \cdot 10 + 21 \cdot 10 + 7 \cdot 5 + 1 \cdot 1 = 175 + 350 + 210 + 35 + 1 = 771 \text{ cara.}$$

$$\therefore \text{Banyaknya cara memilih anggota delegasi ada } 771.$$



# SELEKSI OLIMPIADE MATEMATIKA INDONESIA 2005

## TINGKAT PROVINSI

Bidang Matematika

Bagian Pertama


Waktu : 90 Menit



DEPARTEMEN PENDIDIKAN NASIONAL  
DIREKTORAT JENDERAL PENDIDIKAN DASAR DAN MENENGAH  
DIREKTORAT PENDIDIKAN MENENGAH UMUM  
TAHUN 2004

# OLIMPIADE MATEMATIKA TINGKAT PROVINSI TAHUN 2004

## BAGIAN PERTAMA

1. Misalkan  $x$  dan  $y$  adalah bilangan real tak nol. Jika  $\frac{1}{x} + \frac{1}{y} = 10$  dan  $x + y = 40$ , berapakah  $xy$  ?
2. Sebotol sirup bisa digunakan untuk membuat 60 gelas minuman jika dilarutkan dalam air dengan perbandingan 1 bagian sirup untuk 4 bagian air. Berapa gelas minuman yang diperoleh dari sebotol sirup jika perbandingan larutan adalah 1 bagian sirup untuk 5 bagian air ?
3. Penduduk Jawa Tengah adalah 25 % dari penduduk pulau Jawa dan 15 % dari penduduk Indonesia. Berapa persen penduduk Indonesia yang tinggal di luar pulau Jawa ?
4. Ketika menghitung volume sebuah tabung, Dina melakukan kesalahan. Ia memasukkan diameter alas ke dalam rumus volume tabung, padahal seharusnya jari-jari alas yang dimasukkan. Berapakah rasio hasil perhitungan Dinas terhadap hasil yang seharusnya ?
5. Tiga lingkaran melalui titik pusat koordinat  $(0, 0)$ . Pusat lingkaran pertama terletak di kuadran I, pusat lingkaran kedua berada di kuadran II dan pusat lingkaran ketiga berada pada kuadran III. Jika  $P$  adalah sebuah titik yang berada di dalam ketiga lingkaran tersebut, di kuadran manakah titik ini berada ?
6.  Diberikan berturut-turut (dari kiri ke kanan) gambar-gambar pertama, kedua dan ketiga dari suatu barisan gambar. Berapakah banyaknya bulatan hitam pada gambar ke- $n$  ?
7. Diberikan segitiga  $ABC$  dengan perbandingan panjang sisi  $AC : CB = 3 : 4$ . Garis bagi sudut luar  $C$  memotong perpanjangan  $BA$  di  $P$  (titik  $A$  terletak di antara titik-titik  $P$  dan  $B$ ). Tentukan perbandingan panjang  $PA : AB$ .
8. Berapakah banyaknya barisan bilangan bulat tak negatif  $(x, y, z)$  yang memenuhi persamaan  $x + y + z = 99$  ?
9. Tentukan himpunan semua bilangan asli  $n$  sehingga  $n(n - 1)(2n - 1)$  habis dibagi 6.
10. Tentukan semua bilangan real  $x$  yang memenuhi  $x^2 < |2x - 8|$ .
11. Dari antara 6 buah kartu bernomor 1 sampai 6 diambil dua kartu secara acak. Berapakah peluang terambilnya dua kartu yang jumlah nomornya adalah 6 ?
12. Pada sebuah trapesium dengan tinggi 4, kedua diagonalnya saling tegak lurus. Jika salah satu dari diagonal tersebut panjangnya 5, berapakah luas trapesium tersebut ?

13. Tentukan nilai dari  $\left(1 - \frac{2}{3}\right)\left(1 - \frac{2}{5}\right)\left(1 - \frac{2}{7}\right)\cdots\left(1 - \frac{2}{2005}\right)$ .
14. Santi dan Tini berlari sepanjang sebuah lintasan yang berbentuk lingkaran. Keduanya mulai berlari pada saat yang sama dari titik P, tetapi mengambil arah berlawanan. Santi berlari  $1\frac{1}{2}$  kali lebih cepat daripada Tini. Jika PQ adalah garis tengah lingkaran lintasan dan keduanya berpapasan untuk pertama kalinya di titik R, berapa derajatkah besar  $\angle RPQ$  ?
15. Pada sisi-sisi SU, TS dan UT dari  $\triangle STU$  dipilih titik-titik P, Q dan R berturut-turut sehingga  $SP = \frac{1}{4} SU$ ,  $TQ = \frac{1}{2} TS$  dan  $UR = \frac{1}{3} UT$ . Jika luas segitiga STU adalah 1, berapakah luas  $\triangle PQR$  ?
16. Dua bilangan real  $x, y$  memenuhi  $\left(x + \sqrt{x^2 + 1}\right)\left(y + \sqrt{y^2 + 1}\right) = 1$ . Berapakah nilai  $x + y$  ?
17. Berapakah banyak minimal titik yang harus diambil dari sebuah persegi dengan panjang sisi 2, agar dapat dijamin senantiasa terambil dua titik yang jarak antara keduanya tidak lebih dari  $\frac{1}{2}\sqrt{2}$  ?
18. Misalkan  $f$  sebuah fungsi yang memenuhi  $f(x)f(y) - f(xy) = x + y$ , untuk setiap bilangan bulat  $x$  dan  $y$ . Berapakah nilai  $f(2004)$  ?
19. Notasi  $\text{fpb}(a, b)$  menyatakan *faktor persekutuan terbesar* dari bilangan bulat  $a$  dan  $b$ . Tiga bilangan asli  $a_1 < a_2 < a_3$  memenuhi  $\text{fpb}(a_1, a_2, a_3) = 1$ , tetapi  $\text{fpb}(a_i, a_j) > 1$  jika  $i \neq j$ ,  $i, j = 1, 2, 3$ . Tentukan  $(a_1, a_2, a_3)$  agar  $a_1 + a_2 + a_3$  minimal.
20. Didefinisikan  $a \circ b = a + b + ab$ , untuk semua bilangan bulat  $a, b$ . Kita katakan bahwa bilangan bulat  $a$  adalah *faktor* dari bilangan bulat  $c$  bilamana terdapat bilangan bulat  $b$  yang memenuhi  $a \circ b = c$ . Tentukan semua faktor positif dari 67.



# SELEKSI OLIMPIADE MATEMATIKA INDONESIA 2005

## TINGKAT PROVINSI

Bidang Matematika

Bagian Kedua

Waktu : 120 Menit



DEPARTEMEN PENDIDIKAN NASIONAL  
DIREKTORAT JENDERAL PENDIDIKAN DASAR DAN MENENGAH  
DIREKTORAT PENDIDIKAN MENENGAH UMUM  
TAHUN 2004

# OLIMPIADE MATEMATIKA TINGKAT PROVINSI TAHUN 2004

## BAGIAN KEDUA

1. Tentukan semua  $(x,y,z)$ , dengan  $x, y, z$  bilangan-bilangan real, yang memenuhi sekaligus ketiga persamaan berikut :

$$\begin{aligned}x^2 + 4 &= y^3 + 4x - z^3 \\y^2 + 4 &= z^3 + 4y - x^3 \\z^2 + 4 &= x^3 + 4z - y^3\end{aligned}$$

2. Pada segitiga ABC diberikan titik-titik D, E, dan F yang terletak berturut-turut pada sisi BC, CA dan AB sehingga garis-garis AD, BE dan CF berpotongan di titik O. Buktikan bahwa

$$\frac{AO}{AD} + \frac{BO}{BE} + \frac{CO}{CF} = 2$$

3. Beni, Coki dan Doni tinggal serumah dan belajar di sekolah yang sama. Setiap pagi ketiganya berangkat pada saat yang sama. Untuk sampai ke sekolah Beni memerlukan waktu 2 menit, Coki memerlukan waktu 4 menit, sedangkan Doni memerlukan waktu 8 menit. Selain itu tersedia sebuah sepeda yang hanya dapat dinaiki satu orang. Dengan sepeda, setiap orang memerlukan waktu hanya 1 menit.

Tunjukkan bahwa adalah mungkin bagi ketiganya untuk sampai ke sekolah dalam waktu tidak lebih dari  $2\frac{3}{4}$  menit.

4. Buktikan bahwa tidak ada bilangan asli  $m$  sehingga terdapat bilangan-bilangan bulat  $k, e$ , dengan  $e \geq 2$ , yang memenuhi  $m(m^2 + 1) = k^e$ .

5. *Titik letis* pada bidang adalah titik yang mempunyai koordinat berupa pasangan bilangan bulat. Misalkan  $P_1, P_2, P_3, P_4, P_5$  adalah lima titik letis berbeda pada bidang. Buktikan bahwa terdapat sepasang titik  $(P_i, P_j)$ ,  $i \neq j$ , demikian, sehingga ruas garis  $P_iP_j$  memuat sebuah titik letis selain  $P_i$  dan  $P_j$ .



SELEKSI OLIMPIADE MATEMATIKA INDONESIA 2005  
TINGKAT PROVINSI TAHUN 2004

*Prestasi itu diraih bukan didapat !!!*

SOLUSI SOAL

Bidang Matematika

Bagian Pertama



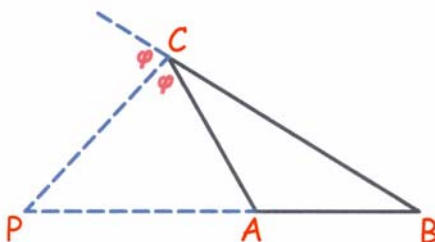
Disusun oleh : Eddy Hermanto, ST

## BAGIAN PERTAMA

1.  $\frac{1}{x} + \frac{1}{y} = 10$ . Maka  $\frac{x+y}{xy} = 10$ . Karena  $x+y = 40$  maka  $\frac{40}{xy} = 10$   
 $\therefore xy = 4$
  
2. Keadaan I :  
 Misalkan dalam 1 gelas terdapat a bagian sirup maka banyaknya bagian air adalah 4a bagian.  
 Karena dalam satu gelas terdapat a bagian sirup maka dalam satu botol sirup terdapat 60a bagian sirup. Sedangkan dalam 1 gelas terdapat 5a bagian.  
 Keadaan II :  
 Jika dalam gelas terdapat b bagian sirup, maka banyaknya bagian air adalah 5b bagian. Karena dalam satu gelas terdapat b bagian sirup maka dalam x gelas terdapat bx bagian sirup. Sedangkan dalam 1 gelas terdapat 6b bagian.  
 Dari keadaan I dan keadaan II didapat  $5a = 6b$ .  
 Misalkan dari campuran tersebut dapat dibuat x gelas, maka :  
 $bx = 60a = 12 \cdot (6b)$  sehingga  $x = 72$   
 $\therefore$  Banyaknya gelas yang diperoleh adalah 72 gelas
  
3. Misalkan penduduk Jawa tengah = JT  
 Penduduk Jawa = J  
 Penduduk Indonesia = I  
 $JT = 25\% J$   
 $JT = 15\% I$   
 $25\% J = 15\% I$   
 $J = 60\% I$   
 Karena penduduk Jawa = 60% penduduk Indonesia maka  
 $\therefore$  Penduduk Indonesia yang tinggal di luar pulau Jawa = 40%
  
4. Volume seharusnya =  $\pi r^2 t$   
 Volume perhitungan Dina =  $\pi D^2 t = 4\pi r^2 t$   
 Rasio perhitungan Dinas terhadap hasil seharusnya =  $\frac{4\pi r^2 t}{\pi r^2 t} = 4$   
 $\therefore$  Rasio perhitungan Dina terhadap hasil seharusnya = 4
  
5. \* Karena lingkaran pertama berpusat di kuadran I dan melalui titik (0,0) maka semua titik yang terletak di dalam lingkaran pertama tidak akan mungkin terletak di kuadran III.  
 \* Karena lingkaran pertama berpusat di kuadran II dan melalui titik (0,0) maka semua titik yang terletak di dalam lingkaran pertama tidak akan mungkin terletak di kuadran IV.  
 \* Karena lingkaran pertama berpusat di kuadran III dan melalui titik (0,0) maka semua titik yang terletak di dalam lingkaran pertama tidak akan mungkin terletak di kuadran I.  
 $\therefore$  Titik P hanya mungkin terletak di kuadran II.

6. Jika panjang sisi segitiga adalah  $k$  titik maka banyaknya bulatan hitam =  $2k - 1$ .  
 Pada gambar ke- $n$  panjang sisi segitiga =  $n + 2$  titik.  
 Banyaknya bulatan hitam =  $2(n + 2) - 1 = 2n + 3$   
 $\therefore$  Banyaknya bulatan hitam pada gambar ke- $n$  adalah  $2n + 3$

7. Karena CP adalah garis bagi maka berlaku  $AC : CB = PA : PB$ . Maka  $PA = \frac{3}{4}PB$



$$PB = PA + AB$$

$$\frac{4}{3}PA = PA + PB$$

$$PA = 3AB$$

$$\therefore PA : AB = 3 : 1$$

#### 8. Alternatif 1 :

- \* Untuk  $x = 0$ , maka  $y + z = 99$ .  
 Banyaknya pasangan  $(y, z)$  yang memenuhi ada 100 yaitu  $(0, 99), (1, 98), (2, 97), \dots, (99, 0)$
- \* Untuk  $x = 1$ , maka  $y + z = 98$ .  
 Banyaknya pasangan  $(y, z)$  yang memenuhi ada 99 yaitu  $(0, 98), (1, 97), (2, 96), \dots, (98, 0)$
- \* Untuk  $x = 2$ , maka  $y + z = 97$ .  
 Banyaknya pasangan  $(y, z)$  yang memenuhi ada 98 yaitu  $(0, 97), (1, 96), (2, 95), \dots, (97, 0)$
- \* Untuk  $x = 3$ , maka  $y + z = 96$ .  
 Banyaknya pasangan  $(y, z)$  yang memenuhi ada 97 yaitu  $(0, 96), (1, 95), (2, 94), \dots, (96, 0)$
- $\vdots$
- \* Untuk  $x = 99$ , maka  $y + z = 0$   
 Banyaknya pasangan  $(y, z)$  yang memenuhi ada 1 yaitu  $(0, 0)$

$$\text{Banyaknya barisan bilangan bulat } (x, y, z) \text{ yang memenuhi} = 100 + 99 + 98 + \dots + 1 = \frac{100}{2}(100 + 1)$$

$$\therefore \text{Banyaknya barisan bilangan bulat } (x, y, z) \text{ yang memenuhi persamaan } x + y + z = 99 \text{ ada } 5050.$$

#### Alternatif 2 :

Misalkan  $x_1 + x_2 + x_3 + \dots + x_n = r$  dengan  $x_i$  bulat  $\geq 0$  untuk  $i = 1, 2, \dots, n$ . Maka banyaknya pasangan  $(x_1, x_2, \dots, x_n)$  yang memenuhi adalah  $\frac{(r + (n - 1))!}{r!(n - 1)!} = {}_{r+n-1}C_{n-1}$

Diketahui  $x + y + z = 99$  dengan  $x, y, z \geq 0$  dan  $x, y, z$  bulat.

$$\text{Banyaknya tripel bilangan bulat tak negatif } (x, y, z) \text{ yang memenuhi} = \frac{101!}{99!2!} = 5050.$$

$$\therefore \text{Banyaknya barisan bilangan bulat } (x, y, z) \text{ yang memenuhi persamaan } x + y + z = 99 \text{ ada } 5050.$$

9.  $n(n-1)(2n-1) = n(n-1)(2n+2-3)$

$$= 2n(n-1)(n+1) - 3n(n-1)$$

$(n-1)$ ,  $n$ ,  $(n+1)$  adalah 3 bilangan bulat berurutan, maka  $(n-1)n(n+1)$  habis dibagi  $3! = 6$ .

$n(n-1)$  juga habis dibagi  $2! = 2$ .

Maka  $3n(n-1)$  pasti habis dibagi 6.

Akibatnya berapa pun nilai  $n$  bilangan asli akan memenuhi  $n(n-1)(2n-1)$  habis dibagi 6.

∴ Himpunan semua  $n$  asli sehingga  $n(n-1)(2n-1)$  habis dibagi 6 adalah  $\{n \mid n \in \text{bilangan asli}\}$

10. \* Jika  $x \leq 4$  maka  $|2x-8| = 8-2x$

Pertidaksamaan menjadi  $x^2 < 8-2x$

$$(x+4)(x-2) < 0$$

$$-4 < x < 2$$

Ketaksamaan di atas memenuhi syarat awal  $x \leq 4$ .

\* Jika  $x \geq 4$  maka  $|2x-8| = 2x-8$

Pertidaksamaan menjadi  $x^2 < 2x-8$

$$x^2 - 2x + 8 < 0$$

$$(x-1)^2 + 7 < 0$$

Ruas kiri adalah definit positif sehingga tidak ada penyelesaian  $x$  yang memenuhi.

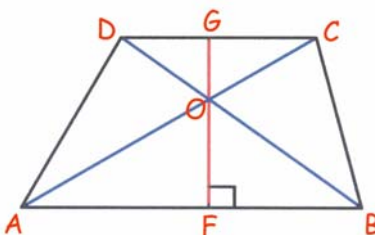
∴ Penyelesaian  $x$  yang memenuhi pertidaksamaan  $x^2 < |2x-8|$  adalah  $-4 < x < 2$

11. Banyaknya pasangan kartu yang jumlahnya 6 ada 2 yaitu (1,5) dan (2,4)

Peluang terambilnya 2 kartu yang jumlahnya nomornya 6 adalah  $\frac{2}{{}_6C_2}$

∴ Peluang terambilnya 2 kartu yang jumlah nomornya 6 adalah  $\frac{2}{15}$

12. Alternatif 1 :



Misal  $\angle ACD = \alpha$  maka  $\angle GOD = \angle CAB = \angle BOF = \alpha$

$$\sin \alpha = \frac{CE}{CA} = \frac{FG}{CA} = \frac{4}{5} \quad \dots\dots (1) \text{ sehingga } \cos \alpha = \frac{3}{5} \quad \dots\dots (2) \text{ dan } \tan \alpha = \frac{4}{3} \quad \dots\dots (3)$$

Misal  $CO = a$  dan  $GO = b$  maka  $OA = 5 - a$  dan  $OF = 4 - b$  sebab  $FG$  adalah tinggi trapesium.

$$GC = CO \cos \alpha = \frac{3}{5} a$$

$$DG = GO \tan \alpha = \frac{4}{3} b$$

$$DC = DG + GC = \frac{3}{5}a + \frac{4}{3}b \quad \dots\dots\dots (4)$$

$$AF = OA \cos \alpha = (5 - a) \frac{3}{5} = 3 - \frac{3}{5}a$$

$$FB = OF \tan \alpha = (4 - b) \frac{4}{3} = \frac{16}{3} - \frac{4}{3}b$$

$$AB = AF + FB = 3 - \frac{3}{5}a + \frac{16}{3} - \frac{4}{3}b = \frac{25}{3} - \frac{3}{5}a - \frac{4}{3}b$$

$$\text{Luas trapesium} = \frac{1}{2}(DC + AB)FG$$

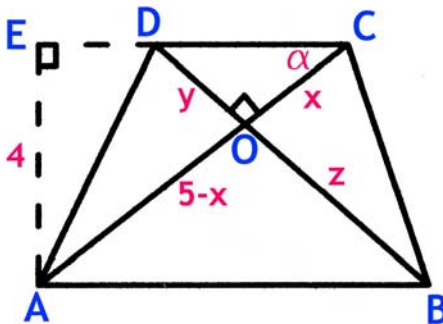
$$\text{Dari persamaan (4) dan (5) didapat luas trapesium} = \frac{1}{2} \cdot \left(\frac{25}{3}\right) \cdot 4 = \frac{50}{3}$$

$$\therefore \text{Luas trapesium} = \frac{50}{3}$$

#### Alternatif 2 :

Misalkan  $OC = x$  maka  $OA = 5 - x$

Misalkan juga  $OD = y$  dan  $OB = z$ .



Jelas bahwa  $\triangle OAB$  sebangun dengan  $\triangle OCD$  sehingga

$$\frac{5-x}{x} = \frac{z}{y} \text{ maka } \frac{y}{x} = \frac{y+z}{5} \quad \dots\dots\dots (5)$$

Misalkan juga  $\angle ACD = \alpha$  maka  $\tan \alpha = 4/3$

Karena  $AC$  tegak lurus  $BD$  maka  $\tan \alpha = y/x = 4/3 \quad \dots\dots\dots (6)$

Substitusikan persamaan (6) ke persamaan (5)

$$\text{Maka } y + z = \frac{20}{3}$$

Karena  $AC$  tegak lurus  $BD$  maka  $\text{luas trapesium} = \frac{1}{2} \cdot AC \cdot BD$

$$\text{Luas trapesium} = \frac{1}{2} \cdot 5 \cdot (y + z)$$

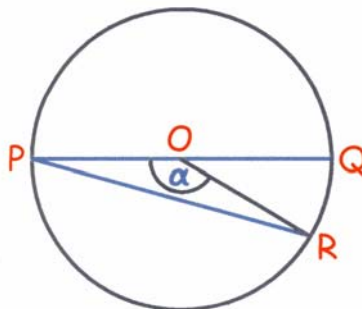
$$\text{Luas trapesium} = \frac{1}{2} \cdot 5 \cdot \frac{20}{3}$$

$$\therefore \text{Luas trapesium} = \frac{50}{3}$$

$$13. \left(1 - \frac{2}{3}\right) \left(1 - \frac{2}{5}\right) \left(1 - \frac{2}{7}\right) \cdots \left(1 - \frac{2}{2005}\right) = \frac{1}{3} \cdot \frac{3}{5} \cdot \frac{5}{7} \cdots \frac{2003}{2005}$$

$$\therefore \left(1 - \frac{2}{3}\right) \left(1 - \frac{2}{5}\right) \left(1 - \frac{2}{7}\right) \cdots \left(1 - \frac{2}{2005}\right) = \frac{1}{2005}$$

14. Karena Tini lebih lambat dari Santi maka panjang busur yang ditempuhnya akan lebih pendek dari yang ditempuh Santi.



Misal panjang busur yang ditempuh Tini =  $a$  maka panjang busur yang ditempuh Santi =  $\frac{3}{2}a$ .

$a + \frac{3}{2}a = K$  dengan  $K$  adalah keliling lingkaran.

$$a = \frac{2}{5}K$$

$$\frac{\alpha}{360^\circ} = \frac{a}{K} = \frac{2}{5}$$

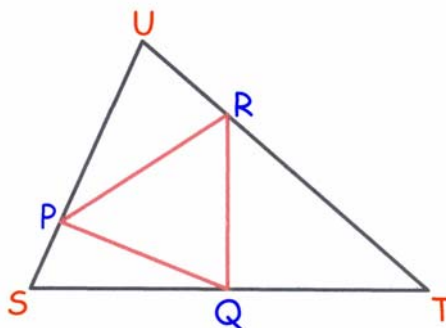
$$\alpha = 144^\circ$$

Karena  $O$  adalah pusat lingkaran maka  $\triangle OPR$  adalah segitiga sama kaki.

$$\angle RPO = \angle RPO = \frac{1}{2}(180^\circ - 144^\circ)$$

$$\therefore \angle RPQ = 18^\circ$$

15.



Misal panjang sisi  $TU = a$ ,  $SU = b$  dan  $ST = c$  serta  $\angle UST = \alpha$ ,  $\angle STU = \beta$  dan  $\angle TUS = \gamma$ , maka :

$$\text{Luas } \Delta STU = \frac{1}{2} ab \sin \gamma = \frac{1}{2} ac \sin \beta = \frac{1}{2} bc \sin \alpha = 1$$

$$\text{Luas } \Delta SPQ = \frac{1}{2} \left( \frac{1}{4} b \right) \left( \frac{1}{2} c \right) \sin \alpha = \frac{1}{8} \text{ Luas } \Delta STU = \frac{1}{8}$$

$$\text{Luas } \Delta TQR = \frac{1}{2} \left( \frac{2}{3} a \right) \left( \frac{1}{2} c \right) \sin \beta = \frac{1}{3} \text{ Luas } \Delta STU = \frac{1}{3}$$

$$\text{Luas } \Delta UPR = \frac{1}{2} \left( \frac{1}{3} a \right) \left( \frac{3}{4} b \right) \sin \gamma = \frac{1}{4} \text{ Luas } \Delta STU = \frac{1}{4}$$

$$\text{Luas } \Delta PQR = \text{Luas } \Delta STU - \text{Luas } \Delta SPQ - \text{Luas } \Delta TQR - \text{Luas } \Delta UPR = 1 - \frac{1}{8} - \frac{1}{3} - \frac{1}{4}$$

$$\therefore \text{Luas } \Delta PQR = \frac{7}{24}$$

$$16. (x + \sqrt{x^2 + 1})(y + \sqrt{y^2 + 1}) = 1$$

$$x + \sqrt{x^2 + 1} = \frac{1}{y + \sqrt{y^2 + 1}} \quad \dots\dots (1)$$

$$(x + \sqrt{x^2 + 1})(x - \sqrt{x^2 + 1})(y + \sqrt{y^2 + 1})(y - \sqrt{y^2 + 1}) = (x - \sqrt{x^2 + 1})(y - \sqrt{y^2 + 1})$$

$$(-1)(-1) = (x - \sqrt{x^2 + 1})(y - \sqrt{y^2 + 1})$$

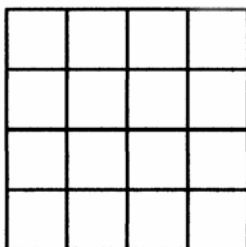
$$x - \sqrt{x^2 + 1} = \frac{1}{y - \sqrt{y^2 + 1}} \quad \dots\dots (2)$$

$$\text{Jumlahkan persamaan (1) dan (2) sehingga } 2x = \frac{1}{y + \sqrt{y^2 + 1}} + \frac{1}{y - \sqrt{y^2 + 1}} = \frac{2y}{(-1)}$$

$$-x = y$$

$$\therefore x + y = 0$$

17. Pada sebuah persegi dengan panjang sisi = a, jarak terjauh dua titik yang terletak pada persegi adalah  $a\sqrt{2}$  jika kedua titik merupakan ujung-ujung diagonal bidang persegi tersebut.



Bagi persegi dengan panjang sisi 2 tersebut menjadi 16 persegi dengan panjang sisi masing-masing  $= \frac{1}{2}$  sehingga jarak terjauh 2 titik yang terletak pada masing-masing persegi adalah

$$\frac{1}{2}\sqrt{2}.$$

Jika terdapat 16 titik, maka titik-titik tersebut masih dapat didistribusikan masing-masing 1 titik yang terletak di dalam persegi kecil sehingga masih belum dapat dijamin senantiasa terambil dua titik yang jarak antara keduanya  $\frac{1}{2}\sqrt{2}$ . Jika terdapat 17 titik maka sesuai *Pigeon Hole Principle* maka sekurang-kurangnya ada satu persegi kecil berisi sekurang-kurangnya 2 titik sehingga dapat dijamin senantiasa terambil dua titik yang jarak antara keduanya  $\frac{1}{2}\sqrt{2}$ .

∴ Jumlah minimal titik yang harus diambil dari dalam sebuah persegi dengan panjang sisi 2 agar dapat dijamin senantiasa terambil 2 titik yang jarak antara keduanya  $\frac{1}{2}\sqrt{2}$  adalah 17.

18.  $f(x)f(y) - f(xy) = x + y$

\* Jika  $x = 0$  dan  $y = 0$ , maka  $f(0)f(0) - f(0) = 0$

$f(0)(f(0) - 1) = 0$ . Maka  $f(0) = 0$  atau  $f(0) = 1$

\* Jika  $x = 1$  dan  $y = 0$ , maka  $f(1)f(0) - f(0) = 1$

• Jika  $f(0) = 0$ , maka  $0 = 1$  yang berarti tidak mungkin  $f(0) = 0$  maka  $f(0) = 1$

• Untuk  $f(0) = 1$  maka  $f(1) - 1 = 1$  sehingga  $f(1) = 2$

\* Jika  $x = 2004$  dan  $y = 1$  maka  $f(2004)f(1) - f(2004) = 2005$

$$2f(2004) - f(2004) = 2005 \text{ sehingga } f(2004) = 2005$$

\* Jika  $x = 2004$  dan  $y = 0$  maka  $f(2004)f(0) - f(0) = 2004$

$$f(2004) - 1 = 2004 \text{ sehingga } f(2004) = 2005$$

$$\therefore f(2004) = 2005$$

19.  $\text{fpb}(a_1, a_2, a_3) = 1$ .

Karena  $\text{fpb}(a_i, a_j) > 1$  untuk  $i \neq j$ ,  $i, j = 1, 2, 3$  maka  $a_i$  dan  $a_j$  untuk  $i \neq j$ ,  $i, j = 1, 2, 3$  tidak saling prima relatif. Misalkan  $\text{fpb}(a_1, a_2) = q$ ,  $\text{fpb}(a_1, a_3) = p$  dan  $\text{fpb}(a_2, a_3) = r$  dengan  $p, q, r > 1$ .

Maka  $a_i$  dengan  $i = 1, 2, 3$  akan berbentuk :

$$a_1 = pq$$

$$a_2 = qr$$

$$a_3 = pr$$

$p$  dan  $q$ ,  $q$  dan  $r$ ,  $p$  dan  $r$  masing-masing saling prima relatif.

3 bilangan terkecil ( $p, q, r$ ) yang memenuhi adalah  $(2, 3, 5)$  sehingga  $a_1 = 2 \cdot 3 = 6$ ,  $a_2 = 2 \cdot 5 = 10$  dan  $a_3 = 3 \cdot 5 = 15$ .

∴ Agar  $a_1 + a_2 + a_3$  minimal maka  $(a_1, a_2, a_3) = (6, 10, 15)$

20.  $a \circ b = a + b + ab$

$$c = a + b + ab$$

$$67 = a + b + ab$$

$$67 = (a + 1)(b + 1) - 1$$



$$(a + 1)(b + 1) = 68$$

Faktor yang sebenarnya dari 68 adalah 1, 2, 4, 17, 34 dan 68

Jika  $a + 1 = 1$  maka  $a = 0$

Jika  $a + 1 = 2$  maka  $a = 1$

Jika  $a + 1 = 4$  maka  $a = 3$

Jika  $a + 1 = 17$  maka  $a = 16$

Jika  $a + 1 = 34$  maka  $a = 33$

Jika  $a + 1 = 68$  maka  $a = 67$

$\therefore$  faktor positif dari 67 adalah 1, 3, 16, 33 dan 67

**SELEKSI OLIMPIADE MATEMATIKA INDONESIA 2005**  
**TINGKAT PROVINSI TAHUN 2004**

*Prestasi itu diraih bukan didapat !!!*

**SOLUSI SOAL**

**Bidang Matematika**

**Bagian Kedua**

Disusun oleh : Eddy Hermanto, ST



## BAGIAN KEDUA

$$1. \quad x^2 + 4 = y^3 + 4x - z^3 \quad \dots\dots\dots (1)$$

$$y^2 + 4 = z^3 + 4y - x^3 \quad \dots\dots\dots (2)$$

$$z^2 + 4 = x^3 + 4z - y^3 \quad \dots\dots\dots (3)$$

$$\begin{aligned} \text{Jumlahkan (1) + (2) + (3) sehingga} \quad & x^2 + 4 + y^2 + 4 + z^2 + 4 = 4x + 4y + 4z \\ & (x^2 - 4x + 4) + (y^2 - 4y + 4) + (z^2 - 4z + 4) = 0 \\ & (x - 2)^2 + (y - 2)^2 + (z - 2)^2 = 0 \end{aligned}$$

Karena persamaan kuadrat tidak mungkin negatif, maka persamaan di atas hanya dipenuhi jika :

$$x - 2 = 0 \quad ; \quad y - 2 = 0 \quad \text{dan} \quad z - 2 = 0$$

Didapat  $x = 2$  ;  $y = 2$  dan  $z = 2$ . Substitusikan hasil ini ke persamaan (1), (2) dan (3)

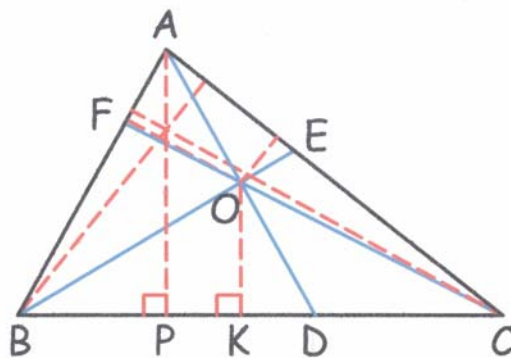
$$\text{Persamaan (1), } (2)^2 + 4 = (2)^3 + 4(2) - (2)^3. \text{ Memenuhi } 8 = 8$$

$$\text{Persamaan (2), } (2)^2 + 4 = (2)^3 + 4(2) - (2)^3. \text{ Memenuhi } 8 = 8$$

$$\text{Persamaan (3), } (2)^2 + 4 = (2)^3 + 4(2) - (2)^3. \text{ Memenuhi } 8 = 8$$

$\therefore (x, y, z)$  yang memenuhi adalah  $(2, 2, 2)$

2. Dibuat garis tinggi pada segitiga ABC dan segitiga BOC yang masing-masing ditarik dari titik A dan O. Garis tinggi ini masing-masing memotong sisi BC di titik P dan K.



$$\text{Luas } \triangle ABC = \frac{1}{2} (BC)(AP) \quad \text{dan} \quad \text{Luas } \triangle BOC = \frac{1}{2} (BC)(OK)$$

$$\frac{\text{Luas } \triangle BOC}{\text{Luas } \triangle ABC} = \frac{OK}{AP} \quad \dots\dots\dots (1)$$

$$\triangle ADP \text{ sebangun dengan } \triangle DOK \text{ sehingga } \frac{OD}{AD} = \frac{OK}{AP} \quad \dots\dots\dots (2)$$

$$\text{Dari (1) dan (2) didapat } \frac{\text{Luas } \triangle BOC}{\text{Luas } \triangle ABC} = \frac{OD}{AD} \quad \dots\dots\dots (3)$$

$$\text{Dengan cara yang sama didapat } \frac{\text{Luas } \triangle AOC}{\text{Luas } \triangle ABC} = \frac{OE}{BE} \quad \dots\dots (4) \quad \text{dan} \quad \frac{\text{Luas } \triangle AOB}{\text{Luas } \triangle ABC} = \frac{OF}{CF} \quad \dots\dots (5)$$

$$\text{Luas } \triangle BOC + \text{Luas } \triangle AOC + \text{Luas } \triangle AOB = \text{Luas } \triangle ABC$$

$$\frac{\text{Luas } \triangle BOC}{\text{Luas } \triangle ABC} + \frac{\text{Luas } \triangle AOC}{\text{Luas } \triangle ABC} + \frac{\text{Luas } \triangle AOB}{\text{Luas } \triangle ABC} = 1$$

$$\frac{OD}{AD} + \frac{OE}{BE} + \frac{OF}{CF} = 1$$

$$1 - \frac{OA}{AD} + 1 - \frac{OB}{BE} + 1 - \frac{OC}{CF} = 1 \text{ sehingga } \frac{OA}{AD} + \frac{OB}{BE} + \frac{OC}{CF} = 2$$

$$\therefore \text{ Terbukti bahwa } \frac{OA}{AD} + \frac{OB}{BE} + \frac{OC}{CF} = 2$$

3. Misal jarak dari rumah mereka ke sekolah = S

Untuk Doni :

Misalkan agar waktu yang diperlukan Doni adalah  $2\frac{3}{4}$  menit maka ia harus naik sepeda sejauh X dan sisanya dengan jalan kaki dengan catatan bahwa Doni tidak pernah istirahat atau bergerak mundur.

$$\frac{X}{S} + \frac{(S - X)8}{S} = \frac{11}{4}. \text{ Maka } 4X + 32S - 32X = 11S \text{ sehingga } X = \frac{3}{4}S$$

Untuk Coki :

Misalkan agar waktu yang diperlukan Coki adalah  $2\frac{3}{4}$  menit maka ia harus naik sepeda sejauh Y dan sisanya dengan jalan kaki dengan catatan bahwa Coki tidak pernah istirahat atau bergerak mundur.

$$\frac{Y}{S} + \frac{(S - Y)4}{S} = \frac{11}{4}. \text{ Maka } 4Y + 16S - 16Y = 11S \text{ sehingga } Y = \frac{5}{12}S$$

Karena  $\frac{3}{4}S + \frac{5}{12}S = 1\frac{1}{6}S$  maka berarti sepeda harus dimundurkan dalam perjalanannya.

*Alternatif 1:*

Doni naik sepeda sejauh  $\frac{3}{4}S$  lalu melanjutkan perjalanan dengan jalan kaki. Maka ia akan sampai dalam waktu  $\frac{3}{4} \cdot 1 + \frac{1}{4} \cdot 8 = 2\frac{3}{4}$  menit.

Beni akan sampai di tempat di mana sepeda ditinggalkan dalam waktu  $1\frac{1}{2}$  menit. Agar Coki juga dapat sampai di sekolah dalam waktu  $2\frac{3}{4}$  menit maka Beni harus memundurkan sepedanya menuju ke arah rumahnya. Anggap Beni memundurkan sepedanya sejauh Z dari tempat di mana sepeda tersebut ditemukan olehnya.

*Alternatif 1a :*

Jika yang diinginkan adalah Beni yang mencapai sekolah dalam waktu  $2\frac{3}{4}$  menit maka :

$$\frac{3}{4} \cdot 2 + \frac{Z}{S} + \frac{(Z + 0,25S)}{S} \cdot 2 = \frac{11}{4}. \text{ Maka } 4Z + 8Z + 2S = 5S \text{ sehingga } Z = \frac{1}{4}S. \text{ Artinya}$$

posisi sepeda kini berada di tengah-tengah antara rumah dan sekolah. Waktu yang

diperlukan sampai dengan sepeda sampai di tempat tersebut adalah  $\left(1\frac{1}{2} + \frac{1}{4}\right)$  menit =  $1\frac{3}{4}$  menit. Waktu yang diperlukan Coki untuk mencapai pertengahan rumah dan sekolah adalah 2 menit  $> 1\frac{3}{4}$  menit. Artinya ketika ia mencapai tempat tersebut, sepeda telah berada di sana.

Waktu yang diperlukan Coki untuk mencapai sekolah adalah  $2 + \frac{1}{2} \cdot 1 = 2\frac{1}{2} < 2\frac{3}{4}$  menit.

∴ Waktu yang diperlukan oleh Beni =  $2\frac{3}{4}$  menit ; Coki =  $2\frac{1}{2}$  menit ; Doni =  $2\frac{3}{4}$  menit.

*Alternatif 1b :*

Jika yang diinginkan adalah Coki yang mencapai sekolah dalam waktu  $2\frac{3}{4}$  menit maka sesuai dengan hitungan sebelumnya, sepeda harus ditaruh pada  $\frac{5}{12}$  S dihitung dari sekolah atau  $\left(\frac{5}{12} - \frac{1}{4}\right) = \frac{1}{6}$  S dihitung dari tempat dimana sepeda ditemukan oleh Beni.

Waktu yang diperlukan Beni untuk mencapai sekolah adalah  $\frac{3}{4} \cdot 2 + \frac{1}{6} \cdot 1 + \frac{5}{12} \cdot 2 = 2\frac{1}{2} < 2\frac{3}{4}$  menit.

∴ Waktu yang diperlukan oleh Beni =  $2\frac{1}{2}$  menit ; Coki =  $2\frac{3}{4}$  menit ; Doni =  $2\frac{3}{4}$  menit.

*Alternatif 2 :*

Coki naik sepeda sejauh  $\frac{1}{2}$  S dan melanjutkan perjalanannya dengan jalan kaki. Waktu yang

diperlukan untuk mencapai sekolah adalah  $\frac{1}{2} \cdot 1 + \frac{1}{2} \cdot 4 = 2\frac{1}{2} < 2\frac{3}{4}$  menit

Beni akan mencapai pertengahan jarak terlebih dulu. Agar Doni dapat mencapai sekolah dalam waktu  $2\frac{3}{4}$  menit maka Beni harus memundurkan sepedanya sejauh  $\frac{1}{4}$  S. Waktu yang

diperlukan agar sepeda sampai pada jarak  $\frac{1}{4}$  S dari rumah adalah  $\frac{1}{2} \cdot 1 + \frac{1}{4} \cdot 1 = \frac{3}{4}$  menit.

Waktu yang diperlukan Doni untuk mencapai jarak ini adalah  $\frac{1}{4} \cdot 8 = 2$  menit  $> \frac{3}{4}$  menit.

Artinya sepeda telah berada di sana saat Doni mencapai tempat tersebut.

Waktu yang diperlukan Beni untuk mencapai sekolah adalah  $\frac{1}{2} \cdot 2 + \frac{1}{4} \cdot 1 + \frac{3}{4} \cdot 2 = 2\frac{3}{4}$  menit.

∴ Waktu yang diperlukan oleh Beni =  $2\frac{3}{4}$  menit ; Coki =  $2\frac{1}{2}$  menit ; Doni =  $2\frac{3}{4}$  menit

4. Anggap terdapat persamaan yang memenuhi  $m(m^2 + 1) = k^e$  dengan  $k$  dan  $e$  bulat dan  $e > 2$ .  
 Jika ada  $m$  bilangan asli yang memenuhi, maka ruas kiri  $\geq 2$  yang berarti  $k \geq 2$  ..... (1)  
 Karena persamaan berbentuk  $ab = c^d$  dengan  $a, b, c, d \in \text{Asli}$ , maka  $a$  membagi  $c$  atau  $c$  membagi  $a$ .

#### Alternatif 1 :

- \* Jika  $k$  membagi  $m$   
 maka  $m = p \cdot k^q$  dengan  $p$  bukan kelipatan  $k$  dan  $q \in \text{bilangan bulat}$  dan  $p \in \text{bilangan asli}$ .  
 Persamaan menjadi  $p^3 k^{3q} + p k^q = k^e$  sehingga  $p^3 k^{2q} + p = k^{e-q}$  ..... (2)
    - Jika  $e > q$   
 Ruas kanan persamaan (2) adalah sebuah bilangan yang habis dibagi  $k$  sedangkan ruas kiri adalah sebuah bilangan yang bersisa  $p$  jika dibagi  $k$  dengan  $p$  bukan bilangan kelipatan  $k$ .  
 Maka tanda kesamaan tidak akan mungkin terjadi.
    - Jika  $e \leq q$   
 Ruas kanan persamaan (2) bernilai  $\leq 1$   
 Karena  $p \geq 1$  dan  $k \geq 2$  maka  $p^3 k^{2q} + p \geq 3$  yang berarti tidak ada nilai  $p$  dan  $k$  yang memenuhi.  
 Maka tidak ada nilai  $m \in \text{bilangan asli}$  yang memenuhi  $m(m^2 + 1) = k^e$  dengan  $k$  membagi  $m$ .
  - \* Jika  $m$  membagi  $k$   
 maka  $k = rm$  dengan  $r \in \text{bilangan asli}$  sebab  $k \geq 2$   
 Persamaan akan menjadi  $m(m^2 + 1) = r^e m^e$  sehingga  $m + \frac{1}{m} = r^e m^{e-2}$  ..... (3)
    - Jika  $m = 1$   
 Persamaan (3) menjadi  $2 = r^e$ . Karena  $2 = 2^1$  maka persamaan hanya akan dipenuhi jika  $r = 2$  dan  $e = 1$  yang tidak memenuhi syarat bahwa  $e \geq 2$ .
    - Jika  $m > 1$   
 Ruas kiri persamaan (3) bukan merupakan bilangan bulat sedangkan ruas kanan merupakan bilangan bulat sebab  $e \geq 2$ .  
 Maka tidak ada nilai  $m \in \text{bilangan asli}$  yang memenuhi  $m(m^2 + 1) = k^e$  dengan  $m$  membagi  $k$ .
- $\therefore$  Terbukti bahwa tidak ada bilangan asli  $m$  sehingga terdapat bilangan-bilangan bulat  $k, e$ , dengan  $e \geq 2$ , yang memenuhi  $m(m^2 + 1) = k^e$

#### Alternatif 2 :

- FPB ( $m, m^2 + 1$ ) = FPB( $m, 1$ ) = 1 yang artinya  $m$  dan  $m^2 + 1$  relatif prima.  
 Jadi, persamaan  $m(m^2 + 1) = k^e$  hanya akan terpenuhi jika  $m$  dan  $m^2 + 1$  memiliki pangkat yang sama.  
 Misalkan  $m = a^e$  dan  $m^2 + 1 = b^e = a^{2e} + 1$ .  
 Karena  $(a^2 + 1)^e = {}_e C_0 a^{2e} + {}_e C_1 a^{2(e-1)} + \dots + {}_e C_e 1^e = a^{2e} + e \cdot a^{2(e-1)} + \dots + 1 > a^{2e} + 1 = m^2 + 1$  maka  $(a^2)^e < m^2 + 1 = (a^2)^e + 1 < (a^2 + 1)^e$   
 Dari ketaksamaan di atas didapat  $m^2 + 1$  terletak di antara dua bilangan asli berurutan berpangkat  $e$ . Maka tidak mungkin  $m^2 + 1$  berbentuk  $b^e$ .  
 $\therefore$  Terbukti bahwa tidak ada bilangan asli  $m$  sehingga terdapat bilangan-bilangan bulat  $k, e$ , dengan  $e \geq 2$ , yang memenuhi  $m(m^2 + 1) = k^e$

5. Misal  $x_{ij}$  adalah jarak titik  $P_i$  dan  $P_j$  dalam arah sumbu X dan Misal  $y_{ij}$  adalah jarak titik  $P_i$  dan  $P_j$  dalam arah sumbu Y.

Jika  $x_{ij}$  dan  $y_{ij}$  keduanya genap, maka dapat dipastikan bahwa sekurang-kurangnya satu titik letis selain titik  $P_i$  dan  $P_j$  akan terletak pada ruas garis  $P_iP_j$ , yaitu pada pertengahan ruas garis  $P_iP_j$

yang akan berjarak  $\frac{1}{2}x_{ij}$  pada arah sumbu X dan  $\frac{1}{2}y_{ij}$  pada arah sumbu Y terhadap titik  $P_i$

maupun  $P_j$  dengan  $\frac{1}{2}x_{ij}$  dan  $\frac{1}{2}y_{ij}$  adalah juga bilangan bulat.

Sifat penjumlahan berikut juga akan membantu menjelaskan :

Bilangan Genap – Bilangan Genap = Bilangan Genap

Bilangan Ganjil – Bilangan Ganjil = Bilangan Genap.

Kemungkinan jenis koordinat (dalam bahasa lain disebut paritas) suatu titik letis pada bidang hanya ada 4 kemungkinan yaitu (genap,genap), (genap,ganjil), (ganjil,ganjil) dan (ganjil,genap).

Jika 2 titik letis mempunyai paritas yang sama maka sesuai sifat penjumlahan maka dapat dipastikan kedua titik letis memiliki jarak mendatar dan jarak vertikal merupakan bilangan genap yang berarti koordinat titik tengah dari garis yang menghubungkan kedua titik letis tersebut juga merupakan bilangan genap.

Karena ada 5 titik letis sedangkan hanya ada 4 paritas titik letis maka sesuai *Pigeon Hole Principle* (PHP) maka dapat dipastikan sekurang-kurangnya ada dua titik letis yang memiliki paritas yang sama.

- ∴ Dari penjelasan di atas dapat dibuktikan bahwa jika  $P_1, P_2, P_3, P_4, P_5$  adalah lima titik letis berbeda pada bidang maka terdapat sepasang titik  $(P_i, P_j)$ ,  $i \neq j$ , demikian, sehingga ruas garis  $P_iP_j$  memuat sebuah titik letis selain  $P_i$  dan  $P_j$ .



**SELEKSI TIM OLIMPIADE MATEMATIKA INDONESIA 2005**  
**OLIMPIADE SAINS NASIONAL 2004**  
**PEKAN BARU (RIAU), 24 - 29 AGUSTUS 2004**

**Bidang Matematika**

**Hari Pertama**

**Waktu : 180 Menit**



**DEPARTEMEN PENDIDIKAN NASIONAL**  
**DIREKTORAT JENDERAL PENDIDIKAN DASAR DAN MENENGAH**  
**DIREKTORAT PENDIDIKAN MENENGAH UMUM**  
**TAHUN 2004**





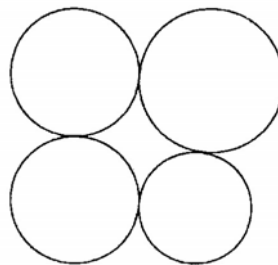
**OLIMPIADE SAINS NASIONAL 2004**  
**24 - 29 AGUSTUS 2004**  
**PEKAN BARU, RIAU**

**BIDANG : MATEMATIKA**

**HARI PERTAMA**

**WAKTU : 180 MENIT**

1. Berapa banyaknya pembagi genap dan pembagi ganjil dari  $5^6 - 1$  ?
2. Sebuah bak bila diisi dengan keran air dingin akan penuh dalam 14 menit. Untuk mengosongkan bak yang penuh dengan membuka lubang pada dasar bak, air akan keluar semua dalam waktu 21 menit. Jika keran air dingin dan air panas dibuka bersamaan dan lubang pada dasar bak dibuka, bak akan penuh dalam 12,6 menit. Maka berapa lamakah waktu yang diperlukan untuk memenuhi bak hanya dengan keran air panas dan lubang pada dasar bak ditutup ?
3.  $1 * 2 * 3 * 4 * 5 * 6 * 7 * 8 * 9 * 10$   
Berapa carakah untuk menyusun deretan tersebut dengan mengganti mengganti tanda ekspresi "\*" dengan tanda "+" atau "-" sehingga jumlahnya menjadi 29 ?
4. Lingkaran yang berbeda bentuk disusun sebagai berikut :



Buktikan bahwa ada lingkaran yang melewati keempat titik singgung keempat lingkaran.



**SELEKSI TIM OLIMPIADE MATEMATIKA INDONESIA 2005**  
**OLIMPIADE SAINS NASIONAL 2004**  
**PEKAN BARU (RIAU), 24 - 29 AGUSTUS 2004**

**Bidang Matematika**

**Hari Kedua**

**Waktu : 180 Menit**



**DEPARTEMEN PENDIDIKAN NASIONAL**  
**DIREKTORAT JENDERAL PENDIDIKAN DASAR DAN MENENGAH**  
**DIREKTORAT PENDIDIKAN MENENGAH UMUM**  
**TAHUN 2004**



OLIMPIADE SAINS NASIONAL 2004  
24 - 29 AGUSTUS 2004  
PEKAN BARU, RIAU

**BIDANG : MATEMATIKA**

**HARI KEDUA**

**WAKTU : 180 MENIT**

5.  $x_1 + 4x_2 + 9x_3 + 16x_4 + 25x_5 + 36x_6 + 49x_7 = 1$   
 $4x_1 + 9x_2 + 16x_3 + 25x_4 + 36x_5 + 49x_6 + 64x_7 = 12$   
 $9x_1 + 16x_2 + 25x_3 + 36x_4 + 49x_5 + 64x_6 + 81x_7 = 123$   
Berapakah nilai S jika  
 $S = 16x_1 + 25x_2 + 36x_3 + 49x_4 + 64x_5 + 81x_6 + 100x_7$
6. Persamaan kuadrat  $x^2 + ax + b + 1 = 0$  dengan  $a, b$  adalah bilangan bulat, memiliki akar-akar bilangan asli. Buktikan bahwa  $a^2 + b^2$  bukan bilangan prima.
7. Buktikan bahwa suatu segitiga ABC siku-siku di C dengan  $a$  menyatakan sisi dihadapan sudut A,  $b$  menyatakan sisi di hadapan sudut B,  $c$  menyatakan sisi di hadapan sudut C memiliki diameter lingkaran dalam  $= a + b - c$ .
8. Sebuah lantai berluas  $3 \text{ m}^2$  akan ditutupi oleh karpet dengan bermacam bentuk sebanyak 5 buah dengan ukuran  $@ 1 \text{ m}^2$ . Tunjukkan bahwa ada 2 karpet yang tumpang tindih dengan luasan tumpang tindih lebih dari  $1/5 \text{ m}^2$ .

**SELEKSI TIM OLIMPIADE MATEMATIKA INDONESIA 2005**  
**OLIMPIADE SAINS NASIONAL 2004**  
**PEKAN BARU (RIAU), 24 - 29 AGUSTUS 2004**

*Prestasi itu diraih bukan didapat !!!*

**SOLUSI SOAL**

**Bidang Matematika**



**Disusun oleh : Eddy Hermanto, ST**

$$1. \quad 5^6 - 1 = (5^3 + 1)(5^3 - 1) = 126 \cdot 124$$

$$5^6 - 1 = 2 \cdot 3^2 \cdot 7 \cdot 2^2 \cdot 31$$

$$5^6 - 1 = 2^3 \cdot 3^2 \cdot 7 \cdot 31$$

Misalkan  $M = p_1^{d_1} \cdot p_2^{d_2} \cdot p_3^{d_3} \cdot \dots \cdot p_n^{d_n}$  dengan  $p_1, p_2, p_3, \dots, p_n$  adalah bilangan prima maka banyaknya pembagi positif dari  $M$  adalah  $(d_1 + 1)(d_2 + 1)(d_3 + 1) \dots (d_n + 1)$

Banyaknya pembagi (disebut juga faktor) dari  $5^6 - 1$  adalah  $(3 + 1)(2 + 1)(1 + 1)(1 + 1) = 48$

Misal  $K = 3^2 \cdot 7 \cdot 31$ . Mengingat bahwa bilangan ganjil hanya didapat dari perkalian bilangan ganjil maka semua pembagi dari  $K$  pasti ganjil.

Banyaknya pembagi dari  $K$  adalah  $(2 + 1)(1 + 1)(1 + 1) = 12$

Banyaknya pembagi dari  $K$  sama dengan banyaknya pembagi ganjil dari  $5^6 - 1$

$\therefore$  Banyaknya pembagi ganjil dari  $5^6 - 1$  adalah 12.

Banyaknya pembagi genap dari  $5^6 - 1$  adalah  $48 - 12 = 36$

(Catatan : Ke-48 pembagi  $5^6 - 1$  adalah : 1, 2, 3, 4, 6, 7, 8, 9, 12, 14, 18, 21, 24, 28, 31, 36, 42, 56, 62, 63, 72, 84, 93, 124, 126, 168, 186, 217, 248, 252, 279, 372, 434, 504, 558, 651, 744, 868, 1116, 1302, 1736, 1953, 2232, 2604, 3906, 5208, 7812, 15624)

2. Misalkan  $v_d$  = kelajuan air keluar dari keran air dingin

$v_p$  = kelajuan air keluar dari keran air panas

$v_b$  = kelajuan air keluar dari lubang di dasar bak

$X$  = volume bak

$$v_d = \frac{X}{14}$$

$$v_b = \frac{X}{21}$$

$$v_d + v_p - v_b = \frac{X}{12,6}$$

Dari ketiga persamaan di atas didapat :

$$\frac{X}{14} + v_p - \frac{X}{21} = \frac{5X}{63}$$

$$v_p = \frac{X}{7} \left( \frac{5}{9} + \frac{1}{3} - \frac{1}{2} \right)$$

$$v_p = \frac{X}{18}$$

$\therefore$  Waktu yang diperlukan untuk memenuhi bak hanya dengan keran air panas dan lubang pada dasar bak ditutup adalah 18 menit

3. Misalkan  $S = 1 + 2 + 3 + 4 + 5 + 6 + 7 + 8 + 9 + 10 = 55$

Jika  $+k$  kita ganti dengan  $-k$  maka  $S$  akan berkurang sebanyak  $2k$ .

Karena  $55 - 29 = 26$  maka bilangan yang bertanda “-” harus berjumlah 13.

Jika ada 4 bilangan yang bertanda “-” maka jumlah minimum bilangan tersebut  $= 2 + 3 + 4 + 5 = 14 > 13$ . Maka banyaknya bilangan yang bertanda “-” harus kurang dari 4.

- Untuk 2 bilangan yang bertanda “-” maka pasangan yang mungkin adalah  $(3,10)$ ,  $(4,9)$ ,  $(5,8)$ ,  $(6,7)$ .
- Untuk 3 bilangan yang bertanda “-” maka tripel yang mungkin adalah  $(2,3,8)$ ,  $(2,4,7)$ ,  $(2,5,6)$ ,  $(3,4,6)$

∴ Banyaknya kemungkinan seluruhnya ada 8.

(Catatan : Ke-8 kemungkinan tersebut adalah :

$$1 + 2 - 3 + 4 + 5 + 6 + 7 + 8 + 9 - 10$$

$$1 - 2 - 3 + 4 + 5 + 6 + 7 - 8 + 9 + 10$$

$$1 + 2 + 3 - 4 + 5 + 6 + 7 + 8 - 9 + 10$$

$$1 - 2 + 3 - 4 + 5 + 6 - 7 + 8 + 9 + 10$$

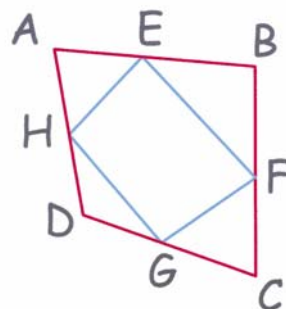
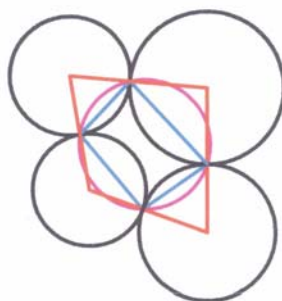
$$1 + 2 + 3 + 4 - 5 + 6 + 7 - 8 + 9 + 10$$

$$1 - 2 + 3 + 4 - 5 - 6 + 7 + 8 + 9 + 10$$

$$1 + 2 + 3 + 4 + 5 - 6 - 7 + 8 + 9 + 10$$

$$1 + 2 - 3 - 4 + 5 - 6 + 7 + 8 + 9 + 10$$

4. Misalkan A, B, C dan D adalah keempat pusat lingkaran dan E, F, G dan H adalah titik singgung keempat lingkaran. Maka persoalan tersebut dapat digambarkan sebagai berikut :



$\triangle AEH$ ,  $\triangle BEF$ ,  $\triangle CFG$  dan  $\triangle DGH$  semuanya adalah segitiga sama kaki.

Misalkan  $\angle A$  menyatakan  $\angle DAC$

$\angle B$  menyatakan  $\angle ABC$

$\angle C$  menyatakan  $\angle BCD$

$\angle D$  menyatakan  $\angle CDA$

$$\angle EHA = \angle AEH = 90^\circ - \frac{1}{2} \angle A$$

$$\angle BEF = \angle BFE = 90^\circ - \frac{1}{2} \angle B$$

$$\angle CFG = \angle CGF = 90^\circ - \frac{1}{2} \angle C$$

$$\angle D = 360^\circ - \angle A - \angle B - \angle C$$

$$\angle DGH = \angle DHG = \frac{1}{2} (180^\circ - (360^\circ - \angle A - \angle B - \angle C)) = \frac{1}{2} (\angle A + \angle B + \angle C) - 90^\circ$$

$$\angle HEF = 180^\circ - \angle AEH - \angle BEF = \frac{1}{2} (\angle A + \angle B)$$

$$\angle HGF = 180^\circ - \angle DGH - \angle CGF = 180^\circ - \frac{1}{2} (\angle A + \angle B)$$

$$\angle HEF + \angle HGF = 180^\circ$$

Karena  $\angle HEF + \angle HGF = 180^\circ$  maka segiempat EFGH adalah segiempat tali busur yang berarti titik E, F, G, dan H terletak pada satu lingkaran.

∴ Terbukti bahwa ada lingkaran yang melewati keempat titik singgung keempat lingkaran.

5.  $x_1 + 4x_2 + 9x_3 + 16x_4 + 25x_5 + 36x_6 + 49x_7 = 1$  ..... (1)  
 $4x_1 + 9x_2 + 16x_3 + 25x_4 + 36x_5 + 49x_6 + 64x_7 = 12$  ..... (2)  
 $9x_1 + 16x_2 + 25x_3 + 36x_4 + 49x_5 + 64x_6 + 81x_7 = 123$  ..... (3)  
 Kurangkan (2) dengan (1),  $3x_1 + 5x_2 + 7x_3 + 9x_4 + 11x_5 + 13x_6 + 15x_7 = 11$  ..... (4)  
 Kurangkan (3) dengan (2),  $5x_1 + 7x_2 + 9x_3 + 11x_4 + 13x_5 + 15x_6 + 17x_7 = 111$  ..... (5)  
 Kurangkan (5) dengan (4),  $2x_1 + 2x_2 + 2x_3 + 2x_4 + 2x_5 + 2x_6 + 2x_7 = 100$  ..... (6)  
 Jumlahkan (5) dengan (6),  $7x_1 + 9x_2 + 11x_3 + 13x_4 + 15x_5 + 17x_6 + 19x_7 = 211$  ..... (7)  
 Jumlahkan (3) dengan (7),  $16x_1 + 25x_2 + 36x_3 + 49x_4 + 64x_5 + 81x_6 + 100x_7 = 334$   
 $\therefore 16x_1 + 25x_2 + 36x_3 + 49x_4 + 64x_5 + 81x_6 + 100x_7 = 334$

6. Misalkan  $x_1$  dan  $x_2$  adalah akar-akar persamaan  $x^2 + ax + b + 1 = 0$  maka :

$$x_1 + x_2 = -a$$

$$x_1 x_2 = b + 1$$

$$b = x_1 x_2 - 1$$

$$a^2 + b^2 = (x_1 + x_2)^2 + (x_1 x_2 - 1)^2$$

$$a^2 + b^2 = x_1^2 + x_2^2 + 2x_1 x_2 + (x_1 x_2)^2 - 2x_1 x_2 + 1$$

$$a^2 + b^2 = (x_1 x_2)^2 + x_1^2 + x_2^2 + 1$$

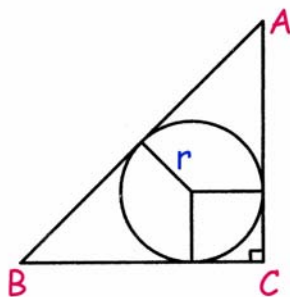
$$a^2 + b^2 = (x_1^2 + 1)(x_2^2 + 1)$$

Karena  $x_1$  dan  $x_2$  keduanya adalah bilangan asli maka  $(x_1^2 + 1)$  dan  $(x_2^2 + 1)$  keduanya adalah bilangan asli lebih dari 1.

Maka  $a^2 + b^2$  adalah perkalian dua bilangan asli masing-masing  $> 1$  yang mengakibatkan  $a^2 + b^2$  adalah bukan bilangan prima.

$\therefore$  Terbukti  $a^2 + b^2$  bukan bilangan prima.

7. Misalkan  $d$  adalah diameter lingkaran dalam segitiga dan  $r$  adalah jejari lingkaran dalam maka :  
 Alternatif 1 :



$$\frac{1}{2} r (a + b + c) = \text{Luas segitiga}$$

$$d (a + b + c) = 4 \cdot \text{Luas segitiga}$$

$$d (a + b + c) = 2ab$$

$$d (a + b + c) = (a + b)^2 - (a^2 + b^2)$$

Karena ABC adalah segitiga siku-siku di C maka :

$$d (a + b + c) = (a + b)^2 - c^2$$

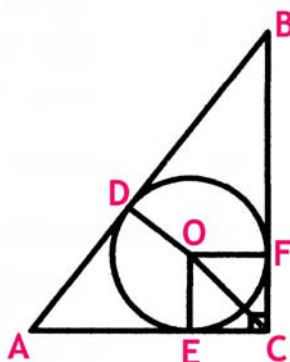
$$d (a + b + c) = (a + b + c) (a + b - c)$$

$$d = a + b - c$$

$\therefore$  Terbukti bahwa diameter lingkaran dalam segitiga tersebut adalah  $a + b - c$ .

## Alternatif 2 :

Misalkan O adalah pusat lingkaran dalam  $\triangle ABC$ . Misalkan juga garis AB, AC dan BC berturut-turut menyinggung lingkaran dalam di titik D, E dan F.



Jelas bahwa  $CE = CF = r$ .

Jelas juga bahwa  $AD = AE$  dan  $BD = BF$

Maka  $AE = b - r$  dan  $BF = a - r$

$AB = AD + BD$

$c = (b - r) + (a - r)$

$d = 2c = a + b - c$

$\therefore$  Terbukti bahwa diameter lingkaran dalam segitiga tersebut adalah  $a + b - c$ .

## 8. Alternatif 1 :

Misalkan  $A_i$  menyatakan karpet ke-i.  $A_1 = A_2 = A_3 = A_4 = A_5 = 1$

Berdasarkan Prinsip Inklusi Eksklusi maka :

$$\begin{aligned} (A_1 \cup A_2 \cup A_3 \cup A_4 \cup A_5) &= A_1 + A_2 + A_3 + A_4 + A_5 - (A_1 \cap A_2) - (A_1 \cap A_3) - (A_1 \cap A_4) - (A_1 \cap A_5) - \\ & (A_2 \cap A_3) - (A_2 \cap A_4) - (A_2 \cap A_5) - (A_3 \cap A_4) - (A_3 \cap A_5) - (A_4 \cap A_5) + (A_1 \cap A_2 \cap A_3) + \\ & (A_1 \cap A_2 \cap A_4) + (A_1 \cap A_2 \cap A_5) + (A_1 \cap A_3 \cap A_4) + (A_1 \cap A_3 \cap A_5) + (A_1 \cap A_4 \cap A_5) + (A_2 \cap A_3 \cap A_4) + \\ & (A_2 \cap A_3 \cap A_5) + (A_2 \cap A_4 \cap A_5) + (A_3 \cap A_4 \cap A_5) - (A_1 \cap A_2 \cap A_3 \cap A_4) - (A_1 \cap A_2 \cap A_3 \cap A_5) - \\ & (A_1 \cap A_2 \cap A_4 \cap A_5) - (A_1 \cap A_3 \cap A_4 \cap A_5) - (A_2 \cap A_3 \cap A_4 \cap A_5) + (A_1 \cap A_2 \cap A_3 \cap A_4 \cap A_5) \end{aligned}$$

$$\begin{aligned} 3 &= 1 + 1 + 1 + 1 + 1 - (A_1 \cap A_2) - (A_1 \cap A_3) - (A_1 \cap A_4) - (A_1 \cap A_5) - (A_2 \cap A_3) - (A_2 \cap A_4) - \\ & (A_2 \cap A_5) - (A_3 \cap A_4) - (A_3 \cap A_5) - (A_4 \cap A_5) + (A_1 \cap A_2 \cap A_3) + (A_1 \cap A_2 \cap A_4) + (A_1 \cap A_2 \cap A_5) + \\ & (A_1 \cap A_3 \cap A_4) + (A_1 \cap A_3 \cap A_5) + (A_1 \cap A_4 \cap A_5) + (A_2 \cap A_3 \cap A_4) + (A_2 \cap A_3 \cap A_5) + (A_2 \cap A_4 \cap A_5) + \\ & (A_3 \cap A_4 \cap A_5) - (A_1 \cap A_2 \cap A_3 \cap A_4) - (A_1 \cap A_2 \cap A_3 \cap A_5) - (A_1 \cap A_2 \cap A_4 \cap A_5) - \\ & (A_1 \cap A_3 \cap A_4 \cap A_5) - (A_2 \cap A_3 \cap A_4 \cap A_5) + (A_1 \cap A_2 \cap A_3 \cap A_4 \cap A_5) \end{aligned}$$

$$\begin{aligned} 2 &+ (A_1 \cap A_2 \cap A_3) + (A_1 \cap A_2 \cap A_4) + (A_1 \cap A_2 \cap A_5) + (A_1 \cap A_3 \cap A_4) + (A_1 \cap A_3 \cap A_5) + \\ & (A_1 \cap A_4 \cap A_5) + (A_2 \cap A_3 \cap A_4) + (A_2 \cap A_3 \cap A_5) + (A_2 \cap A_4 \cap A_5) + (A_3 \cap A_4 \cap A_5) - \\ & (A_1 \cap A_2 \cap A_3 \cap A_4) - (A_1 \cap A_2 \cap A_3 \cap A_5) - (A_1 \cap A_2 \cap A_4 \cap A_5) - (A_1 \cap A_3 \cap A_4 \cap A_5) - \\ & (A_2 \cap A_3 \cap A_4 \cap A_5) + (A_1 \cap A_2 \cap A_3 \cap A_4 \cap A_5) = (A_1 \cap A_2) + (A_1 \cap A_3) + (A_1 \cap A_4) + (A_1 \cap A_5) + \\ & (A_2 \cap A_3) + (A_2 \cap A_4) + (A_2 \cap A_5) + (A_3 \cap A_4) + (A_3 \cap A_5) + (A_4 \cap A_5) \dots\dots\dots (1) \end{aligned}$$

$(A_a \cap A_b \cap A_c \cap A_d)$  merupakan himpunan bagian dari  $(A_a \cap A_b \cap A_c)$  sehingga  $(A_a \cap A_b \cap A_c \cap A_d) \leq (A_a \cap A_b \cap A_c)$



$(A_a \cap A_b \cap A_c)$  merupakan himpunan bagian dari  $(A_a \cap A_b)$  sehingga  $(A_a \cap A_b \cap A_c) \leq (A_a \cap A_b)$

dan seterusnya .....

Akibatnya :

$(A_1 \cap A_2 \cap A_3 \cap A_4) \leq (A_1 \cap A_2 \cap A_3)$  atau  $(A_1 \cap A_2 \cap A_3 \cap A_4) \leq (A_1 \cap A_2 \cap A_4)$  dan seterusnya  
 $(A_1 \cap A_2 \cap A_3 \cap A_5) \leq (A_1 \cap A_2 \cap A_3)$  atau  $(A_1 \cap A_2 \cap A_3 \cap A_5) \leq (A_1 \cap A_2 \cap A_5)$  dan seterusnya  
 $(A_1 \cap A_2 \cap A_4 \cap A_5) \leq (A_1 \cap A_2 \cap A_4)$  atau  $(A_1 \cap A_2 \cap A_4 \cap A_5) \leq (A_1 \cap A_2 \cap A_5)$  dan seterusnya  
 $(A_1 \cap A_3 \cap A_4 \cap A_5) \leq (A_1 \cap A_3 \cap A_4)$  atau  $(A_1 \cap A_3 \cap A_4 \cap A_5) \leq (A_3 \cap A_4 \cap A_5)$  dan seterusnya  
 $(A_2 \cap A_3 \cap A_4 \cap A_5) \leq (A_2 \cap A_3 \cap A_4)$  atau  $(A_2 \cap A_3 \cap A_4 \cap A_5) \leq (A_2 \cap A_3 \cap A_5)$  dan seterusnya

Maka ruas kiri persamaan (1) bernilai minimal 2.

Karena ada 10 irisan di ruas kanan persamaan (1) maka dapat dipastikan sekurang-kurangnya ada 1 di antara 10 irisan 2 karpet tersebut yang memiliki irisan minimal  $2/10 = 0,2 \text{ m}^2$ .

#### Alternatif 2 :

Andaikan tidak ada 2 karpet yang tumpang tindih dengan luasan tumpang tindih lebih dari  $1/5 \text{ m}^2$ . Karpet pertama akan menempati ruang dengan luas  $1 \text{ m}^2$ . Maka karpet kedua akan menempati ruang dengan luas minimum  $4/5 \text{ m}^2$ . Karpet ketiga akan menempati ruang dengan luas minimum  $3/5 \text{ m}^2$ . Karpet keempat akan menempati ruang dengan luas minimum  $2/5 \text{ m}^2$ . Karpet kelima akan menempati ruang dengan luas minimum  $1/5 \text{ m}^2$ .

Luas minimum karpet yang diperlukan adalah  $1 + \frac{4}{5} + \frac{3}{5} + \frac{2}{5} + \frac{1}{5} = 3 \text{ m}^2$ .

∴ Hanya dapat dibuktikan bahwa ada 2 karpet yang tumpang tindih dengan luasan tumpang tindih minimal  $1/5 \text{ m}^2$ .



**SELEKSI OLIMPIADE TINGKAT KABUPATEN/KOTA TAHUN 2005  
TIM OLIMPIADE MATEMATIKA INDONESIA TAHUN 2006**

**Bidang Matematika**

**Waktu : 3,5 Jam**



**DEPARTEMEN PENDIDIKAN NASIONAL  
DIREKTORAT JENDERAL PENDIDIKAN DASAR DAN MENENGAH  
DIREKTORAT PENDIDIKAN MENENGAH UMUM  
TAHUN 2005**

# OLIMPIADE MATEMATIKA NASIONAL SELEKSI TINGKAT KOTA/KABUPATEN TAHUN 2005

## Bagian Pertama

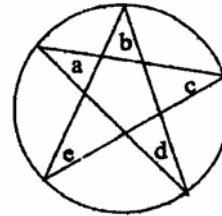
Pilih satu jawaban yang benar. Dalam hal terdapat lebih dari satu jawaban yang benar, pilih jawaban yang paling baik.

1. Bilangan  $\frac{1}{(1+\sqrt{2})(2+\sqrt{3})(1-\sqrt{2})(2-\sqrt{3})}$  adalah bilangan

A. takrasional positif      C. rasional tidak bulat      E. bulat negatif  
B. takrasional negatif      D. bulat positif

2. Pada gambar di samping, a, b, c, d dan e berturut-turut menyatakan besar sudut pada titik-titik ujung bintang lima yang terletak pada suatu lingkaran. Jumlah  $a + b + c + d + e =$

A.  $135^\circ$       B.  $180^\circ$       C.  $270^\circ$   
D.  $360^\circ$       E. tidak dapat ditentukan dengan pasti



3. Semula harga semangkuk bakso dan harga segelas jus masing-masing adalah Rp. 5000. Setelah kenaikan BBM, semangkuk bakso harganya naik 16% sedangkan harga segelas jus naik 4%. Kenaikan harga dari semangkuk bakso dan segelas jus adalah

A. 8%      B. 10%      C. 12%      D. 15%      E. 20%

4. Jika a bilangan real yang memenuhi  $a^2 < a$ , maka

A. a negatif      C.  $1 < a$       E. tidak ada a yang memenuhi  
B.  $a < 1$       D.  $\frac{1}{2} < a < 2$

5. Aries menggambar bagian dari parabola  $y = x^2 - 6x + 7$ . Titik-titik parabola yang muncul dalam gambar memiliki absis mulai dari 0 sampai +4. Maka ordinat terkecil dan ordinat terbesar titik-titik pada parabola yang muncul dalam gambar berturut-turut adalah

A. -2 dan -1      B. -2 dan 7      C. -1 dan 7      D. 0 dan -1      E. 0 dan 7

6. Dua buah dadu dilemparkan bersamaan. Berapakah peluang jumlah angka yang muncul adalah 6 atau 8?

A.  $\frac{5}{36}$       B.  $\frac{7}{36}$       C.  $\frac{10}{36}$       D.  $\frac{14}{36}$       E.  $\frac{35}{36}$

7. Titik A(a, b) disebut *titik letis* jika a dan b keduanya adalah bilangan bulat. Banyaknya titik letis pada lingkaran yang berpusat di O dan berjari-jari 5 adalah

A. 4      B. 6      C. 8      D. 12      E. tidak bisa dipastikan

8. Mana di antara 5 ekspresi berikut yang angka terakhirnya berturut-turut bukan 5, 6, 8, 9 atau 0 ?
- A.  $5^{555}$                       B.  $6^{666}$                       C.  $8^{888}$                       D.  $9^{999}$                       E.  $10^{10^{10}}$
9. Diberikan tiga bilangan positif  $x$ ,  $y$  dan  $z$  yang semuanya berbeda. Jika  $\frac{y}{x-z} = \frac{x+y}{z} = \frac{x}{y}$ , maka nilai  $\frac{x}{y}$  sama dengan
- A.  $\frac{1}{2}$                       B.  $\frac{3}{5}$                       C. 1                      D. 2                      E.  $\frac{10}{3}$
10. Jika diberikan persamaan  $(x^2 - x - 1)^{x+2} = 1$ , maka banyaknya bilangan bulat  $x$  yang merupakan solusi dari persamaan tersebut adalah
- A. 2                      B. 3                      C. 4                      D. 5                      E. 6

## Bagian Kedua

Isikan hanya jawaban saja pada tempat yang disediakan

11. Faktor prima terbesar dari 2005 adalah .....
12. Tentukan semua solusi persamaan  $|x-1| + |x-4| = 2$ .
13. Misalkan  $a$  dan  $b$  adalah bilangan real tak nol yang memenuhi  $9a^2 - 12ab + 4b^2 = 0$ . Tentukan  $\frac{a}{b}$ .
14. Diberikan dua buah persegi, A dan B, dimana luas A adalah separuh dari luas B. Jika keliling B adalah 20 cm, maka keliling A, dalam centimeter, adalah ....
15. Seorang siswa mempunyai dua celana berwarna biru dan abu-abu, tiga kemeja berwarna putih, merah muda dan kuning, serta dua pasang sepatu berwarna hitam dan coklat. Banyaknya cara siswa tersebut memakai pakaian dan sepatu adalah .....
16. Tentukan semua bilangan real  $x$  yang memenuhi  $x^4 + \frac{1}{x^4} \leq 2$ .
17. Tentukan semua bilangan tiga-angka sehingga nilai bilangan itu adalah 30 kali jumlah ketiga angka itu.
18. Nilai  $\sin^8 75^\circ - \cos^8 75^\circ = \dots\dots$
19. Diketahui bahwa segiempat ABCD memiliki pasangan sisi yang sejajar. Segiempat tersebut memiliki tepat satu sumbu simetri lipat jika ia berbentuk .....

20. Tentukan banyaknya pasangan bilangan bulat positif  $(m, n)$  yang merupakan solusi dari persamaan  $\frac{4}{m} + \frac{2}{n} = 1$ .

**SELEKSI OLIMPIADE TINGKAT KABUPATEN/KOTA 2005**  
**TIM OLIMPIADE MATEMATIKA INDONESIA 2006**

*Prestasi itu diraih bukan didapat !!!*

**SOLUSI SOAL**

**Bidang Matematika**



Disusun oleh : Eddy Hermanto, ST

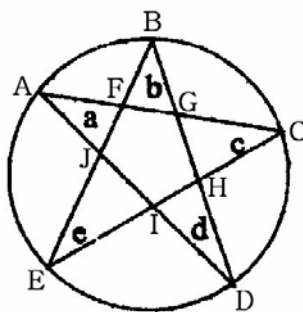
**BAGIAN PERTAMA**

1. (Jawaban : E)

$$\frac{1}{(1 + \sqrt{2})(2 + \sqrt{3})(1 - \sqrt{2})(2 - \sqrt{3})} = \frac{1}{(1 - 2)(2^2 - 3)} = -1$$

$\therefore \frac{1}{(1 + \sqrt{2})(2 + \sqrt{3})(1 - \sqrt{2})(2 - \sqrt{3})}$  adalah bilangan bulat negatif.

2. (Jawaban : B)



Misalkan penamaan titik seperti pada gambar.

Pada  $\triangle EFC$  berlaku  $\angle EFC = 180^\circ - (c + e)$ . Maka  $\angle BFG = c + e$

Pada  $\triangle AGD$  berlaku  $\angle AGD = 180^\circ - (a + d)$ . Maka  $\angle FGB = a + d$

Pada  $\triangle FGB$  berlaku  $\angle BFG + \angle FGB + \angle FBG = 180^\circ$ . Maka  $(c + e) + (a + d) + (b) = 180^\circ$ .

$\therefore a + b + c + d + e = 180^\circ$ .

3. (Jawaban : B)

$$\text{Kenaikan harga dari semangkuk bakso dan segelas jus} = \frac{16\% \cdot 5000 + 4\% \cdot 5000}{5000 + 5000} = 10\%$$

$\therefore$  Kenaikan harga dari semangkuk bakso dan segelas jus adalah 10 %.

4. (Jawaban : ?)

$a^2 < a$ . Maka  $a(a - 1) < 0$  sehingga  $0 < a < 1$ .

$\therefore$  Jika  $a^2 < a$  maka  $0 < a < 1$ .

5. (Jawaban : B)

$$y = x^2 - 6x + 7$$

Nilai pada ujung-ujung interval, untuk  $x = 0$  maka  $y = 7$  sedangkan untuk  $x = 4$  maka  $y = -1$

$$y_{maks} = -\frac{D}{4a} = -\frac{(-6)^2 - 4(1)(7)}{4(1)} = -2 \text{ yang didapat untuk } x = -\frac{b}{2a} = 3.$$

$\therefore$  Maka ordinat terkecil dan ordinat terbesar adalah -2 dan 7.

## Olimpiade Matematika Tk Kabupaten/Kota 2005

6. (Jawaban : C)

Kemungkinan penjumlahan mata dadu sama dengan 6 ada 5, yaitu (1, 5), (2, 4), (3, 3), (4, 2), (5, 1).

Kemungkinan penjumlahan mata dadu sama dengan 8 ada 5, yaitu (2, 6), (3, 5), (4, 4), (5, 3), (6, 2).

Peluang jumlah angka yang muncul adalah 6 atau 8 =  $\frac{5+5}{36}$

∴ Peluang jumlah angka yang muncul adalah 6 atau 8 =  $\frac{10}{36}$

7. (Jawaban : D)

Persamaan lingkaran yang berpusat di O dan berjari-jari 5 adalah  $x^2 + y^2 = 25$

Karena  $0^2 + 5^2 = 3^2 + 4^2 = 25$  maka pasangan (x, y) bulat yang memenuhi ada 12, yaitu (0, 5), (0, -5), (5, 0), (-5, 0), (3, 4), (3, -4), (-3, 4), (-3, -4), (4, 3), (4, -3), (-4, 3) dan (-4, -3).

∴ Banyaknya titik letis pada lingkaran yang berpusat di O dan berjari-jari 5 ada 12.

8. (Jawaban : C)

Karena  $5^k$  memiliki angka satuan 5 untuk setiap k asli maka  $5^{5^{5^5}}$  memiliki angka terakhir 5.

Karena  $6^k$  memiliki angka satuan 6 untuk setiap k asli maka  $6^{6^{6^6}}$  memiliki angka terakhir 6.

Karena  $10^k$  memiliki angka satuan 0 untuk setiap k asli maka  $10^{10^{10^{10}}}$  memiliki angka terakhir 0.

$8^1$  memiliki angka satuan 8

$8^2$  memiliki angka satuan 4

$8^3$  memiliki angka satuan 2

$8^4$  memiliki angka satuan 6

$8^5$  memiliki angka satuan 8 dst

Maka  $8^{4k+i} \equiv 8^i \pmod{10}$  untuk setiap k dan i bilangan asli.

Karena  $8^{8^8}$  habis dibagi 4 maka  $8^{8^{8^8}}$  memiliki angka satuan yang sama dengan  $8^4$  yaitu 6.

$9^1$  memiliki angka satuan 9

$9^2$  memiliki angka satuan 1

$9^3$  memiliki angka satuan 9 dst

Maka  $9^{2k+i} \equiv 9^i \pmod{10}$  untuk setiap k dan i bilangan asli.

Karena  $9^k$  ganjil untuk k asli maka  $9^{9^{9^9}}$  memiliki angka satuan yang sama dengan  $9^1$  yaitu 9.

∴ Maka di antara  $5^{5^{5^5}}$ ,  $6^{6^{6^6}}$ ,  $8^{8^{8^8}}$ ,  $9^{9^{9^9}}$  dan  $10^{10^{10^{10}}}$  yang angka terakhirnya berturut-turut bukan 5, 6, 8, 9 atau 0 adalah  $8^{8^{8^8}}$ .

9. (Jawaban : D)

$$\text{Misalkan } \frac{y}{x-z} = \frac{x+y}{z} = \frac{x}{y} = k$$

$$\text{Maka : } y = k(x-z) \quad \dots\dots\dots (1)$$

$$x+y = kz \quad \dots\dots\dots (2)$$

$$x = ky \quad \dots\dots\dots (3)$$



Jumlahkan (1) + (2) + (3) sehingga  $2(x + y) = k(x + y)$ .

Karena  $x$  dan  $y$  keduanya positif maka  $x + y \neq 0$  sehingga  $k = 2$ .

Karena  $\frac{x}{y} = k$  maka  $\frac{x}{y} = 2$

$\therefore$  nilai  $\frac{x}{y}$  sama dengan 2

10. (Jawaban : C)

$$(x^2 - x - 1)^{x+2} = 1$$

Kemungkinan-kemungkinan yang memenuhi adalah :

- $x + 2 = 0$ . Maka  $x = -2$   
 $((-2)^2 - (-2) - 1) \neq 0$  maka  $x = -2$  memenuhi
- $x^2 - x - 1 = 1$ . Maka  $(x - 2)(x + 1) = 0$   
 $x = 2$  dan  $x = -1$  keduanya memenuhi
- $x^2 - x - 1 = -1$ . Maka  $x(x - 1) = 0$  sehingga  $x = 0$  atau  $x = 1$   
Jika  $x = 0$  maka  $x + 2 = 2$  (bilangan genap). Maka  $x = 0$  memenuhi  
Jika  $x = 1$  maka  $x + 2 = 3$  (bilangan ganjil). Maka  $x = 1$  tidak memenuhi.

Nilai-nilai  $x$  yang memenuhi adalah  $-2, -1, 0$  dan  $2$ .

$\therefore$  Banyaknya bilangan bulat  $x$  yang merupakan solusi dari persamaan  $(x^2 - x - 1)^{x+2} = 1$  ada 4.

## BAGIAN KEDUA

11.  $2005 = 5 \cdot 401$  dengan 401 adalah bilangan prima.

$\therefore$  Faktor prima terbesar dari 2005 adalah 401.

12.  $|x - 1| + |x - 4| = 2$

- Jika  $x \leq 1$   
Maka  $|x - 1| = 1 - x$  dan  $|x - 4| = 4 - x$   
 $1 - x + 4 - x = 2$  sehingga  $x = \frac{3}{2}$  (memenuhi karena  $x \leq 1$ )
- Jika  $1 < x \leq 4$   
Maka  $|x - 1| = x - 1$  dan  $|x - 4| = 4 - x$   
 $x - 1 + 4 - x = 2$  sehingga  $3 = 2$  (tidak memenuhi kesamaan)
- Jika  $x > 4$   
Maka  $|x - 1| = x - 1$  dan  $|x - 4| = x - 4$   
 $x - 1 + x - 4 = 2$  sehingga  $x = \frac{7}{2}$  (tidak memenuhi  $x > 4$ )

$\therefore$  Nilai  $x$  yang memenuhi persamaan  $|x - 1| + |x - 4| = 2$  adalah  $x = \frac{3}{2}$ .

13.  $9a^2 - 12ab + 4b^2 = 0$

Untuk  $b \neq 0$  maka  $\left(3\frac{a}{b} - 2\right)^2 = 0$

$\therefore$  Maka  $\frac{a}{b} = \frac{2}{3}$

14. Luas B = 2 Luas A, maka  $B = 2A$

Misalkan panjang sisi A = x dan panjang sisi B = y maka Luas B =  $y^2 = 2x^2$  sehingga  $y = x\sqrt{2}$

Keliling B = 4y. Maka  $4x\sqrt{2} = 20$  sehingga  $x = \frac{5}{2}\sqrt{2}$

Keliling A = 4x =  $10\sqrt{2}$

$\therefore$  Keliling A =  $10\sqrt{2}$  cm

15. Banyaknya cara siswa tersebut memakai pakaian dan sepatu =  $2 \times 3 \times 2 = 12$  cara

$\therefore$  Banyaknya cara siswa tersebut memakai pakaian dan sepatu adalah 12.

16.  $x^4 + \frac{1}{x^4} \leq 2$

Sesuai dengan ketaksamaan AM-GM maka  $x^4 + \frac{1}{x^4} \geq 2\sqrt{x^4 \cdot \frac{1}{x^4}} = 2$

Karena  $x^4 + \frac{1}{x^4} \leq 2$  dan  $x^4 + \frac{1}{x^4} \geq 2$  maka ketaksamaan hanya dipenuhi jika  $x^4 + \frac{1}{x^4} = 2$ .

$$\left(x^2 - \frac{1}{x^2}\right)^2 = 0$$

$\therefore$  Bilangan real x yang memenuhi persamaan adalah  $x = 1$  atau  $x = -1$

17. Misalkan bilangan tersebut adalah  $n = 100a + 10b + c$

$$100a + 10b + c = 30(a + b + c)$$

$$10(7a - 2b) = 29c$$

$$\frac{c}{7a - 2b} = \frac{10}{29}$$

Karena 10 dan 29 relatif prima maka  $7a - 2b = 29k$  dan  $c = 10k$ .

Karena  $0 \leq c \leq 9$  maka nilai k yang memenuhi hanya  $k = 0$  sehingga  $c = 0$ .

$$7a = 2b$$

Karena 2 dan 7 relatif prima sedangkan  $0 \leq a, b \leq 9$  maka nilai a dan b yang memenuhi adalah  $a = 2$  dan  $b = 7$ .

$\therefore$  Bilangan tiga angka yang memenuhi adalah 270.

18.  $\sin^8 75^\circ - \cos^8 75^\circ = (\sin^4 75^\circ + \cos^4 75^\circ)(\sin^4 75^\circ - \cos^4 75^\circ)$   
 $\sin^8 75^\circ - \cos^8 75^\circ = ((\sin^2 75^\circ + \cos^2 75^\circ)^2 - 2(\sin^2 75^\circ)(\cos^2 75^\circ))(\sin^2 75^\circ + \cos^2 75^\circ)(\sin^2 75^\circ - \cos^2 75^\circ)$   
Mengingat bahwa  $\sin^2 \alpha + \cos^2 \alpha = 1$ ,  $\sin 2\alpha = 2 \sin \alpha \cos \alpha$  dan  $\cos^2 \alpha - \sin^2 \alpha = \cos 2\alpha$  maka :  
 $\sin^8 75^\circ - \cos^8 75^\circ = (1 - \frac{1}{2} \sin^2 150^\circ)(-\cos 120^\circ)$   
 $\therefore \sin^8 75^\circ - \cos^8 75^\circ = \frac{7}{16}$
19. Jika segiempat adalah trapesium sebarang maka belum dapat dipastikan bangun tersebut memiliki tepat satu sumbu simetri lipat sebab ada kemungkinan trapesium tersebut tidak memiliki sumbu simetri lipat.  
 $\therefore$  Maka bangun tersebut adalah trapesium sama kaki.
20.  $\frac{4}{m} + \frac{2}{n} = 1$   
 $mn - 4n - 2m = 0$   
 $(m - 4)(n - 2) = 8 = 2^3$   
Karena 4 dan 2 memiliki paritas yang sama maka  $m - 4$  dan  $n - 2$  memiliki paritas yang sama.  
Maka kemungkinan-kemungkinan penyelesaiannya adalah :
- $m - 4 = -2$  dan  $n - 2 = -4$   
 $m = 2$  dan  $n = -2$  (tidak memenuhi  $m$  dan  $n$  keduanya bulat positif)
  - $m - 4 = 2$  dan  $n - 2 = 4$   
 $m = 6$  dan  $n = 6$  (memenuhi  $m$  dan  $n$  keduanya bulat positif)
  - $m - 4 = -4$  dan  $n - 2 = -2$   
 $m = 0$  dan  $n = 0$  (tidak memenuhi  $m$  dan  $n$  keduanya bulat positif)
  - $m - 4 = 4$  dan  $n - 2 = 2$   
 $m = 8$  dan  $n = 4$  (memenuhi  $m$  dan  $n$  keduanya bulat positif)
- $\therefore$  Banyaknya pasangan bilangan bulat positif  $(m, n)$  yang memenuhi ada 2.



# SELEKSI OLIMPIADE MATEMATIKA INDONESIA 2006

## TINGKAT PROVINSI

Bidang Matematika

Bagian Pertama

Waktu : 90 Menit

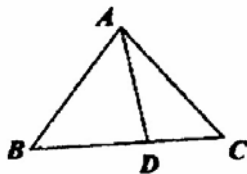


DEPARTEMEN PENDIDIKAN NASIONAL  
DIREKTORAT JENDERAL PENDIDIKAN DASAR DAN MENENGAH  
DIREKTORAT PENDIDIKAN MENENGAH UMUM  
TAHUN 2005

# OLIMPIADE MATEMATIKA TINGKAT PROVINSI TAHUN 2005

## BAGIAN PERTAMA

1. Jika  $a$  sebuah bilangan rasional dan  $b$  adalah sebuah bilangan tak rasional, maka  $a + b$  adalah bilangan .....
2. Jumlah sepuluh bilangan prima yang pertama adalah .....
3. Banyaknya himpunan  $X$  yang memenuhi  $\{1, 2\} \subseteq X \subseteq \{1, 2, 3, 4, 5\}$  adalah .....
4. Jika  $N = 123456789101112 \dots 9899100$ , maka tiga angka pertama  $\sqrt{N}$  adalah .....
5. Misalkan  $ABCD$  adalah sebuah trapesium dengan  $BC \parallel AD$ . Titik-titik  $P$  dan  $R$  berturut-turut adalah titik tengah sisi  $AB$  dan  $CD$ . Titik  $Q$  terletak pada sisi  $BC$  sehingga  $BQ : QC = 3 : 1$ , sedangkan titik  $S$  terletak pada sisi  $AD$  sehingga  $AS : SD = 1 : 3$ . Maka rasio luas segiempat  $PQRS$  terhadap luas trapesium  $ABCD$  adalah .....
6. Bilangan tiga-angka terkecil yang merupakan bilangan kuadrat sempurna dan bilangan kubik (pangkat tiga) sempurna sekaligus adalah .....
7. Jika  $a, b$  dua bilangan asli  $a \leq b$  sehingga  $\frac{\sqrt{3} + \sqrt{a}}{\sqrt{4} + \sqrt{b}}$  adalah bilangan rasional, maka pasangan terurut  $(a, b) = \dots\dots$



8. Jika  $AB = AC$ ,  $AD = BD$ , dan besar sudut  $DAC = 39^\circ$ , maka besar sudut  $BAD$  adalah .....
9. Ketika mendaki sebuah bukit, seorang berjalan dengan kecepatan  $1\frac{1}{2}$  km/jam. Ketika menuruni bukit tersebut, ia berjalan tiga kali lebih cepat. Jika waktu yang dibutuhkan untuk melakukan perjalanan bolak-balik dari kaki bukit ke puncak bukit dan kembali ke kaki bukit adalah 6 jam, maka jarak antara kaki bukit dan puncak bukit (dalam km) adalah ....
10. Sebuah segienam beraturan dan sebuah segitiga sama sisi mempunyai keliling yang sama. Jika luas segitiga adalah  $\sqrt{3}$ , maka luas segienam adalah ....
11. Dua buah dadu dilemparkan secara bersamaan. Peluang jumlah kedua angka yang muncul adalah bilangan prima adalah ....

12. Keliling sebuah segitiga samasisi adalah  $p$ . Misalkan  $Q$  adalah sebuah titik di dalam segitiga tersebut. Jika jumlah jarak dari  $Q$  ke ketiga sisi segitiga adalah  $s$ , maka, dinyatakan dalam  $s$ ,  $p = \dots\dots$
13. Barisan bilangan asli  $(a, b, c)$  dengan  $a \geq b \geq c$ , yang memenuhi sekaligus kedua persamaan  $ab + bc = 44$  dan  $ac + bc = 23$  adalah ....
14. Empat buah titik berbeda terletak pada sebuah garis. Jarak antara sebarang dua titik dapat diurutkan menjadi barisan 1, 4, 5,  $k$ , 9, 10. Maka  $k = \dots$
15. Sebuah kelompok terdiri dari 2005 anggota. Setiap anggota memegang tepat satu rahasia. Setiap anggota dapat mengirim surat kepada anggota lain manapun untuk menyampaikan seluruh rahasia yang dipegangnya. Banyaknya surat yang perlu dikirim agar semua anggota kelompok mengetahui seluruh rahasia adalah ....
16. Banyaknya pasangan bilangan bulat  $(x, y)$  yang memenuhi persamaan  $2xy - 5x + y = 55$  adalah ....
17. Himpunan  $A$  dan  $B$  saling lepas dan  $A \cup B = \{1, 2, 3, \dots, 9\}$ . Hasil perkalian semua unsur  $A$  sama dengan jumlah semua unsur  $B$ . Unsur terkecil  $B$  adalah ....
18. Bentuk sederhana dari
- $$\frac{(2^3 - 1)(3^3 - 1)(4^3 - 1) \dots (100^3 - 1)}{(2^3 + 1)(3^3 + 1)(4^3 + 1) \dots (100^3 + 1)}$$
- adalah ....
19. Misalkan  $ABCD$  adalah limas segitiga beraturan, yaitu bangun ruang bersisi empat yang berbentuk segitiga samasisi. Misalkan  $S$  adalah titik tengah rusuk  $AB$  dan  $T$  titik tengah rusuk  $CD$ . Jika panjang rusuk  $ABCD$  adalah 1 satuan panjang, maka panjang  $ST$  adalah ....
20. Untuk sembarang bilangan real  $a$ , notasi  $\lfloor a \rfloor$  menyatakan bilangan bulat terbesar yang lebih kecil dari atau sama dengan  $a$ . Jika  $x$  bilangan real yang memenuhi  $\lfloor x + \sqrt{3} \rfloor = \lfloor x \rfloor + \lfloor \sqrt{3} \rfloor$ , maka  $x - \lfloor x \rfloor$  tidak akan lebih besar dari ....



# SELEKSI OLIMPIADE MATEMATIKA INDONESIA 2006

## TINGKAT PROVINSI

Bidang Matematika

Bagian Kedua

Waktu : 120 Menit



DEPARTEMEN PENDIDIKAN NASIONAL  
DIREKTORAT JENDERAL PENDIDIKAN DASAR DAN MENENGAH  
DIREKTORAT PENDIDIKAN MENENGAH UMUM  
TAHUN 2005

# OLIMPIADE MATEMATIKA TINGKAT PROVINSI TAHUN 2005

## BAGIAN KEDUA

1. Panjang sisi terbesar pada segiempat talibusur ABCD adalah  $a$ , sedangkan jari-jari lingkaran luar  $\triangle ACD$  adalah 1. Tentukan nilai terkecil yang mungkin bagi  $a$ . Segiempat ABCD yang bagaimana yang memberikan nilai  $a$  sama dengan nilai terkecil tersebut ?
2. Di dalam sebuah kotak terdapat 4 bola yang masing-masing bernomor 1, 2, 3 dan 4. Anggi mengambil bola secara acak, mencatat nomornya, dan mengembalikannya ke dalam kotak. Hal yang sama ia lakukan sebanyak 4 kali. Misalkan jumlah dari keempat nomor bola yang terambil adalah 12. Berapakah peluang bola yang terambil selalu bernomor 3 ?
3. Jika  $\alpha$ ,  $\beta$  dan  $\gamma$  adalah akar-akar persamaan  $x^3 - x - 1 = 0$ , tentukan
$$\frac{1+\alpha}{1-\alpha} + \frac{1+\beta}{1-\beta} + \frac{1+\gamma}{1-\gamma}$$
4. Panjang ketiga sisi  $a$ ,  $b$ ,  $c$  dengan  $a \leq b \leq c$ , sebuah segitiga siku-siku adalah bilangan bulat. Tentukan semua barisan  $(a, b, c)$  agar nilai keliling dan nilai luas segitiga tersebut sama.
5. Misalkan  $A$  dan  $B$  dua himpunan, masing-masing beranggotakan bilangan-bilangan asli yang berurutan. Jumlah rata-rata aritmatika unsur-unsur  $A$  dan rata-rata aritmatika unsur-unsur  $B$  adalah 5002. Jika  $A \cap B = \{2005\}$ , tentukan unsur terbesar yang mungkin dari himpunan  $A \cup B$ .



**SELEKSI OLIMPIADE MATEMATIKA INDONESIA 2006**  
**TINGKAT PROVINSI TAHUN 2005**

*Prestasi itu diraih bukan didapat !!!*

**SOLUSI SOAL**

**Bidang Matematika**

**Bagian Pertama**

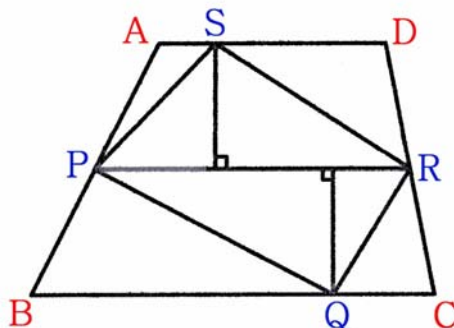


Disusun oleh : Eddy Hermanto, ST

## BAGIAN PERTAMA

1. Bilangan rasional + bilangan tak rasional = bilangan tak rasional  
 $\therefore a + b$  adalah bilangan tak rasional.
2. Sepuluh bilangan prima pertama adalah 2, 3, 5, 7, 11, 13, 17, 19, 23, 29.  
 $2 + 3 + 5 + 7 + 11 + 13 + 17 + 19 + 23 + 29 = 129$   
 $\therefore$  Jumlah sepuluh bilangan prima pertama = 129
3.  $\{1, 2\} \subseteq X \subseteq \{1, 2, 3, 4, 5\}$   
 $X$  terdiri dari sedikitnya 2 unsur dan maksimal 5 unsur dengan 2 unsur di antaranya haruslah 1 dan 2. Sedangkan sisanya dipilih dari unsur-unsur 3, 4 atau 5.  
 Jika  $X$  terdiri dari 2 unsur maka banyaknya himpunan  $X = {}_3C_0 = 1$   
 Jika  $X$  terdiri dari 3 unsur maka banyaknya himpunan  $X = {}_3C_1 = 3$   
 Jika  $X$  terdiri dari 4 unsur maka banyaknya himpunan  $X = {}_3C_2 = 3$   
 Jika  $X$  terdiri dari 5 unsur maka banyaknya himpunan  $X = {}_3C_3 = 1$   
 $\therefore$  Banyaknya himpunan  $X = 1 + 3 + 3 + 1 = 8$ .
4.  $N = 123456789101112 \dots 9899100$   
 Banyaknya angka 123456789 adalah 9.  
 Karena 10, 11, ..., 99 adalah bilangan 2 angka maka banyaknya digit 101112...99 adalah genap.  
 Banyaknya angka 100 = 3  
 Maka banyaknya angka  $N$  adalah merupakan bilangan genap.  
 Mengingat  $350^2 = 122500$ ,  $351^2 = 123201$ ,  $352^2 = 123904$ ,  $110^2 = 12100$ ,  $111^2 = 12321$ ,  $112^2 = 12544$   
 maka kemungkinan tiga angka pertama dari  $\sqrt{N}$  adalah 351 atau 111.  
 Akan dibuktikan bahwa jika tiga angka pertama  $\sqrt{N}$  adalah 111 maka banyaknya digit  $\lfloor N \rfloor$  akan ganjil sedangkan jika tiga angka pertama  $\sqrt{N}$  adalah 351 maka banyaknya digit  $\lfloor N \rfloor$  akan genap.  
 $N = (111 \cdot 10^k + p)^2 = 12321 \cdot 10^{2k} + 222p \cdot 10^k + p^2$  dengan banyaknya angka  $\lfloor p \rfloor$  tidak lebih dari  $k$ .  
 Karena banyaknya angka  $\lfloor p \rfloor$  tidak lebih dari  $k$  maka  $p < 10^k$ .  
 $N < 12321 \cdot 10^{2k} + 222 \cdot 10^{2k} + 10^{2k} = 12544 \cdot 10^{2k}$   
 $12321 \cdot 10^{2k} < N < 12544 \cdot 10^{2k}$   
 Maka banyaknya angka  $N$  sama dengan banyaknya angka  $12321 \cdot 10^{2k}$  yang merupakan bilangan ganjil.  
 $N = (351 \cdot 10^k + p)^2 = 123201 \cdot 10^{2k} + 702p \cdot 10^k + p^2$  dengan banyaknya angka  $\lfloor p \rfloor$  tidak lebih dari  $k$ .  
 Karena banyaknya angka  $\lfloor p \rfloor$  tidak lebih dari  $k$  maka  $p < 10^k$ .  
 $N < 123201 \cdot 10^{2k} + 702 \cdot 10^{2k} + 10^{2k} = 123904 \cdot 10^{2k}$   
 $123201 \cdot 10^{2k} < N < 123904 \cdot 10^{2k}$   
 Maka banyaknya angka  $N$  sama dengan banyaknya angka  $123201 \cdot 10^{2k}$  yang merupakan bilangan genap.  
 $\therefore$  Tiga angka pertama  $\sqrt{N}$  adalah 351.

5. Misalkan [PQRS] menyatakan luas segiempat PQRS



Misalkan juga jarak antara garis AD dan BC adalah  $t$

$$[ABCD] = \frac{1}{2} (AD + BC) \cdot t$$

Karena P dan R berurutan adalah pertengahan AB dan CD maka PR sejajar CD dan berlaku :

$$PR = \frac{1}{2} (AD + BC)$$

Jarak titik Q ke PR = jarak titik S ke PR =  $\frac{1}{2} t$

$$[PQRS] = [PQR] + [PRS] = \frac{1}{2} (\frac{1}{2}t)(PR) + \frac{1}{2} (\frac{1}{2}t)(PR)$$

$$[PQRS] = (\frac{1}{2}t)(PR) = \frac{1}{2} (\frac{1}{2} (AD + BC) \cdot t) = \frac{1}{2} [ABCD]$$

$\therefore$  Rasio luas segiempat PQRS terhadap luas trapesium ABCD adalah 1 : 2

6. Bilangan kuadrat yang juga merupakan bilangan pangkat tiga adalah bilangan pangkat enam.

$$2^6 = 64 \text{ dan } 3^6 = 729$$

$\therefore$  Bilangan tiga-angka terkecil yang merupakan bilangan kuadrat sempurna dan bilangan kubik (pangkat tiga) sempurna sekaligus adalah 729.

7.  $\frac{\sqrt{3} + \sqrt{a}}{\sqrt{4} + \sqrt{b}} = \frac{p}{q}$  dengan  $a, b, p$  dan  $q$  asli dan  $a \leq b$  serta  $p$  dan  $q$  keduanya relatif prima.

$$(q\sqrt{3} - 2p)^2 = (p\sqrt{b} - q\sqrt{a})^2$$

$$3q^2 + 4p^2 - 4pq\sqrt{3} = p^2b + q^2a - 2pq\sqrt{ab}$$

Karena  $a, b, p, q$  semuanya asli maka  $2\sqrt{3} = \sqrt{ab}$  sehingga  $ab = 12$ .

Kemungkinan pasangan  $(a, b)$  yang memenuhi adalah  $(1, 12)$ ,  $(2, 6)$  dan  $(3, 4)$

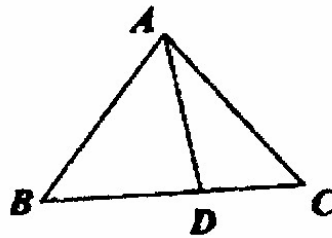
Jika  $a = 1$  dan  $b = 12$  maka  $\frac{\sqrt{3} + \sqrt{a}}{\sqrt{4} + \sqrt{b}} = \frac{1}{2}$  yang merupakan bilangan rasional.

Jika  $a = 2$  dan  $b = 6$  maka  $\frac{\sqrt{3} + \sqrt{a}}{\sqrt{4} + \sqrt{b}} = \frac{1}{\sqrt{2}}$  yang bukan merupakan bilangan rasional.

Jika  $a = 3$  dan  $b = 4$  maka  $\frac{\sqrt{3} + \sqrt{a}}{\sqrt{4} + \sqrt{b}} = \frac{\sqrt{3}}{2}$  yang bukan merupakan bilangan rasional.

$\therefore$  Pasangan terurut  $(a, b)$  adalah  $(1, 12)$

8.



Misalkan  $\angle BAD = \alpha$

Karena  $AD = BD$  maka  $\angle ABD = \alpha$

Karena  $AB = AC$  maka  $\angle ACB = \alpha$

Pada  $\triangle ABC$  berlaku  $(\alpha) + (\alpha + 39^\circ) + (\alpha) = 180^\circ$ . Maka  $\alpha = 47^\circ$

$\therefore$  Besarnya sudut  $BAD = 47^\circ$ .

9.  $v_n = 1\frac{1}{2}$  km/jam dan  $v_t = 4\frac{1}{2}$  km/jam

Misalkan jarak antara kaki bukit dan puncak bukit dalam km adalah  $s$ .

$$\frac{s}{1,5} + \frac{s}{4,5} = 6 \text{ maka } s = \frac{27}{4} \text{ km}$$

$$\therefore \text{ Jarak antara kaki bukit dan puncak bukit} = \frac{27}{4} \text{ km}$$

10. Karena keliling segienam beraturan sama dengan keliling segitiga sama sisi maka panjang sisi segitiga beraturan dua kali panjang sisi segienam beraturan.

Misalkan panjang sisi segienam beraturan =  $a$  maka panjang sisi segitiga sama sisi =  $2a$ .

$$\text{Luas segitiga sama sisi} = \frac{1}{2} (2a)^2 \sin 60^\circ = \sqrt{3}$$

$$a = 1$$

Pada segienam beraturan, jari-jari lingkaran luar segienam beraturan sama dengan panjang sisinya.

$$\text{Luas segienam beraturan} = 6 \cdot \frac{1}{2} (a^2) \sin 60^\circ$$

$$\therefore \text{ Luas segienam beraturan} = \frac{3}{2} \sqrt{3}$$

11. Kemungkinan penjumlahan dua angka dadu bilangan prima adalah 2, 3, 5, 7, atau 11.

\* Jika jumlah angka dadu = 2 maka banyaknya kemungkinan ada 1, yaitu (1,1)

\* Jika jumlah angka dadu = 3 maka banyaknya kemungkinan ada 2, yaitu (1,2), (2,1)

\* Jika jumlah angka dadu = 5 maka banyaknya kemungkinan ada 4, yaitu (1,4), (2,3), (3,2), (4,1)

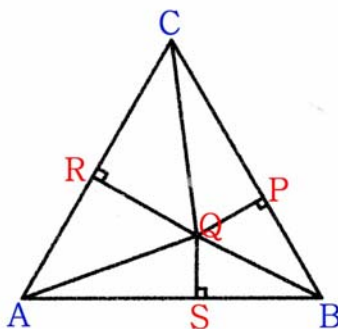
\* Jika jumlah angka dadu = 7 maka banyaknya kemungkinan ada 6, yaitu (1,6), (2,5), (3,4), (4,3), (5,2), (6,1)

\* Jika jumlah angka dadu = 11 maka banyaknya kemungkinan ada 2, yaitu (5,6), (6,5)

Banyaknya kemungkinan seluruhnya =  $1 + 2 + 4 + 6 + 2 = 15$

$$\therefore \text{ Peluang jumlah kedua angka dadu yang muncul adalah bilangan prima} = \frac{15}{36}$$

12. Misalkan segitiga tersebut adalah  $\triangle ABC$ . Maka  $AB + AC + BC = p$  sehingga  $AB = AC = BC = \frac{1}{3}p$



$$\text{Luas } \triangle ABC = \frac{1}{2} \left( \frac{1}{3}p \right)^2 \sin 60^\circ = \frac{1}{36} p^2 \sqrt{3} \quad \text{dan} \quad QP + QR + QS = s$$

$$\text{Luas } \triangle ABC = \text{Luas } \triangle ABQ + \text{Luas } \triangle ACQ + \text{Luas } \triangle BCQ = \frac{1}{2} AB \cdot QS + \frac{1}{2} AC \cdot QR + \frac{1}{2} BC \cdot QP$$

$$\frac{1}{36} p^2 \sqrt{3} = \frac{1}{2} \left( \frac{1}{3}p \right) (s)$$

$$\therefore p = 2s\sqrt{3}$$

13.  $ab + bc = 44$  dan  $ac + bc = 23$  dengan  $a, b, c$  asli dan  $a \geq b \geq c$   
 Karena  $c(a + b) = 23$  dengan  $a, b$  dan  $c$  asli maka  $c = 1$  atau  $23$   
 Jika  $c = 23$  maka  $a + b = 1$  (tidak memenuhi sebab  $a + b \geq 2$ ). Maka  $c = 1$   
 $a + b = 23$  dan  $ab + b = 44$   
 $(23 - b)b + b = 44$ , maka  $b^2 - 24b + 44 = 0$  sehingga  $(b - 22)(b - 2) = 0$   
 $b = 2$  atau  $b = 22$   
 Jika  $b = 22$  maka  $a = 1$  (tidak memenuhi  $a \geq b$ ). Maka  $b = 2$  dan  $a = 21$   
 $\therefore$  Barisan bilangan asli  $(a, b, c)$  yang memenuhi adalah  $(21, 2, 1)$ .

14. Misal garis tersebut terletak pada sumbu X.  
 Angap titik A adalah titik paling kiri, D paling kanan serta B dan C terletak di antara A dan D dengan titik terdekat pada A adalah B.  
 Tanpa mengurangi keumuman misalkan titik A berada pada  $x = 0$  dan D pada koordinat  $x = 10$ .  
 Karena ada yang berjarak 1 dan 9 maka salah satu B berada di  $x = 1$  atau C pada  $x = 9$
- Jika B terletak pada  $x = 1$   
 Jarak B dan D = 9  
 Karena harus ada dua titik yang berjarak 4 maka kemungkinan posisi C ada di  $x = 4, 5$  atau  $6$ .  
 Posisi C tidak mungkin di  $x = 4$  sebab akan membuat jarak antara sebarang dua titik adalah 1, 3, 4, 6, 9, 10.  
 Posisi C tidak mungkin di  $x = 5$  sebab akan membuat jarak antara sebarang dua titik adalah 1, 4, 5, 9, 10 (tidak ada nilai k)  
 Maka posisi C di  $x = 6$  yang akan membuat jarak dua titik sebarang adalah 1, 4, 5, 6, 9, 10  
 $k = 6$
  - Jika C terletak pada  $x = 9$   
 Jarak C dan A = 9

Karena harus ada dua titik yang berjarak 4 maka kemungkinan posisi B ada di  $x = 4, 5$  atau 6. Posisi B tidak mungkin di  $x = 6$  sebab akan membuat jarak antara sebarang dua titik adalah 1, 3, 4, 6, 9, 10.

Posisi B tidak mungkin di  $x = 5$  sebab akan membuat jarak antara sebarang dua titik adalah 1, 4, 5, 9, 10 (tidak ada nilai k)

Maka posisi B di  $x = 4$  yang akan membuat jarak dua titik sebarang adalah 1, 4, 5, 6, 9, 10

$k = 6$

$\therefore$  Maka  $k = 6$

15. Secara umum untuk kelompok terdiri dari  $n$  anggota. Orang ke- $k$  akan menerima surat setelah sedikitnya terjadi  $k - 2$  telepon. Maka orang terakhir akan menerima surat yang pertama sedikitnya setelah terjadi  $n - 2$  kiriman surat. Setelah orang ke- $n$  menerima surat berarti sedikitnya telah terjadi  $n - 1$  kiriman surat. Semua informasi yang didapat oleh orang ke- $n$  akan disebar kepada seluruh orang selain dirinya. Sedikitnya dibutuhkan  $n - 1$  surat.

Maka banyaknya surat minimum yang diperlukan sehingga setiap orang akan mengetahui  $n$  informasi adalah  $2(n - 1)$

$\therefore$  Banyaknya surat yang diperlukan adalah 4008.

16.  $2xy - 5x + y = 55$ , maka  $(2x + 1)(2y - 5) = 105 = 3 \cdot 5 \cdot 7$

Maka  $2y - 5$  membagi 105 sehingga  $2y - 5 = \pm 1, \pm 3, \pm 5, \pm 7, \pm 15, \pm 21, \pm 35, \pm 105$ .

Karena 105 merupakan perkalian bilangan ganjil maka semua faktor 105 adalah bilangan ganjil.

Karena penjumlahan dua bilangan ganjil adalah bilangan genap yang pasti habis dibagi 2 maka berapa pun faktor positif dan faktor negatif dari 105 akan membuat  $2x + 1$  dan  $2y - 5$  keduanya membagi faktor dari 105 tersebut.

105 memiliki 8 faktor positif dan 8 faktor negatif.

$\therefore$  Maka banyaknya pasangan bilangan bulat  $(x, y)$  yang memenuhi adalah 16.

17. Misalkan hasil perkalian semua unsur  $A = p$  dan penjumlahan semua unsur  $B = s$ , maka  $p = s$   
Himpunan A dapat terdiri dari 1 atau lebih unsur.

$$1 + 2 + 3 + 4 + 5 + 6 + 7 + 8 + 9 = 45$$

\* Andaikan 1 adalah unsur terkecil B.

- Jika A terdiri dari sedikitnya 4 unsur

Karena 1 bukanlah unsur dari A maka  $p \geq 2 \cdot 3 \cdot 4 \cdot 5 = 120 > 45$  (tidak dapat tercapai  $p=s$ )

- Jika A terdiri dari 3 unsur

Misalkan ketiga unsur A tersebut adalah  $a, b$  dan  $c$ . Jelas bahwa  $abc < 45$

Kemungkinan unsur-unsur A adalah  $(2,3,4), (2,3,5), (2,3,6), (2,3,7)$  dan  $(2,4,5)$

Jika unsur-unsur A adalah  $(2,3,4)$  maka  $p = 24$  dan  $s = 45 - 9 = 36$  (tidak memenuhi  $p=s$ )

Jika unsur-unsur A adalah  $(2,3,5)$  maka  $p = 30$  dan  $s = 45 - 10 = 35$  (tidak memenuhi  $p=s$ )

Jika unsur-unsur A adalah  $(2,3,6)$  maka  $p = 36$  dan  $s = 45 - 11 = 34$  (tidak memenuhi  $p=s$ )

Jika unsur-unsur A adalah  $(2,3,7)$  maka  $p = 42$  dan  $s = 45 - 12 = 33$  (tidak memenuhi  $p=s$ )

Jika unsur-unsur A adalah  $(2,4,5)$  maka  $p = 40$  dan  $s = 45 - 11 = 34$  (tidak memenuhi  $p=s$ )

Maka jika A terdiri dari 3 unsur maka tidak ada yang memenuhi  $p = s$ .

- Jika A terdiri dari 2 unsur

Misalkan kedua unsur A tersebut adalah  $a$  dan  $b$  dengan  $1 \leq a, b \leq 9$ .

Karena  $p = s$  maka  $ab = 45 - a - b$  sehingga  $(a + 1)(b + 1) = 46 = 23 \cdot 2$

Misalkan  $a > b$  maka  $a + 1 = 23$  dan  $b + 1 = 2$ . Maka  $a = 22$  (tidak memenuhi  $a \leq 9$ )

- Jika A terdiri dari 1 unsur  
 $p \leq 9$  sedangkan  $s \geq 45 - 9 = 36$  (tidak mungkin tercapai  $p = s$ )
- \* Andaikan 2 adalah unsur terkecil B  
 Jika  $A = \{1, 4, 8\}$  dan  $B = \{2, 3, 5, 6, 7, 9\}$  maka :  
 $p = 1 \cdot 4 \cdot 8 = 32$  dan  $s = 45 - 1 - 4 - 8 = 32$  (terpenuhi  $p = s$ )  
 $\therefore$  Unsur terkecil dari B adalah 2.

18. Misalkan 
$$\frac{(2^3 - 1)(3^3 - 1)(4^3 - 1)}{(2^3 + 1)(3^3 + 1)(4^3 + 1)} \cdots \frac{(100^3 - 1)}{(100^3 + 1)} = X$$

$$\frac{k^3 - 1}{k^3 + 1} = \frac{(k - 1)(k^2 + k + 1)}{(k + 1)(k^2 - k + 1)}$$

$$X = \frac{(2-1)(3-1)(4-1)}{(2+1)(3+1)(4+1)} \cdots \frac{(100-1)}{(100+1)} \frac{(2^2+2+1)(3^2+3+1)(4^2+4+1)}{(2^2-2+1)(3^2-3+1)(4^2-4+1)} \cdots \frac{(100^2+100+1)}{(100^2-100+1)}$$

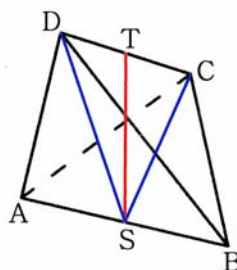
Perhatikan bahwa  $n^2 + n + 1 = (n + 1)^2 - (n + 1) + 1$ . Maka  $2^2 + 2 + 1 = 3^2 - 3 + 1$ ;  $3^2 + 3 + 1 = 4^2 - 4 + 1$  dan seterusnya.

$$X = \frac{1 \cdot 2 \cdot 3 \cdots 99}{3 \cdot 4 \cdot 5 \cdots 101} \cdot \frac{100^2 + 100 + 1}{2^2 - 2 + 1}$$

$$X = \frac{2}{100 \cdot 101} \cdot \frac{10101}{3} = \frac{1}{50 \cdot 101} \cdot 3367$$

$$\therefore \frac{(2^3 - 1)(3^3 - 1)(4^3 - 1)}{(2^3 + 1)(3^3 + 1)(4^3 + 1)} \cdots \frac{(100^3 - 1)}{(100^3 + 1)} = \frac{3367}{5050}$$

19.



Karena  $\triangle ABD$  sama sisi dan S pertengahan AB maka DS garis tinggi.

$$DS = AD \sin 60^\circ = \frac{1}{2} \sqrt{3}.$$

Dengan cara yang sama  $CS = \frac{1}{2} \sqrt{3}$ . Maka  $\triangle CDS$  sama kaki. Karena  $\triangle CDS$  sama kaki dan T pertengahan CD maka ST tegak lurus DT.

$$ST^2 = DS^2 - DT^2$$

$$ST = \sqrt{\left(\frac{1}{2} \sqrt{3}\right)^2 - \left(\frac{1}{2}\right)^2}$$

$$\therefore ST = \frac{1}{2} \sqrt{2}$$

$$20. \lfloor x + \sqrt{3} \rfloor = \lfloor x \rfloor + \lfloor \sqrt{3} \rfloor$$

$$\lfloor x + \sqrt{3} \rfloor > x + \sqrt{3} - 1$$

$$\lfloor x \rfloor + \lfloor \sqrt{3} \rfloor > x + \sqrt{3} - 1$$

Mengingat  $\lfloor \sqrt{3} \rfloor = 1$  maka :

$$x - \lfloor x \rfloor < 2 - \sqrt{3}$$

Jika  $x - \lfloor x \rfloor = 2 - \sqrt{3}$  maka  $\lfloor x + \sqrt{3} \rfloor = \lfloor x \rfloor + \lfloor \sqrt{3} \rfloor$  akan menjadi  $\lfloor x \rfloor + 2 = \lfloor x \rfloor + 1$  sehingga kesamaan tidak mungkin terjadi.

Jika  $x - \lfloor x \rfloor$  kurang sedikit dari  $2 - \sqrt{3}$  maka  $\lfloor x + \sqrt{3} \rfloor = \lfloor x \rfloor + \lfloor \sqrt{3} \rfloor$  akan menjadi  $\lfloor x \rfloor + 1 = \lfloor x \rfloor + 1$  sehingga kesamaan terjadi.

∴ Maka  $x - \lfloor x \rfloor$  tidak akan lebih besar dari  $2 - \sqrt{3}$ .



SELEKSI OLIMPIADE MATEMATIKA INDONESIA 2006  
TINGKAT PROVINSI TAHUN 2005

*Prestasi itu diraih bukan didapat !!!*

**SOLUSI SOAL**

**Bidang Matematika**

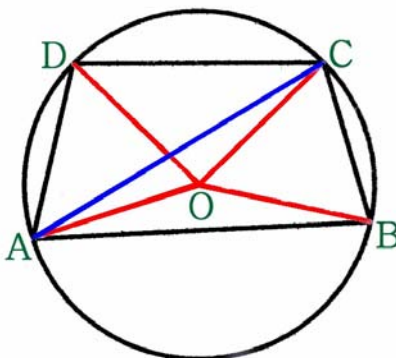
**Bagian Kedua**

Disusun oleh : Eddy Hermanto, ST



## BAGIAN KEDUA

1.



Misalkan ABCD adalah segiempat tali busur tersebut dan O adalah pusat lingkaran. Karena lingkaran tersebut juga merupakan lingkaran luar  $\triangle ABC$  maka sesuai dalil sinus :

$$\frac{AB}{\sin \angle ACB} = 2R = 2 \quad \text{dengan } R \text{ menyatakan jari-jari lingkaran luar } \triangle ABC$$

Karena  $\angle AOB = 2\angle ACB$  maka :

$$AB = 2 \sin \left( \frac{\angle AOB}{2} \right)$$

Dengan cara yang sama didapat :

$$BC = 2 \sin \left( \frac{\angle BOC}{2} \right)$$

$$CD = 2 \sin \left( \frac{\angle COD}{2} \right)$$

$$AD = 2 \sin \left( \frac{\angle AOD}{2} \right)$$

$$\angle AOB + \angle BOC + \angle COD + \angle AOD = 360^\circ$$

$$\text{Maka } \min(\angle AOB, \angle BOC, \angle COD, \angle AOD) \leq 90^\circ$$

Diketahui bahwa  $a = \max(AB, BC, CD, AD)$

Karena untuk  $0^\circ \leq x \leq 90^\circ$  nilai  $\sin x$  naik maka :

$$a = \max(AB, BC, CD, AD) \geq 2 \sin \left( \frac{90^\circ}{2} \right)$$

$$a \geq \sqrt{2}$$

Maka nilai minimal  $a = \sqrt{2}$

Karena  $\max(\angle AOB, \angle BOC, \angle COD, \angle AOD) = \min(\angle AOB, \angle BOC, \angle COD, \angle AOD) = 90^\circ$  maka :

$\angle AOB = \angle BOC = \angle COD = \angle AOD = 90^\circ$  yang berarti  $AB = BC = CD = AD$ .

Karena  $\angle AOD = 90^\circ$  sedangkan  $\triangle AOD$  sama kaki maka  $\angle DOA = 45^\circ$ . Dengan cara yang sama didapat  $\angle COD = 45^\circ$  yang berarti segiempat ABCD adalah persegi.

$\therefore$  Maka nilai  $a$  terkecil adalah  $\sqrt{2}$  yang membuat segiempat ABCD adalah persegi.

2. Kemungkinan empat jenis bola yang terambil adalah :

- Keempat bola tersebut adalah (1, 3, 4, 4)

Karena ada 4 obyek dan terdapat 2 yang sama maka banyaknya kemungkinan =  $\frac{4!}{2!} = 12$

Semua kemungkinannya adalah (1, 3, 4, 4); (1, 4, 3, 4); (1, 4, 4, 3); (3, 1, 4, 4); (3, 4, 1, 4); (3, 4, 4, 1); (4, 1, 3, 4); (4, 1, 4, 3); (4, 3, 1, 4); (4, 3, 4, 1); (4, 4, 1, 3); (4, 4, 3, 1).

- Keempat bola tersebut adalah (2, 3, 3, 4)

Banyaknya kemungkinan =  $\frac{4!}{2!} = 12$

Semua kemungkinannya adalah (2, 3, 3, 4); (2, 3, 4, 3); (2, 4, 3, 3); (3, 2, 3, 4); (3, 2, 4, 3); (3, 3, 2, 4); (3, 3, 4, 2); (3, 4, 2, 3); (3, 4, 3, 2); (4, 2, 3, 3); (4, 3, 2, 3); (4, 3, 3, 2).

- Keempat bola tersebut adalah (2, 2, 4, 4)

Banyaknya kemungkinan =  $\frac{4!}{2!2!} = 6$

Semua kemungkinannya adalah (2, 2, 4, 4); (2, 4, 2, 4); (2, 4, 4, 2); (4, 2, 2, 4); (4, 2, 4, 2); (4, 4, 2, 2).

- Keempat bola tersebut adalah (3, 3, 3, 3)

Banyaknya kemungkinan =  $\frac{4!}{4!} = 1$

Semua kemungkinannya adalah (3, 3, 3, 3)

Total banyaknya kemungkinan adalah  $12 + 12 + 6 + 1 = 31$

Hanya ada satu cara kemungkinan angka yang muncul selalu 3.

∴ Peluang bola yang terambil selalu bernomor 3 adalah =  $\frac{1}{31}$

3. Dari  $x^3 - x - 1 = 0$  serta  $Ax^3 + Bx^2 + Cx + D = 0$  didapat  $A = 1$ ,  $B = 0$ ,  $C = -1$  dan  $D = -1$

$$\alpha + \beta + \gamma = -\frac{B}{A} = 0$$

$$\alpha\beta + \alpha\gamma + \beta\gamma = \frac{C}{A} = \frac{-1}{1} = -1$$

$$\alpha\beta\gamma = -\frac{D}{A} = -\frac{(-1)}{1} = 1$$

$$\begin{aligned} \frac{1+\alpha}{1-\alpha} + \frac{1+\beta}{1-\beta} + \frac{1+\gamma}{1-\gamma} &= \frac{(1+\alpha)(1-\beta)(1-\gamma) + (1+\beta)(1-\alpha)(1-\gamma) + (1+\gamma)(1-\alpha)(1-\beta)}{(1-\alpha)(1-\beta)(1-\gamma)} \\ &= \frac{3 - (\alpha + \beta + \gamma) - (\alpha\beta + \alpha\gamma + \beta\gamma) + 3\alpha\beta\gamma}{1 - (\alpha + \beta + \gamma) + (\alpha\beta + \alpha\gamma + \beta\gamma) - \alpha\beta\gamma} \\ &= \frac{3 - (0) - (-1) + 3(1)}{1 - (0) + (-1) - (1)} \\ &= -7 \end{aligned}$$

$$\therefore \frac{1+\alpha}{1-\alpha} + \frac{1+\beta}{1-\beta} + \frac{1+\gamma}{1-\gamma} = -7$$

4.  $b = \sqrt{c^2 - a^2}$  ..... (1)

Luas  $\triangle ABC = \frac{1}{2}ab = a + b + c$ , maka  $ab = 2(a + b + c)$  ..... (2)

Karena  $a$ ,  $b$  dan  $c$  adalah bilangan bulat maka sekurang-kurangnya salah satu di antara  $a$  atau  $b$  adalah kelipatan 2.

Jika  $a = 2k$  dengan  $k \in$  bilangan asli maka :

$$2k\sqrt{c^2 - 4k^2} = 2(2k + \sqrt{c^2 - 4k^2} + c)$$

$$k\sqrt{c^2 - 4k^2} = (2k + \sqrt{c^2 - 4k^2} + c)$$

$$(k - 1)\sqrt{c^2 - 4k^2} = c + 2k$$

$$(k - 1)^2(c + 2k)(c - 2k) = (c + 2k)^2$$

$$(k - 1)^2(c - 2k) = (c + 2k)$$

$$(k - 1)^2(c - 2k) = c - 2k + 4k$$

$$(c - 2k)(k^2 - 2k) = 4k$$

Karena  $k \neq 0$  maka  $(c - 2k)(k - 2) = 4$  ..... (3)

Karena  $c$ ,  $k \in$  bilangan asli maka  $(k - 2)$  pasti membagi 4 dan karena  $c > 2k$  maka  $(k - 2) > 0$

Nilai  $k$  yang memenuhi adalah 3; 4; 6

Untuk  $k = 3$  maka  $a = 6$  sehingga  $c = 10$  dan  $b = 8$  ..... (4)

Untuk  $k = 4$  maka  $a = 8$  sehingga  $c = 10$  dan  $b = 6$  ..... (5)

Untuk  $k = 6$  maka  $a = 12$  sehingga  $c = 13$  dan  $b = 5$  ..... (6)

Karena  $a$  dan  $b$  simetris maka jika  $b = 2k$  akan didapat

Untuk  $k = 3$  maka  $b = 6$  sehingga  $c = 10$  dan  $a = 8$  ..... (7)

Untuk  $k = 4$  maka  $b = 8$  sehingga  $c = 10$  dan  $a = 6$  ..... (8)

Untuk  $k = 6$  maka  $b = 12$  sehingga  $c = 13$  dan  $a = 5$  ..... (9)

Tripel  $(a, b, c)$  yang memenuhi  $a \leq b \leq c$  adalah  $(6, 8, 10)$  dan  $(5, 12, 13)$ .

Setelah dicek ke persamaan  $a + b + c = \frac{1}{2}ab$  maka kedua tripel ini memenuhi.

$\therefore$  Maka tripel  $(a, b, c)$  yang memenuhi adalah  $(6, 8, 10)$  dan  $(5, 12, 13)$

5. Karena  $A$  dan  $B$  masing-masing beranggotakan bilangan asli berurutan sedangkan  $A \cap B = \{2005\}$  maka 2005 adalah anggota terbesar dari  $A$  dan anggota terkecil dari  $B$ .

$$A = \{x, x + 1, x + 2, \dots, 2005\} \text{ dan } B = \{2005, 2006, \dots, y - 1, y\}$$

$$A \cup B = \{x, x + 1, \dots, y - 1, y\}$$

Maka unsur yang terbesar dari  $A \cup B$  adalah  $y$ .

$$\frac{x + x + 1 + \dots + 2005}{2006 - x} + \frac{2005 + 2006 + \dots + y}{y - 2004} = 5002$$

$$\frac{x + 2005}{2} + \frac{2005 + y}{2} = 5002$$

$$x + y + 4010 = 10004$$

$$x + y = 5994$$

Karena  $x$  bilangan asli maka  $x$  terkecil = 1 sehingga maksimum  $y = 5994 - 1 = 5993$ .

$\therefore$  Unsur terbesar yang mungkin dari  $A \cup B$  adalah 5993.



**SELEKSI TIM OLIMPIADE MATEMATIKA INDONESIA 2006**  
**OLIMPIADE SAINS NASIONAL 2005**  
**JAKARTA, 4 - 9 SEPTEMBER 2005**

**Bidang Matematika**

**Hari Pertama**

**Waktu : 180 Menit**



**DEPARTEMEN PENDIDIKAN NASIONAL**  
**DIREKTORAT JENDERAL PENDIDIKAN DASAR DAN MENENGAH**  
**DIREKTORAT PENDIDIKAN MENENGAH UMUM**  
**TAHUN 2005**



OLIMPIADE SAINS NASIONAL 2005  
4 - 9 SEPTEMBER 2005  
JAKARTA

**BIDANG : MATEMATIKA**

**HARI PERTAMA**

**WAKTU : 180 MENIT**

1. Misalkan  $n$  bilangan bulat positif. Tentukan banyaknya segitiga (tidak saling kongruen) yang panjang setiap sisinya adalah bilangan bulat dan panjang sisi terpanjangnya adalah  $n$ .
2. Untuk sebarang bilangan asli  $n$ , didefinisikan  $p(n)$  sebagai hasil kali digit-digit  $n$  (dalam representasi basis 10). Tentukan semua bilangan asli  $n$  sehingga  $11 \cdot p(n) = n^2 - 2005$ .
3. Misalkan  $k$  dan  $m$  bilangan-bilangan asli sehingga  $\frac{1}{2}(\sqrt{k + 4\sqrt{m}} - \sqrt{k})$  adalah bilangan bulat.
  - a. Buktikan bahwa  $\sqrt{k}$  bilangan rasional
  - b. Buktikan bahwa  $\sqrt{k}$  bilangan asli
4. Misalkan  $M$  suatu titik di dalam segitiga  $ABC$  sedemikian rupa hingga  $\angle AMC = 90^\circ$ ,  $\angle AMB = 150^\circ$  dan  $\angle BMC = 120^\circ$ . Titik pusat lingkaran luar dari segitiga-segitiga  $AMC$ ,  $AMB$  dan  $BMC$  berturut-turut adalah  $P$ ,  $Q$  dan  $R$ . Buktikan bahwa luas segitiga  $PQR$  lebih besar dari luas segitiga  $ABC$ .



**SELEKSI TIM OLIMPIADE MATEMATIKA INDONESIA 2006**  
**OLIMPIADE SAINS NASIONAL 2005**  
**JAKARTA, 4 - 9 SEPTEMBER 2005**

**Bidang Matematika**

**Hari Kedua**

**Waktu : 180 Menit**



**DEPARTEMEN PENDIDIKAN NASIONAL**  
**DIREKTORAT JENDERAL PENDIDIKAN DASAR DAN MENENGAH**  
**DIREKTORAT PENDIDIKAN MENENGAH UMUM**  
**TAHUN 2005**



OLIMPIADE SAINS NASIONAL 2005  
4 - 9 SEPTEMBER 2005  
JAKARTA

**BIDANG : MATEMATIKA**

**HARI KEDUA**

**WAKTU : 180 MENIT**

5. Untuk sebarang bilangan real  $x$ , notasi  $\lfloor x \rfloor$  menyatakan bilangan bulat terbesar yang lebih kecil atau sama dengan  $x$ . Buktikan bahwa ada tepat satu bilangan bulat  $m$  yang memenuhi persamaan

$$m - \left\lfloor \frac{m}{2005} \right\rfloor = 2005$$

6. Tentukan semua tripel bilangan bulat  $(x, y, z)$  yang memenuhi sistem persamaan

$$x(y + z) = y^2 + z^2 - 2$$

$$y(z + x) = z^2 + x^2 - 2$$

$$z(x + y) = x^2 + y^2 - 2$$

7. Misalkan ABCD sebuah segiempat konveks. Persegi  $AB_1A_2B$  dibuat sehingga kedua titik  $A_2, B_1$  terletak di luar segiempat ABCD. Dengan cara serupa diperoleh persegi-persegi  $BC_1B_2C$ ,  $CD_1C_2D$  dan  $DA_1D_2A$ . Misalkan K adalah titik potong  $AA_2$  dengan  $BB_1$ , L adalah titik potong  $BB_2$  dengan  $CC_1$ , M adalah titik Potong  $CC_2$  dengan  $DD_1$ , dan N adalah titik potong  $DD_2$  dengan  $AA_1$ . Buktikan bahwa KM tegak lurus LN.

8. Sebuah kompetisi matematika diikuti oleh 90 peserta. Setiap peserta berkenalan dengan paling sedikit 60 peserta lainnya. Salah seorang peserta, Amin, menyatakan bahwa setidaknya terdapat empat orang peserta yang banyak teman barunya sama. Periksa kebenaran pernyataan Amin.



SELEKSI TIM OLIMPIADE MATEMATIKA INDONESIA 2006  
OLIMPIADE SAINS NASIONAL 2005  
JAKARTA, 4 - 9 SEPTEMBER 2005

*Prestasi itu diraih bukan didapat !!!*

SOLUSI SOAL

**Bidang Matematika**



Disusun oleh : Eddy Hermanto, ST

1. Misalkan panjang sisi-sisi segitiga adalah  $a$ ,  $b$  dan  $c$  dengan  $a$  adalah sisi terpanjang, maka  $a = n$ . Karena panjang salah satu sisi segitiga selalu kurang dari jumlah kedua sisi yang lain dan karena  $b \leq n$  dan  $c \leq n$  maka  $a < b + c$  maka  $b + c = n + 1, n + 2, n + 3, \dots, 2n$ .

Jika  $c = k$  untuk  $k$  bilangan asli maka  $b = n - k + i$  untuk suatu nilai  $i = 1, 2, 3, \dots, k$ .

Jika  $k = 1$  maka nilai  $(b, c)$  ada 1 yaitu  $(n, 1)$

Jika  $k = 2$  maka nilai  $(b, c)$  ada 2 yaitu  $(n - 1, 2)$  dan  $(n, 2)$

Jika  $k = 3$  maka nilai  $(b, c)$  ada 3 yaitu  $(n - 2, 3)$ ,  $(n - 1, 3)$  dan  $(n, 3)$ .

Jika  $k = 4$  maka nilai  $(b, c)$  ada 4 yaitu  $(n - 3, 4)$ ,  $(n - 2, 4)$ ,  $(n - 1, 4)$  dan  $(n, 4)$ .

$\vdots$

Jika  $k = n - 1$  maka nilai  $(b, c)$  ada  $n - 1$  yaitu  $(2, n - 1)$ ,  $(3, n - 1)$ ,  $(4, n - 1)$ ,  $\dots$ ,  $(n, n - 1)$

Jika  $k = n$  maka nilai  $(b, c)$  ada  $n$  yaitu  $(1, n)$ ,  $(2, n)$ ,  $(3, n)$ ,  $\dots$ ,  $(n, n)$

Banyaknya seluruh segitiga adalah  $1 + 2 + 3 + \dots + n = \frac{1}{2}n(n + 1)$

Tetapi segitiga-segitiga sama kaki dengan sisi-sisi  $a = n$ ,  $b = k$  untuk  $1 \leq k < n$  dan  $c = n$  kongruen dengan segitiga-segitiga sama kaki dengan sisi-sisi  $a = n$ ,  $b = n$  dan  $c = k$  untuk  $1 \leq k < n$ .

Segitiga-segitiga yang seperti itu banyaknya ada  $n - 1$  yang terhitung dua kali di dalam perhitungan  $\frac{1}{2}n(n + 1)$ .

Perlu diingat pula bahwa segitiga-segitiga yang bukan sama kaki dengan  $a = n$ ,  $b = n - p$  dan  $c = p + r \leq n$  tidak kongruen dengan segitiga-segitiga yang panjang sisinya  $a = n$ ,  $b = p + r \leq n$  dan  $c = n - p$  walaupun ketiga sisinya sama.

Maka jumlah segitiga yang dicari =  $\frac{1}{2}n(n + 1) - (n - 1)$

$$\therefore \text{Banyaknya segitiga} = \frac{n^2 - n + 2}{2}$$

## 2. Alternatif 1 :

Akan ditunjukkan bahwa untuk setiap  $n$  bilangan asli maka  $p(n) \leq n$

Misalkan  $n = 10^k a_k + 10^{k-1} a_{k-1} + \dots + 10a_1 + a_0$  dengan  $a_1, a_2, \dots, a_k \in \{0, 1, 2, \dots, 9\}$

Karena  $a_0 \text{ maks} = a_1 \text{ maks} = a_2 \text{ maks} = \dots = a_{k-1} \text{ maks} = 9$  maka  $p(n) = a_0 \cdot a_1 \cdot a_2 \cdot \dots \cdot a_k \leq 9^k \cdot a_k \leq 10^k \cdot a_k \leq n$

Maka  $n^2 - 2005 = 11 p(n) \leq 11n$

$$\left(n - \frac{11}{2}\right)^2 \leq \frac{8141}{4} \leq 45^2$$

$$1 \leq n \leq 50 \quad \dots \dots \dots (1)$$

Selain itu  $n^2 - 2005 = 11 p(n) \geq 0$

$$n \geq 45 \quad \dots \dots \dots (2)$$

Dari (1) dan (2) didapat  $n = 45, 46, 47, 48, 49$  atau  $50$

Dengan menguji ke persamaan  $n^2 - 2005 = 11 p(n)$  didapat hanya  $n = 49$  yang memenuhi.

$\therefore$  Nilai  $n$  yang memenuhi hanya  $n = 49$

## Alternatif 2 :

- Jika  $n$  terdiri dari  $k$  digit dengan  $k \geq 4$

$n^2$  merupakan bilangan dengan sedikitnya  $2k - 1$  digit. Maka  $n^2 - 2005$  merupakan bilangan dengan sedikitnya  $2k - 2$  digit.

$$11 p(n) \leq 11 \cdot 9 \cdot 9 \cdot \dots \cdot 9 < 10^{k+1}.$$

Maka  $11 p(n)$  merupakan bilangan dengan sebanyak-banyaknya terdiri dari  $k + 1$  digit.

Untuk  $k \geq 4$  maka  $2k \geq k + 4$  sehingga  $2k - 2 \geq k + 2$

maka  $2k - 2 > k + 1$  sehingga tidak ada yang memenuhi  $11 \cdot p(n) = n^2 - 2005$

- Jika  $n$  terdiri dari 3 digit  
Jika angka ratusan  $n$  lebih dari 1 maka  $n^2 - 2005 \geq 200^2 - 2005 = 37995$   
 $11 \cdot p(n) \leq 11 \cdot 9^3 = 8019 < n^2 - 2005$  (tanda kesamaan tidak akan terjadi)  
Jika angka ratusan  $n$  sama dengan 1 maka  $n^2 - 2005 \geq 100^2 - 2005 = 7995$   
 $11 \cdot p(n) \leq 11 \cdot 1 \cdot 9^2 = 891 < n^2 - 2005$  (tanda kesamaan tidak akan terjadi)
  - Jika  $n$  terdiri dari 2 digit  
Misalkan  $n = 10a + b$   
 $n$  tidak mungkin genap sebab ruas kanan akan ganjil sedangkan ruas kiri genap.  
Karena  $n$  ganjil dan  $2005 \equiv 1 \pmod{4}$  maka  $n^2 - 2005 \equiv 0 \pmod{4}$   
Akibatnya salah satu  $a$  atau  $b$  habis dibagi 4. Karena  $n$  ganjil maka  $a = 4$  atau 8.  
 $n^2 \equiv 0, 1, 4 \pmod{8}$   
 $2005 \equiv 5 \pmod{8}$   
Ruas kanan tidak habis dibagi 8, maka  $a = 4$   
 $11ab = (10a + b)^2 - 2005$   
 $44b = 1600 + 80b + b^2 - 2005$   
 $b^2 - 36b - 405 = 0$ . Maka  $(b - 9)(b + 45) = 0$  sehingga  $b = 9$   
Bilangan tersebut adalah  $n = 49$
  - Jika  $n$  terdiri dari 1 digit  
Ruas kanan akan bernilai negatif (tidak memenuhi)
- $\therefore$  Nilai  $n$  yang memenuhi hanya  $n = 49$

### 3. Alternatif 1 :

Perhatikan bahwa  $\frac{1}{2}(\sqrt{k + 4\sqrt{m}} - \sqrt{k})$  merupakan akar persamaan  $x^2 + x\sqrt{k} - \sqrt{m} = 0$ .

- a. Misalkan  $\frac{1}{2}(\sqrt{k + 4\sqrt{m}} - \sqrt{k}) = n$  adalah akar bulat dari  $x^2 + x\sqrt{k} - \sqrt{m} = 0$  maka :

$$n^2 + n\sqrt{k} - \sqrt{m} = 0, \text{ maka } \sqrt{m} = n^2 + n\sqrt{k}$$

Karena  $m$  bilangan asli maka  $n \neq 0$

$$m = n^4 + 2n^3\sqrt{k} + kn^2$$

$$\sqrt{k} = \frac{m - n^4 - kn^2}{2n^3}$$

Karena  $m$  dan  $k$  adalah bilangan asli dan  $n$  bilangan bulat tak nol maka  $\sqrt{k}$  merupakan bilangan rasional (terbukti).

- b. Misalkan  $\sqrt{k} = \frac{p}{q}$  untuk suatu bilangan asli  $p$  dan  $q$  dengan  $\text{FPB}(p, q) = 1$ .

$$k = \frac{p^2}{q^2}. \text{ Karena } \text{FPB}(p, q) = 1 \text{ maka } \text{FPB}(p^2, q^2) = 1$$

Karena  $k$  adalah bilangan asli maka  $q^2 = 1$ .

$k = p^2$ , maka  $\sqrt{k} = p$  dengan  $p$  bilangan asli.

Terbukti bahwa  $\sqrt{k}$  adalah bilangan asli.

## Alternatif 2 :

- a. Karena  $\frac{1}{2}(\sqrt{k+4\sqrt{m}} - \sqrt{k})$  bulat dan  $m$  asli maka  $\sqrt{k+4\sqrt{m}} - \sqrt{k} = p$  untuk bilangan asli  $p$ .

$$(\sqrt{k+4\sqrt{m}})^2 = (p + \sqrt{k})^2$$

$$4\sqrt{m} = p^2 + 2p\sqrt{k}$$

Karena  $m$  asli maka tidak mungkin  $p = 0$ .

$$16m = p^4 + 4p^2k + 4p^3\sqrt{k}$$

$$\sqrt{k} = \frac{16m - p^4 - 4p^2k}{4p^3}$$

Karena  $m$  dan  $k$  asli sedangkan  $p$  bulat tak nol maka  $\sqrt{k}$  merupakan bilangan rasional (terbukti).

- b. Misalkan  $\sqrt{k} = \frac{p}{q}$  untuk suatu bilangan asli  $p$  dan  $q$  dengan  $\text{FPB}(p, q) = 1$ .

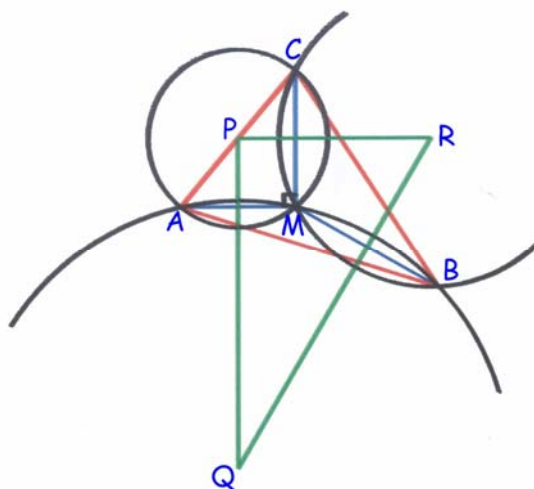
$$k = \frac{p^2}{q^2}. \text{ Karena } \text{FPB}(p, q) = 1 \text{ maka } \text{FPB}(p^2, q^2) = 1$$

Karena  $k$  adalah bilangan asli maka  $q^2 = 1$ .

$k = p^2$ , maka  $\sqrt{k} = p$  dengan  $p$  bilangan asli.

Terbukti bahwa  $\sqrt{k}$  adalah bilangan asli.

4. Perhatikan gambar berikut



Misalkan  $AB = c$ ,  $BC = a$ ,  $CA = b$ ,  $\angle BAC = \alpha$ ,  $\angle ABC = \beta$  dan  $\angle ACB = \gamma$

Diketahui bahwa  $\angle AMC = 90^\circ$ ,  $\angle AMB = 150^\circ$  dan  $\angle BMC = 120^\circ$

Misalkan juga notasi  $[ ]$  menyatakan luas suatu segitiga.

$$[ABC] = \frac{1}{2} ab \sin \gamma$$

Karena  $\angle AMC = 90^\circ$  sedangkan P pusat lingkaran luar  $\triangle AMC$  maka P adalah pertengahan AC.  
 Karena P, Q dan R pusat lingkaran dan AM, BM serta CM adalah tali busur persekutuan dua lingkaran maka  $PR \perp CM$ ,  $PQ \perp AM$  dan  $QR \perp BM$ .

Karena  $\angle AMC = 90^\circ$  sedangkan  $PR \perp CM$  serta  $PQ \perp AM$  maka  $\angle RPQ = 90^\circ$ .

Karena  $\angle BMC = 120^\circ$  sedangkan  $PR \perp CM$  serta  $QR \perp BM$  maka  $\angle PRQ = 60^\circ$ .

$$\angle PQR = 180^\circ - 90^\circ - 60^\circ = 30^\circ$$

Karena PR tegak lurus CM dan  $RC = RM$  maka  $\angle CRP = \angle PRM = \theta$

Karena  $RQ \perp MB$  dan  $RM = RB$  maka  $\angle MRQ = \angle QRB = \phi$  sehingga  $\angle PRM + \angle MRQ = \theta + \phi = 60^\circ$

$$\angle CRB = 2(\theta + \phi) = 120^\circ$$

Karena  $RC = RB$  sedangkan  $\angle CRB = 120^\circ$  maka  $\angle RCB = 30^\circ$

Misalkan  $R_1$  adalah jari-jari lingkaran luar  $\triangle BMC \rightarrow a = 2R_1 \sin \angle BMC$

$$R_1 = CR = \frac{a}{\sqrt{3}}$$

Pada  $\triangle CPR$  berlaku :

$$PR^2 = \left(\frac{b}{2}\right)^2 + \left(\frac{a}{\sqrt{3}}\right)^2 - 2\left(\frac{b}{2}\right)\left(\frac{a}{\sqrt{3}}\right)\cos(\gamma + 30^\circ)$$

$$PR^2 = \frac{b^2}{4} + \frac{a^2}{3} - \frac{ab}{\sqrt{3}}(\cos \gamma \cos 30^\circ - \sin \gamma \sin 30^\circ)$$

$$PR^2 = \frac{b^2}{4} + \frac{a^2}{3} - \frac{ab}{\sqrt{3}}\left(\frac{a^2 + b^2 - c^2}{2ab} \cdot \frac{\sqrt{3}}{2} - \frac{2[ABC]}{ab} \cdot \frac{1}{2}\right)$$

$$PR^2 = \frac{a^2}{12} + \frac{c^2}{4} + \frac{[ABC]}{\sqrt{3}}$$

$$PQ = PR \tan 60^\circ = PR \sqrt{3}$$

$$[PQR] = \frac{1}{2} \cdot PQ \cdot PR$$

$$[PQR] = \frac{\sqrt{3}}{2} \cdot \left(\frac{a^2}{12} + \frac{c^2}{4} + \frac{[ABC]}{\sqrt{3}}\right)$$

$$[PQR] - [ABC] = \frac{\sqrt{3}}{8} \left(\frac{a^2}{3} + c^2\right) - \frac{[ABC]}{2}$$

Dengan ketaksamaan AM-GM didapat :

$$[PQR] - [ABC] \geq \frac{\sqrt{3}}{8} \cdot 2\sqrt{\frac{a^2}{3} \cdot c^2} - \frac{[ABC]}{2}$$

$$[PQR] - [ABC] \geq \frac{ac}{4} - \frac{[ABC]}{2} = \frac{ac}{4} - \frac{ac \sin \beta}{4}$$

$$[PQR] - [ABC] \geq \frac{ac}{4}(1 - \sin \beta) > 0 \text{ sebab } \beta \neq 90^\circ$$

$$[PQR] > [ABC]$$

$\therefore$  Terbukti bahwa luas segitiga PQR lebih besar dari luas segitiga ABC.

## 5. Alternatif 1 :

$$m - \left\lfloor \frac{m}{2005} \right\rfloor = 2005, \text{ maka } \left\lfloor \frac{m}{2005} \right\rfloor = m - 2005$$

$$\frac{m}{2005} - 1 < m - 2005 \leq \frac{m}{2005}$$

$$m - 2005 < 2005(m - 2005) \leq m$$

$$-2005 < 2004m - 2005^2 \leq 0$$

$$2005^2 - 2005 < 2004m \leq 2005^2$$

$$2005 < m \leq \frac{2005^2}{2004}$$

$$2005 < m \leq 2006$$

Nilai  $m$  yang memenuhi hanya  $m = 2006$

Jika  $m = 2006$  diuji ke persamaan semula maka ini akan memenuhi.

$\therefore$  Terbukti bahwa  $m - \left\lfloor \frac{m}{2005} \right\rfloor = 2005$  mempunyai tepat satu penyelesaian.

## Alternatif 2 :

Bilangan bulat dapat dibuat ke bentuk  $m = 2005k + n$  untuk  $k$  bulat dan  $n \in \{0, 1, 2, \dots, 2004\}$ .

$$m - \left\lfloor \frac{m}{2005} \right\rfloor = 2005, \text{ maka } 2005k + n - \left\lfloor \frac{2005k + n}{2005} \right\rfloor = 2005$$

Karena  $0 \leq n < 2004$  maka  $2005k + n - k = 2005$

$$2004k + n = 2005$$

Karena  $0 \leq n < 2004$  maka  $2004k > 0$  sehingga  $k > 0$

Karena  $0 \leq n < 2004$  maka  $2004k \leq 2005$

$0 < k \leq 1$ , maka  $k = 1$

$$2004(1) + n = 2005, \text{ maka } n = 1$$

Karena nilai  $k$  yang memenuhi hanya ada 1 maka kemungkinan nilai  $m$  yang memenuhi juga hanya ada 1 yaitu  $m = 2005 \cdot 1 + 1 = 2006$ .

Jika  $m = 2006$  diuji ke persamaan semula maka ini akan memenuhi.

$\therefore$  Terbukti bahwa  $m - \left\lfloor \frac{m}{2005} \right\rfloor = 2005$  mempunyai tepat satu penyelesaian

$$6. \quad x(y + z) = y^2 + z^2 - 2 \quad \dots\dots\dots (1)$$

$$y(z + x) = z^2 + x^2 - 2 \quad \dots\dots\dots (2)$$

$$z(x + y) = x^2 + y^2 - 2 \quad \dots\dots\dots (3)$$

Kurangkan (1) dengan (2),

$$z(x - y) = y^2 - x^2 = (x + y)(y - x), \text{ maka } (x - y)(x + y + z) = 0 \quad \dots\dots\dots (4)$$

Kurangkan (1) dengan (3),

$$y(x - z) = z^2 - x^2 = (x + z)(z - x), \text{ maka } (x - z)(x + y + z) = 0 \quad \dots\dots\dots (5)$$

Kurangkan (2) dengan (3),

$$x(y - z) = z^2 - y^2 = (y + z)(z - y), \text{ maka } (y - z)(x + y + z) = 0 \quad \dots\dots\dots (6)$$

• Kasus I :

$$x + y + z = 0$$

Substitusikan ke persamaan (1), (2) atau (3)

$$x(-x) = y^2 + z^2 - 2, \text{ maka } x^2 + y^2 + z^2 = 2$$

Maka penyelesaiannya adalah  $x^2 = 1$  ;  $y^2 = 1$  dan  $z^2 = 0$  serta permutasinya.

Tripel  $(x, y, z)$  yang memenuhi adalah  $(x, y, z) = (1, -1, 0), (1, 0, -1), (-1, 1, 0), (-1, 0, 1), (0, 1, -1)$  dan  $(0, -1, 1)$

• Kasus II :

$$x + y + z \neq 0$$

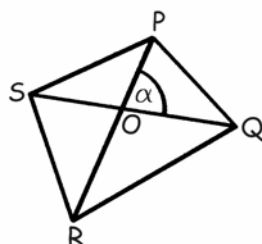
Berdasarkan persamaan (4), (5) dan (6) maka  $x = y = z$

Substitusikan ke persamaan (1) didapat  $2x^2 = 2x^2 - 2$ , maka tidak ada nilai  $(x, y, z)$  yang memenuhi.

$$\therefore (x, y, z) = (1, -1, 0), (1, 0, -1), (-1, 1, 0), (-1, 0, 1), (0, 1, -1) \text{ dan } (0, -1, 1)$$

7. Alternatif 1 :

Akan dibuktikan bahwa pada segiempat konveks PQRS berlaku  $PQ^2 + RS^2 = QR^2 + PS^2$  jika dan hanya jika PR tegak lurus QS.



\* Jika PR tegak lurus QS atau  $\alpha = 90^\circ$ .

$$PQ^2 + RS^2 = (PO^2 + OQ^2) + (OR^2 + OS^2) = (PO^2 + OS^2) + (OR^2 + OQ^2)$$

$$PQ^2 + RS^2 = PS^2 + QR^2$$

\* Jika  $PQ^2 + RS^2 = QR^2 + PS^2$

Dengan dalil cosinus didapat :

$$PQ^2 + RS^2 = QR^2 + PS^2$$

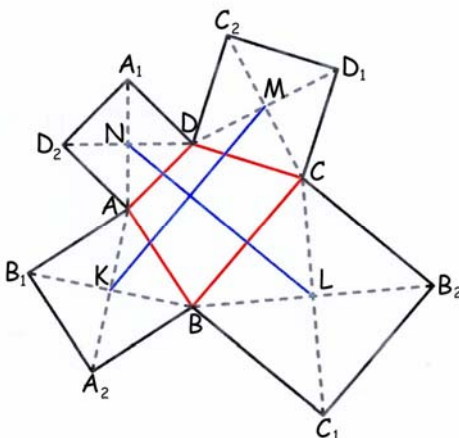
$$OP^2 + OQ^2 - 2 OP \cdot OQ \cos \alpha + OR^2 + OS^2 - 2 OR \cdot OS \cos \alpha = OQ^2 + OR^2 - 2 OQ \cdot OR \cos (180^\circ - \alpha) + OP^2 + OS^2 - 2 OP \cdot OS \cos (180^\circ - \alpha)$$

$$(2 OQ OR + 2 OP OS + 2 OP OQ + 2 OR OS) \cos \alpha = 0$$

$$(2 OQ OR + 2 OP OS + 2 OP OQ + 2 OR OS) \cos \alpha = 0$$

$$\alpha = 90^\circ$$

Terbukti bahwa pada segiempat konveks PQRS berlaku  $PQ^2 + RS^2 = QR^2 + PS^2$  jika dan hanya jika PR tegak lurus QS.



Perhatikan  $\triangle KAN$ .

$AA_1$  dan  $AA_2$  keduanya diagonal bidang persegi maka  $\angle KAB = \angle KAB_1 = \angle NAD_2 = \angle NAD = 45^\circ$ .

Dengan dalil cosinus didapat :

$$KN^2 = AK^2 + AN^2 - 2 AK \cdot AN \cos \angle KAN.$$

Jika  $\angle BAD \geq 90^\circ$  maka  $\angle KAN = 270^\circ - \angle BAD$  dan jika  $\angle BAD < 90^\circ$  maka  $\angle KAN = 90^\circ + \angle BAD$

Akibatnya  $\cos \angle KAN$  akan tetap bernilai  $-\sin \angle BAD$ .

$$KN^2 = AK^2 + AN^2 + 2 AK \cdot AN \sin \angle BAD.$$

$$KN^2 = \frac{1}{2}AB^2 + \frac{1}{2}AD^2 + 2 \cdot \frac{1}{2}\sqrt{2}AB \cdot \frac{1}{2}\sqrt{2}AD \cdot \sin \angle BAD$$

Dengan mengingat luas  $\triangle ABD = [ABD] = \frac{1}{2} AB \cdot AD \sin \angle BAD$  maka

$$KN^2 = \frac{1}{2}AB^2 + \frac{1}{2}AD^2 + 2[ABD]$$

Dengan cara yang sama untuk  $\triangle KBL$ ,  $\triangle LCM$  dan  $\triangle MDN$  didapat :

$$KL^2 = \frac{1}{2}AB^2 + \frac{1}{2}BC^2 + 2[ABC]$$

$$LM^2 = \frac{1}{2}BC^2 + \frac{1}{2}CD^2 + 2[BCD]$$

$$MN^2 = \frac{1}{2}CD^2 + \frac{1}{2}AD^2 + 2[ACD]$$

Sehingga mengingat  $[ABD] + [BCD] = [ABC] + [ACD]$  maka

$$KN^2 + LM^2 = KL^2 + MN^2$$

Mengingat pembuktian yang telah dibuat di awal maka KM tegak lurus LN (terbukti)

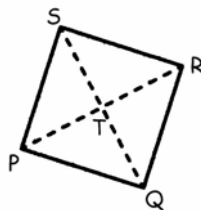
### Alternatif 2 :

Jika titik  $(x, y)$  dirotasi sebesar  $\theta$  berlawanan arah jarum jam dengan titik pusat  $(a, b)$  sehingga diperoleh bayangan  $(x', y')$  maka berlaku :

$$x' = a + (x - a) \cos \theta - (y - b) \sin \theta \quad \dots\dots\dots (1)$$

$$y' = b + (x - a) \sin \theta + (y - b) \cos \theta \quad \dots\dots\dots (2)$$

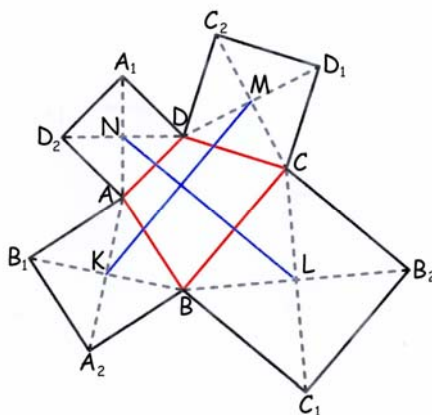
Pembuktian persamaan di atas dapat dilihat di Buku Matematika SMA Bab Transformasi Geometri.



Misalkan koordinat  $P(x_1, y_1)$  dan  $Q(x_2, y_2)$ .

Karena PQRS adalah persegi maka koordinat titik S didapat dengan merotasi titik Q sejauh  $90^\circ$  berlawanan arah jarum jam dengan pusat di P. Maka koordinat  $S(x_1 + y_1 - y_2, x_2 - x_1 + y_1)$

Karena T adalah pertengahan S dan Q maka koordinat  $T\left(\frac{x_1 + x_2 + y_1 - y_2}{2}, \frac{x_2 - x_1 + y_1 + y_2}{2}\right)$ .





Tanpa mengurangi keumuman soal misalkan titik A terletak pada (0,0) sedangkan koordinat B(x<sub>B</sub>, y<sub>B</sub>), C(x<sub>C</sub>, y<sub>C</sub>) dan D(x<sub>D</sub>, y<sub>D</sub>).

Dari penjelasan sebelumnya didapat koordinat

$$K\left(\frac{x_B + y_B}{2}, \frac{-x_B + y_B}{2}\right), L\left(\frac{x_C + x_B + y_C - y_B}{2}, \frac{x_B - x_C + y_B + y_C}{2}\right),$$

$$M\left(\frac{x_D + x_C + y_D - y_C}{2}, \frac{x_C - x_D + y_C + y_D}{2}\right) \text{ dan } N\left(\frac{x_D - y_D}{2}, \frac{x_D + y_D}{2}\right).$$

$$\overrightarrow{KM} = \frac{x_D + x_C - x_B + y_D - y_C - y_B}{2} \hat{i} + \frac{x_C + x_B - x_D + y_C + y_D - y_B}{2} \hat{j}$$

$$\overrightarrow{LN} = \frac{x_D - x_C - x_B - y_D - y_C + y_B}{2} \hat{i} + \frac{x_D - x_B + x_C + y_D - y_B - y_C}{2} \hat{j}$$

$$\overrightarrow{KM} \cdot \overrightarrow{LN} = \frac{1}{4}(x_D + x_C - x_B + y_D - y_C - y_B)(x_D - x_C - x_B - y_D - y_C + y_B) + \frac{1}{4}(x_C + x_B - x_D + y_C + y_D - y_B)(x_D - x_B + x_C + y_D - y_B - y_C)$$

Mengingat  $(a + b)(a - b) = a^2 - b^2$  maka :

$$\overrightarrow{KM} \cdot \overrightarrow{LN} = \frac{1}{4}((x_D - x_B - y_C)^2 - (x_C + y_D - y_B)^2) + \frac{1}{4}((x_C + y_D - y_B)^2 - (x_D - x_B - y_C)^2) = 0$$

Karena  $\overrightarrow{KM} \cdot \overrightarrow{LN} = 0$  maka KM tegak lurus LN (terbukti)

8. Misalkan  $k_i$  adalah banyaknya kenalan peserta  $i$  dan  $K = \sum_{i=1}^{90} k_i$  adalah penjumlahan banyaknya

kenalan masing-masing peserta.

Jika peserta A berkenalan dengan B maka banyaknya kenalan A bertambah 1 begitu juga dengan B. Jelas bahwa  $K$  akan bernilai genap.

Andaikan bahwa paling banyak tiga orang siswa akan memiliki jumlah kenalan sama banyaknya.

Karena  $k_i \geq 60$  maka  $k_i \in \{60, 61, 62, 63, \dots, 89\}$ . Banyaknya kemungkinan nilai  $k_i$  ada 30.

Karena  $90/3 = 30$  maka terdapat tepat masing-masing 3 peserta memiliki kenalan sebanyak 60 orang, 61 orang, 62 orang, ..., 89 orang.

Maka  $K = 3 \cdot 60 + 3 \cdot 61 + 3 \cdot 62 + \dots + 3 \cdot 89$

Di antara 60, 61, 62, 63, ..., 89 terdapat 15 bilangan ganjil dan 15 bilangan genap. Mengingat bahwa penjumlahan sejumlah ganjil dari bilangan ganjil menghasilkan bilangan ganjil maka :

$K = 3 \cdot 60 + 3 \cdot 61 + 3 \cdot 62 + \dots + 3 \cdot 89$  merupakan bilangan ganjil (kontradiksi dengan kenyataan semula bahwa  $K$  bernilai genap).

Maka pengandaian bahwa paling banyak tiga orang siswa akan memiliki jumlah kenalan sama banyaknya tidak terbukti.

$\therefore$  Terbukti bahwa setidaknya terdapat 4 peserta yang banyak kenalannya sama.



**SELEKSI OLIMPIADE TINGKAT KABUPATEN/KOTA TAHUN 2006  
TIM OLIMPIADE MATEMATIKA INDONESIA TAHUN 2007**

**Bidang Matematika**

**Waktu : 3,5 Jam**



**DEPARTEMEN PENDIDIKAN NASIONAL  
DIREKTORAT JENDERAL MANAJEMEN PENDIDIKAN DASAR DAN MENENGAH  
DIREKTORAT PEMBINAAN SEKOLAH MENENGAH ATAS  
TAHUN 2006**

**OLIMPIADE MATEMATIKA NASIONAL  
SELEKSI TINGKAT KOTA/KABUPATEN  
TAHUN 2006**

**Bagian Pertama**

Pilih satu jawaban yang benar. Dalam hal terdapat lebih dari satu jawaban yang benar, pilih jawaban yang paling baik.

1. Jumlah tiga bilangan prima pertama yang lebih dari 50 adalah  
A. 169                      B. 171                      C. 173                      D. 175                      E. 177
2. Dalam sebuah kotak terdapat 5 bola merah dan 10 bola putih. Jika diambil dua bola secara bersamaan, peluang memperoleh dua bola berwarna sama adalah  
A.  $\frac{1}{2}$                       B.  $\frac{1}{4}$                       C.  $\frac{2}{21}$                       D.  $\frac{10}{21}$                       E.  $\frac{11}{21}$
3. Jika  $X = \frac{1}{2 + \frac{1}{2 + \frac{1}{2}}}$ , maka  $X =$   
A.  $\frac{2}{9}$                       B.  $\frac{5}{12}$                       C.  $\frac{4}{9}$                       D.  $\frac{9}{4}$                       E.  $\frac{12}{5}$
4. Pada segitiga ABC, titik F membagi sisi AC dalam perbandingan 1 : 2. Misalkan G titik tengah BF dan E titik perpotongan antara sisi BC dengan AG. Maka titik E membagi sisi BC dalam perbandingan  
A. 1 : 4                      B. 1 : 3                      C. 2 : 5                      D. 4 : 11                      E. 3 : 8
5. Dalam suatu pertemuan terjadi 28 jabat tangan (salaman). Setiap dua orang saling berjabat tangan paling banyak sekali. Banyaknya orang yang hadir dalam pertemuan tersebut paling sedikit adalah  
A. 28                      B. 27                      C. 14                      D. 8                      E. 7
6. Gaji David lebih banyak 20% daripada gaji Andika. Ketika Andika memperoleh kenaikan gaji, gajinya menjadi lebih banyak 20% daripada gaji David. Persentase kenaikan gaji Andika adalah  
A. 0,44                      B. 20                      C. 44                      D. 144                      E. tidak bisa dipastikan
7. Misalkan T adalah himpunan semua titik pada bidang-xy yang memenuhi  $|x| + |y| \leq 4$ . Luas daerah T adalah  
A. 4                      B. 8                      C. 12                      D. 16                      E. 32
8. Definisikan  $a*b = a + b + 1$  untuk semua bilangan bulat a, b. Jika p memenuhi  $a*p = a$ , untuk setiap bilangan bulat a, maka p =  
A. -1                      B. 0                      C. 1                      D. 2                      E. tidak ada yang memenuhi

9. Setiap dong adalah ding, dan beberapa dung juga dong.  
 X : Terdapat dong yang juga ding sekaligus dung  
 Y : Beberapa ding adalah dung  
 Z : Terdapat dong yang bukan dung  
 A. Hanya X yang benar                      C. Hanya Z yang benar                      E. X, Y dan Z semuanya salah  
 B. Hanya Y yang benar                      D. X dan Y keduanya benar
10. Banyaknya solusi pasangan bilangan bulat positif persamaan  $3x + 5y = 501$  adalah  
 A. 33                      B. 34                      C. 35                      D. 36                      E. 37

## Bagian Kedua

Isikan hanya jawaban saja pada tempat yang disediakan

11. Diketahui  $a + (a + 1) + (a + 2) + \dots + 50 = 1139$ . Jika  $a$  bilangan positif, maka  $a = \dots$
12. Di antara lima orang gadis, Arinta, Elsi, Putri, Rita, dan Venny, dua orang memakai rok dan tiga orang memakai celana panjang. Arinta dan Putri mengenakan jenis pakaian yang sama. Jenis pakaian Putri dan Esi berbeda, demikian pula dengan Elsi dan Rita. Kedua gadis yang memakai rok adalah .....
13. Barisan 2, 3, 5, 6, 7, 10, 11, ... terdiri dari semua bilangan asli yang bukan kuadrat atau pangkat tiga bilangan bulat. Suku ke-250 barisan adalah .....
14. Jika  $f(xy) = f(x + y)$  dan  $f(7) = 7$ , maka  $f(49) = \dots$
15. Pada sebuah barisan aritmatika, nilai suku ke-25 tiga kali nilai suku ke-5. Suku yang bernilai dua kali nilai suku pertama adalah suku ke .....
16. Dimas membeli majalah setiap 5 hari sekali, sedangkan Andre membeli majalah setiap 8 hari sekali. Kemarin Dimas membeli majalah. Andre membeli majalah hari ini. Keduanya paling cepat akan membeli majalah pada hari yang sama ..... hari lagi.
17. Nanang mencari semua bilangan empat-angka yang selisihnya dengan jumlah keempat angkanya adalah 2007. Banyaknya bilangan yang ditemukan Nanang tidak akan lebih dari .....
18. Parabola  $y = ax^2 + bx + c$  memiliki puncak dengan koordinat (4, 2). Jika titik (2, 0) terletak pada parabola, maka  $abc = \dots$
19. Sebuah garis  $\ell_1$  mempunyai kemiringan  $-2$  dan melalui titik  $(p, -3)$ . Sebuah garis lainnya  $\ell_2$ , tegaklurus terhadap  $\ell_1$  di titik  $(a, b)$  dan melalui titik  $(6, p)$ . Bila dinyatakan dalam  $p$ , maka  $a =$
20. Pada segitiga ABC yang tumpul di C, titik M adalah titik tengah AB. Melalui C dibuat garis tegak lurus pada BC yang memotong AB di titik E. Dari M tarik garis memotong BC tegak lurus di D. Jika luas segitiga ABC adalah 54 satuan luas, maka luas segitiga BED adalah .....

SELEKSI OLIMPIADE TINGKAT KABUPATEN/KOTA 2006  
TIM OLIMPIADE MATEMATIKA INDONESIA 2007

*Prestasi itu diraih bukan didapat !!!*

**SOLUSI SOAL**

**Bidang Matematika**



Disusun oleh : Eddy Hermanto, ST

BAGIAN PERTAMA

1. (Jawaban : C)

Tiga bilangan prima pertama yang lebih besar dari 50 adalah 53, 59 dan 61.

$$53 + 59 + 61 = 173$$

∴ Jumlah tiga bilangan prima pertama yang lebih besar dari 50 = 173

2. (Jawaban : E)

Kemungkinan kedua bola tersebut adalah keduanya berwarna merah atau keduanya berwarna putih.

$$\text{Peluang} = \frac{{}_5C_2}{{}_{15}C_2} + \frac{{}_{10}C_2}{{}_{15}C_2}$$

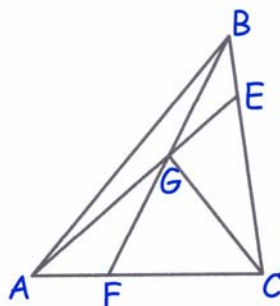
$$\therefore \text{Peluang} = \frac{11}{21}$$

3. (Jawaban : B)

$$X = \frac{1}{2 + \frac{1}{2 + \frac{1}{2}}} = \frac{1}{2 + \frac{2}{5}} = \frac{5}{12}$$

$$\therefore X = \frac{5}{12}$$

4. (Jawaban : B)



Misalkan tanda [KML] menyatakan luas  $\Delta KML$

Misalkan  $[ABC] = X$ . Karena  $AF : FC = 1 : 2$  maka  $[ABF] = \frac{1}{3} [ABC] = \frac{1}{3} X$

Karena G pertengahan BF maka  $[ABG] = \frac{1}{2} [ABF] = \frac{1}{6} X = [AFG]$

Karena  $AF : FC = 1 : 2$  maka  $[CGF] = 2 [AFG] = \frac{1}{3} X$  sehingga  $[CGB] = \frac{1}{3} X$

Misalkan  $[CGE] = P$  dan  $[EGB] = Q$

$$\frac{BE}{EC} = \frac{Q}{P} = \frac{Q + X / 6}{P + X / 3 + X / 6}$$

$$6PQ + 3XQ = 6PQ + PX$$

$$\frac{Q}{P} = \frac{1}{3} \text{ sehingga } BE : EC = 1 : 3$$

∴ Titik E membagi BC dalam perbandingan = 1 : 3

5. (Jawaban : D)

Misalkan banyaknya orang = n

$${}_nC_2 = 28, \text{ maka } \frac{n(n-1)}{2} = 28$$

$$n^2 - n - 56 = 0, \text{ maka } (n-8)(n+7) = 0$$

∴ Banyaknya orang yang hadir = 8

6. (Jawaban : C)

Misal gaji Andika sebelum kenaikan = A dan setelah memperoleh kenaikan gaji gajinya menjadi  $A_x$ .

Gaji David sebelum kenaikan = 1,2A .

$$A_x = 1,2 \cdot (1,2A) = 1,44A$$

Kenaikan gaji Andika =  $1,44A - A = 0,44A$

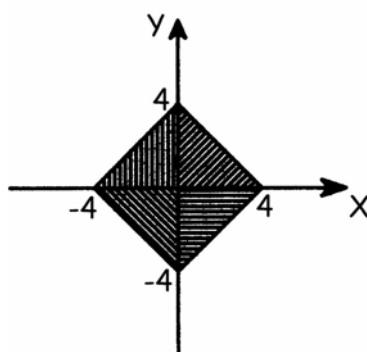
∴ Kenaikan gaji Andika adalah 44 %

7. (Jawaban : E)

$$|x| + |y| \leq 4$$

- Jika x dan y di kuadran I maka  $|x| = x$  dan  $|y| = y$ . Persamaannya adalah  $x + y \leq 4$
- Jika x dan y di kuadran II maka  $|x| = -x$  dan  $|y| = y$ . Persamaannya adalah  $-x + y \leq 4$
- Jika x dan y di kuadran III maka  $|x| = -x$  dan  $|y| = -y$ . Persamaannya adalah  $-x - y \leq 4$
- Jika x dan y di kuadran IV maka  $|x| = x$  dan  $|y| = -y$ . Persamaannya adalah  $x - y \leq 4$

Gambar persamaan-persamaan tersebut adalah :



Karena panjang sisi-sisinya sama yaitu  $4\sqrt{2}$  sedangkan kedua diagonalnya saling tegak lurus maka luasan berupa persegi.

$$\text{Luas daerah T} = 4\sqrt{2} \cdot 4\sqrt{2}$$

∴ Luas daerah T = 32

8. (Jawaban : A)

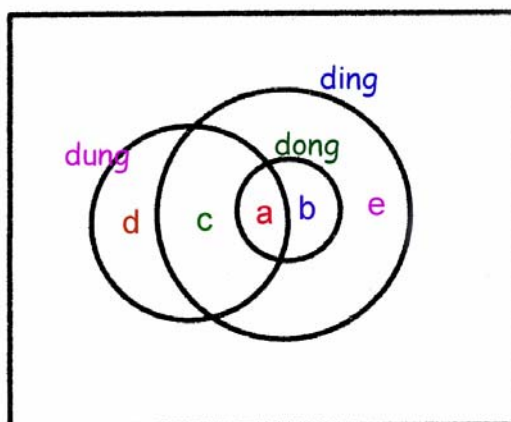
$$a * b = a + b + 1$$

$$a * p = a + p + 1$$

$$a = a + p + 1$$

$$\therefore p = -1$$

9. (Jawaban : D)



Karena setiap dong adalah ding maka dong merupakan himpunan bagian dari ding.

Karena beberapa dung juga dong maka dung dan dong memiliki irisan. Maka a pasti ada.

Karena a pasti ada maka a merupakan dong yang ding sekaligus dung (pernyataan X benar)

Karena a pasti ada maka a adalah merupakan ding yang sekaligus dung (pernyataan Y benar).

Dong yang bukan dung adalah b. Karena b belum pasti ada maka pernyataan Z belum dapat dibuktikan kebenarannya.

$\therefore$  X dan Y keduanya benar.

10. (Jawaban : A)

$$3x + 5y = 501$$

$$5y = 3(167 - x)$$

Karena 3 dan 5 relatif prima maka  $y = 3k$  dan  $167 - x = 5k$  untuk suatu k bulat positif.

Jelas bahwa  $0 < 5y \leq 501$  dan  $0 < 3x \leq 501$ , maka  $0 < y \leq 100$  dan  $0 < x \leq 167$

Karena terdapat 100 nilai y yang memenuhi dan 167 nilai x yang memenuhi maka banyaknya

nilai k yang memenuhi adalah  $\left\lfloor \frac{100}{3} \right\rfloor = 33$  atau  $\left\lfloor \frac{167}{5} \right\rfloor = 33$  yaitu  $1 \leq k \leq 33$ .

Contoh : Jika  $k = 1$  maka  $y = 3$  dan  $x = 162$  memenuhi.  $(k, x, y) = (2, 157, 6) ; (3, 152, 9) ; \dots$  juga memenuhi.

$\therefore$  Banyaknya pasangan  $(x, y)$  yang memenuhi adalah 33



**BAGIAN KEDUA**

11.  $a + (a + 1) + (a + 2) + \dots + 50 = 1139$ .

Banyaknya bilangan  $a, (a + 1), (a + 2), \dots, 50$  adalah  $50 - a + 1 = 51 - a$

$$\frac{1}{2}(51 - a) \cdot (a + 50) = 1139, \text{ maka } a^2 - a - 272 = 0 \text{ sehingga } (a - 17)(a + 16) = 0$$

$$\therefore a = 17$$

12. Karena pakaian Elsi baik dengan Putri maupun Rita berbeda maka Putri dan Rita memakai pakaian yang sama.

Karena Arinta, Putri dan Rita memakai pakaian yang sama maka ketiganya tidak mungkin memakai rok. Maka Arinta, Putri dan Rita memakai celana panjang sedangkan Elsi dan Venny memakai rok.

$\therefore$  Kedua gadis yang memakai rok adalah Elsi dan Venny.

13. Bilangan kuadrat yang sekaligus juga bilangan pangkat tiga adalah bilangan pangkat enam.

Bilangan kuadrat  $\leq 265$  adalah  $1^2, 2^2, \dots, 16^2$  ada sebanyak 16 bilangan.

Bilangan pangkat tiga  $\leq 265$  adalah  $1^3, 2^3, \dots, 6^3$  ada sebanyak 6 bilangan.

Bilangan pangkat enam  $\leq 265$  adalah  $1^6$  dan  $2^6$  ada sebanyak 2 bilangan.

Banyaknya bilangan yang bukan pangkat dua atau pangkat tiga yang  $\leq 265 = 16 + 6 - 2 = 20$ .

Maka 265 adalah suku ke  $265 - 20 = 245$ .

Lima bilangan setelah 265 yang bukan bilangan kuadrat atau pangkat tiga adalah 266, 267, 268, 269 dan 270.

$\therefore$  Suku ke-250 dari barisan tersebut adalah 270

14.  $f(xy) = f(x + y)$

Jika  $x = n$  dan  $y = 1$  maka  $f(n) = f(n + 1)$

$$\text{Maka } f(49) = f(48) = f(47) = f(46) = \dots = f(7)$$

$$\therefore f(49) = 7$$

15.  $u_{25} = 3(u_5)$ , maka  $a + 24b = 3(a + 4b)$  sehingga  $a = 6b$

$$u_n = a + (n - 1)b = 2u_1 = 2a$$

$$6b + (n - 1)b = 2(6b), \text{ maka } n = 7$$

$\therefore$  Suku tersebut adalah suku ke-7

16. Misalkan hari ini adalah hari ke-0

Karena kemarin Dimas membeli majalah sedangkan Dimas membeli setiap 5 hari sekali maka Dimas akan membeli majalah pada hari  $h_1 = 5k + 4$  dengan  $k$  bilangan asli.

Karena hari ini Andre membeli majalah sedangkan Andre membeli setiap 8 hari sekali maka Andre akan membeli majalah pada hari  $h_2 = 8n$  dengan  $n$  bilangan asli.

Mereka akan membeli majalah pada hari yang sama jika  $5k + 4 = 8n$ .

Karena 4 dan 8 keduanya habis dibagi 4 maka  $k$  harus habis dibagi 4. Nilai  $k$  terkecil adalah 4.

$$h_1 = h_2 = 5(4) + 4 = 24$$

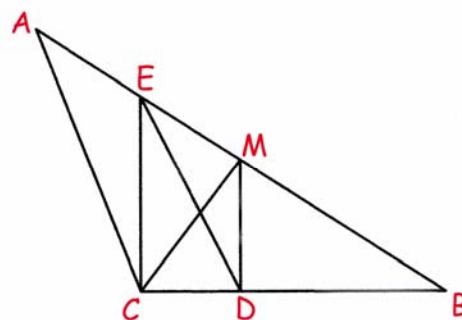
$\therefore$  Maka mereka akan membeli majalah pada hari yang sama paling cepat 24 hari lagi.

17. Misalkan bilangan tersebut adalah  $1000a + 100b + 10c + d$   
 Maka  $1000a + 100b + 10c + d - a - b - c - d = 2007$   
 $999a + 99b + 9c = 2007$ , maka  $111a + 11b + c = 223$   
 Karena  $a > 0$  dan  $111a < 223$  maka  $a = 1$  atau  $2$ .  
 Jika  $a = 1$  maka  $11b + c = 112 > 11(9) + 9 = 108$  (tidak ada nilai  $b$  dan  $c$  yang memenuhi).  
 Jika  $a = 2$  maka  $11b + c = 1$ . Nilai  $b$  dan  $c$  yang memenuhi hanya  $b = 0$  dan  $c = 1$ .  
 Tripel  $(a, b, c)$  yang memenuhi hanya ada 1 kemungkinan yaitu  $(2, 0, 1)$ . Nilai  $d$  yang memenuhi ada 10 kemungkinan yaitu  $0, 1, 2, \dots, 9$ .  
 Bilangan 4 angka tersebut yang memenuhi ada 10 yaitu  $2010, 2011, 2012, 2013, 2014, \dots, 2019$ .  
 $\therefore$  Banyaknya bilangan yang ditemukan Nanang tidak akan lebih dari **10**.

18. Persamaan parabola yang berpuncak di  $(x_p, y_p)$  adalah  $y = a(x - x_p)^2 + y_p$ .  
 Karena titik puncak parabola di  $(4, 2)$  maka  $y = a(x - 4)^2 + 2$   
 Karena titik  $(2, 0)$  terletak pada parabola maka :  
 $0 = a(2 - 4)^2 + 2$ , maka  $a = -\frac{1}{2}$   
 Persamaan parabola tersebut adalah  $y = -\frac{1}{2}(x - 4)^2 + 2 = -\frac{1}{2}x^2 + 4x - 6$   
 $a = -\frac{1}{2}$  ;  $b = 4$  dan  $c = -6$   
 $\therefore abc = 12$

19. Persamaan garis  $\ell_1$  adalah  $y + 3 = -2(x - p)$   
 Karena  $\ell_2$  tegak lurus  $\ell_1$  maka gradien garis  $\ell_2$  adalah  $\frac{1}{2}$ .  
 Persamaan garis  $\ell_2$  adalah  $y - p = \frac{1}{2}(x - 6)$   
 Kedua garis melalui  $(a, b)$  maka :  
 $b + 3 = -2(a - p)$  dan  $b - p = \frac{1}{2}(a - 6)$   
 $3 + p = -2(a - p) - \frac{1}{2}(a - 6)$   
 $6 + 2p = -4a + 4p - a + 6$   
 $\therefore a = \frac{2}{5}p$

20. Misalkan  $\angle ABC = \beta$   
 Luas  $\triangle ABC = \frac{1}{2} \cdot BA \cdot BC \sin \beta = 54$   
 Karena  $MD$  sejajar  $EC$  maka  $\triangle BMD$  sebangun dengan  $\triangle BEC$   
 $\frac{BM}{BD} = \frac{BE}{BC}$   
 $BM \cdot BC = BD \cdot BE$   
 Luas  $\triangle BED = \frac{1}{2} \cdot BE \cdot BD \sin \beta = \frac{1}{2} \cdot BM \cdot BC \sin \beta$   
 Luas  $\triangle BED = \frac{1}{2} (\frac{1}{2} \cdot BA \cdot BC \sin \beta)$   
 Luas  $\triangle BED = \frac{1}{2}$  Luas  $\triangle ABC$   
 $\therefore$  Luas segitiga  $BED$  adalah **27** satuan luas.





# **SELEKSI OLIMPIADE TINGKAT PROVINSI 2006 TIM OLIMPIADE MATEMATIKA INDONESIA 2007**

**Bidang Matematika**

**Bagian Pertama**

**Waktu : 90 Menit**



**DEPARTEMEN PENDIDIKAN NASIONAL  
DIREKTORAT JENDERAL MANAJEMEN PENDIDIKAN DASAR DAN MENENGAH  
DIREKTORAT PEMBINAAN SEKOLAH MENENGAH ATAS  
TAHUN 2006**

# OLIMPIADE MATEMATIKA TINGKAT PROVINSI TAHUN 2006

## BAGIAN PERTAMA

1. Hasil penjumlahan semua bilangan bulat di antara  $\sqrt[3]{2006}$  dan  $\sqrt{2006}$  adalah ....
2. Pada trapesium ABCD, sisi AB sejajar dengan DC. Sebuah lingkaran yang menyinggung keempat sisi trapesium dapat dibuat. Jika AB = 75 dan DC = 40, maka keliling trapesium ABCD = .....
3. Himpunan semua x yang memenuhi  $(x - 1)^3 + (x - 2)^2 = 1$  adalah .....
4. Bilangan prima dua angka terbesar yang merupakan jumlah dua bilangan prima lainnya adalah ....
5. Afkar memilih suku-suku barisan geometri takhingga  $1, \frac{1}{2}, \frac{1}{4}, \frac{1}{8}, \dots$  untuk membuat barisan geometri takhingga baru yang jumlahnya  $\frac{1}{7}$ . Tiga suku pertama pilihan Afkar adalah .....
6. Luas sisi-sisi sebuah balok adalah 486, 486, 243, 243, 162, 162. Volume balok tersebut adalah .....
7. Nilai maksimum fungsi  $f(x) = \left(\frac{1}{3}\right)^{x^2 - 4x + 3}$  adalah ....
8. Diberikan fungsi  $f(x) = ||x - 2| - a| - 3$ . Jika grafik f memotong sumbu-x tepat di tiga titik, maka a = ....
9. Untuk bilangan asli n, tuliskan  $s(n) = 1 + 2 + \dots + n$  dan  $p(n) = 1 \times 2 \times \dots \times n$ . Bilangan genap n terkecil yang memenuhi  $p(n)$  habis dibagi  $s(n)$  adalah ....
10. Jika  $|x| + x + y = 10$  dan  $x + |y| - y = 12$ , maka  $x + y = \dots$
11. Sebuah himpunan tiga bilangan asli disebut *himpunan aritmatika* jika salah satu unsurnya merupakan rata-rata dari dua unsur lainnya. Banyaknya subhimpunan aritmatika dari  $\{1, 2, 3, \dots, 8\}$  adalah ....
12. Dari setiap bilangan satu-angka a, bilangan N dibuat dengan menyandingkan ketiga bilangan  $a + 2, a + 1, a$  yaitu  $N = \overline{(a + 2)(a + 1)a}$ . Sebagai contoh, untuk  $a = 8$ ,  $N = 1098$ . Kesepuluh bilangan N semacam itu memiliki faktor persekutuan terbesar .....
13. Jika  $x^2 + \frac{1}{x^2} = 47$ , maka  $\sqrt{x} + \frac{1}{\sqrt{x}} = \dots$

14. Sebuah kelas akan memilih seorang murid di antara mereka untuk mewakili kelas tersebut. Setiap murid mempunyai kesempatan yang sama untuk dipilih. Peluang seorang murid laki-laki terpilih sama dengan  $\frac{2}{3}$  kali peluang terpilihnya seorang murid perempuan. Persentase murid laki-laki di kelas tersebut adalah ....
15. Pada segitiga ABC, garis bagi sudut A memotong sisi BC di titik D. Jika  $AB = AD = 2$  dan  $BD = 1$ , maka  $CD = \dots$
16. Jika  $(x - 1)^2$  membagi  $ax^4 + bx^3 + 1$ , maka  $ab = \dots$
17. Dari titik O ditarik dua setengah-garis (sinar)  $\ell_1$  dan  $\ell_2$  yang membentuk sudut lancip  $\alpha$ . Titik-titik berbeda  $A_1, A_3, A_5$  terletak pada garis  $\ell_2$ , sedangkan titik-titik  $A_2, A_4, A_6$  terletak di  $\ell_1$ . Jika  $A_1A_2 = A_2A_3 = A_3A_4 = A_4O = OA_5 = A_5A_6 = A_6A_1$ , maka  $\alpha = \dots$
18. Banyaknya bilangan 7-angka berbeda yang dapat dibentuk dengan cara mengubah susunan angka 2504224 adalah ....
19. Evan membuat sebuah barisan bilangan asli  $a_1, a_2, a_3, \dots$  yang memenuhi  $a_{k+1} - a_k = 2(a_k - a_{k-1}) - 1$ , untuk  $k = 2, 3, \dots$ , dan  $a_2 - a_1 = 2$ . Jika 2006 muncul dalam barisan, nilai  $a_1$  terkecil yang mungkin adalah ....
20. Pada segitiga ABC, garis-garis berat dari titik sudut B dan titik sudut C saling berpotongan tegak lurus. Nilai minimum  $\text{ctg } B + \text{ctg } C$  adalah ....



**SELEKSI OLIMPIADE TINGKAT PROVINSI 2006  
TIM OLIMPIADE MATEMATIKA INDONESIA 2007**

**Bidang Matematika**

**Bagian Kedua**

**Waktu : 120 Menit**



**DEPARTEMEN PENDIDIKAN NASIONAL  
DIREKTORAT JENDERAL MANAJEMEN PENDIDIKAN DASAR DAN MENENGAH  
DIREKTORAT PEMBINAAN SEKOLAH MENENGAH ATAS  
TAHUN 2006**

# OLIMPIADE MATEMATIKA TINGKAT PROVINSI TAHUN 2006

## BAGIAN KEDUA

1. Misalkan segitiga ABC siku-siku di B. Garis tinggi dari B memotong sisi AC di titik D. Jika titik E dan F berturut-turut adalah titik tengah BD dan CD, buktikan bahwa  $AE \perp BF$ .
2. Misalkan m bilangan asli yang memenuhi  $1003 < m < 2006$ . Diberikan himpunan bilangan asli  $S = \{1, 2, 3, \dots, m\}$ , berapa banyak anggota S harus dipilih agar selalu terdapat paling sedikit satu pasang anggota terpilih yang hasil tambahnya 2006 ?
3. Misalkan  $d = \text{FPB}(7n + 5, 5n + 4)$ , dimana n adalah bilangan asli.  
(a) Buktikan bahwa untuk setiap bilangan asli n berlaku  $d = 1$  atau 3.  
(b) Buktikan bahwa  $d = 3$  jika dan hanya jika  $n = 3k + 1$ , untuk suatu bilangan asli k.
4. Win memiliki dua koin. Ia akan melakukan prosedur berikut berulang-ulang selama ia masih memiliki koin : lempar semua koin yang dimilikinya secara bersamaan; setiap koin yang muncul dengan sisi angka akan diberikannya kepada Albert. Tentukan peluang bahwa Win akan mengulangi prosedur ini lebih dari tiga kali.
5. Misalkan a, b, c bilangan-bilangan asli. Jika semua akar ketiga persamaan
$$\begin{aligned}x^2 - 2ax + b &= 0 \\x^2 - 2bx + c &= 0 \\x^2 - 2cx + a &= 0\end{aligned}$$
adalah bilangan asli, tentukan a, b dan c.

# SELEKSI OLIMPIADE MATEMATIKA INDONESIA 2007

## TINGKAT PROVINSI TAHUN 2006

*Prestasi itu diraih bukan didapat !!!*

### SOLUSI SOAL

Bidang Matematika

### Bagian Pertama



Disusun oleh : Eddy Hermanto, ST



## BAGIAN PERTAMA

1.  $12^3 = 1728$  ;  $13^3 = 2197$  ;  $44^2 = 1936$  ;  $45^2 = 2025$

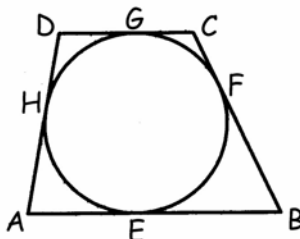
$\sqrt[3]{2006} < m < \sqrt{2006}$  dapat disederhanakan menjadi  $13 \leq m \leq 44$  untuk  $m$  bulat

Himpunan  $m$  yang memenuhi =  $\{13, 14, 15, \dots, 44\}$

$$13 + 14 + 15 + \dots + 44 = 912$$

$\therefore$  Penjumlahan semua bilangan yang memenuhi sama dengan **912**.

2. Jika titik  $P$  di luar lingkaran dan garis yang ditarik dari titik  $P$  menyinggung lingkaran tersebut di titik  $Q$  dan  $R$  maka  $PQ = PR$



Dari gambar di atas didapat  $DG = DH$  ;  $CG = CF$  ;  $BF = BE$  ;  $AE = AH$

$$\text{Keliling} = AE + AH + BE + BF + CF + CG + DG + DH = 2(DG + CG + AE + BE)$$

$$\text{Keliling} = 2(DC + AB) = 2(40 + 75)$$

$\therefore$  Keliling trapesium = **230**

3.  $(x - 1)^3 + (x - 2)^2 = 1$

$$(x - 1)^3 = 1 - (x - 2)^2 = (1 - (x - 2))(1 + (x - 2)) = (3 - x)(x - 1)$$

$$(x - 1)((x - 1)^2 - (3 - x)) = 0$$

$$(x - 1)(x^2 - x - 2) = 0$$

$$(x - 1)(x + 1)(x - 2) = 0$$

$\therefore$  Himpunan semua nilai  $x$  yang memenuhi adalah  $\{-1, 1, 2\}$

4. Misalkan  $a$ ,  $b$  dan  $c$  adalah ketiga bilangan prima tersebut dengan  $a = b + c$

Bilangan prima genap hanya ada satu yaitu 2.

Karena  $a > 2$  maka  $a$  pasti ganjil yang menyebabkan paritas  $b$  dan  $c$  harus berbeda.

Tanpa mengurangi keumuman misalkan  $c \leq b$  maka  $c = 2$

$$a = b + 2 \text{ sehingga } a - b = 2$$

Karena  $a - b = 2$  maka terdapat tepat 1 bilangan asli di antara  $a$  dan  $b$ . Misalkan bilangan tersebut adalah  $k$ . Maka  $b$ ,  $k$  dan  $a$  adalah 3 bilangan asli berurutan. Salah satunya harus habis dibagi 3. Karena  $b$  dan  $a$  bilangan prima lebih dari 3 maka  $k$  habis dibagi 3. Karena  $k$  juga genap maka  $k$  habis dibagi 6.

Jika  $k = 16 \cdot 6 = 96$  maka  $b = 95$  bukan prima. Jika  $k = 15 \cdot 6 = 90$  maka  $a = 91$  bukan prima. Jika  $k = 14 \cdot 6 = 84$  maka  $a = 85$  bukan prima. Jika  $k = 13 \cdot 6 = 78$  maka  $b = 77$  bukan prima. Jika  $k = 12 \cdot 6 = 72$  maka  $a = 73$  dan  $b = 71$  yang memenuhi keduanya prima

$\therefore$  Bilangan prima dua angka terbesar yang memenuhi adalah **73**.

$$5. S_{\infty} = \frac{a}{1-r}$$

Misalkan bilangan pertama yang dipilih Afkar adalah  $(\frac{1}{2})^a$  untuk a bilangan bulat tak negatif dan rasio,  $r = (\frac{1}{2})^b$  untuk b bilangan asli maka :

$$\frac{\left(\frac{1}{2}\right)^a}{1 - \left(\frac{1}{2}\right)^b} = \frac{1}{7}$$

Karena b asli maka  $\frac{1}{2} \leq 1 - (\frac{1}{2})^b < 1$

$$\frac{1}{14} \leq \left(\frac{1}{2}\right)^a < \frac{1}{7}$$

Nilai a yang memenuhi hanya a = 3 sehingga b = 3

Maka 3 suku pertama yang dipilih Afkar adalah  $(\frac{1}{2})^3$ ,  $(\frac{1}{2})^6$  dan  $(\frac{1}{2})^9$

∴ Tiga suku pertama yang dipilih Afkar adalah  $\frac{1}{8}$ ,  $\frac{1}{64}$ ,  $\frac{1}{512}$ .

6. Misalkan panjang sisi-sisi balok tersebut adalah a, b dan c.

Tanpa mengurangi keumuman misalkan  $ab = 486 = 2 \cdot 3^5$  ;  $ac = 243 = 3^5$  ;  $bc = 162 = 2 \cdot 3^4$

$$(ab)(ac)(bc) = (abc)^2 = 2^2 \cdot 3^{14}$$

$$abc = 2 \cdot 3^7 = 4374$$

∴ Volume balok = 4374

$$7. f(x) = \left(\frac{1}{3}\right)^{x^2-4x+3}, \text{ maka } f(x) = 3^{-x^2+4x-3}$$

Agar f(x) maksimum maka  $y = -x^2 + 4x - 3$  harus maksimum.

$$y = -x^2 + 4x - 3 = -(x-2)^2 + 1$$

y maksimum = 1 saat x = 2

$$f(x)_{\text{maksimum}} = 3$$

$$\therefore f(x)_{\text{maksimum}} = 3$$

$$8. f(x) = ||x-2| - a| - 3$$

f memotong sumbu x maka  $||x-2| - a| - 3 = 0$

$$||x-2| - a| = 3$$

$$|x-2| - a = 3 \text{ atau } |x-2| - a = -3$$

$$|x-2| = a+3 \text{ atau } |x-2| = a-3$$

Jika  $a+3 = 0$  maka  $|x-2| = 0$  hanya ada 1 penyelesaian. Sebaliknya jika  $a+3 \neq 0$  maka penyelesaian  $|x-2| = a+3$  ada 2 penyelesaian yaitu  $x-2 = a+3$  atau  $x-2 = -(a+3)$

Hal yang sama untuk persamaan  $|x-2| = a-3$

Maka jika  $a = -3$  akan menyebabkan hanya ada 1 penyelesaian x untuk persamaan  $|x-2| = a+3$  namun ada dua nilai x untuk penyelesaian  $|x-2| = a-3$

Sedangkan jika  $a = 3$  akan menyebabkan hanya ada 1 penyelesaian  $x$  untuk persamaan  $|x - 2| = a - 3$  namun ada dua nilai  $x$  untuk penyelesaian  $|x - 2| = a + 3$

$\therefore$  Nilai  $a$  yang membuat grafik  $f$  memotong sumbu  $x$  tepat di 3 titik adalah  $a = 3$  atau  $a = -3$ .

9.  $s(n) = 1 + 2 + \dots + n = \frac{1}{2}n(n + 1)$

$p(n) = 1 \times 2 \times \dots \times n$

Karena  $n$  genap maka  $\frac{1}{2}n$  bilangan bulat.

Karena  $n + 1 > 1$ ;  $n + 1 > 2$ ;  $\dots$ ;  $n + 1 > n$  maka agar  $p(n)$  habis dibagi  $s(n)$  maka  $n + 1$  tidak boleh prima.

Bilangan genap terkecil yang menyebabkan  $n + 1$  bukan prima adalah 8.

$\therefore$  Bilangan genap terkecil yang memenuhi  $p(n)$  habis dibagi  $s(n)$  adalah 8.

10.  $|x| + x + y = 10$  dan  $x + |y| - y = 12$

\* Jika  $x$  dan  $y$  di kuadran I maka  $|x| = x$  dan  $|y| = y$

$2x + y = 10$  dan  $x = 12$  sehingga  $y = -14$  (tidak memenuhi  $(x, y)$  di kuadran I)

\* Jika  $x$  dan  $y$  di kuadran II maka  $|x| = -x$  dan  $|y| = y$

$y = 10$  dan  $x = 12$  (tidak memenuhi  $(x, y)$  di kuadran II)

\* Jika  $x$  dan  $y$  di kuadran III maka  $|x| = -x$  dan  $|y| = -y$

$y = 10$  dan  $x - 2y = 12$  sehingga  $x = 32$  (tidak memenuhi  $(x, y)$  di kuadran III)

\* Jika  $x$  dan  $y$  di kuadran IV maka  $|x| = x$  dan  $|y| = -y$

$2x + y = 10$  dan  $x - 2y = 12$

Nilai  $(x, y)$  yang memenuhi adalah  $(\frac{32}{5}, -\frac{14}{5})$  (memenuhi  $(x, y)$  di kuadran IV)

$\therefore x + y = \frac{32}{5} - \frac{14}{5} = \frac{18}{5}$

11. Jika  $a$ ,  $b$  dan  $c$  adalah himpunan aritmatika maka  $2b = a + c$  dengan  $a < c$ .

• Jika  $b = 2$  maka  $a + c = 4$ . Ada 1 pasangan  $(a, c)$  yang memenuhi yaitu  $(1, 3)$

• Jika  $b = 3$  maka  $a + c = 6$ . Ada 2 pasangan  $(a, c)$  yang memenuhi yaitu  $(1, 5)$ ,  $(2, 4)$

• Jika  $b = 4$  maka  $a + c = 8$ . Ada 3 pasangan  $(a, c)$  yang memenuhi yaitu  $(1, 7)$ ,  $(2, 6)$ ,  $(3, 5)$

• Jika  $b = 5$  maka  $a + c = 10$ . Ada 3 pasangan  $(a, c)$  yang memenuhi yaitu  $(2, 8)$ ,  $(3, 7)$ ,  $(4, 6)$

• Jika  $b = 6$  maka  $a + c = 12$ . Ada 2 pasangan  $(a, c)$  yang memenuhi yaitu  $(4, 8)$ ,  $(5, 7)$

• Jika  $b = 7$  maka  $a + c = 14$ . Ada 1 pasangan  $(a, c)$  yang memenuhi yaitu  $(6, 8)$

$\therefore$  Banyaknya himpunan aritmatika =  $1 + 2 + 3 + 3 + 2 + 1 = 12$

12.  $(a + 2) + (a + 1) + a = 3(a + 1)$

Maka semua bilangan yang berbentuk  $N = \frac{(a + 2)(a + 1)a}{3}$  habis dibagi 3 sebab penjumlahan digitnya habis dibagi 3.

$321 = 3 \cdot 107$  dengan 3 dan 107 adalah bilangan prima.

Tetapi  $432/107$  bukan bilangan bulat atau 107 tidak membagi 432.

FPB  $(321, 432) = 3$

$\therefore$  Maka kesepuluh bilangan  $N$  semacam itu memiliki faktor persekutuan terbesar = 3

13.  $x^2 + \frac{1}{x^2} = 47$ , maka  $\left(x + \frac{1}{x}\right)^2 - 2 = 47$  sehingga  $x + \frac{1}{x} = 7$

$$\left(\sqrt{x} + \frac{1}{\sqrt{x}}\right)^2 - 2 = 7$$

$$\therefore \sqrt{x} + \frac{1}{\sqrt{x}} = 3$$

14. Misalkan jumlah murid laki-laki = m dan jumlah murid perempuan = n

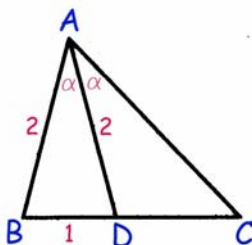
$$(m : (m + n)) : (n : (m + n)) = 2 : 3$$

$$m : n = 2 : 3, \text{ maka } 3m = 2n$$

$$\frac{m}{m+n} = \frac{2m}{2m+3m} = \frac{2}{5}$$

$\therefore$  Persentase murid laki-laki di kelas tersebut adalah 40 %

15.



Karena  $\alpha < 45$  maka  $AC > AD$  sehingga  $AC > 2$

Karena AD adalah garis bagi  $\triangle ABC$  maka berlaku  $\frac{AB}{AC} = \frac{BD}{CD}$  sehingga  $AC = 2 CD$

Misalkan panjang  $CD = x$  maka  $AC = 2x$

$$\text{Pada } \triangle ABD \text{ berlaku } \cos \alpha = \frac{2^2 + 2^2 - 1^2}{2 \cdot 2 \cdot 2} = \frac{7}{8}$$

$$\text{Pada } \triangle ABC \text{ berlaku } \cos 2\alpha = 2\cos^2 \alpha - 1 = \frac{(2x)^2 + 2^2 - (1+x)^2}{2 \cdot (2x) \cdot 2}$$

$$\frac{34}{64} = \frac{4x^2 + 4 - (1 + 2x + x^2)}{8x}$$

$$17x = 12x^2 - 8x + 12$$

$$(4x - 3)(3x - 4) = 0$$

Karena  $AC > 2$  maka  $x > 1$

Nilai x yang memenuhi hanya  $x = \frac{4}{3}$

$$\therefore CD = \frac{4}{3}$$

16.  $ax^4 + bx^3 + 1 = q(x) \cdot (x - 1)^2$

Jelas bahwa  $q(x)$  harus merupakan fungsi kuadrat.

Karena koefisien  $x^4$  adalah  $a$  dan konstanta ruas kiri = 1 maka  $q(x) = ax^2 + px + 1$

$$ax^4 + bx^3 + 1 = (ax^2 + px + 1) \cdot (x^2 - 2x + 1)$$

$$ax^4 + bx^3 + 1 = ax^4 + (-2a + p)x^3 + (a - 2p + 1)x^2 + (p - 2)x + 1$$

Dari persamaan di atas didapat :

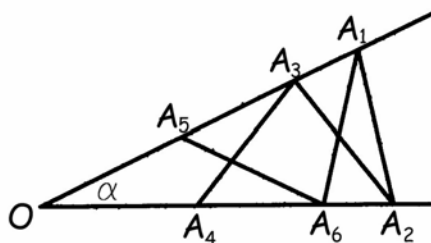
Berdasarkan koefisien  $x$  maka  $p - 2 = 0$  sehingga  $p = 2$

Berdasarkan koefisien  $x^2$  maka  $a - 2p + 1 = 0$  sehingga  $a = 3$

Berdasarkan koefisien  $x^3$  maka  $b = -2a + p$  sehingga  $b = -4$

$$\therefore ab = -12$$

17.



Karena  $A_4O = A_3A_4$  maka  $\triangle OA_4A_3$  sama kaki sehingga  $\angle OA_3A_4 = \alpha$  dan  $\angle A_3A_4A_6 = 2\alpha$

Pada  $\triangle A_4A_3A_2$  sama kaki berlaku  $\angle A_3A_2A_4 = 2\alpha$ , maka  $\angle A_4A_3A_2 = 180^\circ - 4\alpha$  sehingga  $\angle A_2A_3A_1 = 3\alpha$

Pada  $\triangle A_1A_2A_3$  sama kaki berlaku  $\angle A_2A_1A_3 = 3\alpha$ , maka  $\angle A_1A_2A_3 = 180^\circ - 6\alpha$

$$\angle A_1A_2A_6 = \angle A_3A_2A_4 + \angle A_1A_2A_3 = 180^\circ - 4\alpha$$

Pada  $\triangle A_1A_2A_6$  sama kaki berlaku  $\angle A_1A_6A_2 = \angle A_1A_2A_6 = 180^\circ - 4\alpha$ , maka  $\angle A_6A_1A_2 = 8\alpha - 180^\circ$

$$\angle A_5A_1A_6 = \angle A_2A_1A_3 - \angle A_6A_1A_2 = 3\alpha - (8\alpha - 180^\circ) = 180^\circ - 5\alpha$$

Pada  $\triangle A_1A_6A_5$  sama kaki berlaku  $\angle A_6A_5A_1 = \angle A_5A_1A_6 = 180^\circ - 5\alpha$ , maka  $\angle A_6A_5O = 5\alpha$

Pada  $\triangle OA_5A_6$  sama kaki berlaku  $\angle OA_6A_5 = \angle A_5OA_6 = \alpha$

Pada  $\triangle OA_5A_6$  berlaku  $\angle A_5OA_6 + \angle OA_5A_6 + \angle OA_6A_5 = 180^\circ$

$$\alpha + 5\alpha + \alpha = 180^\circ$$

$$\therefore \alpha = \frac{180^\circ}{7}$$

18. Banyaknya susunan 7 angka dengan 3 buah angka 2 yang sama dan 2 buah angka 4 yang sama adalah  $\frac{7!}{3!2!} = 420$ . Tetapi 420 bilangan tersebut termasuk bilangan dengan angka 0 pada angka pertama.

Banyaknya bilangan dengan 0 pada angka pertama adalah  $\frac{6!}{3!2!} = 60$

$\therefore$  Banyaknya bilangan yang dapat dibentuk adalah  $420 - 60 = 360$ .

19.  $a_{k+1} - a_k = 2(a_k - a_{k-1}) - 1$

Misalkan  $a_2 - a_1 = 2 = u_1$

$$a_3 - a_2 = 2(a_2 - a_1) - 1 = 2u_1 - 1 = u_2$$

$$a_4 - a_3 = 2(a_3 - a_2) - 1 = 2u_2 - 1 = u_3$$

$\vdots$

$$a_{k+1} - a_k = 2(a_k - a_{k-1}) - 1 = 2u_{k-1} - 1 = u_k$$

Jumlahkan seluruh persamaan di atas didapat :

$$a_{k+1} - a_1 = u_1 + u_2 + u_3 + \dots + u_k$$

Karena  $a_1, a_2, a_3, \dots$  semuanya asli maka  $a_{k+1} > u_1 + u_2 + u_3 + \dots + u_k$

Misalkan  $a_{k+1} = 2006$

Agar didapat  $(a_1)_{\text{minimal}}$  maka  $u_1 + u_2 + u_3 + \dots + u_k$  harus paling dekat dengan 2006 namun kurang dari 2006

$$u_1 = 2 ; u_2 = 3 ; u_3 = 5 ; u_4 = 9 ; u_5 = 17 ; u_6 = 33 ; u_7 = 65 ; u_8 = 129 ; u_9 = 257 ; u_{10} = 513 \text{ dan } u_{11} = 1025.$$

$$u_1 + u_2 + u_3 + \dots + u_{10} = 1033 \text{ sedangkan } u_1 + u_2 + u_3 + \dots + u_{11} = 2058 > 2006$$

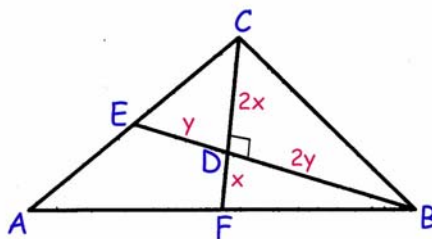
maka  $2006 = a_{11}$

$$a_{11} - a_1 = u_1 + u_2 + u_3 + \dots + u_{10} = 1033$$

$$(a_1)_{\text{minimum}} = 2006 - 1033$$

$$\therefore (a_1)_{\text{minimum}} = 973$$

20.



CF dan BE adalah garis berat yang berpotongan di titik D. Maka  $CD : DF = 2 : 1$  dan  $BD : DE = 2 : 1$

Misalkan  $DF = x$  maka  $CD = 2x$  dan jika  $DE = y$  maka  $BD = 2y$

$$\tan B = \tan (\angle CBD + \angle FBD) = \frac{\tan \angle CBD + \tan \angle FBD}{1 - \tan \angle CBD \cdot \tan \angle FBD}$$

$$\tan B = \frac{\frac{2x}{2y} + \frac{x}{2y}}{1 - \frac{2x}{2y} \cdot \frac{x}{2y}} = \frac{\frac{3xy}{2y^2 - x^2}}{1 - \frac{2x}{2y} \cdot \frac{x}{2y}}, \text{ maka } \operatorname{ctg} B = \frac{2y}{3x} - \frac{x}{3y}$$

$$\tan C = \tan (\angle BCD + \angle ECD) = \frac{\tan \angle BCD + \tan \angle ECD}{1 - \tan \angle BCD \cdot \tan \angle ECD}$$

$$\tan C = \frac{\frac{2y}{2x} + \frac{y}{2x}}{1 - \frac{2y}{2x} \cdot \frac{y}{2x}} = \frac{\frac{3xy}{2x^2 - y^2}}{1 - \frac{2y}{2x} \cdot \frac{y}{2x}}, \text{ maka } \operatorname{ctg} C = \frac{2x}{3y} - \frac{y}{3x}$$

$$\operatorname{ctg} B + \operatorname{ctg} C = \frac{x}{3y} + \frac{y}{3x}$$

Berdasarkan ketaksamaan AM-GM maka :

$$\operatorname{ctg} B + \operatorname{ctg} C \geq 2\sqrt{\frac{x}{3y} \cdot \frac{y}{3x}} = \frac{2}{3}$$

∴ Maka nilai minimum  $\operatorname{ctg} B + \operatorname{ctg} C$  adalah  $\frac{2}{3}$

# SELEKSI OLIMPIADE MATEMATIKA INDONESIA 2007 TINGKAT PROVINSI TAHUN 2006

*Prestasi itu diraih bukan didapat !!!*

## SOLUSI SOAL

Bidang Matematika

Bagian Kedua

Disusun oleh : Eddy Hermanto, ST





## BAGIAN KEDUA

## 1. Alternatif 1 :

Misalkan  $\angle GAF = \alpha$  dan  $\angle GFA = \gamma$

$$\tan A = \frac{BD}{AD} \text{ sedangkan } \tan \alpha = \frac{DE}{AD} = \frac{BD}{2AD} = \frac{\tan A}{2} \quad \dots\dots\dots (1)$$

$$\tan C = \frac{BD}{CD} \text{ sedangkan } \tan \gamma = \frac{BD}{FD} = \frac{2BD}{CD} = 2 \tan C \quad \dots\dots\dots (2)$$

$A + C = 90^\circ$ , maka  $\tan A = \tan (90^\circ - C) = \text{ctg } C$  sehingga  $\tan A \tan C = 1$

$$\tan \alpha \cdot \tan \gamma = \tan A \cdot \tan C = 1$$

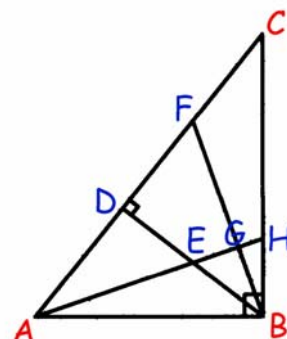
$$\tan (\alpha + \gamma) = \frac{\tan \alpha + \tan \gamma}{1 - \tan \alpha \tan \gamma}$$

Karena  $\tan \alpha \cdot \tan \gamma = 1$  maka  $\alpha + \gamma = 90^\circ$

Pada  $\triangle AGF$  berlaku  $\angle AGF = 180^\circ - (\alpha + \gamma) = 90^\circ$

Karena  $\angle AGF = 90^\circ$  maka  $AG$  tegak lurus  $FG$

$\therefore$  Terbukti bahwa  $AE \perp BF$



## Alternatif 2 :

Misalkan  $\angle BAC = \theta$  maka  $\angle ABD = 90^\circ - \theta$

Jelas bahwa  $\angle DBC = \theta$ . Karena  $\triangle BCD$  siku-siku di D maka  $\angle BCD = 90^\circ - \theta$ .

Akibatnya  $\triangle ABD$  sebangun dengan  $\triangle BCD$ .

Karena E pertengahan BD dan F pertengahan CD maka  $\triangle EAD$  sebangun dengan  $\triangle BDF$ .

Misalkan  $\angle GAF = \alpha$ . Karena  $\triangle EAD$  sebangun dengan  $\triangle BDF$ , maka  $\angle FBD = \alpha$ .

Karena  $\triangle AED$  siku-siku di D maka  $\angle DEA = \angle GEB = 90^\circ - \alpha$ .

Pada  $\triangle BEG$  berlaku :

$$\angle BEG + \angle FBD + \angle EGB = 180^\circ$$

$$(\alpha) + (90^\circ - \alpha) + \angle EGB = 180^\circ$$

$$\angle EGB = 90^\circ$$

Karena  $\angle EGB = 90^\circ$  maka garis  $AG$  tegak lurus  $BF$ .

Jadi garis  $AE$  tegak lurus  $BF$  (terbukti).

$\therefore$  Terbukti bahwa  $AE \perp BF$

2. Dibuat subhimpunan  $\{1, 2005\}$ ,  $\{2, 2004\}$ ,  $\{3, 2003\}$ , ...,  $\{1002, 1004\}$ ,  $\{1003\}$ 

Jika diambil satu bilangan dari masing-masing subhimpunan tersebut maka terdapat 1003 bilangan yang tidak ada sepasang di antaranya yang berjumlah 2006.

Jika ditambahkan satu bilangan lagi selain 1003 bilangan tersebut maka dapat dipastikan terdapat sepasang bilangan yang berjumlah 2006.

$\therefore$  Banyaknya anggota  $S$  harus dipilih agar selalu terdapat paling sedikit satu pasang anggota terpilih yang hasil tambahnya 2006 adalah 1004.

3.  $d = \text{FPB}(7n + 5, 5n + 4)$
- a. Maka  $d \mid 7n + 5$  dan  $d \mid 5n + 4$   
 Karena  $d$  membagi  $7n + 5$  maka  $d$  juga membagi  $5(7n + 5)$   
 Karena  $d$  membagi  $5n + 4$  maka  $d$  juga membagi  $7(5n + 4)$   
 Akibatnya  $d$  juga membagi  $7(5n + 4) - 5(7n + 5) = 3$   
 Karena  $d \mid 3$  maka  $d = 1$  atau  $3$  (terbukti)
- b. Sebuah bilangan akan termasuk ke dalam salah satu bentuk dari  $3k$ ,  $3k + 1$  atau  $3k + 2$   
 Jika  $n = 3k$  maka  $7n + 5 = 21k + 5 \equiv 2 \pmod{3}$  dan  $5n + 4 = 15k + 4 \equiv 1 \pmod{3}$   
 Jika  $n = 3k + 1$  maka  $7n + 5 = 21k + 12 \equiv 0 \pmod{3}$  dan  $5n + 4 = 15k + 9 \equiv 0 \pmod{3}$   
 Jika  $n = 3k + 2$  maka  $7n + 5 = 21k + 19 \equiv 1 \pmod{3}$  dan  $5n + 4 = 15k + 14 \equiv 2 \pmod{3}$   
 $\therefore$  Terbukti bahwa hanya bentuk  $n = 3k + 1$  yang menyebabkan kedua bilangan  $7n + 5$  dan  $5n + 4$  habis dibagi 3 untuk  $n$  bilangan asli.
4. Agar Win akan mengulangi prosedur pelemparan koin lebih dari tiga kali maka pada lemparan yang ketiga masih terdapat sedikitnya satu koin yang muncul dengan sisinya bukan angka. Pada lemparan pertama agar hal tersebut terjadi maka sisi koin yang muncul haruslah terdapat tepat satu sisi angka dan satu sisi bukan angka atau kedua sisi bukan angka.
- Jika pada lemparan pertama yang muncul adalah satu sisi angka dan satu bukan angka.  
 Peluang tersebut adalah  $\frac{1}{2}$ .  
 Pada lemparan kedua dan ketiga sisi satu-satunya koin yang ia lempar harus bukan angka.  
 Peluang pada masing-masing kejadian adalah  $\frac{1}{2}$ .
- Peluang Win akan mengulangi prosedur lebih dari tiga kali adalah  $\frac{1}{2} \cdot \frac{1}{2} \cdot \frac{1}{2} = \frac{1}{8}$
- Jika pada lemparan pertama kedua koin muncul dengan sisi bukan angka  
 Peluang kejadian tersebut adalah  $\frac{1}{2} \cdot \frac{1}{2} = \frac{1}{4}$   
 Agar Win akan mengulangi prosedur maka pada lemparan kedua sisi koin yang muncul haruslah terdapat tepat satu sisi angka dan satu sisi bukan angka atau kedua sisi bukan angka.
- Jika pada lemparan kedua yang muncul adalah satu sisi angka dan satu bukan angka  
 Peluang tersebut adalah  $\frac{1}{2}$ .  
 Pada lemparan ketiga sisi satu-satunya koin yang ia lempar tersebut harus bukan angka.  
 Peluang kejadian tersebut adalah  $\frac{1}{2}$ .
- Peluang Win akan mengulangi prosedur lebih dari tiga kali adalah  $\frac{1}{4} \cdot \frac{1}{2} \cdot \frac{1}{2} = \frac{1}{16}$
- Jika pada lemparan kedua, kedua koin muncul dengan sisi bukan angka  
 Peluang kejadian tersebut adalah  $\frac{1}{2} \cdot \frac{1}{2} = \frac{1}{4}$   
 Agar Win akan mengulangi prosedur maka pada lemparan ketiga sisi koin yang muncul haruslah terdapat tepat satu sisi angka dan satu sisi bukan angka atau kedua sisi bukan angka. Peluang kejadian ini adalah  $\frac{3}{4}$ .
- Peluang Win akan mengulangi prosedur lebih dari tiga kali adalah  $\frac{1}{4} \cdot \frac{1}{4} \cdot \frac{3}{4} = \frac{3}{64}$
- $\therefore$  Maka peluang Win akan mengulangi prosedur tersebut lebih dari 3 kali adalah
- $$\frac{1}{8} + \frac{1}{16} + \frac{3}{64} = \frac{15}{64}$$

5.  $x^2 - 2ax + b = 0$  ..... (1)

$x^2 - 2bx + c = 0$  ..... (2)

$x^2 - 2cx + a = 0$  ..... (3)

Karena akar-akar persamaan kuadrat di atas adalah bilangan asli maka diskriminannya harus merupakan kuadrat sempurna.

Dari pers (1) didapat fakta bahwa  $4a^2 - 4b$  merupakan kuadrat sempurna

Maka  $a^2 - b$  merupakan kuadrat sempurna ..... (4)

Dengan cara yang sama untuk persamaan (2) dan (3) didapat :

$b^2 - c$  juga kuadrat sempurna ..... (5)

$c^2 - a$  juga kuadrat sempurna ..... (6)

Pada persamaan (4) karena  $a$  dan  $b$  bilangan asli maka  $a^2 - b < a^2$  atau  $a^2 - b \leq (a - 1)^2$

$-b \leq -2a + 1$ , maka  $b \geq 2a - 1$  ..... (7)

Dengan cara yang sama untuk persamaan (5) dan (6) didapat :

$c \geq 2b - 1$  ..... (8)

$a \geq 2c - 1$  ..... (9)

Maka :

$a \geq 2c - 1 \geq 2(2b - 1) - 1 \geq 2(2(2a - 1) - 1) - 1$ .

$a \geq 8a - 7$ , maka  $a \leq 1$  sehingga  $a = 1$

Dari persamaan (9) didapat  $1 \geq 2c - 1$  maka  $c \leq 1$  sehingga  $c = 1$

Dari persamaan (8) didapat  $1 \geq 2b - 1$  maka  $b \leq 1$  sehingga  $b = 1$

$\therefore a, b$  dan  $c$  yang memenuhi persamaan tersebut hanya  $a = b = c = 1$



**SELEKSI TIM OLIMPIADE MATEMATIKA INDONESIA 2007**  
**OLIMPIADE SAINS NASIONAL 2006**  
**SEMARANG (JAWA TENGAH), 4 - 9 SEPTEMBER 2006**

**Bidang Matematika**

**Hari Pertama**

**Waktu : 180 Menit**



**DEPARTEMEN PENDIDIKAN NASIONAL**  
**DIREKTORAT JENDERAL MANAJEMEN PENDIDIKAN DASAR DAN MENENGAH**  
**DIREKTORAT PEMBINAAN SEKOLAH MENENGAH ATAS**  
**TAHUN 2006**



**OLIMPIADE SAINS NASIONAL 2006**  
**4 - 9 SEPTEMBER 2006**  
**SEMARANG, JAWA TENGAH**

**BIDANG : MATEMATIKA**

**HARI PERTAMA**

**WAKTU : 180 MENIT**

1. Tentukan semua pasangan bilangan real  $(x, y)$  yang memenuhi
$$\begin{aligned}x^3 - y^3 &= 4(x - y) \\ x^3 + y^3 &= 2(x + y)\end{aligned}$$
2. Misalkan  $a, b, c$  adalah bilangan-bilangan asli. Jika  $30 \mid (a + b + c)$ , buktikan bahwa  $30 \mid (a^5 + b^5 + c^5)$   
[Catatan :  $x \mid y$  menyatakan  $x$  habis membagi  $y$ .]
3. Misalkan  $S$  adalah himpunan semua segitiga  $ABC$  yang memenuhi sifat :  $\tan A, \tan B$  dan  $\tan C$  adalah bilangan-bilangan asli. Buktikan bahwa semua segitiga anggota  $S$  sebangun.
4. Misalkan  $n > 2$  sebuah bilangan asli tetap.  
Sebuah bidak hitam ditempatkan pada petak pertama dan sebuah bidak putih ditempatkan pada petak terakhir sebuah papan 'catur' berukuran  $1 \times n$ . Wiwit dan Siti lalu melangkah bergantian. Wiwit memulai permainan dengan bidak putih. Pada setiap langkah, pemain memindahkan bidaknya sendiri satu atau dua petak ke kanan atau ke kiri tanpa melompati bidak lawan. Pemain yang tidak bisa melangkah dinyatakan kalah. Pemain manakah yang memiliki cara (strategi) untuk selalu memenangkan permainan, apa pun yang dilakukan lawannya ? Jelaskan strategi pemain tersebut ?



**SELEKSI TIM OLIMPIADE MATEMATIKA INDONESIA 2007**  
**OLIMPIADE SAINS NASIONAL 2006**  
**SEMARANG (JAWA TENGAH), 4 - 9 SEPTEMBER 2006**

**Bidang Matematika**

**Hari Kedua**

**Waktu : 180 Menit**



**DEPARTEMEN PENDIDIKAN NASIONAL**  
**DIREKTORAT JENDERAL MANAJEMEN PENDIDIKAN DASAR DAN MENENGAH**  
**DIREKTORAT PEMBINAAN SEKOLAH MENENGAH ATAS**  
**TAHUN 2006**



OLIMPIADE SAINS NASIONAL 2006  
4 - 9 SEPTEMBER 2006  
SEMARANG, JAWA TENGAH

**BIDANG : MATEMATIKA**

**HARI KEDUA**

**WAKTU : 180 MENIT**

5. Pada segitiga ABC, M adalah titik tengah BC dan G adalah titik berat segitiga ABC. Sebuah garis  $\ell$  melalui G memotong ruas garis AB di P dan ruas garis AC di Q, dimana  $P \neq B$  dan  $Q \neq C$ . Jika  $[XYZ]$  menyatakan luas segitiga XYZ, tunjukkan bahwa

$$\frac{[BGM]}{[PAG]} + \frac{[CMG]}{[QGA]} = \frac{3}{2}$$

6. Setiap nomor telepon di suatu daerah terdiri dari 8 angka dan diawali dengan angka 8. Pak Edy, yang baru pindah ke daerah itu, mengajukan pemasangan sebuah telepon baru. Berapakah peluang pak Edy mendapatkan nomor telepon yang memuat tidak lebih dari 5 angka berbeda ?
7. Misalkan  $a, b, c$  bilangan-bilangan real sehingga  $ab, bc, ca$  bilangan-bilangan rasional. Buktikan bahwa ada bilangan-bilangan bulat  $x, y, z$  yang tidak semuanya nol, sehingga  $ax + by + cz = 0$ .
8. Tentukan bilangan bulat 85-angka terbesar yang memenuhi sifat ; jumlah semua angkanya sama dengan hasil kali semua angkanya.

SELEKSI TIM OLIMPIADE MATEMATIKA INDONESIA 2007  
OLIMPIADE SAINS NASIONAL 2006  
SEMARANG (JAWA TENGAH), 4 - 9 SEPTEMBER 2006

*Prestasi itu diraih bukan didapat !!!*

**SOLUSI SOAL**

**Bidang Matematika**



Disusun oleh : Eddy Hermanto, ST



1.  $x^3 - y^3 = 4(x - y)$ , maka  $(x - y)(x^2 + xy + y^2) = 4(x - y)$  ..... (1)

$x^3 + y^3 = 2(x + y)$ , maka  $(x + y)(x^2 - xy + y^2) = 2(x + y)$  ..... (2)

➤ Jika  $x = y$

Substitusikan ke persamaan (2).

$(2x)(x^2) = 4x$ , maka  $x(x^2 - 2) = 0$  sehingga  $x = 0$  atau  $x = \pm\sqrt{2}$

Pasangan  $(x, y)$  yang memenuhi adalah  $(0,0)$ ,  $(\sqrt{2}, \sqrt{2})$ ,  $(-\sqrt{2}, -\sqrt{2})$

➤ Jika  $x = -y$

Substitusikan ke persamaan (1).

$(2x)(x^2) = 8x$ , maka  $x(x^2 - 4) = 0$

$x = 0$ ,  $x = 2$  atau  $x = -2$

Pasangan  $(x, y)$  yang memenuhi adalah  $(0,0)$ ,  $(2, -2)$ ,  $(-2, 2)$

➤ Jika  $x \neq y$  dan  $x \neq -y$

$x^2 + xy + y^2 = 4$  ..... (3)

$x^2 - xy + y^2 = 2$  ..... (4)

Kurangkan (3) dengan (4), maka  $xy = 1$  dan  $x^2 + y^2 = 3$

$(x + y)^2 - 2xy = 3$ , maka  $(x + y)^2 = 5$

\* Jika  $x + y = \sqrt{5}$

$x(\sqrt{5} - x) = 1$

$x^2 - x\sqrt{5} + 1 = 0$

$x = \frac{\sqrt{5}+1}{2}$ , maka  $y = \frac{1}{x} = \frac{\sqrt{5}-1}{2}$  sehingga  $(x, y) = \left(\frac{\sqrt{5}+1}{2}, \frac{\sqrt{5}-1}{2}\right)$

$x = \frac{\sqrt{5}-1}{2}$ , maka  $y = \frac{1}{x} = \frac{\sqrt{5}+1}{2}$  sehingga  $(x, y) = \left(\frac{\sqrt{5}-1}{2}, \frac{\sqrt{5}+1}{2}\right)$

\* Jika  $x + y = -\sqrt{5}$

$x(-\sqrt{5} - x) = 1$

$x^2 + x\sqrt{5} + 1 = 0$

$x = \frac{-\sqrt{5}+1}{2}$ , maka  $y = \frac{1}{x} = -\frac{\sqrt{5}+1}{2}$  sehingga  $(x, y) = \left(\frac{-\sqrt{5}+1}{2}, -\frac{\sqrt{5}+1}{2}\right)$

$x = \frac{-\sqrt{5}-1}{2}$ , maka  $y = \frac{1}{x} = -\frac{\sqrt{5}-1}{2}$  sehingga  $(x, y) = \left(\frac{-\sqrt{5}-1}{2}, -\frac{\sqrt{5}-1}{2}\right)$

Setelah dicek ke persamaan semula, semua pasangan  $(x, y)$  tersebut memenuhi.

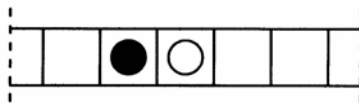
∴ Pasangan  $(x, y)$  yang memenuhi adalah  $(0,0)$ ,  $(\sqrt{2}, \sqrt{2})$ ,  $(-\sqrt{2}, -\sqrt{2})$ ,  $(2, -2)$ ,  $(-2, 2)$ ,

$\left(\frac{\sqrt{5}+1}{2}, \frac{\sqrt{5}-1}{2}\right)$ ,  $\left(\frac{\sqrt{5}-1}{2}, \frac{\sqrt{5}+1}{2}\right)$ ,  $\left(\frac{-\sqrt{5}+1}{2}, -\frac{\sqrt{5}+1}{2}\right)$ ,  $\left(\frac{-\sqrt{5}-1}{2}, -\frac{\sqrt{5}-1}{2}\right)$

2. Akan dibuktikan bahwa  $30 \mid n^5 - n$  untuk  $n$  bilangan asli.  
 $n^5 - n = n(n^2 - 1)(n^2 + 1) = n(n - 1)(n + 1)(n^2 - 4 + 5)$   
 $n^5 - n = (n - 2)(n - 1)n(n + 1)(n + 2) + 5(n - 1)n(n + 1)$   
 Karena  $n - 2, n - 1, n, n + 1, n + 2$  adalah 5 bil. bulat berurutan maka  $(n - 2)(n - 1)n(n + 1)(n + 2)$  habis dibagi  $5! = 120$  sehingga  $30 \mid (n - 2)(n - 1)n(n + 1)(n + 2)$   
 $n - 1, n$  dan  $n + 1$  adalah 3 bilangan bulat berurutan maka  $3! = 6$  membagi  $(n - 1)n(n + 1)$ .  
 Akibatnya  $30 \mid 5(n - 1)n(n + 1)$   
 Maka  $30 \mid n^5 - n$  untuk  $n$  bilangan asli  
 $30 \mid a^5 - a + b^5 - b + c^5 - c$  untuk  $a, b, c$  bilangan asli, maka  $30 \mid a^5 + b^5 + c^5 - (a + b + c)$   
 $\therefore$  Karena  $30 \mid (a + b + c)$  maka  $30 \mid (a^5 + b^5 + c^5)$  (terbukti)

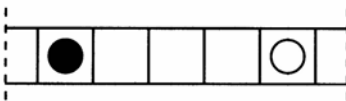
3. Pada segitiga ABC berlaku  $A + B = 180^\circ - C$   
 $\tan(A + B) = \tan(180^\circ - C)$   
 $\frac{\tan A + \tan B}{1 - \tan A \cdot \tan B} = -\tan C$   
 $\tan A + \tan B + \tan C = \tan A \cdot \tan B \cdot \tan C$   
 Misalkan  $\tan A = x, \tan B = y$  dan  $\tan C = z$  untuk  $x, y, z \in \text{Bilangan Asli}$   
 Tanpa mengurangi keumuman misalkan  $x \leq y \leq z$   
 $x + y + z = xyz$ , maka  $3z \geq xyz$  sehingga  $xy \leq 3$   
 Nilai  $(x, y)$  yang memenuhi adalah  $(1, 1), (1, 2)$  dan  $(1, 3)$   
 Jika  $x = 1$  dan  $y = 1$  maka  $1 + 1 + z = z$  sehingga  $2 + z = z$  (tidak ada  $z$  yang memenuhi)  
 Jika  $x = 1$  dan  $y = 2$  maka  $1 + 2 + z = 2z$  sehingga  $z = 3$  (memenuhi)  
 Jika  $x = 1$  dan  $y = 3$  maka  $1 + 3 + z = 3z$  sehingga  $z = 2$  (tidak memenuhi bahwa  $z \geq y$ )  
 Maka tripel bilangan asli  $(\tan A, \tan B, \tan C)$  yang memenuhi adalah  $(1, 2, 3)$  dan permutasinya.  
 Akibatnya nilai  $(A, B, C)$  yang memenuhi hanya ada satu kemungkinan.  
 $\therefore$  Karena hanya ada satu tripel  $(A, B, C)$  yang memenuhi maka semua segitiga anggota  $S$  sebangun (terbukti)

4. Misalkan kejadian (a) adalah kejadian dengan posisi sebagai berikut :



Pemain yang melangkah terlebih dahulu setelah kejadian (a) terjadi akan kalah sebab pemain pertama tersebut hanya bisa melangkah mundur. Jika pemain pertama mundur dua langkah maka pemain kedua akan melangkah maju dua langkah sedangkan jika pemain pertama mundur satu langkah maka pemain kedua akan melangkah maju satu langkah sehingga kejadian (a) akan selalu terjaga sampai suatu saat pemain pertama tersebut tidak dapat melangkah lagi.

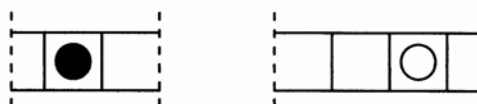
Misalkan kejadian (b) adalah kejadian dengan jarak antara dua bidak sama dengan 3 petak sebagaimana posisi sebagai berikut :



Jika pemain pertama setelah posisi (b) terjadi, melangkah mundur satu langkah maka pemain kedua akan maju satu langkah sedangkan jika pemain pertama mundur dua langkah maka pemain kedua akan maju dua langkah sehingga posisi (b) akan terjaga sampai pemain pertama

maju atau ia tidak dapat lagi mundur sehingga harus maju. Jika pemain pertama maju satu langkah maka pemain kedua akan maju dua langkah sedangkan jika pemain pertama maju dua langkah maka pemain kedua akan maju satu langkah sehingga posisi akan menjadi posisi (a) sehingga sesuai dengan penjelasan sebelumnya maka pemain pertama akan kalah.

Misalkan kejadian (c) adalah kejadian dengan banyaknya petak di antara dua bidak sama dengan  $3k$  petak dengan  $k$  bilangan asli :



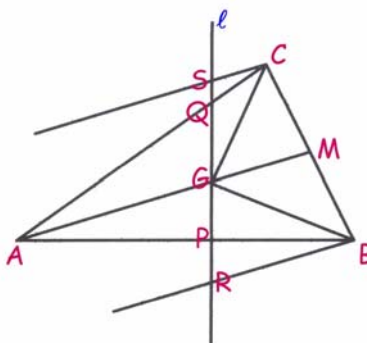
Jika pemain pertama setelah posisi (c) terjadi melangkah mundur satu langkah maka pemain kedua akan maju satu langkah sedangkan jika pemain pertama mundur dua langkah maka pemain kedua akan maju dua langkah sehingga posisi (c) akan terjaga sampai pemain pertama maju atau ia tidak dapat lagi mundur sehingga harus maju. Jika pemain pertama maju satu langkah maka pemain kedua akan maju dua langkah sedangkan jika pemain pertama maju dua langkah maka pemain kedua akan maju satu langkah sehingga banyaknya petak diantara kedua bidak kedua pemain akan menjadi  $3(k - 1)$  petak. Demikian seterusnya sehingga nilai  $k$  akan semakin kecil sampai suatu saat nilai  $k$  akan menjadi 1 dan sebagaimana penjelasan pada posisi (b) pemain pertama akan kalah.

Jika banyaknya petak di antara kedua bidak tidak habis dibagi 3 maka pemain pertama akan memenangkan permainan sebab ia punya kesempatan untuk membuat banyaknya petak di antara kedua bidak akan habis dibagi 3.

∴ Maka dapat disimpulkan bahwa :

Jika  $n$  dibagi 3 bersisa 2 maka pemain kedua (Siti) akan memenangkan permainan sedangkan jika  $n$  dibagi 3 bersisa 0 atau 1 maka pemain pertama (Wiwit) akan memenangkan permainan.

5.



Karena  $G$  adalah titik berat dan  $AM$  adalah garis berat maka  $AG : GM = 2 : 1$ .

$\triangle BGM$  dan  $\triangle BAG$  adalah dua segitiga dengan alas yang sama sehingga perbandingan luas dapat dinyatakan sebagai perbandingan tinggi. Karena  $AG : GM = 2 : 1$  maka  $[BAG] = 2[BGM]$ .

Dengan cara yang sama maka  $[CMG] = 2[CGA]$ .

$$\frac{[BGM]}{[PAG]} + \frac{[CMG]}{[QGA]} = \frac{1}{2} \left( \frac{[BAG]}{[PAG]} + \frac{[CGA]}{[QGA]} \right)$$

Segitiga  $BAG$  dan segitiga  $PAG$  adalah dua segitiga dengan tinggi yang sama maka perbandingan luas dapat dinyatakan sebagai perbandingan alas.  $[BAG] : [PAG] = AB : AP$ .

Dengan cara yang sama maka  $[CGA] : [QGA] = AC : AQ$

$$\left[ \frac{BGM}{PAG} \right] + \left[ \frac{CMG}{QGA} \right] = \frac{1}{2} \left( \left[ \frac{BAG}{PAG} \right] + \left[ \frac{CGA}{QGA} \right] \right) = \frac{1}{2} \left( \frac{AB}{AP} + \frac{AC}{AQ} \right)$$

Alternatif 1 :

$$\left[ \frac{BGM}{PAG} \right] + \left[ \frac{CMG}{QGA} \right] = \frac{1}{2} \left( \frac{AP + BP}{AP} + \frac{AQ + CQ}{AQ} \right) = 1 + \frac{1}{2} \left( \frac{BP}{AP} + \frac{CQ}{AQ} \right)$$

Buat garis melalui B dan C masing-masing sejajar AM. Misalkan garis yang melalui B memotong garis  $\ell$  di R dan garis yang melalui C memotong garis  $\ell$  di S. (Lihat gambar).

Karena AG sejajar BR maka  $\triangle AGP$  sebangun dengan  $\triangle BRP$  sehingga  $\frac{BP}{AP} = \frac{BR}{AG}$

Karena AG sejajar CS maka  $\triangle AGQ$  sebangun dengan  $\triangle CSQ$  sehingga  $\frac{CQ}{AQ} = \frac{CS}{AG}$

$$\left[ \frac{BGM}{PAG} \right] + \left[ \frac{CMG}{QGA} \right] = 1 + \frac{1}{2} \left( \frac{BP}{AP} + \frac{CQ}{AQ} \right) = 1 + \frac{1}{2} \left( \frac{BR}{AG} + \frac{CS}{AG} \right)$$

Mengingat bahwa  $BR + CS = 2 \cdot GM$  maka :

$$\left[ \frac{BGM}{PAG} \right] + \left[ \frac{CMG}{QGA} \right] = 1 + \frac{1}{2} \left( \frac{BR + CS}{AG} \right) = 1 + \frac{1}{2} \left( \frac{2GM}{AG} \right)$$

Mengingat bahwa  $AG : GM = 2 : 1$  maka :

$$\therefore \left[ \frac{BGM}{PAG} \right] + \left[ \frac{CMG}{QGA} \right] = \frac{3}{2} \text{ (terbukti)}$$

Alternatif 2 :

Tanpa mengurangi keumuman misalkan koordinat  $A(0, 0)$ ,  $B(b, 0)$ ,  $C(a, c)$  sehingga  $G\left(\frac{a+b}{3}, \frac{c}{3}\right)$ .

Titik M adalah pertengahan BC sehingga  $M\left(\frac{a+b}{2}, \frac{c}{2}\right)$ .

Garis AC melalui  $(0, 0)$  dan gradien  $\frac{c}{a}$  sehingga persamaan garis AC,  $y = \frac{c}{a}x$ .

Misalkan persamaan garis  $\ell$  adalah  $y = mx + k$ . Garis  $\ell$  melalui titik G maka :

$$\frac{c}{3} = m \left( \frac{a+b}{3} \right) + k, \text{ maka } k = \frac{c - ma - mb}{3}. \text{ Persamaan garis } \ell \text{ adalah } y = mx + \frac{c - ma - mb}{3}$$

Garis  $\ell$  memotong AB di titik P maka  $x_p = \frac{ma - mb - c}{3m}$  sehingga  $P\left(\frac{ma - mb - c}{3m}, 0\right)$ .

Garis  $\ell$  memotong AC di Q, maka  $\frac{c}{a}x_Q = mx_Q + \frac{c - ma - mb}{3}$

$$x_Q = \frac{a(c - ma - mb)}{3(c - ma)} \text{ maka } y_Q = \frac{c(c - ma - mb)}{3(c - ma)}.$$

Sehingga  $Q\left(\frac{a(c - ma - mb)}{3(c - ma)}, \frac{c(c - ma - mb)}{3(c - ma)}\right)$ .

$$|AB| = b; \quad |AP| = \frac{ma + mb - c}{3m}; \quad |AC| = \sqrt{a^2 + c^2}; \quad |AQ| = \frac{(c - ma - mb)}{3(c - ma)} \sqrt{a^2 + c^2}$$

$$\left[ \frac{BGM}{PAG} \right] + \left[ \frac{CMG}{QGA} \right] = \frac{1}{2} \left( \frac{AB}{AP} + \frac{AC}{AQ} \right) = \frac{1}{2} \left( \frac{3mb}{ma + mb - c} + \frac{3(c - ma)}{c - ma - mb} \right)$$

$$\frac{[BGM]}{[PAG]} + \frac{[CMG]}{[QGA]} = \frac{1}{2} \left( \frac{3mb - 3(c - ma)}{ma + mb - c} \right) = \frac{1}{2} \left( \frac{3(ma + mb - c)}{ma + mb - c} \right)$$

$$\therefore \frac{[BGM]}{[PAG]} + \frac{[CMG]}{[QGA]} = \frac{3}{2} \text{ (terbukti)}$$

6. Akan dicari nomor telepon tersebut terdiri dari sedikitnya 6 angka berbeda.

- Jika nomor telepon tersebut terdiri dari 6 angka berbeda  
Banyaknya cara memilih 5 angka tersisa dari 9 angka tersisa adalah  ${}_9C_5$ .
- \* Jika nomor telepon tersebut terdiri dari 1 angka muncul 3 kali dan 5 angka lainnya muncul 1 kali
  - Jika angka yang muncul tiga kali adalah angka 8  
Banyaknya nomor telepon =  ${}_9C_5 \cdot \frac{7!}{2!} = 317.520$
  - Jika angka yang muncul tiga kali adalah bukan angka 8  
Banyaknya nomor telepon =  ${}_9C_5 \cdot {}_5C_1 \cdot \frac{7!}{3!} = 529.200$
- \* Jika nomor telepon tersebut terdiri dari 2 angka masing-masing muncul 2 kali dan 4 angka lainnya muncul 1 kali
  - Jika salah satu angka yang muncul dua kali tersebut adalah angka 8  
Banyaknya nomor telepon =  ${}_9C_5 \cdot {}_5C_1 \cdot \frac{7!}{2!} = 1.587.600$
  - Jika kedua angka yang muncul dua kali tersebut keduanya bukan angka 8  
Banyaknya nomor telepon =  ${}_9C_5 \cdot {}_5C_2 \cdot \frac{7!}{2!2!} = 1.587.600$
- Jika nomor telepon tersebut terdiri dari 7 angka berbeda  
Banyaknya cara memilih 6 angka tersisa dari 9 angka tersisa adalah  ${}_9C_6$ .  
Satu angka akan muncul 2 kali sedangkan 6 angka lain akan muncul satu kali.
- \* Jika angka yang muncul dua kali tersebut adalah angka 8  
Banyaknya nomor telepon =  ${}_9C_6 \cdot 7! = 423.360$
- \* Jika angka yang muncul dua kali tersebut adalah bukan angka 8  
Banyaknya nomor telepon =  ${}_9C_6 \cdot {}_6C_1 \cdot \frac{7!}{2!} = 1.270.080$
- Jika nomor telepon tersebut terdiri dari 8 angka berbeda  
Banyaknya cara memilih 7 angka tersisa dari 9 angka tersisa adalah  ${}_9C_7$ .  
Banyaknya nomor telepon =  ${}_9C_7 \cdot 7! = 181.440$

Misalkan A adalah kejadian banyaknya nomor telepon dengan sedikitnya 6 angka berbeda.

$$A = 317.520 + 529.200 + 1.587.600 + 1.587.600 + 423.360 + 1.270.080 + 181.440 = 5.896.800$$

$$p(A) = \frac{A}{10^7} = 0,58968$$

∴ Peluang bahwa pak Edy mendapatkan nomor telepon yang memuat tidak lebih dari 5 angka berbeda =  $1 - p(A) = 0,41032$

7. Karena  $ab$ ,  $ac$  dan  $bc$  adalah bilangan rasional maka  $\frac{ab}{ac} = \frac{b}{c}$ ,  $\frac{ab}{bc} = \frac{a}{c}$  adalah juga bilangan rasional.

Misalkan  $\frac{ab}{ac} = \frac{b}{c} = \frac{m}{n}$ ,  $\frac{ab}{bc} = \frac{a}{c} = \frac{p}{q}$  untuk  $m, n, p, q \in \text{Bil. Bulat}$  dan  $n, q \neq 0$

- Jika  $a, b, c$  ketiganya sama dengan 0  
Jelas bahwa berapa pun nilai  $(x, y, z)$  bulat akan memenuhi  $ax + by + cz = 0$
- Jika dua di antara  $a, b, c$  sama dengan 0  
Tanpa mengurangi keumuman misalkan  $a = b = 0$  dan  $c \neq 0$   
Nilai  $z = 0$  dan  $x, y \neq 0$  akan memenuhi  $ax + by + cz = 0$
- Jika salah satu  $a, b$  atau  $c$  sama dengan 0  
Tanpa mengurangi keumuman misalkan  $a = 0$  dan  $b, c \neq 0$   
Maka untuk  $x \neq 0, y = z = 0$  akan memenuhi  $ax + by + cz = 0$ .
- Jika tidak ada  $a, b$  dan  $c$  bernilai 0

$$ax + by + cz = c \left( \frac{a}{c}x + \frac{b}{c}y + z \right) = c \left( \frac{p}{q}x + \frac{m}{n}y + z \right)$$

Maka untuk  $x = kq, y = wn$  dan  $z = -(kp + wm)$  dengan  $k, w \in \text{Bilangan Bulat}$  akan memenuhi  $ax + by + cz = 0$

$\therefore$  Terbukti bahwa ada bilangan-bilangan bulat  $x, y, z$  yang tidak semuanya nol, sehingga  $ax + by + cz = 0$

8. Misalkan bilangan 85-angka tersebut adalah  $n$ . Misalkan juga  $S(n)$  adalah jumlah semua angka-angka  $n$  dan  $P(n)$  adalah hasilkali semua angka-angka  $n$ .

Jika 0 adalah salah satu digit dari  $n$  maka  $P(n) = 0$  sehingga  $S(n) = 0$ . Akibatnya semua digit dari  $n$  harus 0 yang tidak memenuhi  $n$  adalah bilangan bulat 85-angka. Maka 0 bukanlah salah satu angka  $n$ .

$S(n)$  maksimal =  $9 \cdot 85 = 765$  jika semua angka  $n$  adalah 9.

Karena  $2^9 = 512 < 765$  dan  $2^{10} = 1024 > 765$  maka paling banyak 9 angka  $n$  bukan 1 dan paling sedikit 76 angka terakhir  $n$  harus sama dengan 1. Maka  $S(n)$  maksimal =  $9 \cdot 9 + 1 \cdot 76 = 157$ .

Karena  $2^7 = 128 < 157$  dan  $2^8 = 256 > 157$  maka paling banyak 7 angka  $n$  bukan 1 dan paling sedikit 78 angka terakhir  $n$  harus sama dengan 1.

$P(n)$  terkecil saat  $n = 2222222111\ldots\ldots111$ , maka  $P(n) = 128$  dan  $S(n) = 92$  sehingga  $P(n) \neq S(n)$

Jika 7 angka pertama  $n$  tidak semuanya 2 maka  $P(n)$  minimal saat  $n = 3222222111\ldots\ldots111$  yaitu 192. Karena  $S(n)$  maksimal =  $9 \cdot 7 + 1 \cdot 78 = 141 < P(n)$  minimal. Maka tidak ada nilai  $n$  yang memenuhi. Akibatnya paling banyak 6 angka  $n$  bukan 1.

Jika paling banyak dua angka dari  $n$  bukan 1 maka  $P(n)$  maksimal =  $9 \cdot 9 \cdot 1 \cdot 1 \cdot \ldots \cdot 1 = 81$  sedangkan  $S(n)$  minimal =  $1 \cdot 85 = 85$ . Maka sedikitnya tiga angka  $n$  bukan 1.

Maka banyaknya angka  $n$  yang bukan 1 paling sedikit 3 dan paling banyak 6.

- Jika angka pertama  $n$  adalah 9  
 $S(n)$  minimal =  $9 \cdot 1 + 2 \cdot 5 + 1 \cdot 79 = 98$  dan  $S(n)$  maksimal =  $9 \cdot 6 + 1 \cdot 79 = 133$   
Karena  $P(n)$  habis dibagi 9 maka  $S(n)$  juga harus habis dibagi 9. Maka kemungkinan nilai  $P(n)$  adalah 99, 108, 117, 126.  
 $99 = 9 \cdot 11$  dan  $117 = 9 \cdot 13$ . Karena 11 dan 13 adalah bilangan prima dua angka maka tidak mungkin  $P(n) = 99$  atau 117.  
Jika  $P(n) = 126 = 9 \cdot 7 \cdot 2$  maka ke-85 angka  $n$  adalah 9, 7, 2 dan 1 sebanyak 82 kali.

$S(n) = 9 + 7 + 2 + 82 = 100$  (tidak memenuhi  $P(n) = S(n)$ ).

Jika  $P(n) = 108 = 9 \cdot 2^2 \cdot 3$  maka kemungkinan angka-angka  $n$  adalah :

- \* Ke-85 angka  $n$  adalah 9, 4, 3 dan 1 sebanyak 82 kali.  $S(n) = 9 + 4 + 3 + 82 = 98$  (tidak memenuhi  $P(n) = S(n)$ )
- \* Ke-85 angka  $n$  adalah 9, 6, 2 dan 1 sebanyak 82 kali.  $S(n) = 9 + 6 + 2 + 82 = 99$  (tidak memenuhi  $P(n) = S(n)$ )
- \* Ke-85 angka  $n$  adalah 9, 3, 2, 2 dan 1 sebanyak 81 kali.  
 $S(n) = 9 + 3 + 2 + 2 + 81 = 97$  (tidak memenuhi  $P(n) = S(n)$ )

Maka tidak ada nilai  $n$  dengan angka pertama adalah 9 yang memenuhi.

- Jika angka pertama  $n$  adalah 8

$S(n)$  minimal  $= 8 + 1 \cdot 84 = 92$  dan  $S(n)$  maksimal  $= 8 \cdot 6 + 1 \cdot 79 = 127$

Karena  $P(n)$  habis dibagi 9 maka  $S(n)$  juga harus habis dibagi 8. Maka kemungkinan nilai  $P(n)$  adalah 96, 104, 112, 120.

Jika  $P(n) = 120 = 8 \cdot 5 \cdot 3$  maka ke-85 angka  $n$  adalah 8, 5, 3 dan 1 sebanyak 82 kali.  
 $S(n) = 8 + 5 + 3 + 82 = 98$  (tidak memenuhi  $P(n) = S(n)$ ).

Jika  $P(n) = 112 = 8 \cdot 7 \cdot 2$  maka ke-85 angka  $n$  adalah 8, 7, 2 dan 1 sebanyak 82 kali.  
 $S(n) = 8 + 7 + 2 + 82 = 99$  (tidak memenuhi  $P(n) = S(n)$ ).

Jika  $P(n) = 104 = 8 \cdot 13$ . Karena 13 adalah bilangan prima dua angka maka tidak ada  $n$  yang memenuhi.

Jika  $P(n) = 96 = 8 \cdot 2^2 \cdot 3$  maka kemungkinan angka-angka  $n$  adalah :

- \* Ke-85 angka  $n$  adalah 8, 4, 3 dan 1 sebanyak 82 kali.  $S(n) = 8 + 4 + 3 + 82 = 97$  (tidak memenuhi  $P(n) = S(n)$ )
- \* Ke-85 angka  $n$  adalah 8, 6, 2 dan 1 sebanyak 82 kali.  $S(n) = 8 + 6 + 2 + 82 = 98$  (tidak memenuhi  $P(n) = S(n)$ )
- \* Ke-85 angka  $n$  adalah 8, 3, 2, 2 dan 1 sebanyak 81 kali.  
 $S(n) = 8 + 3 + 2 + 2 + 81 = 96$  (memenuhi)

Karena angka-angka  $n$  adalah 8, 3, 2, 2 dan 1 sebanyak 81 kali maka  $n$  terbesar yang memenuhi adalah 83221111....111.

∴ Dapat disimpulkan bahwa nilai  $n$  terbesar yang memenuhi adalah 8322111.....111.



**SELEKSI OLIMPIADE TINGKAT KABUPATEN/KOTA TAHUN 2007  
TIM OLIMPIADE MATEMATIKA INDONESIA TAHUN 2008**

**Bidang Matematika**

**Waktu : 3,5 Jam**



**DEPARTEMEN PENDIDIKAN NASIONAL  
DIREKTORAT JENDERAL MANAJEMEN PENDIDIKAN DASAR DAN MENENGAH  
DIREKTORAT PEMBINAAN SEKOLAH MENENGAH ATAS  
TAHUN 2007**



**OLIMPIADE MATEMATIKA NASIONAL  
SELEKSI TINGKAT KOTA/KABUPATEN  
TAHUN 2007**

**Bagian Pertama**

Pilih satu jawaban yang benar. Dalam hal terdapat lebih dari satu jawaban yang benar, pilih jawaban yang paling baik.

1. Jika  $\lfloor x \rfloor$  menyatakan bilangan bulat terbesar yang lebih kecil dari atau sama dengan bilangan real  $x$ , maka  $\lfloor \sqrt{3} - \sqrt{5} \rfloor^2 =$   
A. -1                      B. 0                      C. 1                      D. 9                      E. 81
2. Bilangan  $\sqrt[3]{\sqrt{5} + 2} - \sqrt[3]{\sqrt{5} - 2}$  merupakan bilangan  
A. bulat negatif                      B. bulat positif                      C. pecahan  
D. irrasional positif                      E. irrasional negatif
3. Banyaknya soal yang dikerjakan Amin hari ini bertambah tepat 40% dibandingkan dengan yang dikerjakannya kemarin. Banyaknya soal yang dikerjakan Amin hari ini paling sedikit ada  
A. 5                      B. 6                      C. 7                      D. 8                      E. tidak bisa ditentukan
4. Misalkan  $H$  adalah himpunan semua faktor positif dari 2007. Banyaknya himpunan bagian dari  $H$  yang tidak kosong adalah  
A. 6                      B. 31                      C. 32                      D. 63                      E. 64
5. Misalkan  $N$  sebuah bilangan asli dua-angka dan  $M$  adalah bilangan asli yang diperoleh dengan mempertukarkan kedua angka  $N$ . Bilangan prima yang selalu habis membagi  $N - M$  adalah  
A. 2                      B. 3                      C. 7                      D. 9                      E. 11
6. Sebuah sampel diperoleh dari lima pengamatan. Jika rata-rata hitung (mean) sampel sama dengan 10 dan median sampel sama dengan 12, maka nilai terkecil jangkauan sampel sama dengan  
A. 2                      B. 3                      C. 5                      D. 7                      E. 10
7. Peluang menemukan di antara tiga orang ada paling sedikit dua orang yang lahir dalam bulan yang sama adalah  
A.  $\frac{17}{72}$                       B.  $\frac{33}{72}$                       C.  $\frac{39}{72}$                       D.  $\frac{48}{72}$                       E.  $\frac{55}{72}$
8. Keliling sebuah segitiga adalah 8. Jika panjang sisi-sisinya adalah bilangan bulat, maka luas segitiga tersebut sama dengan  
A.  $2\sqrt{2}$                       B.  $\frac{16}{9}\sqrt{3}$                       C.  $2\sqrt{3}$                       D. 4                      E.  $4\sqrt{2}$

9. Sepotong kawat dipotong menjadi 2 bagian, dengan perbandingan panjang 3:2. Masing-masing bagian kemudian dibentuk menjadi sebuah persegi. Perbandingan luas kedua persegi adalah  
 A. 4 : 3                      B. 3 : 2                      C. 5 : 3                      D. 9 : 4                      E. 5 : 2
10. Untuk setiap bilangan real  $x$  berlaku  $\frac{\tan^2 x + \cos^2 x}{\sin x + \sec x} =$   
 A.  $\sec x + \sin x$                       B.  $\sec x - \sin x$                       C.  $\cos x + \csc x$   
 D.  $\cos x - \csc x$                       E.  $\cos x + \sin x$

## Bagian Kedua

Isikan hanya jawaban saja pada tempat yang disediakan

11. Misalkan  $f(x) = 2x - 1$ , dan  $g(x) = \sqrt{x}$ . Jika  $f(g(x)) = 3$ , maka  $x = \dots$
12. Pengepakan buah "Drosophila" akan mengemas 44 apel ke dalam beberapa kotak. Ada dua jenis kotak yang tersedia, yaitu kotak untuk 10 apel dan kotak untuk 6 apel. Banyak kotak yang diperlukan adalah .....
13. Semua pasangan bilangan bulat  $(x, y)$  yang memenuhi  $x + y = xy - 1$  dan  $x \leq y$ , adalah ....
14. Jika  $n$  adalah bilangan asli sehingga  $3^n$  adalah faktor dari  $33!$ , maka nilai  $n$  terbesar yang mungkin adalah ....
15. Sebuah ruas garis mulai dari titik  $\left(3, 2\frac{1}{5}\right)$  dan berakhir di  $\left(99, 68\frac{3}{5}\right)$ . Banyaknya titik dengan koordinat bilangan bulat yang dilalui garis tersebut adalah .....
16. Pada segitiga PQR samasisi diberikan titik-titik S dan T yang terletak berturut-turut pada sisi QR dan PR demikian rupa, sehingga  $\angle SPR = 40^\circ$  dan  $\angle TQR = 35^\circ$ . Jika titik X adalah perpotongan garis-garis PS dan QT, maka  $\angle SXT = \dots\dots\dots$
17. Pada segitiga ABC yang siku-siku di C, AE dan BF adalah garis-garis berat (median). Maka  $\frac{|AE|^2 + |BF|^2}{|AB|^2} = \dots\dots\dots$
18. Diketahui empat titik pada bidang dengan koordinat  $A(1,0)$ ,  $B(2008,2007)$ ,  $C(2007,2007)$ ,  $D(0,0)$ . Luas jajaran genjang ABCD sama dengan .....
19. Sebuah lingkaran berjari-jari 1. Luas maksimal segitiga samasisi yang dapat dimuat di dalam lingkaran adalah .....
20. Sebuah daerah persegi dibagi menjadi 2007 daerah kecil dengan menarik garis-garis lurus yang menghubungkan dua sisi berbeda pada persegi. Banyak garis lurus yang harus ditarik paling sedikit ada .....

SELEKSI OLIMPIADE TINGKAT KABUPATEN/KOTA 2007  
TIM OLIMPIADE MATEMATIKA INDONESIA 2008

*Prestasi itu diraih bukan didapat !!!*

SOLUSI SOAL

Bidang Matematika



Disusun oleh : Eddy Hermanto, ST

**BAGIAN PERTAMA**

1. (Jawaban : C)

$$\sqrt{3} \approx 1,7 \quad ; \quad \sqrt{5} \approx 2,2$$

$$\sqrt{3} - \sqrt{5} \approx -0,5 \text{ sehingga } \lfloor \sqrt{3} - \sqrt{5} \rfloor = -1. \text{ Maka } \lfloor \sqrt{3} - \sqrt{5} \rfloor^2 = 1$$

$$\therefore \lfloor \sqrt{3} - \sqrt{5} \rfloor^2 = 1$$

2. (Jawaban : B)

$$\text{Misalkan } \sqrt[3]{\sqrt{5} + 2} - \sqrt[3]{\sqrt{5} - 2} = X$$

$$X^3 = (\sqrt{5} + 2) - (\sqrt{5} - 2) - 3\left(\sqrt[3]{\sqrt{5} + 2}\right)\left(\sqrt[3]{\sqrt{5} - 2}\right)\left(\sqrt[3]{\sqrt{5} + 2} + \sqrt[3]{\sqrt{5} - 2}\right)$$

$$X^3 = 4 - 3\left(\sqrt[3]{5 - 4}\right)(X)$$

$$X^3 + 3X - 4 = 0$$

$$(X - 1)(X^2 + X + 4) = 0$$

Akar-akar persamaan  $X^2 + X + 4 = 0$  tidak real. Maka  $X = 1$

$$\sqrt[3]{\sqrt{5} + 2} - \sqrt[3]{\sqrt{5} - 2} = 1$$

$\therefore \sqrt[3]{\sqrt{5} + 2} - \sqrt[3]{\sqrt{5} - 2}$  merupakan bilangan bulat positif.

3. (Jawaban : C)

Misalkan banyaknya soal yang dikerjakan Amin kemarin y maka banyaknya soal yang dikerjakan hari ini adalah  $n = \frac{7}{5}y$  dengan y dan n keduanya asli.

$$\frac{n}{y} = \frac{7}{5}$$

Maka  $y = 5k$  dan  $n = 7k$  untuk suatu bilangan asli k.

Nilai n terkecil adalah saat  $k = 1$  sehingga  $n = 7$

$\therefore$  Banyaknya soal yang dikerjakan Amin hari ini paling sedikit ada 7.

4. (Jawaban : D)

$$2007 = 3^2 \cdot 223^1$$

Banyaknya faktor positif dari 2007 adalah  $(2 + 1)(1 + 1) = 6$

Banyaknya himpunan bagian tak kosong dari H adalah  $2^6 - 1 = 63$ .

$\therefore$  Banyaknya himpunan bagian tak kosong dari H adalah  $2^6 - 1 = 63$ .

5. (Jawaban : B)

Misalkan  $N = 10a + b$  maka  $M = 10b + a$

$$N - M = 9(a - b) \text{ sehingga } 9 \mid (N - M)$$

$\therefore$  Maka bilangan prima yang selalu membagi  $N - M$  adalah 3.

6. (Jawaban : C)

Misalkan bilangan tersebut adalah  $x_1 \leq x_2 \leq x_3 \leq x_4 \leq x_5$ .

Maka  $x_1 + x_2 + x_3 + x_4 + x_5 = 50$  dan  $x_3 = 12$ .

Agar jangkauan minimal maka  $x_5$  harus sekecil mungkin dan  $x_1$  harus sebesar mungkin.

Jelas bahwa  $x_1 < 10$  dan  $x_5 \geq 12$ .

Jika  $x_1 = x_2 = 9$  maka  $x_4 + x_5 = 20$ . Tidak mungkin  $x_5 \geq x_4 \geq 12$ .

Jika  $x_5 = x_4 = 12$  maka  $x_1 + x_2 = 36$ . Nilai terbesar  $x_1$  adalah saat  $x_1 = x_2 = 7$ .

Kelima bilangan tersebut adalah 7, 7, 12, 12, 12.

$\therefore$  Jangkauan =  $12 - 7 = 5$ .

7. (Jawaban : A)

**Alternatif 1 :**

Misalkan A adalah kejadian sedikitnya 2 dari 3 orang lahir pada bulan yang sama. Maka A' adalah kejadian 3 orang lahir pada bulan yang berbeda.

Banyaknya kemungkinan tripel 3 orang lahir adalah  $12 \times 12 \times 12$  kemungkinan.

Banyaknya 3 orang lahir pada bulan yang berbeda adalah  $12 \times 11 \times 10$

$$p(A') = \frac{12 \cdot 11 \cdot 10}{12 \cdot 12 \cdot 12} = \frac{55}{72}$$

$$\text{Maka } p(A) = 1 - \frac{55}{72} = \frac{17}{72}$$

**Alternatif 2 :**

Banyaknya kemungkinan tripel 3 orang lahir adalah  $12 \times 12 \times 12$  kemungkinan.

Banyaknya kemungkinan tepat 2 dari 3 orang lahir pada bulan yang sama =  ${}_3C_2 \times 12 \times 1 \times 11 = 3 \times 12 \times 1 \times 11$

Banyaknya kemungkinan tepat 3 dari 3 orang lahir pada bulan yang sama =  ${}_3C_3 \times 12 \times 1 \times 1 = 1 \times 12 \times 1 \times 1$

$$\text{Peluang paling sedikit dua orang lahir dalam bulan yang sama} = \frac{3 \times 12 \times 1 \times 11 + 1 \times 12 \times 1 \times 1}{12 \times 12 \times 12} = \frac{17}{72}$$

$$\therefore \text{Peluang di antara tiga orang ada paling sedikit dua orang lahir dalam bulan yang sama} = \frac{17}{72}$$

8. (Jawaban : A)

$a + b + c = 8$  dengan a, b, dan c semuanya bilangan asli.

Syarat : panjang salah satu sisi selalu kurang dari jumlah kedua sisi yang lain, Dengan memperhatikan syarat tersebut maka panjang sisi-sisi segitiga yang memenuhi adalah 2, 3, 3.

$$s = \frac{1}{2}(a + b + c) = 4$$

$$\text{Dengan rumus Heron, Luas } \Delta = \sqrt{s(s-a)(s-b)(s-c)} = 2\sqrt{2}$$

$$\therefore \text{Luas } \Delta = 2\sqrt{2}$$

9. (Jawaban : D)

Misalkan panjang kawat semula 20a maka kawat akan terbagi dua dengan panjang 12a dan 8a.

Panjang sisi persegi pertama = 3a dan panjang sisi persegi kedua = 2a.

$$\text{Perbandingan luas} = 3^2 : 2^2 = 9 : 4.$$

$\therefore$  Perbandingan luas kedua persegi adalah 9 : 4.

10. (Jawaban : B)

$$\frac{\tan^2 x + \cos^2 x}{\sin x + \sec x} = \frac{\sec^2 x - 1 + 1 - \sin^2 x}{\sin x + \sec x} = \frac{\sec^2 x - \sin^2 x}{\sin x + \sec x} = \sec x - \sin x$$

$$\therefore \frac{\tan^2 x + \cos^2 x}{\sin x + \sec x} = \sec x - \sin x$$

## BAGIAN KEDUA

11.  $f(\sqrt{x}) = 3$

$$2\sqrt{x} - 1 = 3$$

$$\therefore x = 4$$

12. Misalkan banyaknya keranjang berisi 10 apel = x dan keranjang berisi 6 apel = y dengan x dan y keduanya bulat tak negatif.

$$\text{Maka } 10x + 6y = 44 \text{ sehingga } 5x + 3y = 22$$

$$5x \leq 22$$

Nilai x yang mungkin adalah 0, 1, 2, 3 atau 4.

Setelah dicek satu-satu, nilai x yang memenuhi hanya x = 2 yang membuat y = 4

$$\text{Maka } x + y = 6$$

$\therefore$  Banyak kotak yang diperlukan adalah 6

13.  $xy - x - y - 1 = 0$  sehingga  $(x - 1)(y - 1) = 2$

Maka  $(x - 1) \mid 2$ . Nilai  $x - 1$  yang mungkin adalah  $-1, 1, -2, 2$

Untuk  $x - 1 = -1$  maka  $x = 0$  dan  $y = -1$

Untuk  $x - 1 = 1$  maka  $x = 2$  dan  $y = 3$

Untuk  $x - 1 = -2$  maka  $x = -1$  dan  $y = 0$

Untuk  $x - 1 = 2$  maka  $x = 3$  dan  $y = 2$

Setelah dicek satu-satu pasangan  $(x, y)$  yang memenuhi persamaan dan berlaku  $x \leq y$  adalah  $(-1, 0)$  dan  $(2, 3)$

$\therefore$  Semua pasangan bilangan bulat  $(x, y)$  yang memenuhi adalah  $(-1, 0), (2, 3)$

14. Alternatif 1 :

$$n \text{ terbesar} = \left\lfloor \frac{33}{3} \right\rfloor + \left\lfloor \frac{33}{3^2} \right\rfloor + \left\lfloor \frac{33}{3^3} \right\rfloor + \left\lfloor \frac{33}{3^4} \right\rfloor + \dots$$

$$n \text{ terbesar} = 11 + 3 + 1 + 0 + 0 + \dots$$

$$n \text{ terbesar} = 15$$

Alternatif 2 :

Bilangan dari 1 sampai dengan 33 yang memiliki faktor 3 ada 11 yaitu 3, 6, 9, 12, 15, 18, ..., 33

Di antara 11 bilangan tersebut yang habis dibagi  $3^3 = 27$  ada 1 yaitu 27.

## Olimpiade Matematika Tk Kabupaten/Kota 2007

Di antara 11 bilangan tersebut yang habis dibagi  $3^2 = 9$  tetapi tidak habis dibagi  $3^3 = 27$  ada 2 yaitu 9, 18.

Sisanya adalah 8 bilangan yang habis dibagi 3 tetapi tidak habis dibagi 9 maupun 27.

Maka nilai  $n$  terbesar yang membagi  $33! = 3 \times 1 + 2 \times 2 + 1 \times 8 = 15$ .

$\therefore$  Nilai  $n$  terbesar yang mungkin adalah 15.

15. Persamaan garis yang melalui  $\left(3, 2\frac{1}{5}\right)$  dan  $\left(99, 68\frac{3}{5}\right)$  adalah  $120y = 83x + 15$ .

$$15(8y - 1) = 83x$$

Karena 15 tidak membagi 83 maka 15 membagi  $x$ .

Nilai  $x$  yang mungkin adalah 15, 30, 45, 60, 75 atau 90.

Setelah dicek satu-satu maka nilai  $x$  bulat yang memenuhi  $y$  juga bulat hanyalah  $x = 75$  yang membuat  $y = 52$

$\therefore$  Banyaknya titik dengan koordinat bilangan bulat yang dilalui garis tersebut adalah 1.

16. Pada  $\triangle QRT$  berlaku  $\angle RTQ = 180^\circ - 60^\circ - 35^\circ = 85^\circ$

Pada  $\triangle PRS$  berlaku  $\angle PSR = 180^\circ - 60^\circ - 40^\circ = 80^\circ$

Pada segiempat RSXT berlaku  $360^\circ = 60^\circ + \angle RTQ + \angle PSR + \angle SXT$

$$\angle SXT = 135^\circ.$$

$\therefore \angle SXT = 135^\circ$ .

17. Misalkan  $AC = b$  dan  $BC = a$  maka  $AB^2 = a^2 + b^2$

$$AE^2 = (0,5a)^2 + b^2 \text{ dan } BF^2 = a^2 + (0,5b)^2$$

$$AE^2 + BF^2 = 1,25(a^2 + b^2)$$

$$\therefore \frac{AE^2 + BF^2}{AB^2} = \frac{5}{4}$$

18. Diketahui  $A = (1, 0)$ ,  $B(2008, 2007)$ ,  $C(2007, 2007)$  dan  $D(0, 0)$

Alternatif 1 :

Misalkan  $E(0, 2007)$  dan  $F(2008, 0)$

Luas jajaran genjang = Luas persegi panjang DFBE – Luas  $\triangle DCE$  – Luas  $\triangle AFB$ .

$$\text{Luas jajaran genjang} = 2008 \cdot 2007 - \frac{1}{2} \cdot 2007 \cdot 2007 - \frac{1}{2} \cdot 2007 \cdot 2007 = 2007$$

Alternatif 2 :

$$\text{Panjang alas} = |DA| = 1$$

$$\text{Tinggi} = 2007 - 0 = 2007$$

Luas jajaran genjang = alas  $\times$  tinggi

$$\text{Luas jajaran genjang} = 2007$$

$\therefore$  Luas jajaran genjang = 2007

19. Misalkan segitiga tersebut adalah  $\triangle ABC$ . Agar luas segitiga maksimum maka ketiga titik sudut segitiga sama sisi tersebut harus terletak pada lingkaran.

$R = \frac{abc}{4[ABC]}$  dengan  $[ABC]$  menyatakan luas segitiga ABC.

Karena  $\triangle ABC$  sama sisi maka  $abc = a^3$

$$1 = \frac{a^3}{2a^2 \sin 60^\circ}$$

$$a = \sqrt{3}$$

$$\text{Luas } \triangle ABC = \frac{1}{2} a^2 \sin 60^\circ$$

$$\therefore \text{Luas } \triangle ABC = \frac{3}{4} \sqrt{3}$$

20. Misalkan  $r_n$  adalah banyaknya region maksimal yang terjadi akibat terdapat  $n$  buah garis lurus. Banyaknya region akan maksimal apabila tidak ada sedikitnya dua garis sejajar dan tidak ada sedikitnya tiga garis yang bertemu di satu titik.

Jelas bahwa  $r_0 = 1$ ,  $r_1 = 2$ ,  $r_2 = 4$ ,  $r_3 = 7$ ,  $r_4 = 11$  dan seterusnya.

Ini dirumuskan dengan  $r_n = r_{n-1} + n$

$$r_2 - r_1 = 2$$

$$r_3 - r_2 = 3$$

$$r_4 - r_3 = 4$$

$\vdots$

$$r_n - r_{n-1} = n$$

Jumlahkan semua persamaan didapat :

$$r_n - r_1 = \frac{n-1}{2} (2 + n)$$

$$\text{Karena } r_1 = 2 \text{ maka } r_n = \frac{n^2 + n + 2}{2}$$

$$\text{Jika } n = 62 \text{ maka } r_n = 1954 < 2007$$

$$\text{Jika } n = 63 \text{ maka } r_n = 2017 > 2007$$

Maka banyaknya garis minimal adalah 63.

$\therefore$  Banyaknya garis lurus yang harus ditarik paling sedikit ada 63.





# **SELEKSI OLIMPIADE TINGKAT PROVINSI 2007 TIM OLIMPIADE MATEMATIKA INDONESIA 2008**

**Bidang Matematika**

**Bagian Pertama**

**Waktu : 90 Menit**



**DEPARTEMEN PENDIDIKAN NASIONAL  
DIREKTORAT JENDERAL MANAJEMEN PENDIDIKAN DASAR DAN MENENGAH  
DIREKTORAT PEMBINAAN SEKOLAH MENENGAH ATAS  
TAHUN 2007**

# OLIMPIADE MATEMATIKA TINGKAT PROVINSI TAHUN 2007

## BAGIAN PERTAMA

1. Bilangan ganjil 4-angka terbesar yang hasil penjumlahan semua angkanya bilangan prima adalah
2. Sejumlah uang terdiri dari koin pecahan Rp. 500, Rp. 200, dan Rp. 100 dengan nilai total Rp. 100.000. Jika nilai uang pecahan 500-an setengah dari nilai uang pecahan 200-an, tetapi tiga kali nilai uang pecahan 100-an, maka banyaknya koin adalah ....
3. Panjang sisi miring sebuah segitiga siku-siku sama dengan dua kali panjang sisi terpendeknya, sedangkan panjang sisi ketiga 1 satuan panjang lebih panjang dari panjang sisi terpendeknya. Luas segitiga itu adalah ..... satuan luas.
4. Di antara bilangan-bilangan 2006, 2007 dan 2008, bilangan yang memiliki faktor prima berbeda terbanyak adalah .....
5. Seorang pedagang mobil bekas menjual dua buah mobil dengan harga sama. Ia merugi 10% untuk mobil pertama, tetapi impas (kembali modal) untuk kedua mobil. Persentase keuntungan pedagang itu untuk mobil kedua adalah .....
6. Dona menyusun lima buah persegi yang kongruen menjadi sebuah bangun datar. Tidak ada persegi yang menindih persegi lainnya. Jika luas bangun yang diperoleh Dona adalah  $245 \text{ cm}^2$ , keliling bangun tersebut paling sedikit adalah .... cm.
7. Empat tim sepakbola mengikuti sebuah turnamen. Setiap tim bertanding melawan masing-masing tim lainnya sekali. Setiap kali bertanding, sebuah tim memperoleh nilai 3 jika menang, 0 jika kalah dan 1 jika pertandingan berakhir seri. Di akhir turnamen salah satu tim memperoleh nilai total 4. Jumlah nilai total ketiga tim lainnya paling sedikit adalah ....
8. Untuk bilangan asli  $n$ , didefinisikan  $n! = 1 \times 2 \times 3 \times \dots \times n$ . Dalam bentuk sederhana,  $1!1 + 2!2 + 3!3 + \dots + n!n = \dots$
9. Titik P terletak di kuadran I pada garis  $y = x$ . Titik Q terletak pada garis  $y = 2x$  demikian sehingga PQ tegak lurus terhadap garis  $y = x$  dan  $PQ = 2$ . Maka koordinat Q adalah .....
10. Himpunan semua bilangan asli  $n$  sehingga  $6n + 30$  adalah kelipatan  $2n + 1$  adalah .....
11. Suku konstanta pada ekspansi  $\left(2x^2 - \frac{1}{x}\right)^9$  adalah .....
12. Absis titik potong garis  $\ell$  dengan sumbu-x dan ordinat titik potong  $\ell$  dengan sumbu-y adalah bilangan-bilangan prima. Jika  $\ell$  juga melalui titik (3, 4), persamaan  $\ell$  adalah ....

13. Tujuh belas permen dikemas ke dalam kantong-kantong sehingga banyak permen dalam setiap dua kantong berselisih paling banyak 1. Banyaknya cara mengemas permen tersebut ke dalam paling sedikit dua kantong adalah ....
14. Jika nilai maksimum  $x + y$  pada himpunan  $\{(x, y) \mid x \geq 0, y \geq 0, x + 3y \leq 6, 3x + y \leq a\}$  adalah 4, haruslah  $a = \dots$
15. Sebuah kubus berukuran  $5 \times 5 \times 5$  disusun dari 125 kubus satuan. Permukaan kubus besar lalu dicat. Rasio sisi (permukaan) ke-125 kubus satuan yang dicat terhadap yang tidak dicat adalah ...
16. Sebuah papan persegi dibagi ke dalam  $4 \times 4$  petak dan diwarnai seperti papan catur. Setiap petak diberi nomor dari 1 hingga 16. Andi ingin menutup petak-petak pada papan dengan 7 kartu seukuran  $2 \times 1$  petak. Agar ke-7 kartunya dapat menutupi papan, ia harus membuang dua petak. Banyak cara ia membuang dua petak adalah ....
17. Bilangan-bilangan asli  $1, 2, \dots, n$  dituliskan di papan tulis, kemudian salah satu bilangan dihapus. Rata-rata aritmatika bilangan yang tertinggal adalah  $35\frac{7}{17}$ . Bilangan  $n$  yang memungkinkan ini terjadi adalah ....
18. Diberikan segitiga ABC siku-siku di A, titik D pada AC dan titik F pada BC. Jika  $AF \perp BC$  dan  $BD = DC = FC = 1$ , maka  $AC = \dots$
19. Di antara semua solusi bilangan asli  $(x, y)$  persamaan  $\frac{x+y}{2} + \sqrt{xy} = 54$ , solusi dengan  $x$  terbesar adalah  $(x, y) = \dots$
20. Misalkan  $V$  adalah himpunan titik-titik pada bidang dengan koordinat bilangan bulat dan  $X$  adalah himpunan titik tengah dari semua pasangan titik pada himpunan  $V$ . Untuk memastikan bahwa ada anggota  $X$  yang juga memiliki koordinat bilangan bulat, banyak anggota  $V$  paling sedikit harus ....



# **SELEKSI OLIMPIADE TINGKAT PROVINSI 2007 TIM OLIMPIADE MATEMATIKA INDONESIA 2008**

**Bidang Matematika**

**Bagian Kedua**

**Waktu : 120 Menit**



**DEPARTEMEN PENDIDIKAN NASIONAL  
DIREKTORAT JENDERAL MANAJEMEN PENDIDIKAN DASAR DAN MENENGAH  
DIREKTORAT PEMBINAAN SEKOLAH MENENGAH ATAS  
TAHUN 2007**

# OLIMPIADE MATEMATIKA TINGKAT PROVINSI TAHUN 2007

## BAGIAN KEDUA

1. Misalkan ABCD sebuah segiempat dengan  $AB = BC = CD = DA$ .
  - (a) Buktikan bahwa titik A harus berada di luar segitiga BCD.
  - (b) Buktikan bahwa setiap pasangan sisi berhadapan pada ABCD selalu sejajar.
2. Misalkan a dan b dua bilangan asli, yang satu bukan kelipatan yang lainnya. Misalkan pula  $KPK(a,b)$  adalah bilangan 2-angka, sedangkan  $FPB(a,b)$  dapat diperoleh dengan membalik urutan angka pada  $KPK(a,b)$ . Tentukan b terbesar yang mungkin.  
[KPK : Kelipatan Persekutuan terKecil; FPB : Faktor (pembagi) Persekutuan terBesar]
3. Tentukan semua bilangan real x yang memenuhi  $x^4 - 4x^3 + 5x^2 - 4x + 1 = 0$
4. Pada segitiga lancip ABC, AD, BE dan CF adalah garis-garis tinggi, dengan D, E, F berturut-turut pada sisi BC, CA, dan AB. Buktikan bahwa
$$DE + DF \leq BC$$
5. Bilangan-bilangan 1, 2, 3, ..., 15, 16 disusun pada persegi 4 x 4. Untuk  $i = 1, 2, 3, 4$ , misalkan  $b_i$  adalah jumlah bilangan-bilangan pada baris ke-i dan  $k_i$  adalah jumlah bilangan-bilangan pada kolom ke-i. Misalkan pula  $d_1$  dan  $d_2$  adalah jumlah bilangan-bilangan pada kedua diagonal. Susunan tersebut dapat disebut *antimagic* jika  $b_1, b_2, b_3, b_4, k_1, k_2, k_3, k_4, d_1, d_2$  dapat disusun menjadi sepuluh bilangan berurutan. Tentukan bilangan terbesar di antara sepuluh bilangan berurutan ini dapat diperoleh dari sebuah *antimagic*.

SELEKSI OLIMPIADE TINGKAT PROVINSI 2007  
TIM OLIMPIADE MATEMATIKA INDONESIA 2008

*Prestasi itu diraih bukan didapat !!!*

**SOLUSI SOAL**

**Bidang Matematika**

**Bagian Pertama**



Disusun oleh : Eddy Hermanto, ST

## BAGIAN PERTAMA

1. Penjumlahan semua angkanya maksimal = 36. Tetapi 36, 35, 34, 33 dan 32 bukan bilangan prima. Maka penjumlahan maksimal semua angkanya = 31.  
Dua angka pertama harus sebesar mungkin, yaitu 99. Jika angka ke-3 juga 9 maka angka ke-4 harus 4, tetapi 9994 bukanlah bilangan ganjil. Maka angka ketiga haruslah 8 dengan angka keempat adalah 5 yang merupakan bilangan ganjil.  
∴ Bilangan ganjil 4-angka yang memenuhi adalah **9985**.

2. Misalkan nilai uang pecahan 100-an =  $x$   
Maka nilai uang pecahan 500-an =  $3x$  dan nilai uang pecahan 200-an =  $6x$   
Karena  $(x) + (3x) + (6x) = 100.000$  maka  $x = 10.000$   
Banyaknya koin 100-an =  $10000 : 100 = 100$   
Banyaknya koin 200-an =  $(6 \cdot 10000) : 200 = 300$   
Banyaknya koin 500-an =  $(3 \cdot 10000) : 500 = 60$   
∴ Banyaknya koin =  $100 + 300 + 60 = 460$ .

3. Misalkan panjang sisi miring segitiga tersebut =  $r$ , sisi terpendek =  $x$  dan sisi lainnya =  $y$   
Diketahui bahwa  $r = 2x$  dan  $y = x + 1$   
 $x^2 + y^2 = r^2$  maka  $x^2 + (x + 1)^2 = (2x)^2$

$$2x^2 - 2x - 1 = 0 \text{ maka } x_{1,2} = \frac{2 \pm \sqrt{2^2 - 4(2)(-1)}}{2 \cdot 2} = \frac{1 \pm \sqrt{3}}{2}$$

$$\text{Ambil nilai } x \text{ yang positif maka } x = \frac{1 + \sqrt{3}}{2} \text{ sehingga } y = \frac{3 + \sqrt{3}}{2}$$

$$\text{Luas segitiga} = \frac{1}{2} \cdot x \cdot y$$

$$\therefore \text{Luas segitiga} = \frac{3 + 2\sqrt{3}}{4}$$

4.  $2006 = 2 \cdot 17 \cdot 59$  ;  $2007 = 3^2 \cdot 223$  ;  $2008 = 2^3 \cdot 251$

Banyaknya faktor prima dari 2006 = 3

Banyaknya faktor prima dari 2007 = 2

Banyaknya faktor prima dari 2008 = 2

∴ Maka bilangan yang memiliki faktor prima berbeda terbanyak adalah **2006**.

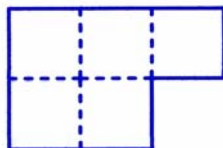
5. Misalkan ia menjual mobil masing-masing seharga  $y$ . Misalkan juga modal mobil pertama adalah  $x$ . Maka agar impas modal mobil kedua haruslah  $2y - x$ .

$$\frac{x - y}{x} = \frac{1}{10} \text{ sehingga } 10y = 9x$$

$$\text{Keuntungan mobil kedua} = \frac{y - (2y - x)}{2y - x} = \frac{x - y}{2y - x} = \frac{10x - 9x}{18x - 10x} = \frac{1}{8}$$

∴ Persentase keuntungan pedagang untuk mobil kedua = **12,5 %**

6. Karena tidak ada yang tumpang tindih maka luas persegi =  $245 : 5 = 49 \text{ cm}^2$ .  
 Panjang sisi persegi = 7.  
 Agar kelilingnya kecil maka harus semakin banyak sisi-sisi persegi yang menempel dengan sisi-sisi yang lain.



$\therefore$  Keliling persegi =  $10 \times$  panjang sisi persegi = 70 cm

7. Apabila pertandingan dua tim berakhir seri maka total nilai yang didapat kedua tim adalah 2 sedangkan apabila pertandingan dua buah tim berakhir dengan kemenangan salah satu tim maka total nilai kedua tim sama dengan 3.  
 Total pertandingan =  ${}_4C_2 = 6$ .  
 Nilai 4 hanya didapat jika tim tersebut menang satu kali, seri satu kali dan kalah satu kali.  
 Agar jumlah nilai ketiga tim lainnya paling sedikit maka haruslah tiga pertandingan lainnya berakhir seri.  
 Maka dari 6 pertandingan terdapat 4 pertandingan yang berakhir seri.  
 Nilai total keempat tim =  $2 \cdot 4 + 3 \cdot 2 = 14$   
 Maka total nilai ketiga tim lainnya =  $14 - 4 = 10$ .  
 $\therefore$  Maka total nilai ketiga tim lainnya paling sedikit =  $14 - 4 = 10$ .

8.  $1!1 + 2!2 + 3!3 + \dots + n!n = 1!(2-1) + 2!(3-1) + 3!(4-1) + \dots + n!((n+1)-1)$   
 $1!1 + 2!2 + 3!3 + \dots + n!n = (2! - 1!) + (3! - 2!) + (4! - 3!) + \dots + (n+1)! - n!$   
 $1!1 + 2!2 + 3!3 + \dots + n!n = (n+1)! - 1!$   
 $\therefore 1!1 + 2!2 + 3!3 + \dots + n!n = (n+1)! - 1$

9. Misalkan koordinat  $Q(x_Q, y_Q)$  dan  $P(x_P, y_P)$

Alternatif 1 :

Karena P di kuadran I maka Q pun akan di kuadran I. Karena  $y_Q = 2x_Q$  maka  $y_Q \geq x_Q$

Jarak Q ke garis  $y = x$  adalah  $PQ = 2$ .

Jarak  $Q(x_Q, y_Q)$  ke garis  $Ax + By + C = 0$  dirumuskan dengan :

$$d = \left| \frac{Ax_Q + By_Q + C}{\sqrt{A^2 + B^2}} \right|$$

Maka :

$$d = \left| \frac{y_Q - x_Q}{\sqrt{1^2 + 1^2}} \right| = 2. \text{ Maka } y_Q - x_Q = 2\sqrt{2} \dots\dots\dots (1)$$

Karena garis  $y = 2x$  melalui Q maka  $y_Q = 2x_Q \dots\dots (2)$

Dari persamaan (1) dan (2) didapat  $x_Q = 2\sqrt{2}$  dan  $y_Q = 4\sqrt{2}$



**Alternatif 2 :**

Gradien garis  $y = x$  adalah  $m = 1$ . Maka gradien garis yang melalui PQ adalah  $m_{PQ} = -1$

$$\frac{y_Q - y_P}{x_Q - x_P} = -1. \text{ Maka } 2x_Q - x_P = x_P - x_Q \text{ sehingga } 3x_Q = 2x_P \dots\dots\dots (3)$$

$$\sqrt{(x_Q - x_P)^2 + (y_Q - y_P)^2} = 2 \text{ sehingga } (x_Q^2 - 2x_Qx_P + x_P^2) + (4x_Q^2 - 4x_Qx_P + x_P^2) = 4$$

$$5x_Q^2 - 6x_Qx_P + 2x_P^2 = 4 \dots\dots\dots (4)$$

Substitusikan persamaan  $3x_Q = 2x_P$  ke persamaan (4)

$$10x_Q^2 - 18x_Q^2 + 9x_Q^2 = 8$$

Karena Q di kuadran I maka  $x_Q = 2\sqrt{2}$  dan  $y_Q = 4\sqrt{2}$

$\therefore$  Koordinat Q adalah  $(2\sqrt{2}, 4\sqrt{2})$ .

10.  $6n + 30 = k(2n + 1)$  untuk suatu  $k$  dan  $n$  bilangan asli.

$$(k - 3)(2n + 1) = 27 = 3^3$$

Nilai  $2n + 1$  yang memenuhi hanya jika  $2n + 1 = 3, 9$  atau  $27$

Jika  $2n + 1 = 3$  maka  $k - 3 = 9$  sehingga  $n = 1$  dan  $k = 12$

Jika  $2n + 1 = 9$  maka  $k - 3 = 3$  sehingga  $n = 4$  dan  $k = 6$

Jika  $2n + 1 = 27$  maka  $k - 3 = 1$  sehingga  $n = 13$  dan  $k = 4$

$\therefore$  Nilai  $n$  asli yang memenuhi  $6n + 30$  adalah kelipatan  $2n + 1$  adalah  $n = 1, 4, 13$ .

$$11. \left(2x^2 - \frac{1}{x}\right)^9 = {}_9C_0(2x^2)^9\left(-\frac{1}{x}\right)^0 + \dots + {}_9C_k(2x^2)^k\left(-\frac{1}{x}\right)^{9-k} + \dots$$

Untuk mencari suku konstanta maka harus dipenuhi  $x^{2k} \cdot x^{k-9} = x^0$  sehingga  $k = 3$

$${}_9C_3(2x^2)^3(x)^{3-9} = 672$$

$\therefore$  Maka konstanta pada ekspansi  $\left(2x^2 - \frac{1}{x}\right)^9$  adalah **672**.

12. Misalkan persamaan garis  $\ell$  adalah  $y = mx + c$

Karena titik potongnya dengan sumbu  $y$  bilangan prima maka  $c$  adalah bilangan prima.

Titik potong dengan sumbu  $x$  jika  $y = 0$ . Maka  $mx + c = 0$  sehingga  $x = -\frac{c}{m}$  adalah bilangan prima.

Karena  $c$  prima maka  $-\frac{c}{m}$  akan prima hanya jika  $m = -1$ . Maka  $y = -x + c$

Karena garis melalui titik  $(3, 4)$  maka  $4 = -3 + c$ . Akibatnya  $c = 7$  dan  $y = -x + 7$

$\therefore$  Persamaan garis  $\ell$  adalah  $y = -x + 7$ .

13. Karena dalam setiap dua kantong berselisih paling banyak 1, maka banyaknya permen hanya akan ada 2 jenis, yaitu  $m$  dan  $m + 1$ .

**Pendapat 1 :**

Karena  $17 \equiv 1 \pmod{2}$  maka untuk dua kantong akan terdapat dua kemungkinan yaitu satu kantong berisi 8 permen sedangkan kantong lainnya 9 permen dan sebaliknya.

Karena  $17 \equiv 2 \pmod{3}$  maka untuk tiga kantong, kemungkinan mengemas permen akan terdiri dari dua kantong berisi 6 permen dan satu kantong lagi berisi 5 permen. Banyaknya

cara mengemas permen pada kasus ini adalah  $\frac{3!}{2!1!} = 3$  cara.

Karena  $17 \equiv 1 \pmod{4}$  maka untuk empat kantong, kemungkinan mengemas permen akan terdiri dari satu kantong berisi 5 permen dan tiga kantong lagi berisi 4 permen. Banyaknya

cara mengemas permen pada kasus ini adalah  $\frac{4!}{1!3!} = 4$  cara. Demikian seterusnya.

Misalkan Banyaknya cara = N maka :

$$N = \frac{2!}{1!1!} + \frac{3!}{2!1!} + \frac{4!}{1!3!} + \frac{5!}{2!3!} + \frac{6!}{5!1!} + \frac{7!}{3!4!} + \frac{8!}{1!7!} + \frac{9!}{8!1!} + \frac{10!}{7!3!} + \frac{11!}{6!5!} + \frac{12!}{5!7!} + \frac{13!}{4!9!} + \frac{14!}{3!11!} + \frac{15!}{2!13!} + \frac{16!}{1!15!} + \frac{17!}{0!17!}$$

$$\text{Banyaknya cara} = 2 + 3 + 4 + 10 + 6 + 35 + 8 + 9 + 120 + 462 + 792 + 715 + 364 + 105 + 16 + 1$$

$$\therefore \text{Banyaknya cara mengemas permen} = 2652$$

#### Pendapat 2 :

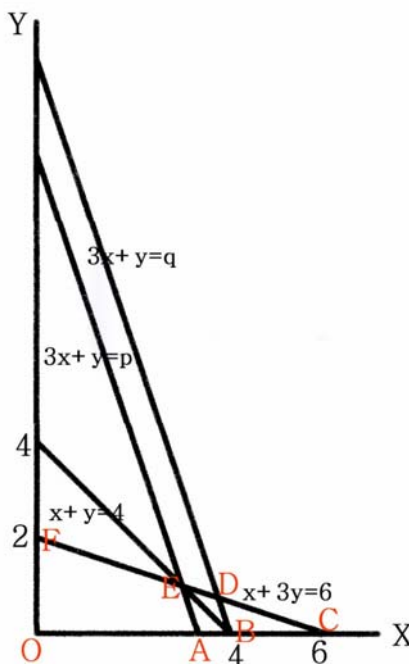
Karena banyaknya permen pada masing-masing kantong adalah m atau m + 1 maka pada masing-masing banyaknya kantong hanya akan ada 1 kemungkinan cara mengemas permen.

$\therefore$  Karena kemungkinan banyaknya kantong ada 16, maka banyaknya cara mengemas permen ada 16.

**Catatan :** Pendapat 1 didasarkan asumsi bahwa kantong-kantong tersebut semuanya berbeda sehingga 8 permen dimasukkan ke kantong pertama dan 9 permen dimasukkan ke kantong kedua akan berbeda dengan bila 9 permen dimasukkan ke kantong pertama dan 8 permen dimasukkan ke kantong kedua. Sedangkan Pendapat 2 didasarkan asumsi bahwa kantong-kantong tersebut semuanya identik sehingga 8 permen dimasukkan ke kantong pertama dan 9 permen dimasukkan ke kantong kedua akan sama dengan bila 9 permen dimasukkan ke kantong pertama dan 8 permen dimasukkan ke kantong kedua. Solusi Panitia Pusat adalah sesuai dengan pendapat 2.

#### 14. Alternatif 1 :

Digambar daerah  $x \geq 0$ ,  $y \geq 0$  dan  $x + 3y \leq 6$ .



Daerah yang memenuhi  $x \geq 0$ ,  $y \geq 0$  dan  $x + 3y \leq 6$  adalah OCF.

Dibuat garis  $x + y = 4$

Perpotongan garis  $x + 3y = 6$  dengan  $x + y = 4$  adalah di  $E(3, 1)$ .

Perpotongan garis  $y = 0$  dengan  $x + y = 4$  adalah di  $B(4, 0)$ .

Dibuat garis  $3x + y = p$  yang melalui  $E(3, 1)$  dan  $3x + y = q$  yang melalui  $B(4, 0)$ .

Maka akan didapat nilai  $p = 10$  dan  $q = 12$ .

Garis  $3x + y = 12$  memotong garis  $x + 3y = 6$  di  $D\left(\frac{15}{4}, \frac{3}{4}\right)$  yang membuat  $x + y > 4$ .

Garis  $3x + y = 10$  memotong garis  $y = 0$  di  $A\left(\frac{10}{3}, 0\right)$  yang membuat  $x + y < 4$ .

Karena nilai  $x + y$  yang diminta dalam soal adalah nilai maksimum maka persamaan  $3x + y \leq a$  yang memenuhi adalah  $3x + y \leq 10$ .

∴ Maka nilai  $a$  yang memenuhi adalah  $a = 10$ .

#### Alternatif 2 :

Karena  $x + 3y \leq 6$  dan  $3x + y \leq a$  maka  $4(x + y) \leq 6 + a$

Karena maks( $x + y$ ) = 4 maka haruslah dipenuhi  $4 \cdot 4 = 6 + a$

$a = 10$

∴ Maka nilai  $a$  yang memenuhi adalah  $a = 10$ .

15. Banyaknya sisi dapat dinyatakan dalam luasan.

Luasan yang dicat =  $6 \times 5 \times 5 = 150$ .

Luasan keseluruhan =  $125 \text{ buah} \times 6 \times 1 \times 1 = 750$

Luasan yang tidak dicat =  $750 - 150 = 600$

∴ Rasio sisi yang dicat terhadap yang tidak dicat =  $150 : 600 = 1 : 4$ .

16. Jika satu kartu ditaruh pada papan maka kartu tersebut akan menutupi satu petak warna hitam dan satu petak warna putih. Maka jelas bahwa dua petak yang dibuang agar dipenuhi bahwa sisa petak dapat ditutupi oleh 7 buah kartu harus memenuhi bahwa kedua petak tersebut berbeda warna.

Akan dibuktikan bahwa bagaimana pun cara memilih petak asalkan berbeda warna maka sisanya akan dapat ditutupi oleh 7 buah kartu.


Dalam satu baris  $4 \times 1$  petak maupun dalam satu kolom  $1 \times 4$  petak, jelas dapat ditutupi oleh dua buah kartu.

- Jika dua petak yang dibuang berada pada satu baris

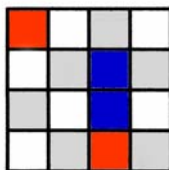
Jika 2 petak tersebut berada pada kolom ke-1 dan 2 atau kolom 3 dan 4 maka sisanya dapat ditutupi oleh 1 buah kartu. Tiga baris sisa akan dapat ditutupi oleh 6 buah kartu. Jika 2 petak tersebut berada pada kolom ke-2 dan 3 maka jelas baris tersebut dan baris didekatnya dapat ditutupi oleh 3 buah kartu. Sedangkan 2 baris sisanya dapat ditutupi oleh 4 buah kartu lagi.

- Jika dua petak yang dibuang, salah satunya di baris ke- $n$  sedangkan satu lagi di baris ke- $(n+1)$  Jelas juga bahwa dua baris tersebut dapat ditutupi oleh tiga buah kartu. Dua baris lainnya sesuai dengan keterangan sebelumnya dapat ditutupi oleh 4 buah kartu.

- Jika dua petak yang dibuang, salah satunya di baris ke- $n$  sedangkan satu lagi di baris ke- $(n+2)$  Taruh sebuah kartu dalam arah vertikal sedemikian sehingga terdapat satu baris berisi satu petak yang dibuang dan satu petak lagi merupakan salah satu petak dari kartu yang ditaruh dengan warna kedua petak tersebut berbeda. Maka akan terbentuk 2 bagian. Satu bagian terdiri dari 2 baris dengan 2 petak "dibuang" dan satu baris sisanya terdiri 2 petak yang 'dibuang'. Sesuai dengan keterangan sebelumnya maka sisa petak akan dapat ditutupi oleh 6 buah kartu.



- Jika dua petak yang dibuang, salah satunya di baris ke-1 sedangkan satu lagi di baris ke-4 Taruh sebuah kartu vertikal dengan kedua petaknya terletak pada baris ke-2 dan ke-3 sedemikian sehingga dua petak pada baris ke-1 dan ke-2 yang tidak dapat ditaruh kartu lagi akan berbeda warna. Maka sesuai dengan keterangan sebelumnya pada baris ke-1 dan ke-2 dapat ditutupi oleh tiga buah kartu lagi. Demikian juga dengan baris ke-3 dan ke-4.



Terbukti bahwa bagaimana pun cara memilih petak asalkan berbeda warna maka sisanya akan dapat ditutupi oleh 7 buah kartu..

Banyaknya petak hitam dan putih masing-masing ada 8. Maka banyaknya cara memilih dua petak agar dapat dipenuhi adalah  $8 \times 8 = 64$ .

$\therefore$  Banyaknya cara memilih dua petak = 64.

(Catatan : Persoalan persegi panjang dengan ukuran yang lebih umum pernah dibahas di [www.olimpiade.org](http://www.olimpiade.org). Pembuktian dapat dilakukan dengan induksi matematika)

17. Misalkan bilangan yang dihapus adalah  $k$ .

$$\frac{1 + 2 + \dots + n - k}{n - 1} = \frac{602}{17} \text{ maka } \frac{n}{2} + \frac{n - k}{n - 1} = 35 \frac{7}{17}$$

$$\text{Karena } k \geq 1 \text{ maka } n - k \leq n - 1 \text{ sehingga } 0 \leq \frac{n - k}{n - 1} \leq 1$$

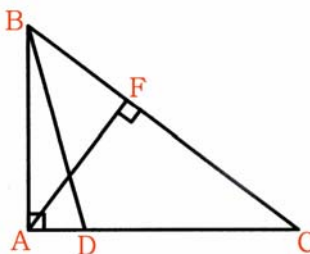
$$34 \frac{7}{17} \leq \frac{n}{2} \leq 35 \frac{7}{17} \text{ sehingga } 68 < n \leq 70$$

Jika  $n = 70$  maka  $k = (1 + 2 + 3 + \dots + 70) - \frac{602}{17} \cdot 69$ . Karena 17 tidak membagi 69 maka tidak ada nilai  $k$  asli yang memenuhi.

$$\text{Jika } n = 69 \text{ maka } k = (1 + 2 + 3 + \dots + 69) - \frac{602}{17} \cdot 68 = 7$$

$\therefore$  Maka  $n = 69$

18. Misalkan panjang  $AC = x$  maka  $AD = x - 1$



Pada  $\triangle AFC$  berlaku  $AC \cos C = FC$  maka  $\cos C = \frac{1}{x}$

Karena  $DC = DB$  maka  $\triangle CDB$  sama kaki sehingga  $\angle DBC = C$ .

Akibatnya  $\angle BDA = 2C$

Pada  $\triangle BDA$  berlaku :

$BD \cos \angle BDA = AD$ . Maka  $1 \cdot \cos 2C = x - 1$  sehingga  $2\cos^2 C - 1 = x - 1$

$$\frac{2}{x^2} = x$$

$$x = \sqrt[3]{2}$$

$$\therefore \text{Maka } AC = \sqrt[3]{2}$$

19.  $\frac{x+y}{2} + \sqrt{xy} = 54$ . Maka  $(\sqrt{x} + \sqrt{y})^2 = 108$

$$\sqrt{x} + \sqrt{y} = 6\sqrt{3}$$

Karena  $x$  dan  $y$  keduanya bilangan asli maka  $x$  dan  $y$  keduanya harus berbentuk  $3k^2$ .

Agar didapat solusi  $x$  terbesar maka  $y$  haruslah minimal. Nilai terkecil  $y$  adalah  $y = 3$ .

Maka didapat  $\sqrt{x} = 5\sqrt{3}$  sehingga  $x = 75$ .

$\therefore$  Maka solusi dengan  $x$  terbesar adalah  $(x, y) = (75, 3)$ .

20. Misal koordinat  $V_1(x_1, y_1)$  dan  $V_2(x_2, y_2)$  dengan titik tengah  $V_1$  dan  $V_2$  adalah  $X_{12}$ .

Maka koordinat  $X_{12}$  adalah  $(\frac{1}{2}(x_1 + x_2), \frac{1}{2}(y_1 + y_2))$ .

Jika  $X_{12}$  memiliki koordinat bilangan bulat maka haruslah  $x_1 + x_2$  dan  $y_1 + y_2$  genap.

Syarat itu terjadi haruslah  $x_1$  dan  $x_2$  memiliki paritas yang sama dan  $y_1$  dan  $y_2$  juga memiliki paritas yang sama.

Kemungkinan jenis koordinat (dalam bahasa lain disebut paritas) suatu titik letis pada bidang hanya ada 4 kemungkinan yaitu (genap, genap), (genap, ganjil), (ganjil, ganjil) dan (ganjil, genap).

Agar dapat dipastikan bahwa ada anggota  $X$  yang memiliki koordinat bilangan bulat maka sesuai *Pigeon Hole Principle* (PHP) maka haruslah terdapat sekurang-kurangnya 5 buah titik letis.

$\therefore$  Maka anggota  $V$  paling sedikit harus 5.

SELEKSI OLIMPIADE TINGKAT PROVINSI 2007  
TIM OLIMPIADE MATEMATIKA INDONESIA 2008

*Prestasi itu diraih bukan didapat !!!*

**SOLUSI SOAL**

**Bidang Matematika**

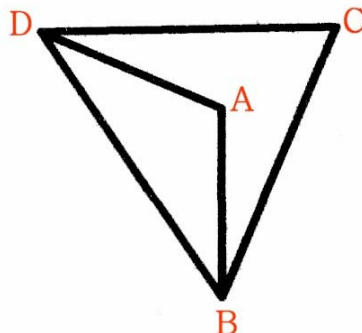
**Bagian Kedua**

Disusun oleh : Eddy Hermanto, ST



## BAGIAN KEDUA

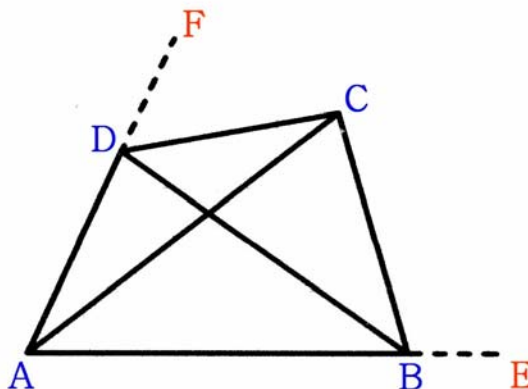
1. (a) Andaikan A berada di dalam segitiga BCD.



Karena panjang sisi-sisi  $\triangle BAD$  dan  $\triangle BCD$  sama maka  $\triangle BAD$  dan  $\triangle BCD$  kongruen dan karena sisi  $BD$  berhimpit serta  $AB = AD = BC = CD$  maka titik  $A$  haruslah berhimpit dengan  $C$ . Kontradiksi dengan kenyataan bahwa  $ABCD$  adalah segiempat.

$\therefore$  Terbukti bahwa  $A$  haruslah berada di luar segitiga  $BDC$ .

- (b) Misalkan  $\angle BAD = \alpha$  dan  $\angle ABC = \beta$



Pada  $\triangle BAD$  dan  $\triangle BDC$  berlaku :

$$BD^2 = AD^2 + AB^2 - 2 \cdot AD \cdot AB \cos \angle BAD$$

$$BD^2 = CD^2 + CB^2 - 2 \cdot CD \cdot CB \cos \angle BCD$$

Karena  $AD = AB = CD = CB$  maka  $\angle BAD = \angle BCD = \alpha$

Pada  $\triangle ABC$  dan  $\triangle ADC$  berlaku :

$$AC^2 = BA^2 + BC^2 - 2 \cdot BA \cdot BC \cos \angle ABC$$

$$AC^2 = DA^2 + DC^2 - 2 \cdot DA \cdot DC \cos \angle ADC$$

Karena  $BA = BC = DA = DC$  maka  $\angle ABC = \angle ADC = \beta$

Akibatnya  $\alpha + \beta = 180^\circ$

Karena  $\alpha + \beta = 180^\circ$  dan  $\angle ABC = \beta$  maka  $\angle CBE = \alpha$

Karena  $\angle DAE = \angle CBE = \alpha$  maka haruslah  $AD$  sejajar  $BC$

Karena  $\alpha + \beta = 180^\circ$  dan  $\angle ADC = \beta$  maka  $\angle CDF = \alpha$

Karena  $\angle BAF = \angle CDF = \alpha$  maka haruslah  $AB$  sejajar  $DC$

$\therefore$  Terbukti bahwa setiap pasangan sisi berhadapan pada  $ABCD$  selalu sejajar.

2. Misalkan  $\text{FPB}(a, b) = d = 10p + q$  maka  $\text{KPK}(a, b) = 10q + p$

**Pendapat 1 :**

$a = dx$  dan  $b = dy$  untuk suatu bilangan asli  $d, x, y$  serta  $\text{FPB}(x, y) = 1$  dan  $x, y \neq 1$   
 Karena  $a$  dan  $b$  simetri dan diinginkan  $b$  maksimum maka  $b > a$  sehingga  $y > x$   
 Jelas bahwa  $\text{KPK}(a, b) = dxy$   
 $(10p + q)xy = (10q + p)$   
 Karena  $10p + q$  dan  $10q + p$  keduanya bilangan asli dua angka maka  $xy < 10$   
 Karena  $x, y \neq 1$  dan  $\text{FPB}(x, y) = 1$  maka pasangan  $(x, y)$  yang memenuhi hanya  $x = 2$  dan  $y = 3$ .  
 $6(10p + q) = 10q + p$  sehingga  $59p = 4q$   
 Karena 59 adalah bilangan prima maka  $q$  haruslah kelipatan 59. Tetapi  $q$  bilangan asli satu angka. Maka tidak ada nilai  $q$  yang memenuhi.  
 $\therefore$  Tidak ada nilai  $b$  yang memenuhi.

**Pendapat 2 :**

Jika  $p \geq 1$ .  
 Karena  $10p + q \mid 10q + p$  maka  $10p + q \mid 10(q + 10p) - 99p$  sehingga  $10p + q \mid 99p$   
 Jika 11 tidak membagi  $q + 10p$  maka  $10p + q \mid 9p$  tetapi  $0 < 9p < q + 10p$ . Kontradiksi.  
 Jika  $11 \mid 10p + q$  maka  $11 \mid 11p + q - p$  sehingga  $11 \mid q - p$   
 Karena  $0 \leq q - p \leq 9$  maka  $q - p = 0$  sehingga  $\text{KPK}(a, b) = \text{FPB}(a, b)$ . Akibatnya  $a = b$ .  
 Kontradiksi.  
 Jadi  $p = 0$   
 $\text{KPK}(a, b) = 10q$  dan  $\text{FPB}(a, b) = q$ .  
 Misalkan  $a = xq$  dan  $b = yq$  dengan  $\text{FPB}(x, y) = 1$ .  
 Karena  $\text{KPK}(a, b) = 10q$  maka  $\text{KPK}(x, y) = 10$ .  
 Maka  $y = 10, 5, 2, 1$ .  
 Jika  $y = 10$  maka  $x = 1$ . Akibatnya  $x \mid y$  sehingga  $a \mid b$ . Kontradiksi.  
 Jika  $y = 5$  maka  $x = 2$ . Akibatnya karena  $1 \leq q \leq 9$  maka  $b_{\text{maks}} = yq = 45$  dan  $a = 18$ .  
 $b = 45$  dan  $a = 18$  memenuhi syarat pada soal.  
 Untuk  $1 \leq y \leq 5$  maka karena  $1 \leq q < 9$  maka  $b = yq \leq 45$   
 $\therefore$  Nilai maksimum  $b$  yang memenuhi adalah  $b_{\text{maks}} = 45$ .

Pendapat 1 memiliki pendapat sebagai berikut. Pada soal diketahui bahwa  $\text{KPK}(a, b)$  adalah bilangan 2-angka, sedangkan  $\text{FPB}(a, b)$  dapat diperoleh dengan membalik urutan angka pada  $\text{KPK}(a, b)$ . Artinya jika  $\text{KPK}(a, b) = xy$  maka  $\text{FPB}(a, b) = yx$ . Jika  $\text{KPK}(a, b) = 90$  maka  $\text{FPB}(a, b) = 09$ . Dari pengertian ini maka  $\text{KPK}(a, b)$  tidak boleh berakhiran dengan angka 0 sebab akan menyebabkan penulisan  $\text{FPB}(a, b)$  akan dimulai dengan angka 0 sehingga hal ini tidak lazim.

Pendapat 2 memiliki pendapat sebagai berikut. Berdasarkan soal maka hanya  $\text{KPK}(a, b)$  yang harus merupakan bilangan dua angka sedangkan  $\text{FPB}(a, b)$  tidak harus merupakan bilangan dua angka. Membalik urutan angka bukan merupakan fungsi satu-satu. Ekspresi matematika haruslah kita tuliskan dalam bentuk yang paling sederhana walaupun dari mana asalnya. 009, 09, dan 9 mempunyai arti yang sama kalau mereka kita artikan sebagai bilangan. Dengan demikian mereka merupakan satu kelas dan cukup diwakili oleh 9 (sebagai ekspresi yang paling sederhana).

Solusi dari Panitia Pusat adalah sesuai dengan pendapat 2.



3.  $x^4 - 4x^3 + 5x^2 - 4x + 1 = 0$

$$(x^4 - 4x^3 + 6x^2 - 4x + 1) - x^2 = 0$$

$$((x-1)^2)^2 - x^2 = 0$$

Mengingat  $a^2 - b^2 = (a-b)(a+b)$  maka :

$$(x^2 - 2x + 1 - x)(x^2 - 2x + 1 + x) = 0$$

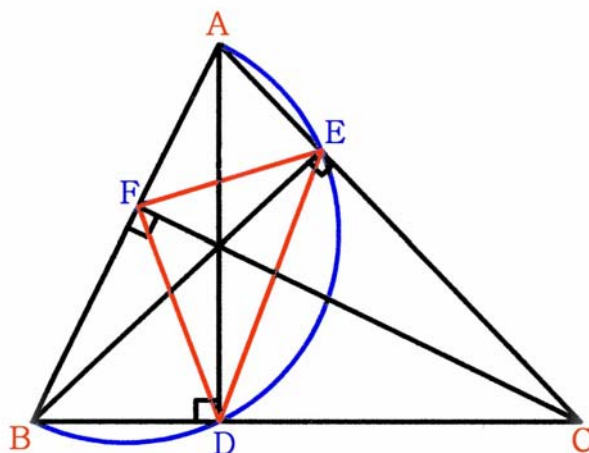
$$(x^2 - 3x + 1)(x^2 - x + 1) = 0$$

Karena  $(-1)^2 - 4(1)(1) < 0$  maka tidak ada  $x$  real yang memenuhi  $x^2 - x + 1 = 0$ .

Untuk  $x^2 - 3x + 1 = 0$  dipenuhi oleh  $x_{1,2} = \frac{3 \pm \sqrt{3^2 - 4(1)(1)}}{2 \cdot 1}$  sehingga  $x_{1,2} = \frac{3 \pm \sqrt{5}}{2}$

$\therefore$  Maka nilai  $x$  real yang memenuhi adalah  $x = \frac{3 + \sqrt{5}}{2}$  atau  $x = \frac{3 - \sqrt{5}}{2}$

4. Misalkan  $\angle BAC = \alpha$ ,  $\angle ABC = \beta$  dan  $\angle ACB = \gamma$



Karena  $\triangle AEB$  siku-siku di  $E$  dan  $\triangle ADB$  siku-siku di  $D$  maka dengan  $AB$  sebagai diameter, dapat dibuat sebuah lingkaran yang melalui  $A, E, D$  dan  $B$ . Maka  $AEDB$  adalah segiempat talibusur.

Karena  $AEDB$  adalah segiempat talibusur maka  $\angle ABD + \angle AED = 180^\circ$

$$(\beta) + (90^\circ + \angle BED) = 180^\circ \text{ sehingga } \angle BED = 90^\circ - \beta. \text{ Maka } \angle DEC = \beta$$

Dengan cara yang sama  $ACDF$  adalah segiempat talibusur.

Karena  $ACDF$  segiempat talibusur maka  $\angle ACD + \angle DFA = 180^\circ$

$$(\gamma) + (90^\circ + \angle CFD) = 180^\circ \text{ sehingga } \angle CFD = 90^\circ - \gamma. \text{ Maka } \angle BFD = \gamma$$

Karena  $\triangle BFC$  siku-siku di  $F$  maka  $\angle BCF = 90^\circ - \beta$

Karena  $\triangle BEC$  siku-siku di  $E$  maka  $\angle EBC = 90^\circ - \gamma$

Pada  $\triangle BDF$  berlaku  $\frac{DF}{\sin \beta} = \frac{BD}{\sin \gamma} \dots\dots\dots (1)$

Pada  $\triangle CDF$  berlaku  $\frac{DF}{\sin(90^\circ - \beta)} = \frac{DC}{\sin(90^\circ - \gamma)}$  sehingga  $\frac{DF}{\cos \beta} = \frac{DC}{\cos \gamma} \dots\dots\dots (2)$

Pada  $\triangle CDE$  berlaku  $\frac{DE}{\sin \gamma} = \frac{DC}{\sin \beta} \dots\dots\dots (3)$

Pada  $\triangle BDE$  berlaku  $\frac{DE}{\sin(90^\circ - \gamma)} = \frac{BD}{\sin(90^\circ - \beta)}$  sehingga  $\frac{DE}{\cos \gamma} = \frac{BD}{\cos \beta} \dots\dots\dots (4)$

Dari persamaan (1) dan (4) didapat :

$$DE + DF = BD \left( \frac{\sin \beta}{\sin \gamma} + \frac{\cos \gamma}{\cos \beta} \right)$$

Mengingat  $\sin 2x = 2 \sin x \cos x$  maka :

$$2 \sin \gamma \cos \beta (DE + DF) = BD (\sin 2\beta + \sin 2\gamma) \dots\dots\dots (5)$$

Dari persamaan (2) dan (3) didapat :

$$DE + DF = DC \left( \frac{\sin \gamma}{\sin \beta} + \frac{\cos \beta}{\cos \gamma} \right)$$

Mengingat  $\sin 2x = 2 \sin x \cos x$  maka :

$$2 \sin \beta \cos \gamma (DE + DF) = DC (\sin 2\beta + \sin 2\gamma) \dots\dots\dots (6)$$

Mengingat  $\sin \beta \cos \gamma + \cos \beta \sin \gamma = \sin (\beta + \gamma)$  dan  $\sin x + \sin y = 2 \sin \frac{1}{2}(x + y) \cos \frac{1}{2}(x - y)$  maka :

Persamaan (5) + Persamaan (6) :

$$2 \sin(\beta + \gamma)(DE + DF) = 2 (BD + DC) \sin(\beta + \gamma) \cos(\beta - \gamma)$$

$$DE + DF = BC \cos(\beta - \gamma)$$

Mengingat  $\cos(\beta - \gamma) \leq 1$  maka  $DE + DF \leq BC$  (terbukti)

Tanda kesamaan terjadi apabila  $\beta - \gamma = 0$  atau  $\beta = \gamma$  sehingga  $\triangle ABC$  sama kaki dengan  $AB = AC$  yang berakibat D adalah pertengahan BC.

$\therefore$  Terbukti bahwa  $DE + DF \leq BC$

5.  $1 + 2 + 3 + 4 + \dots + 16 = 136$ . Jelas bahwa  $b_1 + b_2 + b_3 + b_4 = k_1 + k_2 + k_3 + k_4 = 136$ .

Misalkan  $m = \min(b_1, b_2, b_3, b_4, k_1, k_2, k_3, k_4)$  dan  $M = \max(b_1, b_2, b_3, b_4, k_1, k_2, k_3, k_4)$

Misalkan juga  $S = b_1 + b_2 + b_3 + b_4 + k_1 + k_2 + k_3 + k_4 = 2 \cdot 136 = 272$

**Alternatif 1 :**

Andaikan bahwa  $(b_1, b_2, b_3, b_4, k_1, k_2, k_3, k_4)$  dapat disusun menjadi 8 bilangan berurutan, maka haruslah terdapat nilai  $n$  bulat sehingga memenuhi :

$$(n - 4) + (n - 3) + (n - 2) + (n - 1) + (n) + (n + 1) + (n + 2) + (n + 3) = 2 \cdot 136 = 272$$

Karena  $8n - 4 = 272$  maka tidak ada  $n$  bulat yang memenuhi.

Maka harus terdapat sedikitnya salah satu  $d_1$  atau  $d_2$  yang memenuhi  $m < d_i < M$ .

- Jika  $m < d_1 < M$  dan  $d_2 > M$

Maka  $\max(b_1, b_2, b_3, b_4, k_1, k_2, k_3, k_4, d_1, d_2) = d_2$  dan  $M = m + 8$  dan  $d_2 = m + 9$

$$(m) + (m + 1) + \dots + (m + 6) + (m + 8) \leq S \leq (m) + (m + 2) + (m + 3) + \dots + (m + 8)$$

$$8m + 29 \leq 272 \leq 8m + 35 \text{ sehingga } 29 < m \leq 30. \text{ Maka nilai } m \text{ yang mungkin hanya } m = 30$$

$$b_1 + b_2 + b_3 + b_4 + k_1 + k_2 + k_3 + k_4 + d_1 = 30 + 31 + 32 + \dots + 38 = 306$$

$$d_1 = 306 - 272 = 34 \text{ sehingga } d_2 = m + 9 = 39$$

Maka  $\max(b_1, b_2, b_3, b_4, k_1, k_2, k_3, k_4, d_1, d_2) = 39$

Contoh *antimagic* yang memenuhi nilai maksimumnya = 39

15	2	12	4	33	
1	14	10	5	30	
8	9	3	16	36	
11	13	6	7	37	
34	35	38	31	32	39

- Jika  $m < d_1 < d_2 < M$   
 Maka maks  $(b_1, b_2, b_3, b_4, k_1, k_2, k_3, k_4, d_1, d_2) = M$  dan  $M = m + 9$   
 $(m) + (m + 1) + \dots + (m + 6) + (m + 9) \leq S \leq (m) + (m + 3) + (m + 4) + \dots + (m + 9)$   
 $8m + 30 \leq 272 \leq 8m + 42$  sehingga  $28 < m \leq 30$ . Maka nilai  $m$  yang mungkin hanya  $m = 29$  atau  $30$   
 Karena ingin dicapai nilai  $M$  maksimum maka dipilih  $m = 30$  sehingga  $M = m + 9 = 39$

#### Alternatif 2 :

Nilai maks  $(b_1, b_2, b_3, b_4, k_1, k_2, k_3, k_4, d_1, d_2)$  semakin besar apabila  $m$  semakin besar.

Jika  $m \geq 31$  maka  $31 + 32 + 33 + 34 + 35 + 36 + 37 + 38 \leq S$  sehingga  $276 \leq 272$  (tidak memenuhi)

Maka tidak mungkin min  $(b_1, b_2, b_3, b_4, k_1, k_2, k_3, k_4) \geq 31$  sehingga  $m \leq 30$

Jika  $m = 30$  maka  $30 + 31 + 32 + \dots + 37 \leq S \leq 32 + 33 + 34 + \dots + 39$  sehingga  $268 \leq 272 \leq 284$

Ada kemungkinan terdapat *antimagic* yang memenuhi  $m = 30$ .

Jika ada *antimagic* yang memenuhi untuk  $m = 30$  maka maks  $(b_1, b_2, b_3, b_4, k_1, k_2, k_3, k_4, d_1, d_2) = 39$ .

Contoh *antimagic* yang memenuhi untuk  $m = 30$ .

15	2	12	4	33	
1	14	10	5	30	
8	9	3	16	36	
11	13	6	7	37	
34	35	38	31	32	39

Untuk  $m < 30$  tidak perlu dicari sebab nilai maks  $(b_1, b_2, b_3, b_4, k_1, k_2, k_3, k_4, d_1, d_2)$  akan semakin kecil.

$\therefore$  Nilai maks  $(b_1, b_2, b_3, b_4, k_1, k_2, k_3, k_4, d_1, d_2) = 39$ .



**SELEKSI TIM OLIMPIADE MATEMATIKA INDONESIA 2008**  
**OLIMPIADE SAINS NASIONAL 2007**  
**SURABAYA (JAWA TIMUR), 3 - 8 SEPTEMBER 2007**

**Bidang Matematika**

**Hari Pertama**

**Waktu : 180 Menit**



**DEPARTEMEN PENDIDIKAN NASIONAL**  
**DIREKTORAT JENDERAL MANAJEMEN PENDIDIKAN DASAR DAN MENENGAH**  
**DIREKTORAT PEMBINAAN SEKOLAH MENENGAH ATAS**  
**TAHUN 2007**



**OLIMPIADE SAINS NASIONAL 2007**  
**3 - 8 SEPTEMBER 2007**  
**SURABAYA, JAWA TIMUR**

**BIDANG : MATEMATIKA**

**HARI PERTAMA**

**WAKTU : 180 MENIT**

1. Misalkan ABC segitiga dengan  $\angle ABC = \angle ACB = 70^\circ$ . Misalkan titik D pada sisi BC sehingga AD garis tinggi, titik E pada sisi AB sehingga  $\angle ACE = 10^\circ$ , dan titik F adalah perpotongan AD dan CE. Buktikan bahwa  $CF = BC$ .
2. Untuk setiap bilangan asli  $n$ ,  $b(n)$  menyatakan banyaknya faktor positif  $n$  dan  $p(n)$  menyatakan hasil penjumlahan semua faktor positif  $n$ . Sebagai contoh,  $b(14) = 4$  dan  $p(14) = 24$ . Misalkan  $k$  sebuah bilangan asli yang lebih besar dari 1.
  - a. Buktikan bahwa ada tak berhingga banyaknya bilangan asli  $n$  yang memenuhi  $b(n) = k^2 - k + 1$ .
  - b. Buktikan bahwa ada berhingga banyaknya bilangan asli  $n$  yang memenuhi  $p(n) = k^2 - k + 1$ .
3. Misalkan  $a, b, c$  bilangan-bilangan real positif yang memenuhi ketaksamaan  $5(a^2 + b^2 + c^2) < 6(ab + bc + ca)$ . Buktikan bahwa ketiga ketaksamaan berikut berlaku :  $a + b > c$ ,  $b + c > a$ , dan  $c + a > b$ .
4. Suatu susunan 10-angka 0, 1, 2, 3, 4, 5, 6, 7, 8, 9 dikatakan cantik jika (i) saat dibaca dari kiri ke kanan, 0, 1, 2, 3, 4 membentuk barisan naik, sedangkan 5, 6, 7, 8, 9 membentuk barisan turun, dan (ii) angka 0 tidak berada pada ujung kiri. Sebagai contoh, 9807123654 adalah susunan cantik. Tentukan banyaknya susunan cantik.



**SELEKSI TIM OLIMPIADE MATEMATIKA INDONESIA 2008**  
**OLIMPIADE SAINS NASIONAL 2007**  
**SURABAYA (JAWA TIMUR), 3 - 8 SEPTEMBER 2007**

**Bidang Matematika**

**Hari Kedua**

**Waktu : 180 Menit**



**DEPARTEMEN PENDIDIKAN NASIONAL**  
**DIREKTORAT JENDERAL MANAJEMEN PENDIDIKAN DASAR DAN MENENGAH**  
**DIREKTORAT PEMBINAAN SEKOLAH MENENGAH ATAS**  
**TAHUN 2007**



**OLIMPIADE SAINS NASIONAL 2007**  
**3 - 8 SEPTEMBER 2007**  
**SURABAYA, JAWA TIMUR**

**BIDANG : MATEMATIKA**

**HARI KEDUA**

**WAKTU : 180 MENIT**

5. Misalkan  $r, s$  dua bilangan asli dan  $P$  sebuah 'papan catur' dengan  $r$  baris dan  $s$  lajur. Misalkan  $M$  menyatakan banyak maksimal benteng yang dapat diletakkan pada  $P$  sehingga tidak ada dua benteng yang saling menyerang.
- Tentukan  $M$ .
  - Ada berapa cara meletakkan  $M$  buah benteng pada  $P$  sehingga tidak ada dua benteng yang saling menyerang ?
6. Tentukan semua tripel bilangan real  $(x, y, z)$  yang memenuhi ketiga persamaan berikut sekaligus
- $$\begin{aligned}x &= y^3 + y - 8 \\ y &= z^3 + z - 8 \\ z &= x^3 + x - 8\end{aligned}$$
7. Titik-titik  $A, B, C, D$  terletak pada lingkaran  $S$  demikian rupa, sehingga  $AB$  merupakan garis tengah  $S$ , tetapi  $CD$  bukan garis tengah  $S$ . Diketahui pula bahwa  $C$  dan  $D$  berada pada sisi yang berbeda terhadap  $AB$ . Garis singgung terhadap  $S$  di  $C$  dan  $D$  berpotongan di titik  $P$ . Titik-titik  $Q$  dan  $R$  berturut-turut adalah perpotongan garis  $AC$  dengan garis  $BD$  dan garis  $AD$  dengan garis  $BC$ .
- Buktikan bahwa  $P, Q$  dan  $R$  segaris.
  - Buktikan bahwa garis  $QR$  tegak lurus terhadap garis  $AB$ .
8. Misalkan  $m$  dan  $n$  dua bilangan asli. Jika ada tak berhingga banyaknya bilangan bulat  $k$  sehingga  $k^2 + 2kn + m^2$  adalah bilangan kuadrat sempurna, buktikan bahwa  $m = n$ .

SELEKSI TIM OLIMPIADE MATEMATIKA INDONESIA 2008  
OLIMPIADE SAINS NASIONAL 2007  
SURABAYA (JAWA TIMUR), 3 - 8 SEPTEMBER 2007

*Prestasi itu diraih bukan didapat !!!*

SOLUSI SOAL

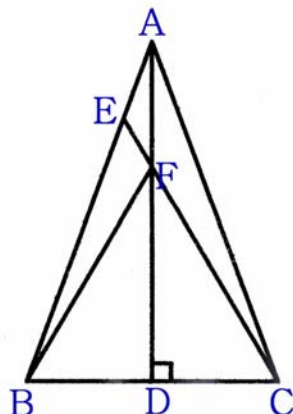
Bidang Matematika



Disusun oleh : Eddy Hermanto, ST



1. Karena  $\angle ABC = \angle ACB = 70^\circ$  maka  $\triangle ABC$  sama kaki.



**Alternatif 1 :**

Karena AD adalah garis tinggi dan  $\triangle ABC$  sama kaki maka AD akan memotong pertengahan BC. Karena FD memotong pertengahan BC dan FD garis tinggi  $\triangle BFC$  maka  $\triangle BFC$  sama kaki dengan  $FB = FC$ .

$\angle FCB = 70^\circ - 10^\circ = 60^\circ$ . Maka  $\angle FBC = \angle FCB = 60^\circ$ . Akibatnya  $\angle BFC = 60^\circ$ .

Maka  $\triangle BFC$  adalah segitiga sama sisi.

$\therefore$  Jadi  $CF = BC$  (terbukti)

**Alternatif 2 :**

$\angle BAC = 180^\circ - 70^\circ - 70^\circ = 40^\circ$ . Karena AD garis tinggi maka  $\angle FAC = 20^\circ$  sehingga  $\angle AFC = 150^\circ$ .

Karena  $\angle ACF = 10^\circ$  maka pada  $\triangle AFC$  berlaku  $\frac{CF}{\sin 20^\circ} = \frac{AC}{\sin 150^\circ}$

Sehingga  $CF = 2 AC \sin 20^\circ$  ..... (1)

Pada  $\triangle ABC$  berlaku  $\frac{BC}{\sin 40^\circ} = \frac{AC}{\sin 70^\circ}$

Mengingat  $\sin 70^\circ = \cos 20^\circ$  dan  $\sin 40^\circ = 2 \sin 20^\circ \cos 20^\circ$  maka

$BC = 2 AC \sin 20^\circ$  ..... (2)

$\therefore$  Dari (1) dan (2) dapat disimpulkan bahwa  $CF = BC$  (terbukti)

2. Misalkan  $n = p_1^{d_1} \cdot p_2^{d_2} \cdot p_3^{d_3} \cdot \dots \cdot p_n^{d_n}$  dengan  $p_1, p_2, p_3, \dots, p_n$  adalah bilangan prima maka banyaknya faktor positif dari  $n$  adalah  $(d_1 + 1)(d_2 + 1)(d_3 + 1) \dots (d_n + 1)$

- a. Dengan mengambil  $n = p^{k^2-k}$  maka banyaknya faktor positif  $n = b(n) = k^2 - k + 1$

$\therefore$  Karena ada tak berhingga bilangan prima maka ada tak berhingga  $n$  yang memenuhi banyaknya faktor positif  $n = b(n) = k^2 - k + 1$  (terbukti).

- b. Untuk  $n > 1$  maka  $n$  memiliki sedikitnya 2 faktor positif.

Untuk  $n > 1$  maka  $p(n) \geq 1 + n > 2$

$$k^2 - k + 1 \geq 1 + n > 2$$

$$1 < n \leq k^2 - k$$

Karena  $n$  terletak pada suatu selang tertentu maka tidak mungkin ada tak berhingga banyaknya bilangan asli  $n$  yang memenuhi  $p(n) = k^2 - k + 1$ .

$\therefore$  Maka berhingga banyaknya bilangan asli  $n$  yang memenuhi  $p(n) = k^2 - k + 1$ .

3.  $5(a^2 + b^2 + c^2) < 6(ab+bc+ca)$  ..... (1)

Alternatif 1 :

Tanpa mengurangi keumuman misalkan maks  $(a, b, c) = c$

$$5ac + 5bc - 5c^2 - a^2 - ab + ac - ab - b^2 + bc > 4a^2 - 8ab + 4b^2$$

$$(5c - a - b)(a + b - c) > (2a - 2b)^2$$

Karena bilangan kudrat tidak mungkin negatif maka

$$(5c - a - b)(a + b - c) > 0 \quad \text{..... (2)}$$

Karena maks  $(a, b, c) = c$  maka  $5c - a - b > 0$

Maka agar ketaksamaan (2) terpenuhi maka haruslah  $a + b > c$

Karena  $c > a$  maka  $b + c > a$  dan karena  $c > b$  maka  $a + c > b$

$\therefore$  Terbukti bahwa  $a + b > c$ ,  $b + c > a$  dan  $a + c > b$

Alternatif 2 :

Tanpa mengurangi keumuman misalkan maks  $(a, b, c) = c$

Ketaksamaan (1) ekuivalen dengan

$$4(a + b)(a + b - c) > 4(a - b)^2 + 5(a + b - c)^2$$

Karena bilangan kudrat tidak mungkin negatif maka

$$4(a + b)(a + b - c) > 0 \quad \text{..... (3)}$$

Karena  $a$  dan  $b$  positif maka ketaksamaan (3) akan terpenuhi bila  $a + b > c$

Karena  $c > a$  maka  $b + c > a$  dan karena  $c > b$  maka  $a + c > b$

$\therefore$  Terbukti bahwa  $a + b > c$ ,  $b + c > a$  dan  $a + c > b$

Alternatif 3 :

Tanpa mengurangi keumuman misalkan maks  $(a, b, c) = c$

$$5(a^2 + b^2 + c^2) < 6(ab+bc+ca)$$

$$(b + c - a)^2 + (a + c - b)^2 + (a + b - c)^2 < 4(ab + ac + bc) - 2(a^2 + b^2 + c^2) = 2((b + c - a)(c + a - b) + (b + c - a)(a + b - c) + (c + a - b)(a + b - c))$$

Misalkan  $x = b + c - a$ ,  $y = c + a - b$  dan  $z = a + b - c$ .

$$x^2 + y^2 + z^2 < 2(xy + xz + yz) \quad \text{..... (4)}$$

Jelas bahwa karena maks  $(a, b, c) = c$  maka  $x > 0$  dan  $y > 0$ . Akan dibuktikan bahwa  $z > 0$

Jika  $z \leq 0$  maka

$$x^2 + y^2 + z^2 - 2(xy + xz + yz) = (x - y)^2 + z^2 - 2z(x + y)$$

Karena  $z \leq 0$  maka  $2z(x + y) \leq 0$  maka  $x^2 + y^2 + z^2 - 2(xy + xz + yz) \geq 0$ . Kontradiksi dengan ketaksamaan (4). Maka haruslah terpenuhi  $z > 0$ .

$\therefore$  Terbukti bahwa  $a + b > c$ ,  $b + c > a$  dan  $a + c > b$

Alternatif 4 :

Tanpa mengurangi keumuman misalkan  $c = \text{maks}(a, b, c)$

Ketaksamaan (1) ekuivalen dengan

$$5(a + b + c)(a + b - c) > 10a^2 + 10b^2 + 4ab - 6ac - 6bc \quad \text{..... (5)}$$

Misalkan  $x = a + b - c$ ,  $y = a + c - b$ ,  $z = b + c - a$  maka  $2a = x + y$ ,  $2b = x + z$  dan  $2c = y + z$

Ketaksamaan (5) akan menjadi

$$10(x + y + z)x > 5(x + y)^2 + 5(x + z)^2 + 2(x + y)(x + z) - 3(x + y)(y + z) - 3(x + z)(y + z)$$

$$10(x + y + z)x > 12x^2 + 2y^2 + 2z^2 + 6xy + 6xz - 4yz$$

$$10(x + y + z)x > 6x^2 + 6x(x + y + z) + 2(y - z)^2$$

$$4(x + y + z)x > 6x^2 + 2(y - z)^2$$

Karena bilangan kuadrat tidak mungkin negatif maka

$$4(x + y + z)x > 0$$

Karena  $a + b + c > 0$  maka  $x + y + z > 0$  sehingga  $x > 0$ . Jadi  $a + b - c > 0$

Karena  $c > a$  maka  $b + c > a$  dan karena  $c > b$  maka  $a + c > b$ .

$\therefore$  Terbukti bahwa  $a + b > c$ ,  $b + c > a$  dan  $a + c > b$

4. Karena saat dibaca dari kiri ke kanan, 0, 1, 2, 3, 4 membentuk barisan naik, sedangkan 5, 6, 7, 8, 9 membentuk barisan turun maka jelas bahwa angka paling kiri haruslah 0 atau 9. Tetapi karena 0 tidak berada di ujung kiri maka angka paling kiri haruslah 9.

**Alternatif 1 :**

Misalkan ujung paling kiri adalah tempat pertama. Maka angka-angka 5, 6, 7 dan 8 akan berada di 9 tempat lainnya. Banyaknya cara memilih 4 dari 9 tempat lainnya tersebut =  ${}^9C_4 = 126$ . Angka-angka 5, 6, 7 dan 8 akan ditempatkan di 4 tempat tersebut. Karena angka-angka 5, 6, 7, 8 tersebut telah ditentukan urutannya maka hanya ada 1 cara menempatkan angka-angka 5, 6, 7, dan 8 pada ke-4 tempat tersebut.

Lima tempat tersisa akan diisi oleh angka-angka 0, 1, 2, 3 dan 4. Karena angka-angka 0, 1, 2, 3, dan 4 tersebut telah ditentukan urutannya maka hanya ada 1 cara menempatkan angka-angka 0, 1, 2, 3 dan 4 pada 5 tempat tersisa tersebut.

$\therefore$  Maka banyaknya susunan cantik =  ${}^9C_4 \times 1 \times 1 = 126$  susunan.

**Alternatif 2 :**

Angka-angka 5, 6, 7 dan 8 akan ditempatkan pada 4 dari 9 tempat.

Misalkan  $x_1$  menyatakan banyaknya angka-angka yang terletak di antara angka 9 dan 8.

$x_2$  menyatakan banyaknya angka-angka yang terletak di antara angka 8 dan 7.

$x_3$  menyatakan banyaknya angka-angka yang terletak di antara angka 7 dan 6.

$x_4$  menyatakan banyaknya angka-angka yang terletak di antara angka 6 dan 5.

$x_5$  menyatakan banyaknya angka-angka yang terletak di sebelah kanan angka 5.

Jelas bahwa  $x_1, x_2, x_3, x_4$  dan  $x_5$  adalah bilangan bulat tak negatif dan kurang dari 6 serta memenuhi persamaan  $x_1 + x_2 + x_3 + x_4 + x_5 = 5$ .

Banyaknya pasangan bulat tak negatif  $(x_i, x_j)$  yang memenuhi  $x_i + x_j = m$  adalah  $m + 1$ , yaitu  $(0, m), (1, m - 1), (2, m - 2), \dots, (m, 0)$ .

Misalkan  $x_i + x_j + x_k = n$ . Karena  $x_k$  adalah bilangan bulat tak negatif maka banyaknya tripel bilangan bulat tak negatif  $(x_i, x_j, x_k)$  yang memenuhi adalah merupakan penjumlahan banyaknya pasangan  $(x_i, x_j)$  yang memenuhi  $x_i + x_j = p$  dengan  $p = 0, 1, 2, \dots, n$ .

Banyaknya pasangan  $(x_1, x_2)$  yang memenuhi  $x_1 + x_2 = 0$  ada 1.

Banyaknya pasangan  $(x_1, x_2)$  yang memenuhi  $x_1 + x_2 = 1$  ada 2.

Banyaknya pasangan  $(x_1, x_2)$  yang memenuhi  $x_1 + x_2 = 2$  ada 3.

Banyaknya pasangan  $(x_1, x_2)$  yang memenuhi  $x_1 + x_2 = 3$  ada 4.

Banyaknya pasangan  $(x_1, x_2)$  yang memenuhi  $x_1 + x_2 = 4$  ada 5.

Banyaknya pasangan  $(x_1, x_2)$  yang memenuhi  $x_1 + x_2 = 5$  ada 6.

Banyaknya tripel  $(x_3, x_4, x_5)$  yang memenuhi  $x_3 + x_4 + x_5 = 0$  ada 1.

Banyaknya tripel  $(x_3, x_4, x_5)$  yang memenuhi  $x_3 + x_4 + x_5 = 1$  ada  $1 + 2 = 3$

Banyaknya tripel  $(x_3, x_4, x_5)$  yang memenuhi  $x_3 + x_4 + x_5 = 2$  ada  $1 + 2 + 3 = 6$

Banyaknya tripel  $(x_3, x_4, x_5)$  yang memenuhi  $x_3 + x_4 + x_5 = 3$  ada  $1 + 2 + 3 + 4 = 10$

Banyaknya tripel  $(x_3, x_4, x_5)$  yang memenuhi  $x_3 + x_4 + x_5 = 4$  ada  $1 + 2 + 3 + 4 + 5 = 15$

Banyaknya tripel  $(x_3, x_4, x_5)$  yang memenuhi  $x_3 + x_4 + x_5 = 5$  ada  $1 + 2 + 3 + 4 + 5 + 6 = 21$

Maka banyaknya susunan cantik =  $1 \cdot 21 + 2 \cdot 15 + 3 \cdot 10 + 4 \cdot 6 + 5 \cdot 3 + 6 \cdot 1$

$\therefore$  Maka banyaknya susunan cantik = 126.

5. Misalkan  $p = \min(r, s)$  dan  $q = \max(r, s)$

Agar tidak ada dua benteng yang saling menyerang maka tidak boleh ada sedikitnya dua benteng terletak pada baris maupun lajur yang sama.

a. Jika  $M > \min(r, s)$

Jika  $\min(r, s) = r$  maka sesuai dengan *Pigeon Hole Principle* maka akan ada sedikitnya dua benteng terletak pada satu baris yang sama. Maka akan terdapat dua benteng yang saling menyerang.

Jika  $\min(r, s) = s$  maka sesuai dengan *Pigeon Hole Principle* maka akan ada sedikitnya dua benteng terletak pada satu lajur yang sama. Maka akan terdapat dua benteng yang saling menyerang.

Jadi, jelas bahwa  $M \leq \min(r, s)$ .

Misalkan  $x_{i,j}$  menyatakan petak catur pada baris ke- $i$  dan lajur ke- $j$ .

Jika  $p = \min(r, s)$  buah benteng diletakkan pada petak  $x_{k,k}$  dengan  $k = 1, 2, 3, \dots, p$  maka  $p$  buah benteng ini tidak akan saling menyerang.

$\therefore$  Maka  $M = \min(r, s)$ .

b. Jika  $\min(r, s) = r$

Cara meletakkan benteng pada baris ke-1 ada  $s$  cara.

Karena benteng pada baris ke-1 dan ke-2 tidak boleh pada satu lajur maka banyaknya cara meletakkan benteng pada baris ke-2 ada  $s - 1$  cara.

Cara meletakkan benteng pada baris ke-3 ada  $s - 2$  cara. Dan seterusnya.

Cara meletakkan benteng pada baris ke- $r$  ada  $s - r + 1$

Maka banyaknya cara meletakkan  $r$  benteng tersebut  $= s \cdot (s - 1) \cdot (s - 2) \cdot \dots \cdot (s - r + 1)$

$$\text{Banyaknya cara meletakkan } r \text{ benteng tersebut} = \frac{s!}{(s - r)!} = \frac{(\text{maks}(r, s))!}{(\text{maks}(r, s) - \min(r, s))!}$$

Jika  $\min(r, s) = s$

Cara meletakkan benteng pada lajur ke-1 ada  $r$  cara.

Karena benteng pada lajur ke-1 dan ke-2 tidak boleh pada satu baris maka banyaknya cara meletakkan benteng pada lajur ke-2 ada  $r - 1$  cara.

Cara meletakkan benteng pada lajur ke-3 ada  $r - 2$  cara. Dan seterusnya.

Cara meletakkan benteng pada lajur ke- $s$  ada  $r - s + 1$

Maka banyaknya cara meletakkan  $s$  benteng tersebut  $= r \cdot (r - 1) \cdot (r - 2) \cdot \dots \cdot (r - s + 1)$

$$\text{Banyaknya cara meletakkan } r \text{ benteng tersebut} = \frac{r!}{(r - s)!} = \frac{(\text{maks}(r, s))!}{(\text{maks}(r, s) - \min(r, s))!}$$

$\therefore$  Dapat disimpulkan bahwa banyaknya cara meletakkan  $M$  buah benteng pada pada  $P$

$$\text{sehingga tidak ada dua benteng yang saling menyerang} = \frac{(\text{maks}(r, s))!}{(\text{maks}(r, s) - \min(r, s))!}$$

$$6. \quad x = y^3 + y - 8 \quad \dots\dots\dots (1)$$

$$y = z^3 + z - 8 \quad \dots\dots\dots (2)$$

$$z = x^3 + x - 8 \quad \dots\dots\dots (3)$$

Alternatif 1 :

Jika  $x < 0$ , berdasarkan persamaan (3) maka  $z < 0$ . Sedangkan jika  $z < 0$ , berdasarkan persamaan (2) maka  $y < 0$  serta jika  $y < 0$ , berdasarkan persamaan (1) maka  $x < 0$ .

Maka dapat disimpulkan bahwa jika salah satu  $x$ ,  $y$  atau  $z$  negatif maka  $x$ ,  $y$  dan  $z$  semuanya negatif.

• Jika  $y > x$

$$y - x = (z^3 - y^3) + (z - y)$$

$$\text{Maka } (z - y)(z^2 + yz + y^2 + 1) > 0$$

Karena jika salah satu dari  $y$  atau  $z$  negatif akan menyebabkan  $y$  dan  $z$  keduanya negatif maka jelas bahwa  $z^2 + yz + y^2 + 1 > 0$ . Akibatnya  $z > y$ .

Karena  $z > y$  maka  $z - y = (x^3 - z^3) + (x - z) > 0$

Maka  $(x - z)(x^2 + xz + z^2 + 1) > 0$

Karena jika salah satu dari  $x$  atau  $z$  negatif akan menyebabkan  $x$  dan  $z$  keduanya negatif maka jelas bahwa  $x^2 + xz + z^2 + 1 > 0$ . Akibatnya  $x > z$ .

Maka dapat disimpulkan bahwa  $x > z > y > x$ . Kontradiksi.

- Jika  $y < x$

$y - x = (z^3 - y^3) + (z - y)$

Maka  $(z - y)(z^2 + yz + y^2 + 1) < 0$

Karena jika salah satu dari  $y$  atau  $z$  negatif akan menyebabkan  $y$  dan  $z$  keduanya negatif maka jelas bahwa  $z^2 + yz + y^2 + 1 > 0$ . Akibatnya  $z < y$ .

Karena  $z < y$  maka  $z - y = (x^3 - z^3) + (x - z) < 0$

Maka  $(x - z)(x^2 + xz + z^2 + 1) < 0$

Karena jika salah satu dari  $x$  atau  $z$  negatif akan menyebabkan  $x$  dan  $z$  keduanya negatif maka jelas bahwa  $x^2 + xz + z^2 + 1 < 0$ . Akibatnya  $x < z$ .

Maka dapat disimpulkan bahwa  $x < z < y < x$ . Kontradiksi.

- Jika  $y = x$

Berdasarkan persamaan (1) maka  $x^3 - 8 = 0$  sehingga  $x = y = 2$ .

$z = 2^3 + 2 - 8 = 2$

∴ Maka  $x = y = z = 2$  adalah satu-satunya penyelesaian.

#### Alternatif 2 :

Perhatikan bahwa fungsi  $f(t) = t^3 + t - 8$  adalah fungsi monoton naik.

Andaikan bahwa  $x \neq y$ .

Tanpa mengurangi keumuman misalkan  $x < y$ .

Karena  $f(t)$  merupakan fungsi monoton naik maka  $z = f(x) < f(y) = x$ .

Karena  $z < x$  maka  $y = f(z) < f(x) = z$  sehingga  $y < z < x$  yang merupakan kontradiksi dengan pengandaian bahwa  $x < y$ .

Jadi  $x = y$ .

Dengan cara yang sama akan diperoleh bahwa  $y = z$ .

Dengan demikian  $x = y = z$ .

Maka  $x = x^3 + x - 8$  sehingga  $x^3 = 8$ .

$x = y = z = 2$ .

Setelah diuji ke persamaan (1), (2) dan (3) ternyata tripel  $(2, 2, 2)$  memenuhi ketiga persamaan tersebut.

Jadi  $(2, 2, 2)$  merupakan penyelesaian persamaan pada soal.

∴ Maka  $x = y = z = 2$  adalah satu-satunya penyelesaian.

#### Alternatif 3 :

Jumlahkan persamaan (1), (2) dan (3) diperoleh

$$x^3 + y^3 + z^3 = 24 \quad \text{..... (4)}$$

Tanpa mengurangi keumuman misalkan  $x \geq y, z$ .

Jadi  $3x^3 \geq x^3 + y^3 + z^3 = 24$  sehingga  $x \geq 2$ .

Akibatnya  $z = x^3 + x - 8 \geq 2$  dan  $y = z^3 + z - 8 \geq 2$ .

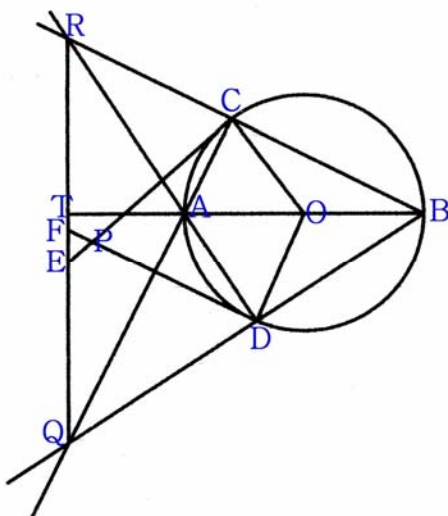
Karena  $x \geq 2, y \geq 2$  dan  $z \geq 2$  maka  $x^3 + y^3 + z^3 \geq 24$ .

Agar memenuhi persamaan (4) maka haruslah  $x = y = z = 2$ .

Setelah diuji ke persamaan (1), (2) dan (3) ternyata  $x = y = z = 2$  memenuhi ketiga persamaan tersebut.

∴ Maka  $x = y = z = 2$  adalah satu-satunya penyelesaian.

7.



## Alternatif 1 :

- b. Karena AB diameter dan C terletak pada lingkaran S maka  $\angle ACB = 90^\circ$  sehingga QC tegak lurus BR.  
 Karena AB diameter dan D terletak pada lingkaran S maka  $\angle ADB = 90^\circ$  sehingga RD tegak lurus BQ.  
 Karena RD dan QC merupakan garis tinggi dan keduanya melalui titik A maka perpanjangan BA haruslah merupakan garis tinggi  $\triangle BRQ$ .  
 $\therefore$  Terbukti bahwa QR tegak lurus terhadap garis AB.
- a. Misalkan  $\angle CBA = \alpha$  dan  $\angle ABD = \beta$  serta perpotongan AB dengan RQ adalah titik T.  
 Karena BT tegak lurus RQ maka  $\angle ERB = 90^\circ - \alpha$   
 Karena O pusat lingkaran maka  $\angle OCB = \alpha$  sedangkan  $CQ \perp BC$  maka  $\angle QCO = 90^\circ - \alpha$   
 EC adalah garis singgung di titik C maka FC tegak lurus CO sehingga  $\angle ECQ = \alpha$   
 Karena QC tegak lurus CR maka  $\angle ECR = 90^\circ - \alpha$ .  
 Karena  $\angle ERC = \angle ECR$  maka  $ER = EC$ .  
 Karena BT tegak lurus RQ maka  $\angle FQD = 90^\circ - \beta$   
 Karena O pusat lingkaran maka  $\angle ODB = \beta$  sedangkan  $DR \perp BD$  maka  $\angle RDO = 90^\circ - \beta$   
 FD adalah garis singgung di titik D maka ED tegak lurus DO sehingga  $\angle EDA = \beta$   
 Karena RD tegak lurus DQ maka  $\angle FDQ = 90^\circ - \beta$ .  
 Karena  $\angle FQD = \angle FDQ$  maka  $FD = FQ$ .  
 Karena RC tegak lurus CQ dan  $\angle QRC = 90^\circ - \alpha$  maka  $\angle EQC = \alpha$  sehingga  $\triangle EQC$  sama kaki dengan  $EQ = EC = ER$ . Karena  $\angle QCR = 90^\circ$  maka E adalah pusat lingkaran yang melalui titik Q, C dan R dengan QR adalah diameter sehingga E adalah pertengahan QR.  
 Karena OD tegak lurus DR dan  $\angle RQD = 90^\circ - \beta$  maka  $\angle FRD = \beta$  sehingga  $\triangle FRD$  sama kaki dengan  $FR = FD = FQ$ . Karena  $\angle RDQ = 90^\circ$  maka F adalah pusat lingkaran yang melalui titik Q, D dan R dengan QR adalah diameter sehingga F adalah pertengahan QR.  
 Akibatnya haruslah E dan F berhimpit. Tetapi garis singgung terhadap S di C dan D berpotongan di titik P, maka  $P = E = F$  sehingga P adalah pertengahan QR.  
 $\therefore$  Terbukti bahwa P, Q dan R segaris.

## Alternatif 2 :

- a. Karena AB diameter maka  $\angle ACB = \angle ADB = 90^\circ$  sehingga  $\angle CQB = \angle BRD = 90^\circ - \angle DBC$ .  
 Misalkan O adalah pusat lingkaran S.  
 $\angle CPD = 180^\circ - \angle DOC = 180^\circ - 2\angle CAD = 2\angle CQB = 2\angle CQD$ .

Karena  $\angle CPD = 2\angle COD$  maka titik C, D dan Q terletak pada satu lingkaran dengan P adalah pusat lingkaran tersebut.

Dengan cara yang sama dapat ditunjukkan bahwa P juga merupakan pusat lingkaran yang melalui titik C, D dan R.

Karena P adalah pusat sebuah lingkaran yang melalui titik-titik Q, D, C dan R maka  $\triangle PCR$  dan  $\triangle PQD$  keduanya adalah segitiga sama kaki.

$$\angle DPQ + \angle RPC = (180^\circ - 2\angle PDQ) + (180^\circ - 2\angle PCR) = 2((90^\circ - \angle PDQ) + (90^\circ - \angle PCR))$$

Karena RD tegak lurus BQ dan QC tegak lurus BR maka

$$\angle DPQ + \angle RPC = 2(\angle RDP + \angle PCQ)$$

Karena  $\angle ADB = \angle ACB = 90^\circ$  maka  $\angle RDP = \angle ODB$  dan  $\angle PCQ = \angle OCB$ .

Karena  $\triangle OCB$  dan  $\triangle ODB$  keduanya sama kaki maka  $\angle ODB = \angle OBD$  dan  $\angle OCB = \angle OBC$ .

$$\angle DPQ + \angle RPC = 2(\angle OBD + \angle OBC) = 2\angle DBC = \angle DOC = 180^\circ - \angle CPD$$

Sehingga didapat  $\angle DPQ + \angle RPC + \angle CPD = 180^\circ$ .

$\therefore$  Akibatnya haruslah titik-titik R, P dan Q segaris (terbukti).

- b. Karena AB diameter dan C terletak pada lingkaran S maka  $\angle ACB = 90^\circ$  sehingga QC tegak lurus BR.

Karena AB diameter dan D terletak pada lingkaran S maka  $\angle ADB = 90^\circ$  sehingga RD tegak lurus BQ.

Karena RD dan QC merupakan garis tinggi dan keduanya melalui titik A maka perpanjangan BA haruslah merupakan garis tinggi  $\triangle BRQ$ .

$\therefore$  Terbukti bahwa QR tegak lurus terhadap garis AB.

#### 8. Alternatif 1 :

\* Jika  $m^2 \neq n^2$

Untuk suatu bilangan bulat  $a > |m^2 - n^2|$  tidak mungkin merupakan faktor dari  $m^2 - n^2$ .

Misalkan t adalah faktor dari  $m^2 - n^2$  maka jelas bahwa  $-|m^2 - n^2| \leq t \leq |m^2 - n^2|$ .

Maka berhingga banyaknya kemungkinan t yang memenuhi.

Misalkan  $k^2 + 2kn + m^2 = p^2$  untuk suatu bilangan asli p.

$$(k + n)^2 + m^2 - n^2 = p^2$$

$$m^2 - n^2 = (p + k + n)(p - (k + n))$$

Maka  $p + k + n$  adalah faktor dari  $m^2 - n^2$ .

Misalkan  $p + k + n = t$  untuk suatu bilangan bulat tak nol t maka  $p - (k + n) = \frac{m^2 - n^2}{t}$ .

Jika kedua persamaan tersebut dikurangkan akan didapat  $k = -n + \frac{t}{2} - \frac{m^2 - n^2}{2t}$

Karena berhingga banyaknya kemungkinan nilai t maka akan berhingga juga banyaknya bilangan bulat k yang memenuhi. Kontradiksi karena dinyatakan bahwa ada tak berhingga banyaknya bilangan bulat k yang memenuhi.

\* Jika  $m^2 = n^2$

$$k^2 + 2kn + m^2 = (k + n)^2$$

Maka berapapun bilangan bulat k akan menyebabkan  $k^2 + 2kn + m^2$  merupakan bilangan kuadrat sempurna untuk suatu bilangan asli m dan n.

Sehingga ada tak berhingga banyaknya bilangan bulat k yang memenuhi.

Maka didapat bahwa  $k^2 + 2kn + m^2$  akan merupakan bilangan kuadrat sempurna jika  $m^2 = n^2$ .

$\therefore$  Karena m dan n keduanya bilangan asli maka  $k^2 + 2kn + m^2$  akan merupakan bilangan kuadrat sempurna jika  $m = n$  (terbukti).

## Alternatif 2 :

Andaikan  $m \neq n$  sehingga  $m^2 - n^2 \neq 0$ .

Misalkan  $k_1, k_2, \dots$  dan  $s_1, s_2, \dots$  adalah barisan-barisan bilangan bulat demikian sehingga

$$k_i^2 + 2k_i n + m^2 = s_i^2 \text{ untuk semua } i = 1, 2, \dots$$

$$\text{Maka } m^2 - n^2 = s_i^2 - k_i^2 + 2k_i n - n^2$$

$$m^2 - n^2 = s_i^2 - (k_i + n)^2$$

$$m^2 - n^2 = (s_i - k_i - n)(s_i + k_i + n)$$

Akibatnya

$$|m^2 - n^2| \geq s_i + k_i + n \quad \text{dan} \quad |m^2 - n^2| \geq -(s_i - k_i - n)$$

Sehingga

$$2|m^2 - n^2| \geq (s_i + k_i + n) - (s_i - k_i - n) = 2k_i + 2n$$

$$|m^2 - n^2| \geq k_i + n$$

$$|m^2 - n^2| - n \geq k_i \text{ untuk semua } i = 1, 2, \dots$$

Karena  $m$  dan  $n$  adalah suatu nilai tetap maka hanya ada 1 nilai  $k_i$  untuk semua  $i = 1, 2, \dots$  kontradiksi dengan kenyataan bahwa ada tak berhingga banyaknya bilangan bulat  $k$  yang memenuhi.

Jadi haruslah  $m = n$ .





**SELEKSI OLIMPIADE TINGKAT KABUPATEN/KOTA TAHUN 2008  
TIM OLIMPIADE MATEMATIKA INDONESIA TAHUN 2009**

**Bidang Matematika**

**Waktu : 3,5 Jam**



**DEPARTEMEN PENDIDIKAN NASIONAL  
DIREKTORAT JENDERAL MANAJEMEN PENDIDIKAN DASAR DAN MENENGAH  
DIREKTORAT PEMBINAAN SEKOLAH MENENGAH ATAS  
TAHUN 2008**

**OLIMPIADE MATEMATIKA NASIONAL  
SELEKSI TINGKAT KOTA/KABUPATEN  
TAHUN 2008**

**Bagian Pertama**

Pilih satu jawaban yang benar. Dalam hal terdapat lebih dari satu jawaban yang benar, pilih jawaban yang paling baik.

1. Jika  $a$  bilangan real, maka  $\sqrt{a^2} =$   
A.  $-|a|$       B.  $-a$       C.  $\pm a$       D.  $a$       E.  $|a|$
2. Banyaknya faktor positif dari  $5!$  adalah  
A. 4      B. 5      C. 16      D. 24      E. 120
3. Banyaknya susunan huruf B, I, O, L, A sehingga tidak ada dua huruf hidup (vowel) yang berturut-turut adalah  
A. 8      B. 10      C. 12      D. 14      E. 16
4. Lingkaran T merupakan lingkaran luar bagi segitiga ABC dan lingkaran dalam bagi segitiga PQR. Jika ABC dan PQR keduanya segitiga samasisi, maka rasio keliling  $\triangle ABC$  terhadap keliling  $\triangle PQR$  adalah  
A.  $\frac{1}{6}$       B.  $\frac{1}{4}$       C.  $\frac{1}{2}$       D. 2      E. 4
5. Jumlah empat bilangan asli berturut-turut senantiasa habis dibagi  $p$ . Maka nilai  $p$  terbesar adalah  
A. 1      B. 2      C. 4      D. 5      E. 7
6. Banyaknya himpunan  $X$  yang memenuhi  $\{1, 2\} \subseteq X \subseteq \{1, 2, 3, 4, 5\}$  adalah  
A. 3      B. 4      C. 8      D. 16      E. 32
7. Segitiga ABC sama kaki, yaitu  $AB = AC$ , dan memiliki keliling 32. Jika panjang garis tinggi dari A adalah 8, maka panjang AC adalah  
A.  $9\frac{1}{3}$       B. 10      C.  $10\frac{2}{3}$       D.  $11\frac{1}{3}$       E. 12
8. Jika  $f(x) = \frac{x+1}{x-1}$ , maka untuk  $x^2 \neq 1$ ,  $f(-x) =$   
A.  $\frac{1}{f(-x)}$       B.  $-f(-x)$       C.  $-f(x)$       D.  $f(x)$       E.  $\frac{1}{f(x)}$

9. Pada trapesium ABCD, sisi AB sejajar sisi DC dan rasio luas segitiga ABC terhadap luas segitiga ACD adalah  $\frac{1}{3}$ . Jika E dan F berturut-turut adalah titik tengah BC dan DA, maka rasio luas ABEF terhadap luas EFDC adalah

A.  $\frac{1}{3}$                       B.  $\frac{3}{5}$                       C. 1                      D.  $\frac{5}{3}$                       E. 3

10. Diketahui bahwa  $a$ ,  $b$ ,  $c$  dan  $d$  adalah bilangan-bilangan asli yang memenuhi  $\frac{a}{b} < \frac{c}{d}$  dan  $c < a$ .

Jika  $b \neq 1$  dan  $c \neq d$ , maka

A.  $\frac{a}{c} < \frac{b-a}{d-c}$                       B.  $\frac{b-a}{d-c} < \frac{a}{c}$                       C.  $\frac{a}{c} < \frac{b(d-1)}{d(b-1)}$   
D.  $\frac{b(d-1)}{d(b-1)} < \frac{a}{c}$                       E.  $\frac{a+b}{c+d} < \frac{a}{c}$

## Bagian Kedua

Isikan hanya jawaban saja pada tempat yang disediakan

11. Suatu pertunjukan dihadiri oleh sejumlah penonton. Setiap penonton dewasa membayar tiket seharga 40 ribu rupiah, sedangkan setiap penonton anak-anak membayar tiket 15 ribu rupiah. Jika jumlah uang penjualan tiket adalah 5 juta rupiah, dan banyaknya penonton dewasa adalah 40 % dari seluruh penonton, maka banyaknya penonton anak-anak adalah .....
12. Diketahui  $\text{FPB}(a, 2008) = 251$ . Jika  $a > 2008$  maka nilai terkecil yang mungkin bagi  $a$  adalah .....
13. Setiap dung adalah ding. Ada lima ding yang juga dong. Tidak ada dung yang dong. Jika banyaknya ding adalah 15, dan tiga di antaranya tidak dung dan tidak dong, maka banyaknya dung adalah .....
14. Dua buah dadu identik (sama persis) dilemparkan bersamaan. Angka yang muncul adalah  $a$  dan  $b$ . Peluang  $a$  dan  $b$  terletak pada sisi-sisi yang bertolak belakang (di dadu yang sama) adalah ....
15. Bilangan 4-angka dibentuk dari 1, 4, 7 dan 8 dimana masing-masing angka digunakan tepat satu kali. Jika semua bilangan 4-angka yang diperoleh dengan cara ini dijumlahkan, maka jumlah ini mempunyai angka satuan .....
16. Titik A dan B terletak pada parabola  $y = 4 + x - x^2$ . Jika titik asal O merupakan titik tengah ruas garis AB, maka panjang AB adalah .....
17. Jika  $a$  dan  $b$  adalah bilangan-bilangan bulat dan  $x^2 - x - 1$  merupakan faktor dari  $ax^3 + bx^2 + 1$ , maka  $b = \dots\dots\dots$
18. Kubus ABCDEFGH dipotong oleh bidang yang melalui diagonal HF, membentuk sudut  $30^\circ$  terhadap diagonal EG dan memotong rusuk AE di P. Jika panjang rusuk kubus adalah 1 satuan, maka panjang ruas AP adalah .....

19. Himpunan semua bilangan asli yang sama dengan enam kali jumlah angka-angkanya adalah .....
20. Diketahui bahwa  $a$  dan  $b$  adalah besar dua sudut pada sebuah segitiga. Jika  $\sin a + \sin b = \frac{1}{2}\sqrt{2}$  dan  $\cos a + \cos b = \frac{1}{2}\sqrt{6}$ , maka  $\sin (a + b) = \dots\dots\dots$

**SELEKSI OLIMPIADE TINGKAT KABUPATEN/KOTA 2008  
TIM OLIMPIADE MATEMATIKA INDONESIA 2009**

*Prestasi itu diraih bukan didapat !!!*

**SOLUSI SOAL**

**Bidang Matematika**



Disusun oleh : Eddy Hermanto, ST

### BAGIAN PERTAMA

1. (Jawaban : E)

Akar dari suatu bilangan positif adalah juga bilangan positif, maka

$$\sqrt{a^2} = a \text{ jika } a \text{ bilangan real positif}$$

$$\sqrt{a^2} = -a \text{ jika } a \text{ bilangan real negative}$$

$$\therefore \text{ Karena } a \text{ bilangan real maka } \sqrt{a^2} = |a|$$

2. (Jawaban : C)

$$5! = 120 = 2^3 \cdot 3 \cdot 5$$

$$\text{Banyaknya faktor positif} = (3 + 1)(1 + 1)(1 + 1) = 16$$

$\therefore$  Banyaknya faktor positif dari  $5!$  adalah 16.

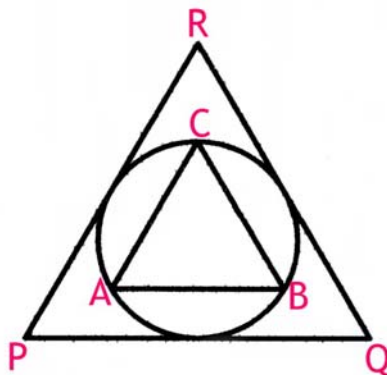
3. (Jawaban : C)

Agar huruf hidup tidak berdekatan maka ketiga huruf hidup tersebut harus berada pada urutan ke-1, ke-3 dan ke-5. Sisanya harus diisi oleh huruf konsonan.

$$\text{Maka banyaknya susunan} = 3! \cdot 2! = 12$$

$\therefore$  Banyaknya susunan = 12.

4. (Jawaban : C)



Misalkan jari-jari lingkaran tersebut adalah  $R$ , sisi  $\triangle ABC = x$  dan sisi  $\triangle PQR = y$ .

$$\frac{x}{\sin 60^\circ} = 2R \text{ sehingga } 3x = 3R\sqrt{3}$$

$$\text{Luas } \triangle PQR = \frac{1}{2} \cdot R \cdot (3y)$$

$$\frac{1}{2} y^2 \sin 60^\circ = \frac{1}{2} \cdot R \cdot 3y \text{ sehingga } 3y = 6R\sqrt{3}$$

$$\text{Keliling } \triangle ABC : \text{Keliling } \triangle PQR = 3x : 3y = 1 : 2$$

$\therefore$  Rasio keliling  $\triangle ABC$  terhadap keliling  $\triangle PQR$  adalah  $\frac{1}{2}$ .

5. (Jawaban : B)

$$(n) + (n + 1) + (n + 2) + (n + 3) = 2(2n + 3)$$

$2n + 3$  adalah bilangan ganjil.

∴ Maka nilai p terbesar adalah 2.

6. (Jawaban : C)

$$\{1, 2\} \subseteq X \subseteq \{1, 2, 3, 4, 5\}$$

X terdiri dari sedikitnya 2 unsur dan maksimal 5 unsur dengan 2 unsur di antaranya haruslah 1 dan 2. Sedangkan sisanya dipilih dari unsur-unsur 3, 4 atau 5.

Jika X terdiri dari 2 unsur maka banyaknya himpunan  $X = {}_3C_0 = 1$

Jika X terdiri dari 3 unsur maka banyaknya himpunan  $X = {}_3C_1 = 3$

Jika X terdiri dari 4 unsur maka banyaknya himpunan  $X = {}_3C_2 = 3$

Jika X terdiri dari 5 unsur maka banyaknya himpunan  $X = {}_3C_3 = 1$

Banyaknya himpunan  $X = 1 + 3 + 3 + 1 = 8$ .

∴ Banyaknya himpunan X yang memenuhi adalah 8.

7. (Jawaban : B)

Misalkan panjang  $AB = AC = x$  maka panjang  $BC = 2\sqrt{x^2 - 64}$  maka

$$x + \sqrt{x^2 - 64} = 16$$

$$x^2 - 64 = (16 - x)^2 = x^2 - 32x + 256$$

$$32x = 320$$

$$x = 10$$

Panjang AC = 10

∴ Panjang AC adalah 10.

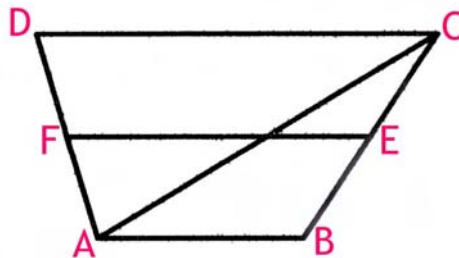
8. (Jawaban : E)

$$f(x) = \frac{x+1}{x-1}$$

$$f(-x) = \frac{-x+1}{-x-1} = \frac{x-1}{x+1} = \frac{1}{f(x)}$$

$$\therefore f(-x) = \frac{1}{f(x)}$$

9. (Jawaban : D)



$\triangle ABC$  dan  $\triangle ACD$  memiliki tinggi yang sama maka perbandingan luas keduanya dapat dinyatakan sebagai perbandingan alas.

$$AB : DC = 1 : 3$$

Misalkan panjang sisi  $AB = x$  maka panjang sisi  $DC = 3x$ .

$E$  adalah pertengahan  $BC$  dan  $F$  pertengahan  $DA$  sehingga  $FE$  sejajar  $AB$  dan  $DC$ .

$$\text{Maka } FE = \frac{1}{2}(x + 3x) = 2x$$

Misalkan tinggi trapesium =  $t$ .

$$\text{Luas ABEF} = \frac{(AB + FE)}{2} \cdot \frac{t}{2} = \frac{3tx}{4}$$

$$\text{Luas EFDC} = \frac{(FE + DC)}{2} \cdot \frac{t}{2} = \frac{5tx}{4}$$

$$\text{Rasio luas ABEF terhadap luas EFDC} = 3 : 5.$$

$$\therefore \text{Rasio luas ABEF terhadap luas EFDC adalah } \frac{3}{5}.$$

10. (Jawaban : A)

$$\text{Karena } \frac{a}{b} < \frac{c}{d} \text{ maka } \frac{b}{a} > \frac{d}{c}.$$

$$\frac{b-a}{a} > \frac{d-c}{c} \text{ sehingga } \frac{a}{c} < \frac{b-a}{d-c}$$

$$\therefore \frac{a}{c} < \frac{b-a}{d-c}$$

## BAGIAN KEDUA

11. Misal penonton dewasa =  $x$  dan penonton anak-anak =  $y$  maka

$$40.000x + 15.000y = 5.000.000$$

$$8x + 3y = 1000 \quad \dots\dots\dots (1)$$

$$x = 40\% (x + y)$$

$$3x = 2y \quad \dots\dots\dots (2)$$

Substitusikan persamaan (2) ke (1)

$$16y + 9y = 3000$$

$$y = 120$$

$\therefore$  Banyaknya penonton anak-anak adalah 120

12.  $2008 = 8 \cdot 251$  dan  $a = 251 \cdot k$  dengan  $k$  dan 8 relatif prima serta  $k$  bilangan asli.

Karena  $k > 8$  dan dua bilangan asli berurutan akan relatif prima maka  $k_{\min} = 9$ .

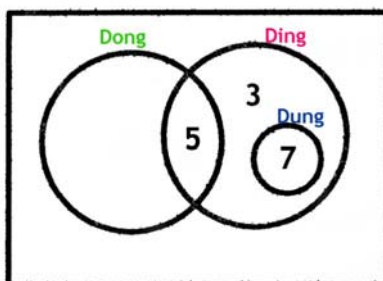
$$a_{\min} = k_{\min} \cdot 251$$

$$a_{\min} = 9 \cdot 251 = 2259.$$

$\therefore$  Nilai  $a$  terkecil yang mungkin adalah 2259.



13. Kalau persoalan tersebut digambarkan dalam diagram venn maka



∴ Maka banyaknya dung adalah 7.

14. Pasangan bilangan yang muncul adalah 1 dan 6 atau 2 dan 5 atau 3 dan 4.  
Banyaknya pasangan yang mungkin ada 6.

$$\therefore \text{Peluang} = \frac{6}{36}$$

15. Banyaknya bilangan yang mungkin ada  $4! = 24$ .  
Masing-masing angka 1, 4, 7 dan 8 akan muncul 6 kali sebagai angka satuan.  
Angka satuan bilangan tersebut = angka satuan  $6 \cdot 1 + 6 \cdot 4 + 6 \cdot 7 + 6 \cdot 8$   
∴ Angka satuan bilangan tersebut adalah 0.

16. Misalkan koordinat A adalah  $(p, q)$  maka karena pertengahan AB adalah titik  $(0, 0)$  maka koordinat B adalah  $(-p, -q)$ .

Titik A dan B terletak pada parabola maka

$$q = 4 + p - p^2 \quad \dots\dots\dots (1)$$

$$-q = 4 - p - p^2 \quad \dots\dots\dots (2)$$

Jumlahkan persamaan (1) dan (2) didapat

$$0 = 8 - 2p^2 \text{ sehingga } p = \pm 2$$

$$\text{Jika } p = 2 \text{ maka } q = 4 + 2 - 2^2 = 2$$

$$\text{Jika } p = -2 \text{ maka } q = 4 - 2 - 2^2 = -2$$

Koordinat A dan B adalah  $(2, 2)$  dan  $(-2, -2)$

$$\text{Panjang AB} = \sqrt{(2 - (-2))^2 + (2 - (-2))^2}$$

$$\therefore \text{Panjang AB} = 4\sqrt{2}.$$

17. Karena koefisien  $x^3$  adalah a dan konstantanya adalah 1 maka haruslah

$$(ax^3 + bx^2 + 1) = (x^2 - x - 1)(ax - 1)$$

$$(ax^3 + bx^2 + 1) = ax^3 - (a + 1)x^2 + (1 - a)x + 1$$

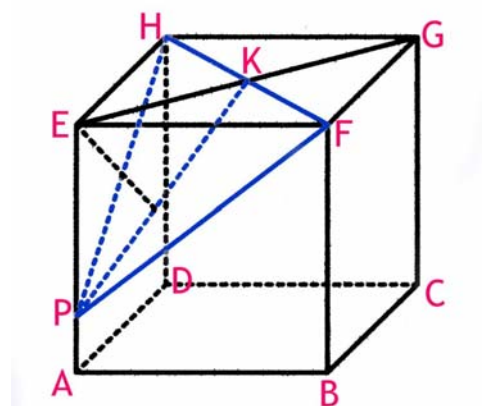
$$\text{Maka } 1 - a = 0 \text{ sehingga } a = 1$$

$$b = -(a + 1) \text{ sehingga}$$

$$b = -(1 + 1) = -2$$

∴ Nilai b yang memenuhi adalah  $b = -2$ .

18. Perhatikan gambar.



Perpotongan bidang yang melalui HF tersebut dengan kubus adalah segitiga PFH.

Misalkan panjang AP = x maka PE = 1 - x.

E.PFH adalah bangunan prisma dengan alas berbentuk segitiga sama kaki.

Karena PF = PH dan FE = HE maka proyeksi E pada bidang PFH akan berada pada garis tinggi PK.

Sudut antara garis EG dengan bidang PFH adalah  $\angle EKP$ .

$$EK = \frac{1}{2}\sqrt{2}$$

Pada  $\triangle KEP$  siku-siku di E.

$$\tan \angle EKP = \frac{EP}{EK} = \frac{1}{\sqrt{3}}$$

$$\frac{1-x}{\frac{1}{2}\sqrt{2}} = \frac{1}{\sqrt{3}}$$

$$AP = \frac{6-\sqrt{6}}{6}$$

$$\therefore \text{Panjang ruas AP adalah } \frac{6-\sqrt{6}}{6}.$$

19. Misalkan bilangan tersebut adalah N.

Misalkan N adalah bilangan n angka dengan angka-angka N adalah  $x_1, x_2, x_3, \dots, x_n$ .

$$N \geq 10^{n-1} \text{ dan } N = 6(x_1 + x_2 + \dots + x_n) \leq 54n$$

Lemma :

Akan dibuktikan bahwa jika terbukti  $54k < 10^{k-1}$  maka  $54(k+1) < 10^k$  untuk k bilangan asli  $\geq 3$ .

Andaikan bahwa  $54k < 10^{k-1}$ .

Karena  $k \geq 3$  maka  $54 < 9 \cdot 10^{k-1}$  sehingga

$$54k + 54 < 10^{k-1} + 9 \cdot 10^{k-1}$$

$$54(k+1) < 10^k$$

Terbukti bahwa untuk k asli  $\geq 3$  maka jika  $54k < 10^{k-1}$  maka  $54(k+1) < 10^k$ .

Pembuktian di atas sama saja dengan membuktikan bahwa untuk  $k \geq 3$  maka jika tidak ada N yang terdiri dari k angka yang memenuhi nilainya sama dengan 6 kali jumlah angka-angkanya maka tidak akan ada juga N terdiri dari k + 1 angka yang memenuhi nilainya sama dengan 6 kali jumlah angka-angkanya.

- Jika N terdiri dari 1 angka  
 $N = x_1 = 6(x_1)$  sehingga tidak ada N asli yang memenuhi.
- Jika bilangan tersebut adalah bilangan dua angka  
 $N = 10x_1 + x_2 = 6(x_1 + x_2)$   
 $4x_1 = 5x_2$   
 Karena  $x_1$  dan  $x_2$  asli maka pasangan  $(x_1, x_2)$  yang memenuhi hanya (5,4).  
 Bilangan yang memenuhi hanya 54.
- Jika N terdiri dari 3 angka  
 Misalkan  $N = 100x_1 + 10x_2 + x_3 = 6(x_1 + x_2 + x_3)$   
 $94x_1 + 4x_2 = 5x_3$   
 Karena  $x_1 \geq 1$  maka tidak ada tripel  $(x_1, x_2, x_3)$  yang memenuhi.  
 Sesuai dengan lemma maka untuk  $n \geq 3$  maka tidak ada N yang memenuhi nilainya sama dengan 6 angka jumlah angka-angkanya.  
 Himpunan semua bilangan yang memenuhi hanya {54}.  
 $\therefore$  Himpunan semua bilangan yang memenuhi adalah {54}.

$$20. (\sin a + \sin b)^2 = \left(\frac{1}{2}\sqrt{2}\right)^2 = \frac{1}{2}$$

$$\sin^2 a + \sin^2 b + 2 \sin a \sin b = \frac{1}{2} \quad \dots\dots\dots (1)$$

$$(\cos a + \cos b)^2 = \left(\frac{1}{2}\sqrt{6}\right)^2 = \frac{3}{2}$$

$$\cos^2 a + \cos^2 b + 2 \cos a \cos b = \frac{3}{2} \quad \dots\dots\dots (2)$$

Jumlahkan (1) dan (2) dan dengan mengingat  $\sin^2 \alpha + \cos^2 \alpha = 1$  maka

$$2 + 2 (\sin a \sin b + \cos a \cos b) = 2$$

$$\sin a \sin b + \cos a \cos b = 0$$

$$\cos (a - b) = 0 \quad \dots\dots\dots (3)$$

$$(\sin a + \sin b)(\cos a + \cos b) = \left(\frac{1}{2}\sqrt{2}\right)\left(\frac{1}{2}\sqrt{6}\right) = \frac{1}{2}\sqrt{3}$$

$$\sin a \cos a + \sin b \cos b + \sin a \cos b + \cos a \sin b = \frac{1}{2}\sqrt{3}$$

$$\frac{1}{2} (\sin 2a + \sin 2b) + \sin (a + b) = \frac{1}{2}\sqrt{3}$$

$$\sin (a + b) \cos (a - b) + \sin (a + b) = \frac{1}{2}\sqrt{3}$$

$$\text{Mengingat } \cos (a - b) = 0 \text{ maka } \sin (a + b) = \frac{1}{2}\sqrt{3}.$$

$$\therefore \sin (a + b) = \frac{1}{2}\sqrt{3}.$$

Catatan :

Jika yang dicari adalah nilai a dan b.

Tanpa mengurangi keumuman misalkan  $a \geq b$ .

## Olimpiade Matematika Tk Kabupaten/Kota 2008

---

Berdasarkan  $\cos(a - b) = 0$  maka

$$a - b = 90^\circ \quad \dots\dots\dots (4)$$

Karena  $\sin(a + b) = \frac{1}{2}\sqrt{3}$  maka :

- $a + b = 60^\circ \quad \dots\dots\dots (5)$

Berdasarkan (4) dan (5) maka didapat  $a = 75^\circ$  dan  $b = -15^\circ$  yang tidak memenuhi bahwa  $a$  dan  $b$  adalah besar dua sudut pada sebuah segitiga.

- $a + b = 120^\circ$

Berdasarkan (4) dan (6) maka didapat  $a = 115^\circ$  dan  $b = 15^\circ$ .

Tetapi bila  $a = 115^\circ$  dan  $b = 15^\circ$  disubstitusikan ke persamaan  $\sin a + \sin b = \frac{1}{2}\sqrt{2}$  dan

persamaan  $\cos a + \cos b = \frac{1}{2}\sqrt{6}$  ternyata tidak memenuhi keduanya.

Dapat disimpulkan bahwa tidak ada pasangan  $(a, b)$  yang memenuhi.



# **SELEKSI OLIMPIADE TINGKAT PROVINSI 2008 TIM OLIMPIADE MATEMATIKA INDONESIA 2009**

**Bidang Matematika**

**Bagian Pertama**

**Waktu : 90 Menit**



**DEPARTEMEN PENDIDIKAN NASIONAL  
DIREKTORAT JENDERAL MANAJEMEN PENDIDIKAN DASAR DAN MENENGAH  
DIREKTORAT PEMBINAAN SEKOLAH MENENGAH ATAS  
TAHUN 2008**

**SELEKSI TINGKAT PROVINSI CALON  
PESERTA OLIMPIADE SAINS NASIONAL 2008  
MATEMATIKA SMA**

**BAGIAN PERTAMA**

1. Banyaknya pembagi positif dari 2008 adalah .....
2. Cara menyusun huruf-huruf MATEMATIKA dengan kedua T tidak berdekatan ada sebanyak .....
3. Jika  $0 < b < a$  dan  $a^2 + b^2 = 6ab$ , maka  $\frac{a+b}{a-b} = \dots\dots$
4. Dua dari panjang garis tinggi segitiga ABC lancip, berturut-turut sama dengan 4 dan 12. Jika panjang garis tinggi yang ketiga dari segitiga tersebut merupakan bilangan bulat, maka panjang maksimum garis tinggi segitiga tersebut adalah .....
5. Dalam bidang XOY, banyaknya garis yang memotong sumbu X di titik dengan absis bilangan prima dan memotong sumbu Y di titik dengan ordinat bilangan bulat positif serta melalui titik (4, 3) adalah .....
6. Diberikan segitiga ABC, AD tegak lurus BC sedemikian rupa sehingga DC = 2 dan BD = 3. Jika  $\angle BAC = 45^\circ$ , maka luas segitiga ABC adalah .....
7. Jika x dan y bilangan bulat yang memenuhi  $y^2 + 3x^2y^2 = 30x^2 + 517$ , maka  $3x^2y^2 = \dots\dots$
8. Diberikan segitiga ABC, dengan BC = a, AC = b dan  $\angle C = 60^\circ$ . Jika  $\frac{a}{b} = 2 + \sqrt{3}$ , maka besarnya sudut B adalah .....
9. Seratus siswa suatu Provinsi di Pulau Jawa mengikuti seleksi tingkat Provinsi dan skor rata-ratanya adalah 100. Banyaknya siswa kelas II yang mengikuti seleksi tersebut 50% lebih banyak dari siswa kelas III, dan skor rata-rata siswa kelas III 50% lebih tinggi dari skor rata-rata siswa kelas II. Skor rata-rata siswa kelas III adalah .....
10. Diberikan segitiga ABC, dengan BC = 5, AC = 12, dan AB = 13. Titik D dan E berturut-turut pada AB dan AC sedemikian rupa sehingga DE membagi segitiga ABC menjadi dua bagian dengan luas yang sama. Panjang minimum DE adalah .....
11. Misalkan a, b, c dan d bilangan rasional. Jika diketahui persamaan  $x^4 + ax^3 + bx^2 + cx + d = 0$  mempunyai 4 akar real, dua di antaranya adalah  $\sqrt{2}$  dan  $\sqrt{2008}$ . Nilai dari a + b + c + d adalah ..

12. Diberikan segitiga ABC dengan sisi-sisi  $a$ ,  $b$ , dan  $c$ . Nilai  $a^2 + b^2 + c^2$  sama dengan 16 kali luas segitiga ABC. Besarnya nilai  $\text{ctg } A + \text{ctg } B + \text{ctg } C$  adalah .....
13. Diberikan  $f(x) = x^2 + 4$ . Misalkan  $x$  dan  $y$  adalah bilangan-bilangan real positif yang memenuhi  $f(xy) + f(y - x) = f(y + x)$ . Nilai minimum dari  $x + y$  adalah .....
14. Banyak bilangan bulat positif  $n$  kurang dari 2008 yang mempunyai tepat  $\frac{n}{2}$  bilangan kurang dari  $n$  dan relatif prima terhadap  $n$  adalah .....
15. Suatu polinom  $f(x)$  memenuhi persamaan  $f(x^2) - x^3f(x) = 2(x^3 - 1)$  untuk setiap  $x$  bilangan real. Derajat (pangkat tertinggi  $x$ )  $f(x)$  adalah .....
16. Anggap satu tahun 365 hari. Peluang dari 20 orang yang dipilih secara acak ada dua orang yang berulang tahun pada hari yang sama adalah .....
17. Tiga bilangan dipilih secara acak dari  $\{1, 2, 3, \dots, 2008\}$ . Peluang jumlah ketiganya genap adalah ...
18. Misalkan  $|X|$  menyatakan banyaknya anggota himpunan  $X$ . Jika  $|A \cup B| = 10$  dan  $|A| = 4$ , maka nilai yang mungkin untuk  $|B|$  adalah .....
19. Diketahui  $AD$  adalah garis tinggi dari segitiga  $ABC$ ,  $\angle DAB = \angle ACD$ ,  $AD = 6$ ,  $BD = 8$ . Luas segitiga  $ABC$  adalah .....
20. Nilai dari  $\sum_{k=0}^{1004} 3^k \binom{1004}{k} = \dots\dots\dots$



# **SELEKSI OLIMPIADE TINGKAT PROVINSI 2008 TIM OLIMPIADE MATEMATIKA INDONESIA 2009**

**Bidang Matematika**

**Bagian Kedua**

**Waktu : 120 Menit**



**DEPARTEMEN PENDIDIKAN NASIONAL  
DIREKTORAT JENDERAL MANAJEMEN PENDIDIKAN DASAR DAN MENENGAH  
DIREKTORAT PEMBINAAN SEKOLAH MENENGAH ATAS  
TAHUN 2008**



**SELEKSI TINGKAT PROVINSI CALON  
PESERTA OLIMPIADE SAINS NASIONAL 2008  
MATEMATIKA SMA**

**BAGIAN KEDUA**

1. Carilah semua pasangan bilangan asli  $(x, n)$  yang memenuhi
$$1 + x + x^2 + \cdots + x^n = 40$$
2. Diberikan polinom real  $P(x) = x^{2008} + a_1x^{2007} + a_2x^{2006} + \cdots + a_{2007}x + a_{2008}$  dan  $Q(x) = x^2 + 2x + 2008$ . Misalkan persamaan  $P(x) = 0$  mempunyai 2008 penyelesaian real dan  $P(2008) \leq 1$ . Tunjukkan bahwa persamaan  $P(Q(x)) = 0$  mempunyai penyelesaian real.
3. Lingkaran dalam dari segitiga ABC, menyinggung sisi-sisi BC, CA, dan AB berturut-turut di D, E, dan F. Melalui D, ditarik garis tegak lurus EF yang memotong EF di G. Buktikan bahwa
$$\frac{FG}{EG} = \frac{BF}{CE}$$
4. Bilangan 1, 2, 3, ..., 9 disusun melingkar secara acak. Buktikan bahwa ada tiga bilangan berdekatan yang jumlahnya lebih besar dari 15.
5. Tentukan banyaknya bilangan positif 5-angka palindrom yang habis dibagi 3. Palindrom adalah bilangan/kata yang sama jika dibaca dari kiri ke kanan atau sebaliknya. Sebagai contoh 35353 adalah bilangan palindrom, sedangkan 14242 bukan.

**SELEKSI OLIMPIADE TINGKAT PROVINSI 2008  
TIM OLIMPIADE MATEMATIKA INDONESIA 2009**

*Prestasi itu diraih bukan didapat !!!*

**SOLUSI SOAL**

**Bidang Matematika**

**Bagian Pertama**



Disusun oleh : Eddy Hermanto, ST

## BAGIAN PERTAMA

1.  $2008 = 2^3 \cdot 251$

Banyaknya pembagi positif dari  $2008 = (3 + 1)(1 + 1)$

$\therefore$  Banyaknya pembagi positif dari  $2008 = 8$ .

2. Alternatif 1 :

Banyaknya cara menyusun huruf-huruf MATEMATIKA adalah  $\frac{10!}{3!2!2!} = 151200$

Banyaknya cara menyusun huruf-huruf MATEMATIKA dengan syarat kedua T berdekatan adalah sama dengan banyaknya cara menyusun huruf-huruf MATEMAIKA, yaitu  $\frac{9!}{3!2!} = 30240$

Banyaknya cara menyusun huruf-huruf MATEMATIKA dengan kedua T tidak berdekatan adalah  $= 151200 - 30240 = 120960$ .

$\therefore$  Banyaknya cara menyusun = 120960.

Alternatif 2 :

Karena T tidak boleh berdekatan maka kedua huruf T hanya dapat ditempatkan ke dalam 9 dari 10 tempat. Banyaknya cara memilih 9 tempat  $= {}_9C_2 = 36$  cara

Ke-8 tempat yang lain akan diisi oleh ke-8 huruf tersisa yang terdiri dari 2 huruf M, 3 huruf A dan masing-masing satu huruf yaitu E, I dan K. Banyaknya cara  $= \frac{8!}{2!3!} = 3360$  cara.

Banyaknya cara menyusun huruf-huruf MATEMATIKA dengan kedua T tidak berdekatan adalah  $= 36 \times 3360 = 120960$ .

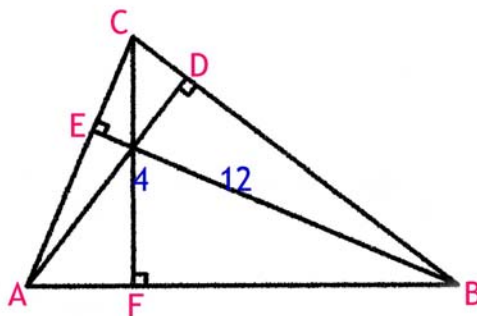
$\therefore$  Banyaknya cara menyusun = 120960.

3. Karena  $0 < b < a$  maka  $\frac{a+b}{a-b}$  akan bernilai positif.

$$\left(\frac{a+b}{a-b}\right)^2 = \frac{a^2 + b^2 + 2ab}{a^2 + b^2 - 2ab} = \frac{6ab + 2ab}{6ab - 2ab} = 2$$

$$\therefore \frac{a+b}{a-b} = \sqrt{2}$$

4. Misalkan panjang sisi-sisi segitiga ABC adalah  $BC = a$ ,  $AC = b$  dan  $AB = c$ .



Misalkan juga panjang garis tinggi dari A adalah  $x$  dengan  $x$  bilangan asli.  
Ada dua kemungkinan pemahaman terhadap pertanyaan pada soal.

- i) Yang ditanyakan adalah maks ( $x$ , 4, 12).

$$[ABC] = \frac{1}{2} \cdot AC \cdot 12 = \frac{1}{2} \cdot AB \cdot 4$$

$$b \cdot 12 = AB \cdot 4$$

$$AB = 3b$$

$$[ABC] = \frac{1}{2} \cdot a \cdot x = \frac{1}{2} \cdot 4 \cdot 3b$$

$$ax = 12b \quad \dots\dots\dots (1)$$

Akan dibuktikan bahwa  $x \leq 12$  sehingga panjang maksimum dari garis tinggi segitiga ABC adalah 12.

Andaikan bahwa  $x > 12$ .

Dari persamaan (1) akan didapat bahwa  $a < b \quad \dots\dots\dots (2)$

Pada segitiga siku-siku ACF jelas bahwa  $AC = b > AF$

Karena  $AB = 3b$  maka  $FB > 2b$

Pada segitiga siku-siku BCF berlaku bahwa  $BC > FB$

Karena  $BC = a < b$  sedangkan  $FB > 2b$  maka ketaksamaan tidak mungkin terjadi. Kontradiksi dengan pengandaian awal.

Jadi,  $x \leq 12$ .

Maka panjang maksimum garis tinggi segitiga ABC adalah 12.

- ii) Yang ditanyakan adalah panjang maksimum dari garis tinggi yang ketiga dari segitiga ABC  
Panjang garis tinggi-garis tinggi yang berturut-turut sepadan dengan sisi-sisi  $a$ ,  $b$  dan  $c$  adalah  $x$ , 12 dan 4.

Dengan rumus luas segitiga ABC didapat hubungan

$$xa = 12b = 4c$$

Dengan ketaksamaan segitiga didapat

$$c < a + b \text{ sehingga } 1 < \frac{a}{c} + \frac{b}{c}$$

$$1 < \frac{4}{x} + \frac{1}{3} \text{ sehingga didapat } x < 6.$$

Jika  $x = 5$  maka  $5a = 12b = 4c$

$$a : b : c = \frac{1}{5} : \frac{1}{12} : \frac{1}{4} = 12 : 5 : 15$$

Karena  $12^2 + 5^2 < 15^2$  maka segitiga tersebut tumpul. Kontradiksi.

Jika  $x = 4$  maka  $4a = 12b = 4c$

$$a : b : c = \frac{1}{4} : \frac{1}{12} : \frac{1}{4} = 3 : 1 : 3$$

Segitiga tersebut adalah segitiga lancip sebab  $3^2 + 1^2 > 3^2$ .

Jadi, panjang maksimum garis tinggi yang ketiga dari segitiga ABC adalah 4.

- $\therefore$  Dari dua kemungkinan ini Penulis lebih cenderung pada kemungkinan pertama yang sesuai dengan kata-kata pada soal. Panjang maksimum garis tinggi dari segitiga ABC adalah 12.

5. Misalkan persamaan garis tersebut adalah  $y = mx + c$

Misalkan juga garis memotong sumbu X di  $(p, 0)$  dan sumbu Y di  $(0, q)$  dengan  $p$  adalah bilangan prima dan  $q$  adalah bilangan bulat positif.

Karena garis memotong sumbu X di  $(p, 0)$  dan sumbu Y di  $(0, q)$  maka persamaan garis tersebut

$$\text{adalah } y = -\frac{q}{p}x + c.$$

Garis melalui  $(0, q)$  maka  $c = q$ . Jadi persamaan garis tersebut adalah  $y = -\frac{q}{p}x + q$

Karena garis melalui  $(4, 3)$  maka berlaku

$$3p = -4q + pq$$

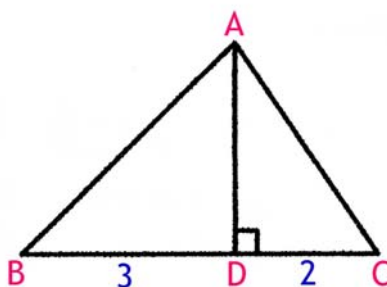
$$(p - 4)(q - 3) = 12$$

- \* Jika  $p$  genap maka  $p = 2$  sehingga  $q = -3$ . Tidak memenuhi  $q$  bulat positif.
- \* Jika  $p$  ganjil maka  $p - 4$  ganjil. Nilai  $p - 4$  yang mungkin memenuhi adalah  $\pm 1$  atau  $\pm 3$ .
  - Jika  $p - 4 = -1$  maka  $p = 3$  dan  $q = -9$ . Tidak memenuhi  $q$  bulat positif.
  - Jika  $p - 4 = 1$  maka  $p = 5$  dan  $q = 15$ . Jadi persamaan garis adalah  $y = -3x + 15$  yang melalui titik  $(4, 3)$
  - Jika  $p - 4 = -3$  maka  $p = 1$  yang tidak memenuhi bahwa  $p$  adalah bilangan prima.
  - Jika  $p - 4 = 3$  maka  $p = 7$  dan  $q = 7$ . Jadi persamaan garis adalah  $y = -x + 7$  yang melalui titik  $(4, 3)$

Persamaan garis yang memenuhi adalah  $y = -3x + 15$  dan  $y = -x + 7$ .

$\therefore$  Banyaknya garis yang memenuhi ada 2.

6. Perhatikan gambar. Diketahui dari soal  $\angle BAC = 45^\circ$ .



Alternatif 1 :

Misalkan luas segitiga  $ABC = [ABC]$

Dengan dalil pitagoras didapat :

$$AC^2 = AD^2 + 4 \quad \dots\dots\dots (1)$$

$$AB^2 = AD^2 + 9 \quad \dots\dots\dots (2)$$

Persamaan (2) jumlahkan dengan (1) didapat

$$AB^2 + AC^2 = 2AD^2 + 13 \quad \dots\dots\dots (3)$$

$$[ABC] = \frac{1}{2} BC \cdot AD$$

$$\text{Karena } BC = 5 \text{ maka } AD = \frac{2[ABC]}{5} \quad \dots\dots\dots (4)$$

Pada segitiga ABC berlaku

$$BC^2 = AB^2 + AC^2 - 2 AB AC \cos 45^\circ = AB^2 + AC^2 - 2 AB AC \sin 45^\circ$$

$$25 = 2 AD^2 + 13 - 4[ABC] \quad \dots\dots\dots (5)$$

Substitusikan persamaan (4) ke (5)

$$12 = \frac{8[ABC]^2}{25} - 4[ABC]$$

$$(2[ABC] + 5)([ABC] - 15) = 0$$

$$\text{Maka } [ABC] = 15$$

$\therefore$  Luas segitiga ABC adalah 15.

## Alternatif 2 :

Misalkan  $AD = t$ 

$$\angle BAD + \angle CAD = 45^\circ$$

$$1 = \tan 45^\circ = \frac{\tan \angle BAD + \tan \angle CAD}{1 - \tan \angle BAD \cdot \tan \angle CAD}$$

$$1 = \frac{\frac{3}{t} + \frac{2}{t}}{1 - \frac{3}{t} \cdot \frac{2}{t}} \text{ yang ekuivalen dengan}$$

$$(t - 6)(t + 1) = 0$$

$$[ABC] = \frac{1}{2} \cdot BC \cdot AD = \frac{1}{2} \cdot 5 \cdot 6$$

$\therefore$  Luas segitiga ABC adalah 15.

7. Persamaan tersebut dapat diubah menjadi  $(3x^2 + 1)(y^2 - 10) = 507 = 3 \cdot 13^2$   
 Karena  $3x^2 + 1$  bulat positif maka  $y^2 - 10$  juga bilangan bulat positif. Faktor positif dari 507 ada 6 yaitu 1, 3, 13, 39, 169 dan 507.  
 $y^2 - 10$  adalah faktor dari 507 maka  $y^2 = 11, 13, 23, 49, 179$  atau 517 dan yang merupakan bilangan kuadrat sempurna hanya 49. Maka  $y^2 = 49$ .  
 Sehingga  $3x^2 + 1 = 13$ .  
 $\therefore 3x^2 y^2 = 12 \times 49 = 588$ .

## 8. Alternatif 1 :

$$\tan 15^\circ = \tan(45^\circ - 30^\circ) = \frac{\tan 45^\circ - \tan 30^\circ}{1 + \tan 45^\circ \tan 30^\circ} = \frac{1 - \frac{1}{3}\sqrt{3}}{1 + 1 \cdot \frac{1}{3}\sqrt{3}} = \frac{3 - \sqrt{3}}{3 + \sqrt{3}} \cdot \frac{3 + \sqrt{3}}{3 + \sqrt{3}}$$

$$\tan 15^\circ = \frac{\sqrt{3}}{3 + 2\sqrt{3}} \quad \dots\dots\dots (1)$$

Dengan dalil cosinus

$$\frac{a}{\sin \angle A} = \frac{b}{\sin \angle B} \text{ sehingga } \frac{\sin \angle A}{\sin \angle B} = \frac{a}{b} = 2 + \sqrt{3}$$

$$\sin \angle A = (2 + \sqrt{3}) \sin \angle B \quad \dots\dots\dots (2)$$

Karena  $\angle C = 60^\circ$  maka  $\angle A = 120^\circ - \angle B$

$$\sin \angle A = \sin (120^\circ - \angle B) = \sin 120^\circ \cos \angle B - \cos 120^\circ \sin \angle B$$

$$(2 + \sqrt{3}) \sin \angle B = \frac{1}{2} \sqrt{3} \cos \angle B + \frac{1}{2} \sin \angle B$$

$$\left( \frac{3}{2} + \sqrt{3} \right) \sin \angle B = \frac{1}{2} \sqrt{3} \cos \angle B$$

$$\tan \angle B = \frac{\sqrt{3}}{3 + 2\sqrt{3}} = \tan 15^\circ$$

$\therefore$  Besarnya sudut B adalah  $15^\circ$ .

## Alternatif 2 :

Misal  $AB = c$  dan dengan dalil cosinus didapat

$$c^2 = a^2 + b^2 - 2ab \cos 60^\circ$$

Substitusikan  $a = (2 + \sqrt{3})b$  yang didapat dari soal.

$$c^2 = (2 + \sqrt{3})^2 b^2 + b^2 - 2(2 + \sqrt{3})b \cdot b \cdot \frac{1}{2}$$

$$c^2 = (6 + 3\sqrt{3})b^2$$

Dengan dalil sinus didapat

$$\frac{c^2}{(\sin \angle C)^2} = \frac{b^2}{(\sin \angle B)^2}$$

$$\frac{(6 + 3\sqrt{3})b^2}{\frac{3}{4}} = \frac{b^2}{\sin^2 \angle B}$$

$$\sin^2 \angle B = \frac{1}{4(2 + \sqrt{3})} = \frac{1}{2} - \frac{1}{4}\sqrt{3}$$

$$\angle B = 15^\circ$$

$\therefore$  Besarnya sudut B adalah  $15^\circ$ .

9. Karena banyaknya siswa = 100 orang sedangkan banyaknya siswa kelas II 50% lebih banyak dari siswa kelas III maka banyaknya siswa kelas II yang mengikuti seleksi = 60 orang sedangkan siswa kelas III = 40 orang.

Misalkan skor rata-rata kelas III adalah  $x$  maka skor rata-rata kelas II adalah  $\frac{2}{3}x$ .

$$100 = \frac{60 \cdot \frac{2}{3}x + 40 \cdot x}{100}$$

$$x = 125$$

$\therefore$  Skor rata-rata siswa kelas III adalah 125.

10. Misalkan panjang  $AD = x$  dan panjang  $AE = y$

$$\text{Luas } \triangle ABC = \frac{1}{2}(5)(12) = 30 \text{ dan } \sin A = \frac{5}{13} \text{ serta } \cos A = \frac{12}{13}$$

$$\text{Luas } \triangle ADE = \frac{1}{2}xy \sin A = 15. \text{ Maka } xy = 78.$$

Sesuai dalil cosinus pada  $\triangle ADE$  maka :

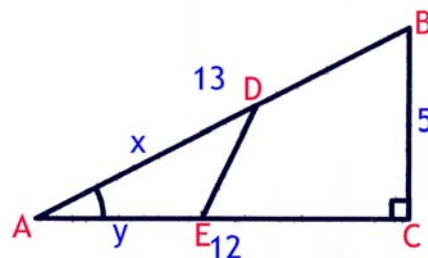
$$DE^2 = x^2 + y^2 - 2xy \cos A = x^2 + y^2 - 144$$

Dengan AM-GM maka

$$DE^2 \geq 2xy - 144 = 12$$

$DE^2$  akan minimum sama dengan 12 jika  $x = y = \sqrt{78}$

$$\therefore DE_{\text{minimum}} = 2\sqrt{3}$$



11. Misalkan ke-4 akar tersebut adalah  $x_1, x_2, x_3$  dan  $x_4$  dengan  $x_1 = \sqrt{2}$  dan  $x_2 = \sqrt{2008} = 2\sqrt{502}$ .

Alternatif 1 :

$$x^4 + ax^3 + bx^2 + cx + d = (x - x_1)(x - x_2)(x - x_3)(x - x_4) = 0$$

$x_1 + x_2 + x_3 + x_4 = -a$  yang merupakan bilangan rasional. Maka ada 2 kemungkinan nilai  $x_3$  dan  $x_4$ .

- $x_3 = p - \sqrt{2} - 2\sqrt{502}$  dan  $x_4 = q$  untuk  $p$  dan  $q$  bilangan rasional.  
 $x_1x_2x_3x_4 = d$  yang merupakan bilangan rasional.  
 $(\sqrt{2})(2\sqrt{502})(p - \sqrt{2} - 2\sqrt{502})(q) = \text{bilangan rasional untuk } p, q \text{ rasional}$   
 $4p\sqrt{251} - 4\sqrt{251} - 2008\sqrt{2} = \text{bilangan rasional.}$

Maka tidak ada  $p$  rasional yang memenuhi

- $x_3 = p - \sqrt{2}$  dan  $x_4 = q - 2\sqrt{502}$  untuk  $p$  dan  $q$  bilangan rasional.  
 $x_1x_2x_3x_4 = d$  yang merupakan bilangan rasional.  
 $(\sqrt{2})(2\sqrt{502})(p - \sqrt{2})(q - 2\sqrt{502}) = \text{bilangan rasional}$   
 $4pq\sqrt{251} - 2008p\sqrt{2} - 4q\sqrt{502} + 4016 = \text{bilangan rasional}$

Kesamaan di atas akan terpenuhi hanya jika  $p = q = 0$  sehingga  $x_3 = -\sqrt{2}$  dan  $x_4 = -\sqrt{2008}$

$$x^4 + ax^3 + bx^2 + cx + d = (x - \sqrt{2})(x - \sqrt{2008})(x + \sqrt{2})(x + \sqrt{2008})$$

$$x^4 + ax^3 + bx^2 + cx + d = (x^2 - 2)(x^2 - 2008) = x^4 - 2010x^2 + 4016$$

Maka  $a = 0$ ,  $b = -2010$ ,  $c = 0$  dan  $d = 4016$

$$a + b + c + d = 0 - 2010 + 0 + 4016$$

$\therefore$  Nilai  $a + b + c + d$  adalah 2006.

Alternatif 2 :

Jika  $\sqrt{2}$  disubstitusikan ke persamaan  $x^4 + ax^3 + bx^2 + cx + d = 0$  didapat

$$(2a + c)\sqrt{2} = -(2b + d + 4)$$

Karena  $a, b, c$  dan  $d$  rasional maka kesamaan hanya mungkin terjadi jika  $2a + c = 0$  ..... (1)

Sehingga  $2b + d + 4 = 0$  ..... (2)

Jika  $\sqrt{2008} = 2\sqrt{502}$  disubstitusikan ke persamaan  $x^4 + ax^3 + bx^2 + cx + d = 0$  didapat

$$(2008a + c)\sqrt{2} = -(2008b + d + 4032064)$$

Karena  $a, b, c$  dan  $d$  rasional maka kesamaan hanya mungkin terjadi jika  $2008a + c = 0$  ..... (3)

Sehingga  $2008b + d + 4032064 = 0$  ..... (4)

Dari persamaan (1) dan (3) didapat  $a = 0$  dan  $c = 0$

Dari persamaan (2) dan (4) didapat  $b = -2010$  dan  $d = 4016$

$$a + b + c + d = 0 - 2010 + 0 + 4016 = 2006$$

$\therefore$  Nilai  $a + b + c + d$  adalah 2006.

12. Misalkan  $[ABC]$  menyatakan luas  $\triangle ABC$ .

$$\text{Berdasarkan dalil cosinus, } \cos \angle A = \frac{AB^2 + AC^2 - BC^2}{2 \cdot AB \cdot AC}.$$

$$\text{Maka } \operatorname{ctg} \angle A = \frac{\cos \angle A}{\sin \angle A} = \frac{AB^2 + AC^2 - BC^2}{2 \cdot AB \cdot AC \cdot \sin \angle A} = \frac{AB^2 + AC^2 - BC^2}{4[ABC]}$$



Dengan cara yang sama didapat :

$$\operatorname{ctg} \angle B = \frac{AB^2 + BC^2 - AC^2}{4[ABC]}$$

$$\operatorname{ctg} \angle C = \frac{AC^2 + BC^2 - AB^2}{4[ABC]}$$

$$\operatorname{ctg} \angle A + \operatorname{ctg} \angle B + \operatorname{ctg} \angle C = \frac{AB^2 + AC^2 + BC^2}{4[ABC]} = \frac{16}{4}$$

$$\therefore \operatorname{ctg} \angle A + \operatorname{ctg} \angle B + \operatorname{ctg} \angle C = 4.$$

13.  $f(x) = x^2 + 4$

$$f(xy) = x^2y^2 + 4$$

$$f(y - x) = (y - x)^2 + 4$$

$$f(y + x) = (y + x)^2 + 4$$

$$f(xy) + f(y - x) = f(y + x)$$

$$x^2y^2 + 4 + (y - x)^2 + 4 = (y + x)^2 + 4$$

$$x^2y^2 + y^2 + x^2 - 2xy + 4 = y^2 + x^2 + 2xy$$

$$x^2y^2 + 4 = 4xy$$

$$(xy - 2)^2 = 0$$

$$\text{Jadi } xy = 2$$

Dengan ketaksamaan AM-GM maka

$$x + y \geq 2\sqrt{xy} = 2\sqrt{2}$$

Dengan memanfaatkan bilangan kuadrat tak mungkin negatif

$$x + y = x + \frac{2}{x} = \left( \sqrt{x} - \frac{\sqrt{2}}{\sqrt{x}} \right)^2 + 2\sqrt{2}$$

$$\text{tanda kesamaan terjadi jika } x = y = \sqrt{2}$$

$$\therefore \text{Nilai minimum dari } x + y \text{ adalah } 2\sqrt{2}$$

14. Jelas bahwa  $n$  harus genap.

Misalkan  $n = 2^y \cdot p_1^{x_1} \cdot p_2^{x_2} \cdot \dots \cdot p_k^{x_k}$  dengan  $p_i$  untuk  $i = 1, 2, \dots, k$  semuanya bilangan prima ganjil dan  $x_i$  untuk  $i = 1, 2, \dots, k$  semuanya bilangan bulat tak negatif serta  $y$  asli.

Karena salah satu faktor dari  $n$  adalah 2 maka semua bilangan genap  $\leq n$  tidak akan relatif prima dengan  $n$ . Banyaknya bilangan genap  $\leq n$  ada tepat sebanyak  $\frac{n}{2}$  dan banyaknya bilangan ganjil

kurang dari  $n$  juga ada sebanyak  $\frac{n}{2}$ .

Tetapi untuk semua  $1 < p_i < n$  dengan  $i = 1, 2, \dots, k$  juga merupakan faktor dari  $n$  yang mengakibatkan semua  $1 < p_i < n$  dengan  $i = 1, 2, \dots, k$  tidak akan relatif prima dengan  $n$ .

Maka agar terpenuhi ada tepat  $\frac{n}{2}$  bilangan kurang dari  $n$  dan relatif prima terhadap  $n$  maka  $n$

tidak boleh memiliki faktor ganjil selain 1. Jadi  $p_i = 1$  untuk semua  $i = 1, 2, \dots, k$ .

Maka  $n = 2^y$  untuk suatu bilangan asli  $y$ .

Karena  $n < 2008$  maka  $2^y < 2008$ . Jadi  $y \leq 10$ .

Maka nilai  $n$  yang memenuhi adalah 2, 4, 8, 16, 32, 64, 128, 256, 512, 1024.

$\therefore$  Banyaknya bilangan bulat positif  $n$  yang memenuhi ada 10.

15. Misalkan  $f(x)$  berderajat  $n$  maka  $f(x^2)$  akan berderajat  $2n$ .

$x^3 f(x)$  akan berderajat  $n + 3$ .

- Jika  $n > 3$  maka  $2n > n + 3$  sehingga  $f(x^2) - x^3 f(x)$  akan berderajat  $2n > 6$ . Jadi, tanda kesamaan tidak mungkin terjadi.

- Jika  $n = 3$  maka  $f(x^2)$  dan  $x^3 f(x)$  akan berderajat sama yaitu 6 sehingga masih dimungkinkan  $f(x^2) - x^3 f(x)$  akan berderajat 3.

Jika  $f(x) = x^3 - 2$  maka  $f(x^2) - x^3 f(x) = (x^6 - 2) - x^3(x^3 - 2) = 2(x^3 - 1)$  yang memenuhi.

- Jika  $n < 3$  maka  $2n < n + 3$  sehingga  $f(x^2) - x^3 f(x)$  akan berderajat  $n + 3$ . Karena ruas kanan berderajat 3 maka  $n = 0$ .

$\therefore$  Derajat  $f(x)$  adalah 3.

16. Banyaknya kemungkinan tanggal lahir dari 20 orang =  $365^{20}$ .

Banyaknya kemungkinan dari 20 orang tersebut tidak ada satupun yang berulang tahun di hari yang sama =  $365 \cdot 364 \cdot 363 \cdot \dots \cdot 346 = {}_{365}P_{20}$ .

Peluang yang ditanyakan pada soal dapat dicari dengan cara komplemen.

Peluang dari 20 orang yang dipilih secara acak ada dua orang yang berulang tahun pada hari yang sama adalah

$$1 - \frac{{}_{365}P_{20}}{365^{20}}$$

$$\therefore \text{Peluang dari soal} = 1 - \frac{{}_{365}P_{20}}{365^{20}}$$

17. Ada dua kemungkinan jumlah ketiga bilangan tersebut genap

- Ketiga bilangan tersebut semuanya genap

$$\text{Peluang} = \frac{{}_{1004}C_3}{{}_{2008}C_3} = \frac{\frac{1004 \cdot 1003 \cdot 1002}{6}}{\frac{2008 \cdot 2007 \cdot 2006}{6}} = \frac{167}{1338}$$

- Ada satu bilangan genap dan dua lainnya ganjil

$$\frac{{}_{1004}C_1 \cdot {}_{1004}C_2}{{}_{2008}C_3} = \frac{1004 \cdot \frac{1004 \cdot 1003}{2}}{\frac{2008 \cdot 2007 \cdot 2006}{6}} = \frac{502}{1338}$$

$$\text{Peluang jumlah ketiga bilangan tersebut genap} = \frac{167}{1338} + \frac{502}{1338}$$

$$\therefore \text{Peluang jumlah ketiga bilangan tersebut genap} = \frac{1}{2}$$

$$18. |A \cup B| = |A| + |B| - |A \cap B|$$

$$10 = 4 + |B| - |A \cap B|$$

$$|B| - |A \cap B| = 6$$

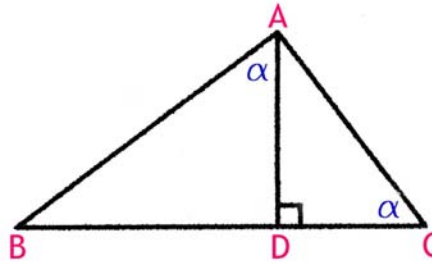
Jelas bahwa  $0 \leq |A \cap B| \leq |A|$  sehingga  $0 \leq |A \cap B| \leq 4$ .

Jadi  $6 \leq |B| \leq 10$

Karena  $|B|$  bulat tak negatif maka  $|B| = 6, 7, 8, 9$  atau  $10$ .

$\therefore |B| = 6, 7, 8, 9$  atau  $10$ .

19. Misalkan  $\angle DAB = \angle ACD = \alpha$



$$\text{ctg } \alpha = \frac{AD}{BD} = \frac{CD}{AD}$$

$$\frac{6}{8} = \frac{CD}{6} \text{ sehingga } CD = \frac{9}{2}$$

$$\text{Luas segitiga ABC} = \frac{1}{2} \cdot (BD + CD) \cdot AD = \frac{75}{2}$$

$$\therefore \text{Luas segitiga ABC} = \frac{75}{2}$$

20. Dengan binom Newton didapat

$$4^{1004} = (3+1)^{1004} = \binom{1004}{0} 3^0 + \binom{1004}{1} 3^1 + \binom{1004}{2} 3^2 + \cdots + \binom{1004}{1004} 3^{1004} = \sum_{k=0}^{1004} 3^k \binom{1004}{k}$$

$$\therefore \sum_{k=0}^{1004} 3^k \binom{1004}{k} = 2^{2008}.$$

SELEKSI OLIMPIADE TINGKAT PROVINSI 2008  
TIM OLIMPIADE MATEMATIKA INDONESIA 2009

*Prestasi itu diraih bukan didapat !!!*

**SOLUSI SOAL**

**Bidang Matematika**

**Bagian Kedua**

Disusun oleh : Eddy Hermanto, ST



## BAGIAN KEDUA

1.  $1 + x + x^2 + \dots + x^n = 40$

$$x + x^2 + \dots + x^n = 39$$

$$x(1 + x + x^2 + \dots + x^{n-1}) = 39$$

Karena  $x$  dan  $n$  bilangan asli maka  $x$  merupakan faktor dari 39

Nilai  $x$  yang mungkin memenuhi adalah 1, 3, 13 atau 39.

- Jika  $x = 1$  maka  $1 + 1^2 + \dots + 1^n = 39$ .

Jadi,  $n = 39$

- Jika  $x = 3$

$$\text{Karena } x \neq 1 \text{ maka } 1 + x + x^2 + \dots + x^n = \frac{x^{n+1} - 1}{x - 1} = 40$$

$$\text{Untuk } x = 3 \text{ maka } 3^{n+1} - 1 = 80$$

Nilai  $n$  yang memenuhi adalah  $n = 3$ .

- Jika  $x = 13$

$$\text{Karena } x \neq 1 \text{ maka } 1 + x + x^2 + \dots + x^n = \frac{x^{n+1} - 1}{x - 1} = 40$$

$$\text{Untuk } x = 13 \text{ maka } 13^{n+1} - 1 = 480$$

$$13^{n+1} = 481 = 13 \cdot 37$$

Karena 37 tidak habis dibagi 13 maka tidak ada  $n$  asli yang memenuhi.

- Jika  $x = 39$

$$\text{Karena } x \neq 1 \text{ maka } 1 + x + x^2 + \dots + x^n = \frac{x^{n+1} - 1}{x - 1} = 40$$

$$\text{Untuk } x = 39 \text{ maka } 39^{n+1} - 1 = 1520$$

$$39^{n+1} = 1521 = 39^2$$

Nilai  $n$  yang memenuhi adalah  $n = 1$ .

$\therefore$  Semua pasangan bilangan asli  $(x, n)$  yang memenuhi adalah  $(1, 39), (3, 3), (39, 1)$

2. Karena  $P(x) = 0$  mempunyai 2008 solusi real maka berlaku

$$P(x) = (x - x_1)(x - x_2)(x - x_3) \dots (x - x_{2008}) \text{ dengan } x_i \text{ semua real untuk } i = 1, 2, \dots, 2008.$$

Karena  $P(2008) \leq 1$  maka tidak mungkin semua  $x_i < 2007$ .

$$P(Q(x)) = P(x^2 + 2x + 2008)$$

$$P(Q(x)) = (x^2 + 2x + 2008 - x_1)(x^2 + 2x + 2008 - x_2) \dots (x^2 + 2x + 2008 - x_{2008}) = 0$$

Diskriminan  $x^2 + 2x + 2008 - x_i$  adalah Diskriminan  $= 4 - 4(2008 - x_i)$

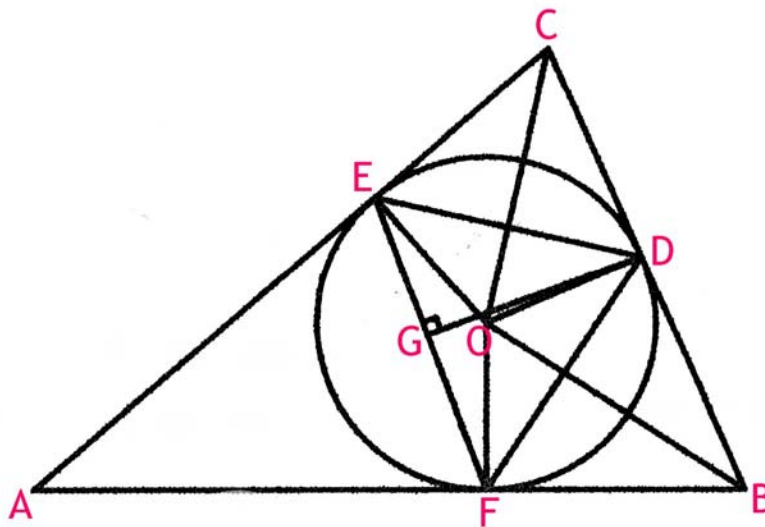
Diskriminan  $= 4(x_i - 2007)$  untuk  $i = 1, 2, \dots, 2008$ .

Karena tidak semua  $x_i < 2007$  maka akan terdapat  $x_k$  sehingga Diskriminan  $= 4(x_i - 2007) \geq 0$ .

Karena diskriminan  $\geq 0$  maka terbukti ada sedikitnya 2 bilangan  $x$  real yang memenuhi  $P(Q(x)) = 0$

$\therefore$  Terbukti bahwa persamaan  $P(Q(x)) = 0$  mempunyai solusi real.

3. Misalkan O adalah pusat lingkaran dalam segitiga ABC. Maka garis bagi dari B dan C akan melalui titik O.



Karena CO dan BO adalah garis bagi maka  $\angle ECO = \angle DCO$  dan  $\angle DBO = \angle FBO$

Misalkan  $\angle ECO = \angle DCO = \gamma$  ..... (1) dan  $\angle DBO = \angle FBO = \beta$  ..... (2)

Jelas bahwa  $\angle CEO = \angle CDO = 90^\circ$  sehingga  $\angle EOD = 180^\circ - 2\gamma$  ..... (3)

Jelas juga bahwa  $\angle BDO = \angle BFO = 90^\circ$  sehingga  $\angle DOF = 180^\circ - 2\beta$  ..... (4)

Maka  $\angle EOF = 360^\circ - \angle EOD - \angle DOF = 2(\gamma + \beta)$  ..... (5)

Segitiga EOF adalah segitiga sama kaki sehingga  $\angle OEF = \angle OFE = 90^\circ - (\gamma + \beta)$  ..... (6)

Lingkaran dalam menyinggung segitiga ABC di D, E dan F sehingga  $CE = CD$  dan  $BD = BF$ .

Karena  $CE = CD$  dan  $OE = OD$  maka segiempat CEOD adalah layang-layang. Jadi,  $CO \perp ED$ .

$ED = 2 CE \sin \gamma$  ..... (7)

$\angle CED = 90^\circ - \gamma$  sehingga  $\angle OED = \gamma$

$\angle GED = \angle OEF + \angle OED = (90^\circ - (\gamma + \beta)) + \gamma = 90^\circ - \beta$  ..... (8)

$EG = ED \cos \angle GED = (2 CE \sin \gamma)(\cos (90^\circ - \beta))$

$\frac{EG}{CE} = 2 \sin \gamma \sin \beta$  ..... (9)

Karena  $BD = BF$  dan  $OD = OF$  maka segiempat BDOF adalah layang-layang. Jadi,  $BO \perp DF$ .

$DF = 2 BF \sin \beta$  ..... (10)

$\angle BFD = 90^\circ - \beta$  sehingga  $\angle OFD = \beta$

$\angle GFD = \angle OFE + \angle OFD = (90^\circ - (\gamma + \beta)) + \beta = 90^\circ - \gamma$  ..... (11)

$FG = DF \cos \angle GFD = (2 BF \sin \beta)(\cos (90^\circ - \gamma))$

$\frac{FG}{BF} = 2 \sin \gamma \sin \beta$  ..... (12)

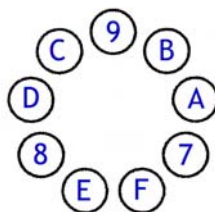
Dari persamaan (9) dan (12) dapat disimpulkan bahwa  $\frac{FG}{BF} = \frac{EG}{CE}$  sehingga  $\frac{FG}{EG} = \frac{BF}{CE}$ .

$\therefore$  Terbukti bahwa  $\frac{FG}{EG} = \frac{BF}{CE}$

## 4. Alternatif 1 :

Andaikan bahwa tidak ada tiga bilangan berdekatan yang jumlahnya lebih besar dari 15.

Jika terdapat tiga bilangan dengan dua diantaranya adalah 7, 8 atau 9 maka ketiga bilangan tersebut akan memiliki jumlah lebih dari 15. Maka haruslah terdapat dua bilangan di antara 7, 8 dan 9. Kemungkinan susunan hanya ada 1, yaitu :



Rata-rata enam bilangan 1, 2, 3, 4, 5 dan 6 adalah 3,5.

Maka maks  $(A + B, C + D, E + F) \geq 7$ .

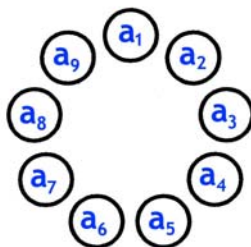
- Jika maks  $(A + B, C + D, E + F) = 7$  maka  $A + B = C + D = E + F = 7$   
Maka 9 jika dipasangkan dengan salah satu dari pasangan  $(A, B)$ ,  $(C, D)$  atau  $(E, F)$  akan membentuk tiga bilangan yang jumlahnya lebih dari 15. Kontradiksi dengan anggapan semula.
- Jika maks  $(A + B, C + D, E + F) > 7$  maka maks  $(A + B, C + D, E + F) \geq 8$   
Pasangan bilangan yang memiliki nilai maks tersebut pasti akan berdekatan dengan 8 atau 9 yang penjumlahan ketiga bilangan tersebut akan bernilai lebih besar dari 15. Kontradiksi dengan anggapan semula.

$\therefore$  Terbukti bahwa ada tiga bilangan berdekatan yang jumlahnya lebih besar dari 15.

## Alternatif 2 :

Misalkan  $a_i \in \{1, 2, 3, \dots, 9\}$  untuk  $i = 1, 2, \dots, 9$ .

Ke-9 bilangan  $a_i$ ,  $i = 1, 2, \dots, 9$  disusun sebagai berikut.



Misalkan

$$S_1 = a_1 + a_2 + a_3$$

$$S_2 = a_2 + a_3 + a_4$$

$\vdots$

$$S_9 = a_9 + a_1 + a_2$$

Dengan demikian

$$S_1 + S_2 + \dots + S_9 = 3(a_1 + a_2 + \dots + a_9) = 3 \cdot 45 = 135$$

Karena  $a_1 \neq a_4$  maka  $S_1 \neq S_2$ .

Andaikan tidak ada 3 bilangan berdekatan yang jumlahnya lebih besar dari 15, yaitu  $S_i \leq 15$  untuk semua  $i = 1, 2, \dots, 9$ .

Karena  $S_1 \neq S_2$  maka  $S_1$  atau  $S_2$  kurang dari 15. Akibatnya

$$S_1 + S_2 + \dots + S_9 < 9 \times 15 = 135. \text{ Kontradiksi.}$$

$\therefore$  Terbukti bahwa ada tiga bilangan berdekatan yang jumlahnya lebih besar dari 15.

5. Sebuah bilangan akan habis dibagi 3 apabila penjumlahan angka-angkanya habis dibagi 3. Ada 4 angka/digit yang habis dibagi 3 dan masing-masing ada 3 angka/digit yang bersisa 1 atau 2 jika dibagi 3. Misalkan bilangan palindrom tersebut adalah  $abcba$ . Penjumlahan angka =  $2(a + b) + c$ . Karena angka pertama tidak boleh 0 maka banyaknya cara memilih digit  $a \equiv 0 \pmod{3}$  hanya ada 3 kemungkinan.
- Jika  $c \equiv 0 \pmod{3}$   
Maka  $2(a + b) \equiv 0 \pmod{3}$  sehingga  $a + b \equiv 0 \pmod{3}$   
Tiga kemungkinan pasangan  $(a, b)$  adalah  $a \equiv 0 \pmod{3}$  dan  $b \equiv 0 \pmod{3}$ ,  $a \equiv 1 \pmod{3}$  dan  $b \equiv 2 \pmod{3}$  atau  $a \equiv 2 \pmod{3}$  dan  $b \equiv 1 \pmod{3}$   
Banyaknya cara memilih digit  $c$  adalah 4.  
Maka banyaknya cara memilih bilangan palindrom jika  $c \equiv 0 \pmod{3} = 4 \cdot (3 \cdot 4 + 3 \cdot 3 + 3 \cdot 3)$   
Maka banyaknya cara memilih bilangan palindrom jika  $c \equiv 0 \pmod{3} = 120$ .
  - Jika  $c \equiv 1 \pmod{3}$   
Maka  $2(a + b) \equiv 2 \pmod{3}$  sehingga  $a + b \equiv 1 \pmod{3}$   
Tiga kemungkinan pasangan  $(a, b)$  adalah  $a \equiv 0 \pmod{3}$  dan  $b \equiv 1 \pmod{3}$ ,  $a \equiv 1 \pmod{3}$  dan  $b \equiv 0 \pmod{3}$  atau  $a \equiv 2 \pmod{3}$  dan  $b \equiv 2 \pmod{3}$   
Banyaknya cara memilih digit  $c$  adalah 3.  
Maka banyaknya cara memilih bilangan palindrom jika  $c \equiv 1 \pmod{3} = 3 \cdot (3 \cdot 3 + 3 \cdot 4 + 3 \cdot 3)$   
Maka banyaknya cara memilih bilangan palindrom jika  $c \equiv 1 \pmod{3} = 90$ .
  - Jika  $c \equiv 2 \pmod{3}$   
Maka  $2(a + b) \equiv 1 \pmod{3}$  sehingga  $a + b \equiv 2 \pmod{3}$   
Tiga kemungkinan pasangan  $(a, b)$  adalah  $a \equiv 0 \pmod{3}$  dan  $b \equiv 2 \pmod{3}$ ,  $a \equiv 1 \pmod{3}$  dan  $b \equiv 1 \pmod{3}$  atau  $a \equiv 2 \pmod{3}$  dan  $b \equiv 0 \pmod{3}$   
Banyaknya cara memilih digit  $c$  adalah 3.  
Maka banyaknya cara memilih bilangan palindrom jika  $c \equiv 2 \pmod{3} = 3 \cdot (3 \cdot 3 + 3 \cdot 3 + 3 \cdot 4)$   
Maka banyaknya cara memilih bilangan palindrom jika  $c \equiv 2 \pmod{3} = 90$ .
- Banyaknya bilangan palindrom yang memenuhi adalah  $120 + 90 + 90 = 300$ .  
 $\therefore$  Banyaknya bilangan palindrom 5-angka yang habis dibagi 3 adalah 300.





**SELEKSI TIM OLIMPIADE MATEMATIKA INDONESIA 2009**  
**OLIMPIADE SAINS NASIONAL 2008**  
**MAKASSAR (SULAWESI SELATAN), 8 - 14 AGUSTUS 2008**

**Bidang Matematika**

**Hari Pertama**

**Waktu : 4 Jam**



**DEPARTEMEN PENDIDIKAN NASIONAL**  
**DIREKTORAT JENDERAL MANAJEMEN PENDIDIKAN DASAR DAN MENENGAH**  
**DIREKTORAT PEMBINAAN SEKOLAH MENENGAH ATAS**  
**TAHUN 2008**



OLIMPIADE SAINS NASIONAL 2008  
8 - 14 AGUSTUS 2008  
MAKASSAR, SULAWESI SELATAN

**BIDANG : MATEMATIKA**

**HARI PERTAMA**

**WAKTU : 4 JAM**

1. Diberikan segitiga ABC. Titik-titik D, E, dan F di luar segitiga ABC sedemikian sehingga segitiga ABD, segitiga BCE, dan segitiga CAF adalah segitiga sama sisi. Buktikan bahwa ketiga lingkaran luar segitiga tersebut berpotongan di satu titik.

2. Buktikan bahwa untuk  $x$  dan  $y$  bilangan real positif, berlaku

$$\frac{1}{(1+\sqrt{x})^2} + \frac{1}{(1+\sqrt{y})^2} \geq \frac{2}{x+y+2}$$

3. Carilah semua bilangan asli yang dapat dinyatakan dalam bentuk

$$\frac{a+b}{c} + \frac{b+c}{a} + \frac{c+a}{b}$$

untuk suatu  $a$ ,  $b$ , dan  $c$  bilangan asli dengan

$$\text{FPB}(a, b) = \text{FPB}(b, c) = \text{FPB}(c, a) = 1$$

4. Misalkan  $A = \{1, 2, \dots, 2008\}$

(a) Tentukan cacah subhimpunan dari  $A$  yang hasil kali semua anggotanya habis dibagi 7.

(b) Misalkan  $N(i)$  menyatakan cacah subhimpunan dari  $A$  yang jumlah semua anggotanya bersisa 1 jika dibagi 7. Buktikan bahwa

$$\sum_{i=0}^7 (-1)^i N(i) = 0$$



**SELEKSI TIM OLIMPIADE MATEMATIKA INDONESIA 2009**  
**OLIMPIADE SAINS NASIONAL 2008**  
**MAKASSAR (SULAWESI SELATAN), 8 - 14 AGUSTUS 2008**

**Bidang Matematika**

**Hari Kedua**

**Waktu : 4 Jam**



**DEPARTEMEN PENDIDIKAN NASIONAL**  
**DIREKTORAT JENDERAL MANAJEMEN PENDIDIKAN DASAR DAN MENENGAH**  
**DIREKTORAT PEMBINAAN SEKOLAH MENENGAH ATAS**  
**TAHUN 2008**



OLIMPIADE SAINS NASIONAL 2008  
8 - 14 AGUSTUS 2008  
MAKASSAR, SULAWESI SELATAN

**BIDANG : MATEMATIKA**

**HARI KEDUA**

**WAKTU : 4 JAM**

5. Misalkan  $m, n > 1$  bilangan-bilangan bulat sedemikian hingga  $n$  membagi  $4^m - 1$  dan  $2^m$  membagi  $n - 1$ . Haruskah  $n = 2^m + 1$ ? Jelaskan.
6. Ada 21 orang berhubungan secara rahasia dengan menggunakan frekuensi gelombang radio yang berbeda. Ada pasangan dua orang yang dapat berhubungan, mungkin ada yang tidak dapat. Setiap pasang yang berhubungan hanya menggunakan satu frekuensi tertentu yang berbeda dengan frekuensi yang digunakan pasangan lain. Setiap tiga orang selalu ada dua orang di antaranya yang tidak dapat berhubungan. Tentukan banyak maksimum frekuensi berbeda yang diperlukan dan jelaskan.
7. Diberikan segitiga ABC dengan panjang sisi-sisinya  $a, b$ , dan  $c$ . Garis-garis singgung lingkaran dalam segitiga ABC yang sejajar dengan sisi-sisi segitiga ABC membentuk tiga segitiga kecil. Pada masing-masing segitiga kecil dibuat lingkaran dalam. Buktikan bahwa jumlah luas dari lingkaran dalam segitiga ABC dan ketiga lingkaran dalam segitiga kecil adalah

$$\frac{\pi(a^2 + b^2 + c^2)(b + c - a)(c + a - b)(a + b - c)}{(a + b + c)^3}$$

8. Tentukan semua fungsi  $f : \mathbb{N} \rightarrow \mathbb{N}$  yang memenuhi  
$$f(mn) + f(m + n) = f(m)f(n) + 1$$
untuk semua  $m, n \in \mathbb{N}$ .

SELEKSI TIM OLIMPIADE MATEMATIKA INDONESIA 2009  
OLIMPIADE SAINS NASIONAL 2008  
MAKASSAR (SULAWESI SELATAN), 8 - 14 AGUSTUS 2008

*Prestasi itu diraih bukan didapat !!!*

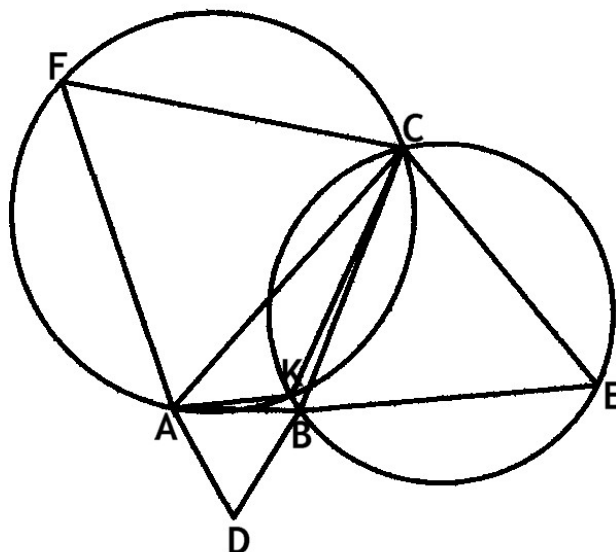
SOLUSI SOAL

Bidang Matematika



Disusun oleh : Eddy Hermanto, ST

1. Misalkan lingkaran luar  $\triangle ACF$  dan lingkaran luar  $\triangle BCE$  berpotongan di titik C dan K.



Karena terletak pada satu lingkaran, segi empat AKCF adalah segiempat tali busur.

Maka  $\angle AKC = 180^\circ - \angle AFC = 120^\circ$ .

Karena terletak pada satu lingkaran, segi empat BKCE adalah segiempat tali busur.

Maka  $\angle BKC = 180^\circ - \angle BEC = 120^\circ$ .

Jadi,  $\angle AKB = 360^\circ - \angle AKC - \angle BKC = 120^\circ$ .

Karena  $\angle AKB + \angle ADB = 120^\circ + 60^\circ = 180^\circ$  maka segiempat BKAD adalah segiempat talibusur.

Jadi ada sebuah lingkaran yang melalui titik D, B, K dan A.

Maka lingkaran luar  $\triangle ACF$ , lingkaran luar  $\triangle BCE$  dan lingkaran luar  $\triangle ABD$  melalui titik K.

$\therefore$  Terbukti bahwa ketiga lingkaran luar segitiga ACF, BCE dan ABD berpotongan di satu titik

2. **Alternatif 1 :**

Dengan AM-GM maka

$$x+1 \geq 2\sqrt{x}$$

$$y+1 \geq 2\sqrt{y}$$

$$x+y+2 = \frac{x+y+2+(x+1)+(y+1)}{2} \geq \frac{x+y+2+2\sqrt{x}+2\sqrt{y}}{2} = \frac{(1+\sqrt{x})^2 + (1+\sqrt{y})^2}{2}$$

Dengan AM-HM maka

$$x+y+2 \geq \frac{(1+\sqrt{x})^2 + (1+\sqrt{y})^2}{2} \geq \frac{2}{\frac{1}{(1+\sqrt{x})^2} + \frac{1}{(1+\sqrt{y})^2}}$$

$$\therefore \frac{1}{(1+\sqrt{x})^2} + \frac{1}{(1+\sqrt{y})^2} \geq \frac{2}{x+y+2} \text{ (terbukti)}$$

## Alternatif 2 :

Dengan ketaksamaan AM-GM didapat

$$x + 1 \geq 2\sqrt{x} \quad \dots\dots\dots (1)$$

Tanda kesamaan terjadi jika  $x = 1$

$$(1 + \sqrt{x})^2 = 1 + 2\sqrt{x} + x \leq 2(x + 1) \text{ maka}$$

$$\frac{1}{(1 + \sqrt{x})^2} \geq \frac{1}{2(x + 1)} \quad \dots\dots\dots (2)$$

Dengan cara yang sama didapat

$$\frac{1}{(1 + \sqrt{y})^2} \geq \frac{1}{2(y + 1)} \quad \dots\dots\dots (3) \text{ maka}$$

$$\frac{1}{(1 + \sqrt{x})^2} + \frac{1}{(1 + \sqrt{y})^2} \geq \frac{1}{2} \left( \frac{1}{x + 1} + \frac{1}{y + 1} \right)$$

Dengan ketaksamaan AM-HM didapat

$$\frac{1}{x + 1} + \frac{1}{y + 1} \geq \frac{4}{x + 1 + y + 1} = \frac{4}{x + y + 2} \text{ maka}$$

$$\therefore \frac{1}{(1 + \sqrt{x})^2} + \frac{1}{(1 + \sqrt{y})^2} \geq \frac{2}{x + y + 2} \text{ (terbukti)}$$

3. Tanpa mengurangi keumuman, misalkan  $a = \max(a, b, c)$

Misalkan juga  $\frac{a+b}{c} + \frac{b+c}{a} + \frac{c+a}{b} = k$  untuk suatu bilangan asli  $k$ .

$$\frac{a+b}{c} + \frac{b+c}{a} + \frac{c+a}{b} = \frac{ab(a+b) + ac(a+c) + bc(b+c)}{abc} = k \text{ untuk suatu bilangan asli } k.$$

Karena  $c \mid ac(a+c) + bc(b+c)$  maka  $c \mid ab(a+b)$

Karena FPB( $a, c$ ) = FPB( $b, c$ ) = 1 maka  $c \mid (a+b)$

Dengan cara yang sama didapat

$$b \mid (a+c)$$

$$a \mid (b+c)$$

Karena  $b \leq a$  dan  $c \leq a$  maka  $a \leq b + c \leq 2a$

- Kasus 1,  $b + c = a$

Karena  $b \mid (a+c)$  maka  $b \mid 2a - b$

Jadi  $b \mid 2a$

Karena FPB( $a, b$ ) = 1 maka  $b \mid 2$ .

Jadi,  $b = 1$  atau  $2$

Karena  $c \mid (a+b)$  maka  $c \mid 2a - c$

Jadi  $c \mid 2a$

Karena FPB( $a, c$ ) = 1 maka  $c \mid 2$ .

Jadi,  $c = 1$  atau  $2$

- Jika  $b = 1$  dan  $c = 1$  maka  $a = 2$

$$\frac{a+b}{c} + \frac{b+c}{a} + \frac{c+a}{b} = 7$$

- Jika  $b = 1$  dan  $c = 2$  atau  $b = 2$  dan  $c = 1$  maka  $a = 3$

$$\frac{a+b}{c} + \frac{b+c}{a} + \frac{c+a}{b} = 8$$

- Jika  $b = 2$  dan  $c = 2$  tidak memenuhi bahwa  $\text{FPB}(b, c) = 1$

- Kasus 2,  $b + c = 2a$

Kesamaan hanya terjadi jika  $a = b$  dan  $a = c$ .

Karena  $\text{FPB}(a, b) = \text{FPB}(a, c) = \text{FPB}(b, c) = 1$  maka  $a = b = c = 1$

$$\frac{a+b}{c} + \frac{b+c}{a} + \frac{c+a}{b} = 6$$

- ∴ Nilai dari  $\frac{a+b}{c} + \frac{b+c}{a} + \frac{c+a}{b}$  adalah 6, 7 atau 8.

4.  $A = \{1, 2, \dots, 2008\}$

- (a) Karena cacah anggota  $A$  sebanyak 2008 maka cacah subhimpunan  $A = 2^{2008}$ .

Jika suatu himpunan memiliki anggota yang merupakan kelipatan 7 maka hasil kali semua anggotanya merupakan kelipatan 7. Jadi agar hasil kali semua anggota dari suatu himpunan tidak habis dibagi 7 maka anggotanya tidak ada yang merupakan kelipatan 7.

Banyaknya anggota  $A$  yang merupakan kelipatan 7 ada 286, yaitu 7, 14, 28, ..., 2002.

Jadi cacah subhimpunan dari  $A$  yang hasil kali anggotanya habis dibagi 7 adalah  $2^{2008} - 2^{2008-286}$

∴ Cacah subhimpunan dari  $A$  yang hasil kali anggotanya habis dibagi 7 adalah  $2^{2008} - 2^{1722}$ .

- (b) Misalkan  $x_i \in A$  maka  $2009 - x_i \in A$ .

Akan dibuktikan bahwa jika ada sebanyak  $k$  bilangan yang merupakan anggota  $A$  yang memenuhi jumlah  $k$  bilangan tersebut bersisa  $i$  jika dibagi 7 maka ada sebanyak  $k$  bilangan yang juga merupakan anggota  $A$  dan memenuhi jumlah  $k$  bilangan tersebut akan bersisa  $7 - i$  jika dibagi 7.

Misalkan ada sebanyak  $k$  bilangan yang merupakan anggota  $A$  dan memenuhi

$$x_1 + x_2 + \dots + x_k = 7p + i \text{ untuk suatu bilangan asli } p.$$

$$(2009 - x_1) + x_1 + (2009 - x_2) + x_2 + \dots + (2009 - x_k) + x_k = 2009k = 7m \text{ untuk suatu } m \in \text{asli.}$$

$$(2009 - x_1) + (2009 - x_2) + \dots + (2009 - x_k) = 7n + 7 - i \text{ untuk suatu bilangan asli } n.$$

Jadi ada  $k$  bilangan  $2009 - x_i$  untuk  $i = 1, 2, \dots, k$  yang memenuhi jumlah  $k$  bilangan tersebut bersisa  $7 - i$  jika dibagi 7.

Terbukti bahwa  $N(i) = N(7 - i)$

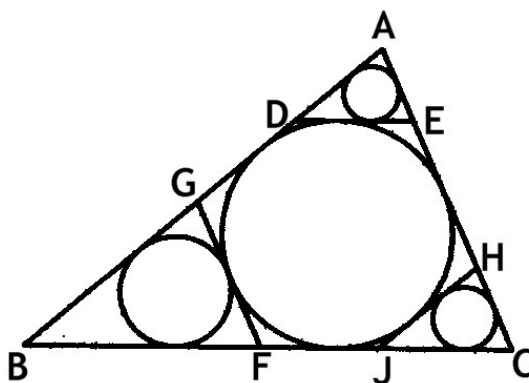
$$\sum_{i=0}^7 (-1)^i N(i) = N(0) - N(1) + N(2) - N(3) + N(4) - N(5) + N(6) - N(7) = 0$$

$$\therefore \text{Terbukti bahwa } \sum_{i=0}^7 (-1)^i N(i) = 0$$



5. Karena  $2^m \mid n - 1$  maka  $n = k \cdot 2^m + 1$  untuk suatu bilangan asli  $k$ .  
 Karena  $n \mid 4^m - 1$  maka  $n \leq 4^m - 1$   
 $k \cdot 2^m + 1 \leq 4^m - 1 < 4^m + 1$   
 Maka  $k < 2^m$  ..... (1)  
 Karena  $n \mid 4^m - 1$  maka  $n \mid (4^m - 1) \cdot k^2 = (k \cdot 2^m)^2 - k^2$ .  
 Sehingga  $n \mid (n - 1)^2 - k^2 = n^2 - 2n + 1 - k^2$ .  
 Karena  $n \mid n^2 - 2n$  maka  $n \mid k^2 - 1$ . Jadi,  $n \leq k^2 - 1$  untuk  $k \neq 1$  ..... (2)  
 $n \leq k^2 - 1 < k^2 < k \cdot 2^m < k \cdot 2^m + 1 = n$  kontradiksi untuk  $k \neq 1$ .  
 Jika  $k = 1$  maka  $n = 2^m + 1$  yang memenuhi  $2^m \mid n - 1$  dan  $n \mid 4^m - 1$ .  
 $\therefore$  Jadi, haruslah  $n = 2^m + 1$ .
6. Misalkan terdapat 3 orang di antaranya, yaitu A, B dan C dan memiliki hubungan tepat ada dua frekuensi di antara mereka dan yang berhubungan adalah AB dan AC.  
 Tentunya kita dapat membagi ketiga orang ini menjadi dua kelompok, misalkan A kelompok merah serta B dan C pada kelompok putih sehingga ketiganya hanya berhubungan jika berbeda kelompok.  
 Misalkan juga D berhubungan dengan A maka tentunya A tidak dapat berhubungan C sehingga A dapat dimasukkan ke dalam kelompok yang berbeda dengan A.  
 Misalkan juga E berhubungan dengan C maka tentunya E dapat berhubungan dengan B tetapi tidak dapat berhubungan dengan A sehingga E dapat dimasukkan ke dalam kelompok yang sama dengan A.  
 Jadi, kita dapat membagi 21 orang tersebut ke dalam dua kelompok sehingga yang dapat berhubungan hanya jika berbeda kelompok.  
 Misalkan banyaknya anggota masing-masing kelompok adalah  $k$  dan  $21 - k$ .  
 Banyaknya frekuensi yang mungkin  $= k(21 - k) = \frac{21^2}{4} - \left(k - \frac{21}{2}\right)^2$   
 Karena  $k$  bilangan asli Maka banyaknya frekuensi akan maksimal adalah jika  $k = 10$  atau  $11$ .  
 $\therefore$  Banyaknya maksimum frekuensi berbeda yang diperlukan  $= 10 \cdot 11 = 110$ .

7. Perhatikan gambar !



Karena DE sejajar BC maka  $\triangle ADE$  sebangun dengan  $\triangle ABC$ .

Misalkan jari-jari lingkaran dalam  $\triangle ABC = r$ , jari-jari lingkaran dalam  $\triangle ADE = r_1$ , jari-jari lingkaran dalam  $\triangle BFG = r_2$  dan jari-jari lingkaran dalam  $\triangle CHJ = r_3$ .  
 Misalkan juga jarak dari A ke BC =  $t_A$  dan jarak dari A ke DE =  $t_1$ .  
 Misalkan  $s = \frac{1}{2}(a + b + c)$ .

$$\text{Luas } \triangle ABC = \frac{1}{2}r(a + b + c) = \sqrt{s(s-a)(s-b)(s-c)}.$$

$$r = \frac{\sqrt{(a+b+c)(a+b-c)(a+c-b)(b+c-a)}}{2(a+b+c)}$$

$$\frac{1}{2}t_A a = \sqrt{s(s-a)(s-b)(s-c)}$$

$$t_A = \frac{\sqrt{(a+b+c)(a+b-c)(a+c-b)(b+c-a)}}{2a}$$

Karena jarak dari A ke DE =  $t_1$  maka  $t_1 = t_A - 2r$

Karena  $\triangle ADE$  sebangun dengan  $\triangle ABC$  maka perbandingan sisi juga merupakan perbandingan garis tinggi kedua segitiga.

$$\frac{AD}{c} = \frac{AE}{b} = \frac{DE}{a} = \frac{r_1}{r} = \frac{t_1}{t_A} = \frac{t_A - 2r}{t_A}$$

Dengan rumus luas  $\triangle ABC$  maka  $\frac{r}{t_A} = \frac{a}{a+b+c}$  sehingga  $\frac{r_1}{r} = 1 - \frac{2a}{a+b+c} = \frac{b+c-a}{a+b+c}$

$$r_1 = \frac{b+c-a}{a+b+c}r$$

Dengan cara yang sama didapat

$$r_2 = \frac{a+c-b}{a+b+c}r$$

$$r_3 = \frac{a+b-c}{a+b+c}r$$

Misalkan jumlah luas dari lingkaran dalam segitiga ABC dan ketiga lingkaran dalam segitiga kecil adalah L.

$$L = \pi(r^2 + r_1^2 + r_2^2 + r_3^2) = \pi \left( \frac{(a+b-c)(a+c-b)(b+c-a)}{4(a+b+c)} \right) \left( \frac{(a+b+c)^2 + (b+c-a)^2 + (a+c-b)^2 + (a+b-c)^2}{(a+b+c)^2} \right)$$

$$\text{Misalkan } P = (a+b+c)^2 + (b+c-a)^2 + (a+c-b)^2 + (a+b-c)^2$$

$$P = (a^2 + b^2 + c^2 + 2ab + 2ac + 2bc) + (a^2 + b^2 + c^2 - 2ab - 2ac + 2bc) + (a^2 + b^2 + c^2 - 2ab + 2ac - 2bc) + (a^2 + b^2 + c^2 + 2ab - 2ac - 2bc)$$

$$P = 4a^2 + 4b^2 + 4c^2$$

$$L = \pi \frac{(a+b-c)(a+c-b)(b+c-a)}{4(a+b+c)^3} (4a^2 + 4b^2 + 4c^2)$$

$$L = \frac{\pi(a^2 + b^2 + c^2)(b+c-a)(c+a-b)(a+b-c)}{(a+b+c)^3}$$

$\therefore$  Terbukti bahwa jumlah luas dari lingkaran dalam segitiga ABC dan ketiga lingkaran dalam segitiga kecil adalah  $\frac{\pi(a^2 + b^2 + c^2)(b+c-a)(c+a-b)(a+b-c)}{(a+b+c)^3}$

8. Jika  $m = n = 1$  maka  $f(1) + f(2) = f(1)f(1) + 1$  ..... (1)  
 Jika  $m = 1$  dan  $n = 2$  maka  $f(2) + f(3) = f(1)f(2) + 1$  ..... (2)  
 Jika  $m = n = 2$  maka  $2f(4) = f(2)f(2) + 1$  ..... (3)  
 Jika  $m = 1$  dan  $n = 3$  maka  $f(3) + f(4) = f(1)f(3) + 1$  ..... (4)  
 Misalkan  $f(1) = a$ ,  $f(2) = b$ ,  $f(3) = c$  dan  $f(4) = d$  serta substitusikan persamaan (2) dan (3) ke (4).

$$(ab + 1 - b) + \left( \frac{b^2 + 1}{2} \right) = a(ab + 1 - b) + 1$$

$$2ab + 2 - 2b + b^2 + 1 = 2a^2b + 2a - 2ab + 2$$

$$2a^2b - b^2 - 4ab + 2a + 2b - 1 = 0 \quad \text{..... (5)}$$

Dari persamaan (1) didapat

$$a + b = a^2 + 1 \quad \text{..... (6)}$$

$$2a^2(a^2 - a + 1) - (a^2 - a + 1)^2 - 4a(a^2 - a + 1) + 2a + 2(a^2 - a + 1) - 1 = 0$$

$$(2a^4 - 2a^3 + 2a^2) - (a^4 + a^2 + 1 - 2a^3 + 2a^2 - 2a) - (4a^3 - 4a^2 + 4a) + 2a + (2a^2 - 2a + 2) - 1 = 0$$

$$(2a^4 - 2a^3 + 2a^2) - (a^4 - 2a^3 + 3a^2 - 2a + 1) - (4a^3 - 4a^2 + 4a) + 2a + (2a^2 - 2a + 2) - 1 = 0$$

$$a^4 - 4a^3 + 5a^2 - 2a = 0$$

$$a(a - 1)^2(a - 2) = 0$$

Karena  $f : \mathbb{N} \rightarrow \mathbb{N}$  maka nilai  $f(1)$  yang mungkin memenuhi hanya 1 atau 2.

➤ Jika  $f(1) = 1$

$$\text{Untuk } n = 1 \text{ maka } f(m) + f(m + 1) = f(m)f(1) + 1$$

$$\text{Karena } f(1) = 1 \text{ maka } f(m + 1) = 1$$

Jadi,  $f(x) = 1$  untuk  $x \in \mathbb{N}$ .

Jika  $f(x) = 1$  untuk  $x \in \mathbb{N}$  maka  $f(mn) + f(m + n) = 2$  dan  $f(m)f(n) + 1 = 2$ . Memenuhi.

➤ Jika  $f(1) = 2$

$$\text{Untuk } n = 1 \text{ maka } f(m) + f(m + 1) = f(m)f(1) + 1$$

$$\text{Karena } f(1) = 2 \text{ maka } f(m + 1) = f(m) + 1$$

$$\text{Jika } m = 1 \text{ maka } f(2) = f(1) + 1$$

$$\text{Jika } m = 2 \text{ maka } f(3) = f(2) + 1$$

$$\text{Jika } m = 3 \text{ maka } f(4) = f(3) + 1$$

⋮

$$\text{Jika } m = x - 1 \text{ untuk } x \in \mathbb{N} \text{ maka } f(x) = f(x - 1) + 1$$

Jumlahkan seluruh persamaan didapat :

$$f(x) = f(1) + x - 1$$

$$\text{Karena } f(1) = 2 \text{ maka } f(x) = x + 1$$

Jadi,  $f(x) = x + 1$  untuk  $x \in \mathbb{N}$ .

Jika  $f(x) = x + 1$  untuk  $x \in \mathbb{N}$  maka  $f(mn) + f(m + n) = mn + 1 + m + n + 1 = (m + 1)(n + 1) + 1$  dan  $f(m)f(n) + 1 = (m + 1)(n + 1) + 1$ . Memenuhi.

∴ Semua fungsi  $f : \mathbb{N} \rightarrow \mathbb{N}$  yang memenuhi adalah  $f(x) = 1$  dan  $f(x) = x + 1$  untuk  $x \in \mathbb{N}$ .



**SELEKSI OLIMPIADE TINGKAT KABUPATEN/KOTA TAHUN 2009  
TIM OLIMPIADE MATEMATIKA INDONESIA TAHUN 2010**

**Bidang Matematika**

**Waktu : 2 Jam**



**DEPARTEMEN PENDIDIKAN NASIONAL  
DIREKTORAT JENDERAL MANAJEMEN PENDIDIKAN DASAR DAN MENENGAH  
DIREKTORAT PEMBINAAN SEKOLAH MENENGAH ATAS  
TAHUN 2009**

# OLIMPIADE MATEMATIKA NASIONAL SELEKSI TINGKAT KOTA/KABUPATEN TAHUN 2009

*Isikan hanya jawaban saja pada lembar jawaban yang disediakan.*

1. Banyaknya bilangan asli kurang dari 1000 yang dapat dinyatakan dalam bentuk  $x^2 - y^2$  untuk suatu bilangan ganjil  $x$  dan  $y$  adalah .....

2. Bilangan bulat positif terkecil  $n$  dengan  $n > 2009$  sehingga

$$\sqrt{\frac{1^3 + 2^3 + 3^3 + \dots + n^3}{n}}$$

merupakan bilangan bulat adalah .....

3. Banyaknya solusi real  $x$  dari persamaan

$$3^{(1/2 + \log_3(\cos x - \sin x))} + 2^{(\log_2(\cos x + \sin x))} = \sqrt{2}$$

adalah ....

4. Diberikan fungsi  $f : \mathbb{R} \rightarrow \mathbb{R}$  sedemikian hingga

$$x^2 f(x) + f(1-x) = 2x - x^4$$

untuk semua  $x \in \mathbb{R}$ . Nilai  $f(2009)$  adalah .....

5. Banyaknya segitiga siku-siku yang kelilingnya 2009 dan sisi-sisinya bilangan bulat serta jari-jari lingkaran dalamnya juga bilangan bulat adalah .....

6. Nilai eksak dari  $\binom{2009}{1} + \binom{2009}{2} + \dots + \binom{2009}{1004}$  adalah .....

7. Jika tiga pasang suami isteri akan menempati tujuh kursi yang berjajar ke samping dengan syarat semua suami isteri duduk berdekatan dan tidak ada laki-laki dan perempuan bukan suami isteri yang duduk berdekatan, maka banyak caranya adalah .....

8. Nilai dari  $\sum_{k=1}^{2009} FPB(k, 7)$  adalah .....

9. Banyaknya pasangan bilangan asli  $(x, y)$  sehingga  $x^4 + 4y^4$  merupakan bilangan prima adalah .....
10. Bilangan real  $x$  sehingga pernyataan  $x^2 = x$  jika dan hanya jika  $x^3 = x$  bernilai salah adalah .....
11. Diketahui ABC adalah segitiga siku-siku di A dengan  $AB = 30$  cm dan  $AC = 40$  cm. Misalkan AD adalah garis tinggi dari dan E adalah titik tengah AD. Nilai dari  $BE + CE$  adalah .....
12. Suatu turnamen diikuti 20 tim, dimana setiap tim bertemu satu kali dengan semua tim yang lain. Kemenangan memperoleh poin 1, sedangkan kekalahan 0. Pada klasemen akhir, 3 tim teratas memperoleh poin yang sama, sedangkan 17 tim yang lain memperoleh poin yang berbeda-beda. Jumlah semua bilangan yang tidak muncul pada poin yang dimiliki suatu tim pada klasemen akhir adalah .....
13. Titik E terletak di dalam persegi ABCD sedemikian rupa sehingga ABE adalah segitiga sama sisi. Jika panjang  $AB = \sqrt{1+\sqrt{3}}$  dan F titik potong antara diagonal BD dengan segmen garis AE, maka luas segitiga ABF sama dengan .....
14. Misalkan  $f(x) = (\sqrt{3} + 1)\sin y + (\sqrt{3} - 1)\cos y$ . Nilai maksimum untuk  $(f(y))^2$  dimana  $y$  bilangan real adalah .....
15. Diberikan persegi ABCD dengan panjang sisi 10. Misalkan E pada AB dan F pada BD dengan  $AE = FB = 5$ . Misalkan P adalah titik potong CE dan AF. Luas DFPC adalah .....
16. Jika  $x_{k+1} = x_k + \frac{1}{2}$  untuk  $k = 1, 2, \dots$  dan  $x_1 = 1$  maka  $x_1 + x_2 + \dots + x_{400} = \dots$
17. Diberikan segitiga ABC tumpul ( $\angle ABC > 90^\circ$ ), AD dan AE membagi sudut BAC sama besar. Panjang segmen garis BD, DE dan EC berturut-turut adalah 2, 3, dan 6. Panjang terpendek dari sisi segitiga ABC adalah .....
18. Jika  $10^{99999999}$  dibagi oleh 7, maka sisanya adalah .....

19. Diketahui A adalah himpunan semua bilangan asli yang habis dibagi 3, tidak habis dibagi 5, dan tidak lebih dari 100. Banyaknya fungsi  $f$  dari himpunan semua bilangan real yang tidak nol ke dalam A yang memenuhi  $f\left(\frac{x}{y}\right) = f(x - y)$  adalah .....
20. Delapan bilangan asli memiliki rata-rata 6,5. Empat dari delapan bilangan tersebut adalah 4, 5, 7, dan 8. Selisih antara bilangan terbesar dan terkecil adalah 10. Jika ke delapan bilangan diurutkan dari kecil ke besar, maka banyaknya susunan ada .....

**SELEKSI OLIMPIADE TINGKAT KABUPATEN/KOTA 2009  
TIM OLIMPIADE MATEMATIKA INDONESIA 2010**

*Prestasi itu diraih bukan didapat !!!*

**SOLUSI SOAL**

**Bidang Matematika**



Disusun oleh : Eddy Hermanto, ST



1. Misalkan  $x = 2m + 1$  dan  $y = 2n + 1$   
 $x^2 - y^2 = 4m(m + 1) - 4n(n + 1)$   
 $m(m + 1)$  dan  $n(n + 1)$  keduanya adalah bilangan genap maka  $x^2 - y^2$  merupakan kelipatan 8.  
 Selain itu,  $8k = (2k + 1)^2 - (2k - 1)^2$  sehingga setiap bilangan kelipatan 8 dapat diubah menjadi selisih kuadrat dua bilangan ganjil.  
 Maka banyaknya bilangan asli kurang dari 1000 yang dapat dinyatakan dalam bentuk  $x^2 - y^2$  dengan  $x$  dan  $y$  adalah bilangan ganjil adalah  $\frac{1000}{8} - 1 = 124$ . Tanda  $-1$  sebab 1000 tidak termasuk ke dalam bagian ini.  
 $\therefore$  Maka banyaknya bilangan asli kurang dari 1000 yang dapat dinyatakan dalam bentuk  $x^2 - y^2$  dengan  $x$  dan  $y$  adalah bilangan ganjil adalah 124.

$$2. \sqrt{\frac{1^3 + 2^3 + 3^3 + \dots + n^3}{n}} = \sqrt{\frac{\left(\frac{n(n+1)}{2}\right)^2}{n}} = \sqrt{n\left(\frac{n+1}{2}\right)^2}$$

Agar  $\sqrt{n\left(\frac{n+1}{2}\right)^2}$  merupakan bilangan kuadrat maka haruslah  $n$  merupakan bilangan kuadrat sempurna.

Bilangan kuadrat terdekat setelah 2009 adalah  $45^2 = 2025$ .

$\therefore$  Nilai  $n > 2009$  yang memenuhi  $\sqrt{\frac{1^3 + 2^3 + 3^3 + \dots + n^3}{n}}$  merupakan bilangan kuadrat adalah 2025.

$$3. 3^{(\log_3 \sqrt{3}(\cos x - \sin x))} + 2^{(\log_2 (\cos x + \sin x))} = \sqrt{2}$$

$$\sqrt{3}(\cos x - \sin x) + (\cos x + \sin x) = \sqrt{2}$$

$$(\sqrt{3} + 1)\cos x - (\sqrt{3} - 1)\sin x = \sqrt{2}$$

$$\left(\frac{\sqrt{6}}{4} + \frac{\sqrt{2}}{4}\right)\cos x - \left(\frac{\sqrt{6}}{4} - \frac{\sqrt{2}}{4}\right)\sin x = \frac{1}{2}$$

$$\sin 105^\circ = \frac{\sqrt{6}}{4} + \frac{\sqrt{2}}{4} \text{ sedangkan } \cos 105^\circ = -\frac{\sqrt{6}}{4} + \frac{\sqrt{2}}{4}$$

$$\sin 105^\circ \cos x + \cos 105^\circ \sin x = \sin 30^\circ$$

$$\sin (105^\circ + x) = \sin 30^\circ$$

$$105^\circ + x = 30^\circ + k \cdot 360^\circ \text{ atau } 105^\circ + x = 180^\circ - 30^\circ + k \cdot 360^\circ$$

$$x = 285^\circ + n \cdot 360^\circ \text{ atau } x = 45^\circ + k \cdot 360^\circ$$

Untuk  $x = 45^\circ + n \cdot 360^\circ$  akan menyebabkan  $\cos x - \sin x = 0$  sehingga tidak memenuhi persyaratan bahwa  $\cos x - \sin x > 0$ . Maka :

Tetapi saat  $x = 285^\circ + n \cdot 360^\circ$  maka akan menyebabkan  $\cos x > \sin x$  yang menyebabkan terpenuhinya syarat  $\cos x - \sin x > 0$ .

Karena ada tak berhingga nilai  $n$  yang mungkin maka banyaknya solusi real  $x$  yang memenuhi adalah tak berhingga.

$\therefore$  Jadi, banyaknya solusi real  $x$  yang memenuhi adalah tak berhingga.

4.  $x^2f(x) + f(1-x) = 2x - x^4$   
 $k^2f(k) + f(1-k) = 2k - k^4 \dots\dots\dots (1)$   
 $(1-k)^2f(1-k) + f(k) = 2(1-k) - (1-k)^4 \dots\dots\dots (2)$   
 Kalikan persamaan (1) dengan  $(1-k)^2$  lalu kurangkan dengan persamaan (2) didapat  
 $(k^2(k-1)^2 - 1)f(k) = 2k(k-1)^2 - k^4(k-1)^2 - 2(1-k) + (k-1)^4$   
 $(k^2(k-1)^2 - 1)f(k) = 2k^3 - 4k^2 + 2k - k^4(k-1)^2 - 2 + 2k + k^2(k-1)^2 - 2k(k-1)^2 + (k-1)^2$   
 $(k^2(k-1)^2 - 1)f(k) = 2k^3 - 4k^2 + 4k - k^4(k-1)^2 - 2 + k^2(k-1)^2 - 2k(k-1)^2 + (k-1)^2$   
 $(k^2(k-1)^2 - 1)f(k) = 2k^3 - 4k^2 + 4k - k^4(k-1)^2 - 2 + k^2(k-1)^2 - 2k^3 + 4k^2 - 2k + k^2 - 2k + 1$   
 $(k^2(k-1)^2 - 1)f(k) = k^2 - 1 - k^4(k-1)^2 - 1 + k^2(k-1)^2$   
 $(k^2(k-1)^2 - 1)f(k) = (k^2(k-1)^2 - 1)(1 - k^2)$   
 $f(k) = 1 - k^2$   
 $\therefore f(2009) = 1 - 2009^2$ .

5. Akan dibuktikan bahwa tidak ada segitiga siku-siku dengan sisi-sisinya bilangan bulat dan memenuhi bahwa kelilingnya merupakan bilangan ganjil.

**Alternatif 1 :**

Misalkan sisi-sisi segitiga tersebut adalah a, b dan  $2009 - a - b$

$$a^2 + b^2 = (2009 - a - b)^2$$

$$2ab - 4018a - 4018b + 2009^2 = 0$$

Karena  $2ab - 4018a - 4018b$  genap sedangkan  $2009^2$  ganjil maka tidak ada bilangan bulat a dan b yang memenuhi  $2ab - 4018a - 4018b + 2009^2 = 0$ . Jadi tidak ada segitiga yang demikian.

**Alternatif 2 :**

Misalkan sisi-sisi siku-sikunya adalah a dan b sedangkan hipotenusa c.

Karena 2009 ganjil maka sisi-sisi segitiga tersebut haruslah ketiga-tiganya ganjil atau tepat satu yang ganjil.

- Jika ketiga-tiganya ganjil

Karena  $a^2 + b^2 \equiv 2 \pmod{4}$  maka tidak mungkin ada hipotenusa yang memenuhi.

- Jika tepat satu yang ganjil

Jika yang ganjil tersebut merupakan hipotenusa maka  $a^2 + b^2 \equiv 0 \pmod{4}$  sehingga hipotenusa haruslah merupakan bilangan genap. Kontradiksi.

Jika hipotenusa genap maka  $a^2 + b^2 \equiv 1 \pmod{4}$  sehingga hipotenusa haruslah merupakan bilangan ganjil. Kontradiksi.

Maka tidak ada segitiga siku-siku dengan sisi-sisinya bilangan bulat dan memenuhi bahwa kelilingnya sama dengan 2009.

$\therefore$  Jadi, banyaknya segitiga yang memenuhi adalah 0.

$$6. \binom{2009}{k} = \binom{2009}{2009-k}$$

$$\binom{2009}{0} + \binom{2009}{1} + \dots + \binom{2009}{2009} = 2^{2009}$$

$$\binom{2009}{0} + \binom{2009}{1} + \dots + \binom{2009}{1004} = \frac{2^{2009}}{2} = 2^{2008}$$

$$\binom{2009}{1} + \binom{2009}{2} + \cdots + \binom{2009}{1004} = 2^{2008} - 1$$

$$\therefore \text{Jadi, } \binom{2009}{1} + \binom{2009}{2} + \cdots + \binom{2009}{1004} = 2^{2008} - 1$$

7. Misalkan penomoran kursi urut dari kiri ke kanan. Ada tiga bentuk susunan yang mungkin.

- Susunannya berbentuk SISSI atau ISSII  
 Karena suami isteri harus berdekatan maka posisi kursi kosong haruslah kursi nomor 1, 3, 5 atau 7.  
 Banyaknya susunan masing-masing bentuk tanpa memperhitungkan kursi kosong adalah  $3!$ .  
 Jadi, banyaknya susunan yang mungkin adalah  $4 \cdot 2 \cdot 3! = 48$ .
- Susunannya berbentuk SISIIS atau ISSII  
 Karena tidak ada laki-laki dan perempuan yang bukan suami isteri yang duduk berdekatan serta suami isteri harus berdekatan maka posisi kursi kosong haruslah kursi nomor 3.  
 Banyaknya susunan yang mungkin adalah  $1 \cdot 2 \cdot 3! = 12$
- Susunannya berbentuk SIISIS atau ISSISI  
 Bentuk di atas adalah pencerminan bentuk kedua.  
 Banyaknya susunan yang mungkin adalah  $1 \cdot 2 \cdot 3! = 12$   
 Maka banyaknya susunan yang mungkin adalah  $= 48 + 12 + 12 = 72$ .  
 $\therefore$  Maka banyaknya susunan yang mungkin adalah  $= 72$ .

8. FPB ( $k, 7$ ) = 1 jika  $k$  bukan merupakan kelipatan 7 sedangkan FPB ( $k, 7$ ) = 7 jika  $k$  kelipatan 7.  
 Bilangan asli dari 1 sampai 2009 yang habis dibagi 7 banyaknya ada  $\lfloor 2009/7 \rfloor = 287$ .  
 Bilangan asli dari 1 sampai 2009 yang tidak habis dibagi 7 banyaknya ada  $2009 - 287 = 1722$

$$\sum_{k=1}^{2009} FPB(k, 7) = 287 \cdot 7 + 1722 \cdot 1 = 3731$$

$$\therefore \sum_{k=1}^{2009} FPB(k, 7) = 3731$$

9.  $x^4 + 4y^4 = (x^2 + 2y^2)^2 - (2xy)^2 = (x^2 + 2y^2 - 2xy)(x^2 + 2y^2 + 2xy)$   
 $x^4 + 4y^4 = ((x - y)^2 + y^2)(x^2 + 2y^2 + 2xy)$

Suku kedua persamaan di atas selalu lebih dari satu. Agar  $x^4 + 4y^4$  prima maka  $(x - y)^2 + y^2 = 1$  yang terpenuhi hanya jika  $x = y$  dan  $y = 1$ .

Maka pasangan  $(x, y)$  yang memenuhi hanya  $(1, 1)$

$\therefore$  Banyaknya pasangan  $(x, y)$  bilangan asli sehingga  $x^4 + 4y^4$  adalah bilangan prima ada 1.

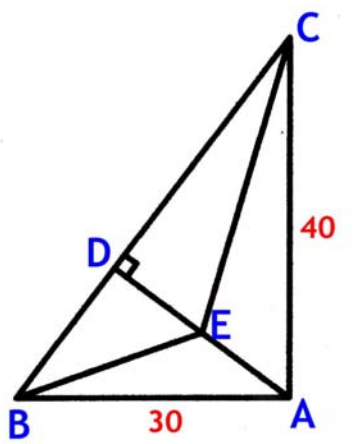
10. Agar bernilai salah maka  $x^2 = x$  benar dan  $x^3 = x$  salah atau  $x^2 = x$  salah dan  $x^3 = x$  benar.

Jika  $x^2 = x$  benar maka nilai  $x$  yang memenuhi adalah 0 atau 1. Tetapi  $x = 0$  atau  $x = 1$  akan membuat  $x^3 = x$  benar.

Jika  $x^3 = x$  benar maka nilai  $x$  yang memenuhi adalah 0 atau 1 atau  $-1$ . Tetapi  $x = 0$  atau  $x = 1$  akan membuat  $x^3 = x$  benar sedangkan  $x = -1$  akan membuat  $x^2 = x$  salah.

$\therefore$  Jadi bilangan real  $x$  yang memenuhi adalah  $x = -1$ .

11.



Jelas bahwa panjang  $BC = 50$  cm.

$$BD = 30 \cdot \frac{30}{50} = 18 \text{ cm.}$$

$$DC = 50 - 18 = 32 \text{ cm.}$$

$$AD = \frac{30 \cdot 40}{50} = 24 \text{ cm}$$

$$DE = 12 \text{ cm}$$

$$BE^2 = BD^2 + DE^2 = 18^2 + 12^2 = 6^2 \cdot 13$$

$$CE^2 = CD^2 + DE^2 = 32^2 + 12^2 = 4^2 \cdot 73$$

$$BE + CE = 4\sqrt{73} + 6\sqrt{13}$$

$\therefore$  Nilai dari  $BE + CE$  adalah  $4\sqrt{73} + 6\sqrt{13}$  cm.

12. Nilai yang mungkin bagi peserta adalah 0, 1, 2, ..., 19.

Jumlah seluruh pertandingan =  ${}_{20}C_2 = 190$ .

Karena dalam satu pertandingan hanya ada nilai 1 atau 0 maka nilai total seluruh peserta haruslah sama dengan 190.

Misalkan nilai total 17 peserta terbawah adalah M.

$$M_{\min} = 0 + 1 + 2 + 3 + \dots + 16 = 136.$$

Total nilai tiga tim teratas maksimum adalah  $190 - 136 = 54$ .

Maka tidak mungkin nilai masing-masing tiga tim teratas sama dengan 19.

Nilai terkecil masing-masing tiga tim teratas adalah 17 sebab nilai terendah tim ke-4 adalah 16.

- Jika masing-masing tiga tim teratas sama dengan 17

Nilai peringkat ke-4 haruslah 16.

Maka  $M = 136$ . Tetapi total nilai seluruh peserta =  $136 + 3 \cdot 17 = 187 \neq 190$ . Tidak memenuhi syarat total nilai seluruh peserta sama dengan 190.

- Jika masing-masing tiga tim teratas sama dengan 18

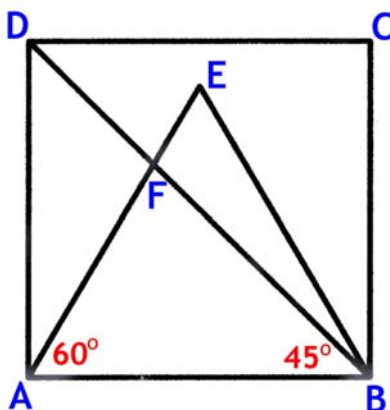
Maka  $M = 190 - 3 \cdot 18 = 136 = M_{\min}$ .

Maka nilai-nilai tim peringkat ke-4 sampai 20 adalah 16, 15, 14, 13, ..., 0.

Jadi nilai yang tidak muncul adalah 17 dan 19.

$\therefore$  Jumlah semua bilangan yang tidak muncul pada poin yang dimiliki suatu tim = 36.

13.  $\angle AFB = 180^\circ - \angle BAF - \angle FBA = 180^\circ - 60^\circ - 45^\circ = 75^\circ$ .



Dengan dalil sinus pada segitiga AFB maka :

$$\frac{\sqrt{1+\sqrt{3}}}{\sin 75^\circ} = \frac{AF}{\sin 45^\circ}$$

$$\sin 75^\circ = \frac{1}{4} \sqrt{2}(1 + \sqrt{3}). \text{ Maka}$$

$$AF = \frac{2}{\sqrt{1+\sqrt{3}}}$$

$$\text{Luas segitiga ABF} = \frac{1}{2} AB \cdot AF \sin 60^\circ$$

$$\therefore \text{Luas segitiga ABF} = \frac{\sqrt{3}}{2}.$$

14.  $f(x) = (\sqrt{3} + 1)\sin y + (\sqrt{3} - 1)\cos y$

Alternatif 1 :

$$a \sin x + b \cos x = \sqrt{a^2 + b^2} \cos(x - \alpha) \text{ dengan } \tan \alpha = \frac{a}{b}$$

$$(f(y))^2 = 8 \cos^2(y - \alpha)$$

Alternatif 2 :

$$\sin 105^\circ = \frac{\sqrt{6}}{4} + \frac{\sqrt{2}}{4} \text{ sedangkan } \cos 105^\circ = -\frac{\sqrt{6}}{4} + \frac{\sqrt{2}}{4}$$

$$f(x) = \frac{4}{\sqrt{2}} \left( \left( \frac{\sqrt{6}}{4} + \frac{\sqrt{2}}{4} \right) \sin y - \left( -\frac{\sqrt{6}}{4} + \frac{\sqrt{2}}{4} \right) \cos y \right)$$

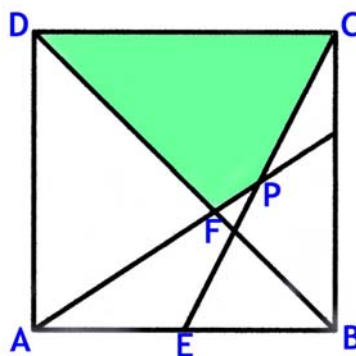
$$f(x) = \frac{4}{\sqrt{2}} (\sin 105^\circ \sin y - \cos 105^\circ \cos y) = -\frac{4}{\sqrt{2}} \cos(y - 105^\circ)$$

$$(f(y))^2 = 8 \cos^2(y - 105^\circ)$$

$\therefore$  Nilai maksimum untuk  $(f(y))^2$  adalah 8.

## Olimpiade Matematika Tk Kabupaten/Kota 2009

15. Misalkan koordinat  $A(0,0)$ ,  $B(10,0)$  maka  $C(10,10)$  dan  $D(0,10)$ .



Panjang  $BF = 5$  sedangkan  $\angle DBA = 45^\circ$  maka koordinat  $F\left(10 - \frac{5\sqrt{2}}{2}, \frac{5\sqrt{2}}{2}\right)$ .

Persamaan garis  $AF$  adalah  $y = \frac{\sqrt{2}}{4 - \sqrt{2}}x$  dan persamaan garis  $EC$  adalah  $y = 2x - 10$

$$2x_p - 10 = \frac{\sqrt{2}}{4 - \sqrt{2}}x_p \text{ sehingga } x_p = \frac{10(4 - \sqrt{2})}{8 - 3\sqrt{2}} = \frac{130 + 20\sqrt{2}}{23} \text{ dan } y_p = \frac{30 + 40\sqrt{2}}{23}$$

Misalkan  $[ABCD]$  menyatakan luas bangunan  $ABCD$ .

$$[AEP] = \frac{1}{2} \cdot 5 \cdot \left(\frac{30 + 40\sqrt{2}}{23}\right) = \frac{75 + 100\sqrt{2}}{23}$$

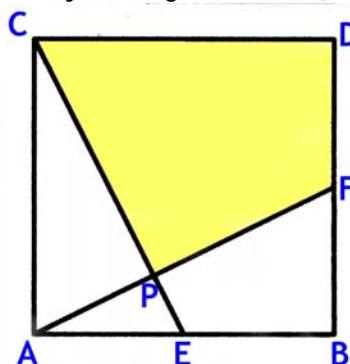
$$[AFD] = \frac{1}{2} \cdot 10 \cdot \left(\frac{20 - 5\sqrt{2}}{2}\right) = \frac{100 - 25\sqrt{2}}{2}$$

$$[EBC] = 25$$

$$[DFPC] = 100 - [AEP] - [AFD] - [EBC]$$

$$\therefore \text{Luas DFPC adalah } \frac{1000 + 375\sqrt{2}}{46}$$

Catatan : Jawaban yang dikirim dari pusat menyatakan bahwa jawaban dari soal ini adalah 55 yang didapat jika penulisan titik sudutnya sebagai berikut (buktikan).



Tetapi, penulisan titik sudut tersebut tidak sesuai dengan kesepakatan umum penulisan titik sudut.

16.  $x_{k+1} - x_k = \frac{1}{2}$

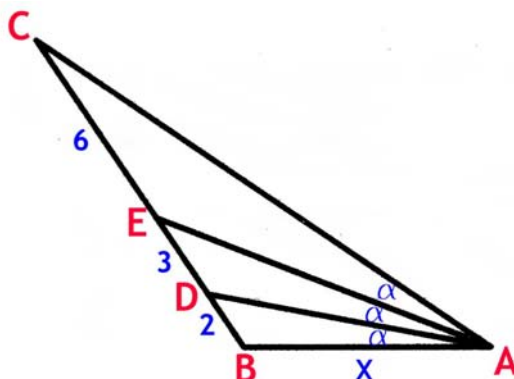
Karena selisih dua bilangan berurutan konstan maka soal tersebut merupakan deret aritmatika dengan beda sama dengan  $\frac{1}{2}$  dan suku pertama sama dengan 1.

$$x_1 + x_2 + \dots + x_{400} = \frac{400}{2} \left( 2(1) + (400-1) \left( \frac{1}{2} \right) \right)$$

$$x_1 + x_2 + \dots + x_{400} = 40300$$

$$\therefore x_1 + x_2 + \dots + x_{400} = 40300.$$

17. Perhatikan gambar.



Misalkan  $\angle CAE = \angle EAD = \angle DAB = \alpha$  dan panjang  $AB = x$ .

Pada  $\triangle EAB$ , ruas AD adalah garis bagi sehingga  $\frac{EA}{AB} = \frac{3}{2}$ . Maka  $EA = \frac{3x}{2}$ .

Misalkan juga  $AD = y$ . Dengan dalil cosinus maka

$$\frac{y^2 + x^2 - 2^2}{2xy} = \frac{\frac{9}{4}x^2 + y^2 - 3^2}{3xy} = \cos \alpha$$

$$6y^2 + 6x^2 - 24 = 9x^2 + 4y^2 - 36$$

$$2y^2 = 3x^2 - 12 \quad \dots\dots\dots (1)$$

Pada  $\triangle DAC$ , karena AE adalah garis bagi maka berlaku  $AC = 2 AD = 2y$

Sesuai dalil cosinus pada  $\triangle CAE$  maka

$$6^2 = 4y^2 + \frac{9}{4}x^2 - 2(2y) \left( \frac{3}{2}x \right) \left( \frac{y^2 + x^2 - 2^2}{2xy} \right)$$

$$144 = 16y^2 + 9x^2 - 12(y^2 + x^2 - 4)$$

$$96 = 4y^2 - 3x^2$$

Substitusikan persamaan (1)

$$96 = 6x^2 - 24 - 3x^2$$

$$x = 2\sqrt{10}$$

Karena  $\angle ABC > 90^\circ$  maka sisi terpanjang  $\triangle ABC$  adalah sisi AC.

Karena  $x = 2\sqrt{10} < 2 \cdot 4 < 2 + 3 + 6 = 11 = BC$  maka panjang sisi yang terpendek adalah  $AB = x$

$\therefore$  Panjang sisi segitiga ABC yang terpendek adalah  $2\sqrt{10}$

18.  $10^{99999999} = 1000^{33333333} = (7 \cdot 143 - 1)^{33333333}$ .  
 $10^{99999999} \equiv (-1)^{33333333} \pmod{7} \equiv -1 \pmod{7}$   
 $10^{99999999}$  dibagi 7 maka akan bersisa 6.  
 $\therefore 10^{99999999}$  dibagi 7 akan bersisa 6.

19. Banyaknya bilangan asli yang kurang dari 100 dan habis dibagi 3 ada 33.  
Banyaknya bilangan asli yang habis dibagi 3 dan habis dibagi 5 serta kurang dari 100 ada 6.  
Banyaknya anggota himpunan A adalah  $33 - 6 = 27$ .  
Fungsi  $f$  dari himpunan semua bilangan real yang tidak nol ke dalam A memenuhi  $f\left(\frac{x}{y}\right) = f(x - y)$ .

Alternatif 1 :

Ambil  $x = \frac{ab}{a-1}$  dan  $y = \frac{b}{a-1}$  untuk  $a \neq 1$  serta  $a$  dan  $b$  tak nol. Maka

$$f(a) = f(b)$$

Jadi  $f$  merupakan fungsi konstan. Karena banyaknya anggota himpunan A ada 27 maka banyaknya fungsi yang memenuhi ada 27.

$\therefore$  Banyaknya fungsi yang memenuhi adalah 27.

Alternatif 2 :

$f(x) = f(2x - x) = f\left(\frac{2x}{x}\right) = f(2)$  sehingga  $f$  merupakan fungsi konstan.

Karena banyaknya anggota himpunan A ada 27 maka banyaknya fungsi yang memenuhi ada 27.

$\therefore$  Banyaknya fungsi yang memenuhi adalah 27.

20. Karena rata-rata delapan bilangan sama dengan 6,5 maka jumlah kedelapan bilangan = 52.  
Jumlah empat bilangan yang ada adalah  $4 + 5 + 7 + 8 = 24$  sehingga jumlah keempat bilangan yang lain sama dengan 28.
- Jika bilangan yang terkecil sama dengan 1 maka bilangan terbesar sama dengan 11  
Jumlah dua bilangan terakhir = 16. Pasangan yang memenuhi adalah (5, 11), (6, 10), (7, 9) dan (8, 8) yang semuanya ada 4.
  - Jika bilangan yang terkecil sama dengan 2 maka bilangan terbesar sama dengan 12  
Jumlah dua bilangan terakhir = 14. Pasangan yang memenuhi adalah (2, 12), (3, 11), (4, 10), (5, 9), (6, 8) dan (7, 7) yang semuanya ada 6.
  - Jika bilangan yang terkecil sama dengan 3 maka bilangan terbesar sama dengan 13  
Jumlah dua bilangan terakhir = 12. Pasangan yang memenuhi adalah (3, 9), (4, 8), (5, 7) dan (6, 6) yang semuanya ada 4.
  - Jika bilangan yang terkecil sama dengan 4 maka bilangan terbesar sama dengan 14  
Jumlah dua bilangan terakhir = 10. Pasangan yang memenuhi adalah (4, 6) dan (5, 5) yang semuanya ada 2.
  - Jika bilangan yang terkecil sama dengan 4 maka bilangan terbesar sama dengan 14 dengan bilangan 4 tersebut merupakan salah satu dari 4 bilangan awal.  
Jumlah tiga bilangan lain haruslah 14 dan tidak ada salah satu di antaranya sama dengan 4.  
Karena yang terendah sama dengan 5 maka nilai minimal sama dengan 15. Tidak ada yang memenuhi.
- Banyaknya susunan =  $4 + 6 + 4 + 2 + 0 = 16$ .  
 $\therefore$  Banyaknya susunan yang mungkin ada 16.





**SELEKSI OLIMPIADE TINGKAT PROVINSI 2009  
TIM OLIMPIADE MATEMATIKA INDONESIA 2010**

**Waktu : 210 Menit**



**DEPARTEMEN PENDIDIKAN NASIONAL  
DIREKTORAT JENDERAL MANAJEMEN PENDIDIKAN DASAR DAN MENENGAH  
DIREKTORAT PEMBINAAN SEKOLAH MENENGAH ATAS  
TAHUN 2009**

**SELEKSI TINGKAT PROVINSI  
CALON PESERTA OLIMPIADE SAINS NASIONAL 2009  
MATEMATIKA SMA/MA**

**Petunjuk untuk peserta :**

1. Tes terdiri dari dua bagian. Tes bagian pertama terdiri dari 20 soal isian singkat dan tes bagian kedua terdiri dari 5 soal uraian.
2. Waktu yang disediakan untuk menyelesaikan semua soal adalah 210 menit.
3. Tuliskan nama, kelas dan asal sekolah Anda di sebelah kanan atas pada setiap halaman.
4. Untuk soal bagian pertama :
  - (a) Masing-masing soal bagian pertama bernilai 1 (satu) angka.
  - (b) Beberapa pertanyaan dapat memiliki lebih dari satu jawaban yang benar. Anda diminta memberikan jawaban yang paling tepat atau persis untuk pertanyaan seperti ini. Nilai hanya akan diberikan kepada pemberi jawaban paling tepat atau paling persis.
  - (c) Tuliskan hanya jawaban dari soal yang diberikan. Tuliskan jawaban tersebut pada kotak di sebelah kanan setiap soal.
5. Untuk soal bagian kedua :
  - (a) Masing-masing soal bagian kedua bernilai 7 (tujuh) angka
  - (b) Anda diminta menyelesaikan soal yang diberikan secara lengkap. Selain jawaban akhir, Anda diminta menuliskan semua langkah dan argumentasi yang Anda gunakan untuk sampai kepada jawaban akhir tersebut.
  - (c) Jika halaman muka tidak cukup, gunakan halaman sebaliknya.
6. Jawaban hendaknya Anda tuliskan dengan menggunakan tinta, bukan pensil.
7. Selama tes, Anda tidak diperkenankan menggunakan buku, catatan dan alat bantu hitung. Anda juga tidak diperkenankan bekerja sama.
8. Mulailah bekerja hanya setelah pengawas memberi tanda dan berhentilah bekerja segera setelah pengawas memberi tanda.
9. Selamat bekerja.

**SELEKSI TINGKAT PROVINSI  
CALON PESERTA OLIMPIADE SAINS NASIONAL 2009  
MATEMATIKA SMA/MA**

**BAGIAN PERTAMA**

1. Tiga dadu berwarna hitam, merah, dan putih dilempar bersama-sama. Macam hasil lemparan sehingga jumlah ketiga mata dadu adalah 8 sebanyak .....

2. Banyaknya bilangan real  $x$  yang memenuhi persamaan  $x^4 - 2x^3 + 5x^2 - 176x + 2009 = 0$  adalah .....

3. Bilangan rasional  $a < b < c$  membentuk barisan hitung (aritmatika) dan

$$\frac{a}{b} + \frac{b}{c} + \frac{c}{a} = 3$$

Banyaknya bilangan positif  $a$  yang memenuhi adalah .....

4. Misalkan  $N$  menyatakan himpunan semua bilangan bulat positif dan

$$S = \left\{ n \in N \mid \frac{n^{2009} + 2}{n + 1} \in N \right\}$$

Banyaknya himpunan bagian dari  $S$  adalah .....

5. Diberikan segitiga  $ABC$  dengan  $\tan \angle CAB = \frac{22}{7}$ . Melalui titik sudut  $A$  ditarik garis tinggi sedemikian rupa sehingga membagi sisi  $BC$  menjadi segmen-segmen dengan panjang 3 dan 17. Luas segitiga  $ABC$  adalah .....

6. Nilai minimum dari  $f(x) = \frac{9x^2 \sin^2 x + 4}{x \sin x}$  untuk  $0 < x < \pi$  adalah .....

7. Diberikan segitiga dengan panjang dari ketiga garis tinggi segitiga itu merupakan bilangan bulat. Jika panjang kedua garis tingginya adalah 10 dan 6, maka panjang maksimum garis tinggi ketiga adalah .....

8. Suatu fungsi  $f : Z \rightarrow Q$  mempunyai sifat  $f(x+1) = \frac{1+f(x)}{1-f(x)}$  untuk setiap  $x \in Z$ . Jika  $f(2) = 2$ , maka nilai fungsi  $f(2009)$  adalah .....

9. Diketahui segitiga siku-siku  $ABC$  dengan panjang sisi-sisinya  $a$ ,  $b$ , dan  $c$  serta  $a < b < c$ . Misalkan  $r$  dan  $R$  berturut-turut menyatakan panjang jari-jari lingkaran dalam dan lingkaran luarnya. Jika  $\frac{r(a+b+c)}{R^2} = \sqrt{3}$  maka nilai dari  $\frac{r}{a+b+c}$  adalah .....

10. Jika  $\tan x + \tan y = 25$  dan  $\cot x + \cot y = 30$ , maka nilai  $\tan (x + y)$  adalah .....
11. Pada bagian kanan  $100!$  terdapat digit 0 berturut-turut sebanyak .....
12. Ada empat pasang sepatu akan diambil empat sepatu secara acak. Peluang bahwa yang terambil ada yang berpasangan adalah .....
13. Diketahui  $k$ ,  $m$ , dan  $n$  adalah tiga bilangan bulat positif yang memenuhi
- $$\frac{k}{m} + \frac{m}{4n} = \frac{1}{6}$$
- Bilangan  $m$  terkecil yang memenuhi adalah .....
14. Bilangan prima  $p$  yang memenuhi  $(2p - 1)^3 + (3p)^2 = 6^p$  ada sebanyak .....
15. Jika  $x_1, x_2, \dots, x_{2009}$  bilangan real, maka nilai terkecil dari
- $$\cos x_1 \sin x_2 + \cos x_2 \sin x_3 + \dots + \cos x_{2009} \sin x_1$$
- adalah .....
16. Misalkan  $a, b, c$  adalah akar-akar polinom  $x^3 - 8x^2 + 4x - 2$ . Jika  $f(x) = x^3 + px^2 + qx + r$  adalah polinom dengan akar-akar  $a + b - c, b + c - a, c + a - b$  maka  $f(1) = \dots$
17. Banyaknya segitiga tumpul dengan sisi bilangan asli yang memiliki sisi-sisi terpanjang 10 adalah ..  
(Catatan : dua segitiga kongruen dianggap sama)
18. Misalkan  $n$  bilangan asli terkecil yang mempunyai tepat 2009 faktor dan  $n$  merupakan kelipatan 2009. Faktor prima terkecil dari  $n$  adalah .....
19. Misalkan  $p(x) = x^2 - 6$  dan  $A = \{x \in \mathbb{R} \mid p(p(x)) = x\}$ . Nilai maksimal dari  $\{|x| : x \in A\}$  adalah .....
20. Misalkan  $q = \frac{\sqrt{5}+1}{2}$  dan  $\lfloor x \rfloor$  menyatakan bilangan bulat terbesar yang lebih kecil atau sama dengan  $x$ . Nilai  $\lfloor q \lfloor qn \rfloor \rfloor - \lfloor q^2 n \rfloor$  untuk sebarang  $n \in \mathbb{N}$  adalah .....

**SELEKSI TINGKAT PROVINSI  
CALON PESERTA OLIMPIADE SAINS NASIONAL 2009  
MATEMATIKA SMA/MA**

**BAGIAN KEDUA**

1. Seekor semut hendak melangkah ke makanan yang berada sejauh 10 langkah di depannya. Semut tersebut sedang mendapatkan hukuman, ia hanya boleh melangkah ke depan sebanyak kelipatan tiga langkah dan selebihnya harus melangkah ke belakang. Tentukan banyaknya cara melangkah agar bisa mencapai makanan, jika ia harus melangkah tidak lebih dari dua puluh langkah. (Catatan : jika semut melangkah dua kali dimana masing-masing melangkah sekali ke belakang, maka dianggap sama saja dengan dua langkah ke belakang.)
2. Diberikan  $n$  adalah bilangan asli. Misalkan  $x = 6 + 2009\sqrt{n}$ . Jika  $\frac{x^{2009} - x}{x^3 - x}$  merupakan bilangan rasional, tunjukkan bahwa  $n$  merupakan kuadrat dari suatu bilangan asli.
3. Diberikan segitiga ABC dan titik D pada sisi AC. Misalkan  $r_1$ ,  $r_2$  dan  $r$  berturut-turut menyatakan jari-jari lingkaran dalam dari segitiga-segitiga ABD, BCD, dan ABC. Buktikan bahwa  $r_1 + r_2 > r$ .
4. Diketahui  $p$  adalah bilangan prima sehingga persamaan  $7p = 8x^2 - 1$  dan  $p^2 = 2y^2 - 1$  mempunyai solusi  $x$  dan  $y$  berupa bilangan bulat. Tentukan semua nilai  $p$  yang memenuhi.
5. Diketahui himpunan  $H$  mempunyai lima anggota dari  $\{0, 1, 2, 3, \dots, 9\}$ . Buktikan ada dua himpunan bagian dari  $H$ , yang tidak kosong dan saling asing, yang jika semua anggotanya dijumlahkan hasilnya sama.

**SELEKSI OLIMPIADE TINGKAT PROVINSI 2009  
TIM OLIMPIADE MATEMATIKA INDONESIA 2010**

*Prestasi itu diraih bukan didapat !!!*

**SOLUSI SOAL**

**BAGIAN PERTAMA**



Disusun oleh : Eddy Hermanto, ST

## BAGIAN PERTAMA

1. Banyaknya macam adalah (1, 1, 6), (1, 2, 5), (1, 3, 4), (2, 2, 4), (2, 3, 3) beserta permutasi yang berturut-turut ada sebanyak 3, 6, 6, 3 dan 3.

∴ Banyaknya macam hasil lemparan =  $3 + 6 + 6 + 3 + 3 = 21$ .

2.  $x^4 - 2x^3 + 5x^2 - 176x + 2009 = 0$

$$(x^2 - x)^2 + (2x - 44)^2 + 73 = 0$$

Karena bilangan kuadrat tidak mungkin negatif maka tidak ada  $x$  real yang memenuhi.

∴ Banyaknya bilangan real  $x$  yang memenuhi adalah 0.

3.  $\frac{a}{b} + \frac{b}{c} + \frac{c}{a} = 3$

Karena  $a$ ,  $b$  dan  $c$  positif maka dengan ketaksamaan AM-GM didapat

$$\frac{a}{b} + \frac{b}{c} + \frac{c}{a} \geq 3 \cdot \sqrt[3]{\frac{a}{b} \cdot \frac{b}{c} \cdot \frac{c}{a}} = 3$$

Tanda kesamaan terjadi jika  $a = b = c$ .

Karena  $\frac{a}{b} + \frac{b}{c} + \frac{c}{a} = 3$  maka haruslah  $a = b = c$  yang kontradiksi dengan  $a < b < c$ .

∴ Banyaknya bilangan positif  $a$  yang memenuhi adalah 0.

4.  $S = \left\{ n \in N \mid \frac{n^{2009} + 2}{n + 1} \in N \right\}$

$$\frac{n^{2009} + 2}{n + 1} = \frac{n^{2009} + 1}{n + 1} + \frac{1}{n + 1} \in N$$

Karena  $n + 1 \mid n^{2009} + 1$  maka haruslah  $n + 1 \mid 1$

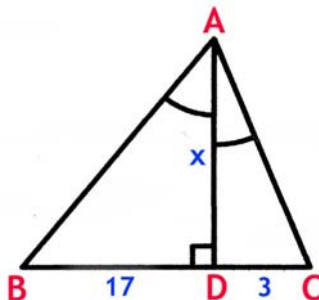
Jadi  $n + 1 \leq 1$ , tetapi  $n \in N$  sehingga tidak ada  $n \in N$  yang memenuhi.

Semua himpunan bagian dari  $S$  hanya ada satu yaitu  $\{ \}$ .

∴ Banyaknya himpunan bagian dari  $S$  adalah 1.

5. Misalkan garis tinggi dari  $A$  memotong sisi  $BC$  di  $D$  dan  $AD = x$ .

Tanpa mengurangi keumuman misalkan  $CD = 3$  dan  $DB = 17$ .



$$\tan \angle CAB = \tan(\angle CAD + \angle DAB) = \frac{\tan \angle CAD + \tan \angle DAB}{1 - \tan \angle CAD \cdot \tan \angle DAB}$$

$$\frac{22}{7} = \frac{\frac{3}{x} + \frac{17}{x}}{1 - \frac{3}{x} \cdot \frac{17}{x}} \text{ yang ekuivalen dengan}$$

$$11x^2 - 561 = 70x$$

$$(x - 11)(11x + 51) = 0$$

Karena  $x > 0$  maka  $x = AD = 11$

$$\text{Luas } \triangle ABC = \frac{1}{2} \cdot AD \cdot BC = \frac{1}{2} \cdot 11 \cdot (3 + 17)$$

$\therefore$  Luas  $\triangle ABC$  adalah 110.

$$6. \quad f(x) = \frac{9x^2 \sin^2 x + 4}{x \sin x}$$

Untuk  $0 < x < \pi$  maka  $\sin x > 0$

Dengan AM-GM didapat

$$f(x) = \frac{9x^2 \sin^2 x + 4}{x \sin x} = 9x \sin x + \frac{4}{x \sin x} \geq 2\sqrt{9x \sin x \cdot \frac{4}{x \sin x}} = 12$$

Tanda kesamaan terjadi jika  $9x \sin x = \frac{4}{x \sin x}$  atau  $x \sin x = \frac{2}{3}$

$\therefore$  Nilai minimum dari  $f(x) = \frac{9x^2 \sin^2 x + 4}{x \sin x}$  adalah 12.

7. Misalkan garis tinggi ketiga = t.

Misalkan juga 6, 10 dan t adalah garis tinggi-garis tinggi yang berturut-turut sepadan dengan sisi-sisi a, b dan c.

Dengan rumus luas segitiga ABC didapat hubungan

$$6a = 10b = tc$$

Dengan ketaksamaan segitiga didapat

$$a < b + c$$

$$1 < \frac{b}{a} + \frac{c}{a}$$

$$1 < \frac{3}{5} + \frac{6}{t}$$

$$t < 15.$$

$$\text{Jika } t = 14 \text{ maka } 6a = 10b = 14c$$

$$a : b : c = \frac{1}{6} : \frac{1}{10} : \frac{1}{14} = 35 : 21 : 15$$

Karena  $a = 35k < b + c = 36k$  untuk suatu nilai real k maka  $t = 14$  memenuhi.

$\therefore$  Panjang maksimum garis tinggi ketiga adalah 14.



8.  $f(x+1) = \frac{1+f(x)}{1-f(x)}$  dan  $f(2) = 2$

$$f(3) = \frac{1+2}{1-2} = -3$$

$$f(4) = \frac{1-3}{1+3} = -\frac{1}{2}$$

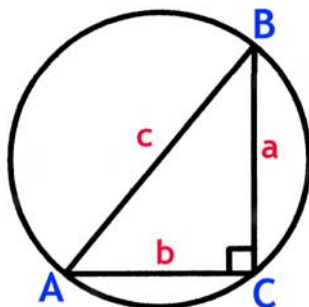
$$f(5) = \frac{1-\frac{1}{2}}{1+\frac{1}{2}} = \frac{1}{3}$$

$$f(6) = \frac{1+\frac{1}{3}}{1-\frac{1}{3}} = 2$$

Sehingga nilai  $f(n)$  untuk  $n$  bulat  $\geq 2$  akan periodik dengan kala ulang 4.  
 Karena  $2009 = 4(502) + 1$  maka nilai  $f(2009) = f(5)$

$\therefore$  Nilai fungsi  $f(2009)$  adalah  $\frac{1}{3}$ .

9.



$$\frac{r(a+b+c)}{R^2} = \sqrt{3}$$

$$\text{Luas } \triangle ABC = \frac{1}{2}r(a+b+c) = \frac{1}{2}ab = \frac{abc}{4R}$$

$$\frac{ab}{R^2} = \sqrt{3}$$

Alternatif 1 :

Dengan mensubstitusikan bahwa  $c = 2R$ ,  $a = c \sin A$  dan  $b = c \cos A$  maka

$$4 \sin A \cos A = \sqrt{3}$$

$$\sin 2A = \frac{1}{2}\sqrt{3}$$

Karena  $a < b < c$  maka  $A < B < C$ .

Jadi,  $A = 30^\circ$ ,  $B = 60^\circ$  dan  $C = 90^\circ$ .

$$\frac{r}{a+b+c} = \frac{r(a+b+c)}{(a+b+c)^2} = \frac{ab}{(a+b+c)^2} = \frac{c \sin 30^\circ \cdot c \cos 30^\circ}{(c \sin 30^\circ + c \cos 30^\circ + c)^2} = \frac{\sqrt{3}}{(1 + \sqrt{3} + 2)^2}$$

$$\therefore \frac{r}{a+b+c} = \frac{2\sqrt{3}-3}{6}$$

Alternatif 2 :

Karena  $R = 2c$  maka  $4ab = c^2 \sqrt{3}$

$$a^2 + b^2 = c^2$$

$$3a^2 + 3b^2 = 4ab\sqrt{3}$$

$$(a - b\sqrt{3})(3a - b\sqrt{3}) = 0$$

Karena  $a < b$  maka

$$b = a\sqrt{3} \text{ dan } c = 2a$$

$$r = \frac{ab}{a+b+c} = \frac{a^2 \sqrt{3}}{a + a\sqrt{3} + 2a} = \frac{a\sqrt{3}}{3 + \sqrt{3}}$$

$$\frac{r}{a+b+c} = \frac{a\sqrt{3}}{(3 + \sqrt{3})(a + a\sqrt{3} + 2a)} = \frac{\sqrt{3}}{(3 + \sqrt{3})^2}$$

$$\therefore \frac{r}{a+b+c} = \frac{2\sqrt{3}-3}{6}$$

$$10. \tan x + \tan y = 25$$

$$\cot x + \cot y = 30$$

$$\frac{1}{\tan x} + \frac{1}{\tan y} = 30$$

$$\frac{\tan x + \tan y}{\tan x \cdot \tan y} = 30$$

$$\tan x \cdot \tan y = \frac{5}{6}$$

$$\tan(x+y) = \frac{\tan x + \tan y}{1 - \tan x \cdot \tan y} = \frac{25}{1 - \frac{5}{6}}$$

$$\therefore \tan(x+y) = 150.$$

$$11. \text{ Nilai maksimal } k \text{ sehingga } 5^k \mid 100! \text{ adalah } \left\lfloor \frac{100}{5} \right\rfloor + \left\lfloor \frac{100}{5^2} \right\rfloor = 24.$$

$\therefore$  Bagian kanan 100! terdapat digit 0 berturut-turut sebanyak 24.

## 12. Alternatif 1 :

Akan ada dua kasus

- 1) Ada tepat sepasang sepatu yang berpasangan dan dua lainnya dipilih dari 3 pasang sepatu tersisa sehingga keduanya tidak berpasangan.

Sepasang sepatu dipilih dari kemungkinan 4 pasangan. Banyaknya cara memilih ada 4.

Banyaknya cara memilih dua sepatu dari tiga pasang sepatu sehingga keduanya tidak berpasangan adalah  ${}_3C_2 \cdot 2 \cdot 2 = 12$ .

Banyaknya cara memilih sehingga tepat sepasang sepatu yang berpasangan dan 2 lainnya dipilih dari 3 pasang sepatu tersisa sehingga keduanya tidak berpasangan =  $4 \cdot 12 = 48$ .

- 2) Ada tepat dua pasang sepatu berpasangan yang dipilih dari kemungkinan empat pasang sepatu.

Banyaknya cara memilih adalah  ${}_4C_2 = 6$ .

$$\therefore \text{Peluang kejadian} = \frac{48 + 6}{{}_8C_4} = \frac{27}{35}$$

## Alternatif 2 :

Komplemen dari kejadian dimaksud adalah tidak ada sepasang sepatu dari keempat sepatu tersebut yang berpasangan, sehingga masing-masing satu buah sepatu dipilih dari masing-masing empat pasang sepatu tersebut. Banyaknya cara adalah  $2 \cdot 2 \cdot 2 \cdot 2 = 16$ .

$$\text{Peluang kejadian} = 1 - \frac{16}{{}_8C_4}$$

$$\therefore \text{Peluang kejadian} = \frac{27}{35}.$$

13.  $\frac{k}{m} + \frac{m}{4n} = \frac{1}{6}$  dengan k, m dan n adalah tiga bilangan bulat positif.

$$3m^2 = 2n(m - 6k)$$

Karena ruas kiri positif maka haruslah  $m > 6k > 6$ .

Ruas kanan pasti genap sehingga m harus genap.

Karena m genap dan  $m > 6$  maka  $m \geq 8$ .

Jika  $m = 8$  maka

$$48 = 4n - 3kn$$

$$48 = n(4 - 3k)$$

$n = 48$  dan  $k = 1$  adalah salah satu pasangan  $(n, k)$  yang memenuhi.

$\therefore$  Bilangan m terkecil yang memenuhi adalah 8.

14.  $(2p - 1)^3 + (3p)^2 = 6^p$  untuk suatu bilangan prima p.

Jika  $p = 2$  maka  $3^3 + 6^2 \neq 6^2$  sehingga  $p = 2$  tidak memenuhi.

Jika  $p = 3$  maka  $5^3 + 9^2 \neq 6^3$  sehingga  $p = 3$  tidak memenuhi.

Karena  $p \neq 2, 3$  dan p prima maka p dapat dinyatakan  $p = 6k + 1$  atau  $6k + 5$  dengan k bulat taknegatif.

- Jika  $p = 6k + 1$

Persamaan semula akan ekuivalen dengan

$$(12k + 1)^3 + 9(6k + 1)^2 = 6^{6k+1}$$

$$(12k)^3 + 3(12k)^2 + 3(12k) + 1 + 9(6k + 1)^2 = 6^{6k+1}$$

Ruas kiri dibagi 9 bersisa 1 sedangkan ruas kanan habis dibagi 9.

Maka tidak ada nilai  $k$  asli yang memenuhi.

- Jika  $p = 6k + 5$

Persamaan semula akan ekuivalen dengan

$$(12k + 9)^3 + 9(6k + 5)^2 = 6^{6k-1}$$

$$3^3(4k + 3)^3 + 324k^2 - 540k + 180 = 6^{6k+5}$$

Karena  $180 \equiv 9 \pmod{27}$  maka ruas kiri dibagi 27 bersisa 9 sedangkan 27 membagi ruas kanan.

Maka tidak ada nilai  $k$  asli yang memenuhi.

Jadi, tidak ada bilangan prima  $p$  yang memenuhi.

∴ Banyaknya bilangan prima  $p$  yang memenuhi adalah 0.

15. Misalkan  $k = \cos x_1 \sin x_2 + \cos x_2 \sin x_3 + \dots + \cos x_{2009} \sin x_1$  maka

$$2k = 2 \cos x_1 \sin x_2 + 2 \cos x_2 \sin x_3 + \dots + 2 \cos x_{2009} \sin x_1$$

Mengingat bahwa  $\sin^2 \alpha + \cos^2 \alpha = 1$  maka

$$2009 + 2k = \cos^2 x_1 + 2 \cos x_1 \sin x_2 + (\sin^2 x_2 + \cos^2 x_2) + 2 \cos x_2 \sin x_3 + (\sin^2 x_3 + \cos^2 x_3) + \dots + 2 \cos x_{2009} \sin x_1 + \sin^2 x_1$$

$$2009 + 2k = (\cos^2 x_1 + 2 \cos x_1 \sin x_2 + \sin^2 x_2) + (\cos^2 x_2 + 2 \cos x_2 \sin x_3 + \sin^2 x_3) + \dots + (\cos^2 x_{2009} + 2 \cos x_{2009} \sin x_1 + \sin^2 x_1)$$

$$2009 + 2k = (\cos x_1 + \sin x_2)^2 + (\cos x_2 + \sin x_3)^2 + \dots + (\cos x_{2009} + \sin x_1)^2 + (\cos x_1 + \sin x_{2009})^2$$

Karena bilangan kuadrat tidak mungkin negatif maka

$$2009 + 2k_{\min} = 0$$

$$k_{\min} = -\frac{2009}{2}$$

Nilai minimum didapat jika  $\cos x_1 = -\sin x_2$ ,  $\cos x_2 = -\sin x_1$ ,  $\cos x_2 = -\sin x_3$ ,  $\cos x_3 = -\sin x_2$ , ...,

$\cos x_{2009} = -\sin x_1$  dan  $\cos x_{2009} = -\sin x_1$  yang dapat dipenuhi oleh  $x_1 = x_2 = \dots = x_{2009} = \frac{3\pi}{4}$  rad.

∴ Nilai minimum dari  $\cos x_1 \sin x_2 + \cos x_2 \sin x_3 + \dots + \cos x_{2009} \sin x_1$  adalah  $-\frac{2009}{2}$ .

16.  $x^3 - 8x^2 + 4x - 2 = 0$  akar-akarnya  $a$ ,  $b$  dan  $c$ .

Maka  $a + b + c = 8$ .

Substitusi  $y = 8 - 2x$  sehingga  $x = \frac{8-y}{2}$  ke persamaan  $x^3 - 8x^2 + 4x - 2 = 0$ . Maka

$$\left(\frac{8-y}{2}\right)^3 - 8\left(\frac{8-y}{2}\right)^2 + 4\left(\frac{8-y}{2}\right) - 2 = 0 \text{ memiliki akar-akar } 8 - 2a, 8 - 2b \text{ dan } 8 - 2c$$

Polinom  $f(x) = x^3 + px^2 + qx + r$  memiliki akar-akar, yaitu  $a + b - c = 8 - 2c$ ,  $a + c - b = 8 - 2b$  dan  $b + c - a = 8 - 2a$ .

Karena koefisien  $x^3$  dari  $f(x)$  sama dengan 1 maka

$$\text{Polinom } f(x) = -8\left(\frac{8-x}{2}\right)^3 + 64\left(\frac{8-x}{2}\right)^2 - 32\left(\frac{8-x}{2}\right) + 16 = 0 \text{ juga memiliki akar-akar } 8 - 2a, 8 - 2b$$

dan  $8 - 2c$ .

$$f(1) = -8\left(\frac{8-1}{2}\right)^3 + 64\left(\frac{8-1}{2}\right)^2 - 32\left(\frac{8-1}{2}\right) + 16 = 345$$

$$\therefore f(1) = 345.$$

17. Tanpa mengurangi keumuman misalkan sisi-sisi segitiga adalah  $a$ ,  $b$  dan 10 dengan  $a \leq b \leq 10$ .  
 Ketaksamaan segitiga,  $a + b > 10$   
 Karena segitiga tumpul maka  $a^2 + b^2 < 10^2$   
 Pasangan  $(a, b)$  bilangan asli yang memenuhi kedua ketaksamaan tersebut adalah  $(2, 9)$ ,  $(3, 8)$ ,  $(3, 9)$ ,  $(4, 7)$ ,  $(4, 8)$ ,  $(4, 9)$ ,  $(5, 6)$ ,  $(5, 7)$ ,  $(5, 8)$ ,  $(6, 6)$ ,  $(6, 7)$  dan  $(7, 7)$ .  
 Banyaknya pasangan  $(a, b)$  bilangan asli yang memenuhi ada 12.  
 $\therefore$  Banyaknya segitiga yang memenuhi adalah 12.
18.  $2009 = 7^2 \cdot 41$  maka  $7^2$  dan 41 haruslah merupakan faktor dari  $n$ .  
 $n_{\min} = 2^{40} \cdot 7^6 \cdot 41^6$  memenuhi banyaknya faktor positif dari  $n$  adalah  $(40 + 1)(6 + 1)(6 + 1) = 2009$   
 $\therefore$  Faktor prima terkecil dari  $n$  adalah 2.

19.  $p(x) = x^2 - 6$   
 $p(p(x)) = x$   
 $(x^2 - 6)^2 - 6 = x$   
 $x^4 - 12x^2 - x + 30 = 0$   
 $(x + 2)(x - 3)(x^2 + x - 5) = 0$   
 Nilai  $x$  yang memenuhi adalah  $-2$ ,  $3$ ,  $\frac{-1 - \sqrt{21}}{2}$ ,  $\frac{-1 + \sqrt{21}}{2}$ .  
 Karena  $\left| \frac{-1 - \sqrt{21}}{2} \right| = \frac{1 + \sqrt{21}}{2} < \frac{1 + \sqrt{25}}{2} = 3$  maka nilai terbesar  $|x|$  yang memenuhi adalah 3.  
 $\therefore$  Nilai maksimal dari  $\{|x| : x \in A\}$  adalah 3.

20. Karena  $q = \frac{\sqrt{5} + 1}{2}$  maka  
 $q^2 = q + 1$   
 $q - 1 = \frac{\sqrt{5} - 1}{2}$   
 $q^2 n = nq + n$   
 Karena  $n$  bulat maka  
 $\lfloor q^2 n \rfloor = \lfloor nq + n \rfloor = \lfloor nq \rfloor + n \dots\dots\dots (1)$   
 $\lfloor q \lfloor nq \rfloor \rfloor = \lfloor (q - 1) \lfloor nq \rfloor + \lfloor nq \rfloor \rfloor$   
 Karena  $\lfloor nq \rfloor$  bulat maka  
 $\lfloor q \lfloor nq \rfloor \rfloor = \lfloor (q - 1) \lfloor nq \rfloor + \lfloor nq \rfloor \rfloor \dots\dots\dots (2)$   
 $\lfloor (q - 1) \lfloor nq \rfloor \rfloor \geq \lfloor (q - 1)(qn - 1) \rfloor = \left\lfloor \left( \frac{\sqrt{5} - 1}{2} \right) \left( \left( \frac{\sqrt{5} + 1}{2} \right)^n - 1 \right) \right\rfloor = \left\lfloor n - \left( \frac{\sqrt{5} - 1}{2} \right) \right\rfloor = n - 1$   
 Karena  $q - 1$  tak bulat maka  
 $\lfloor (q - 1) \lfloor nq \rfloor \rfloor < (q - 1) \lfloor nq \rfloor < \left( \frac{\sqrt{5} - 1}{2} \right) \left( \left( \frac{\sqrt{5} + 1}{2} \right)^n \right) = n$

Karena  $n > \lfloor (q-1)\lfloor qn \rfloor \rfloor \geq n-1$  maka

$$\lfloor (q-1)\lfloor qn \rfloor \rfloor = n-1$$

$$\lfloor q\lfloor qn \rfloor \rfloor = \lfloor (q-1)\lfloor qn \rfloor \rfloor + \lfloor qn \rfloor$$

$$\lfloor q\lfloor qn \rfloor \rfloor = n-1 + \lfloor qn \rfloor \quad \dots\dots\dots (3)$$

Kurangkan persamaan (3) dengan persamaan (1)

$$\lfloor q\lfloor qn \rfloor \rfloor - \lfloor q^2n \rfloor = (n-1 + \lfloor qn \rfloor) - (\lfloor qn \rfloor + n)$$

$$\lfloor q\lfloor qn \rfloor \rfloor - \lfloor q^2n \rfloor = -1$$

$\therefore$  Nilai  $\lfloor q\lfloor qn \rfloor \rfloor - \lfloor q^2n \rfloor$  untuk sebarang  $n \in \mathbb{N}$  adalah  $-1$ .

SELEKSI OLIMPIADE TINGKAT PROVINSI 2009  
TIM OLIMPIADE MATEMATIKA INDONESIA 2010

*Prestasi itu diraih bukan didapat !!!*

**SOLUSI SOAL**

**BAGIAN KEDUA**



Disusun oleh : Eddy Hermanto, ST

## BAGIAN KEDUA

1. Jelas bahwa semut harus melangkah ke depan lebih dari 3 kali.

Jika semut melangkah ke depan lebih dari 5 kali maka semut tersebut harus mundur sekurang-kurangnya 8 langkah sehingga total langkah lebih dari 20. Jadi, hanya ada 2 kasus :

- Semut tersebut maju 3 x 4 langkah dan mundur 2 langkah, total langkah 14.

Banyaknya cara sama saja dengan banyaknya susunan 333311

$$\text{Banyaknya cara} = \frac{6!}{4!2!} = 15 \text{ cara.}$$

Cara lainnya sama dengan menempatkan 4 angka tiga ke 4 dari 6 tempat. Banyaknya cara =  ${}_6C_4 = 15$  cara.

- Semut tersebut maju 3 x 5 langkah dan mundur 5 langkah, total langkah 20.

Banyaknya cara sama saja dengan banyaknya susunan 333311111

$$\text{Banyaknya cara} = \frac{10!}{5!5!} = 252 \text{ cara.}$$

Cara lainnya sama dengan menempatkan 5 angka tiga ke 5 dari 10 tempat. Banyaknya cara =  ${}_{10}C_5 = 252$  cara.

∴ Banyaknya cara semut tersebut melangkah agar mencapai makanan adalah  $15 + 252 = 267$

2.  $x = 6 + 2009\sqrt{n}$

$$\frac{x^{2009} - x}{x^3 - x} = \frac{a}{b} \text{ dengan } a \text{ dan } b \text{ bilangan bulat dan } b \neq 0.$$

Karena  $(p_1 + q_1\sqrt{n})(p_2 + q_2\sqrt{n}) = (p_1p_2 + q_1q_2n) + (p_1q_2 + p_2q_1)\sqrt{n}$  yang juga berbentuk  $p_i + q_i\sqrt{n}$  untuk suatu bilangan asli  $p_i$  dan  $q_i$  dengan  $i$  adalah bilangan asli maka  $x^i$  juga akan berbentuk  $p_i + q_i\sqrt{n}$  untuk suatu bilangan asli  $i$ .

$$\text{Karena } x \neq 0 \text{ maka } \frac{x^{2009} - x}{x^3 - x} = \frac{a}{b} = \frac{x^{2008} - 1}{x^2 - 1}$$

$$\frac{p_{2008} + q_{2008}\sqrt{n} - 1}{p_2 + q_2\sqrt{n} - 1} = \frac{a}{b}$$

$$b \cdot p_{2008} - a \cdot p_2 + a - b = (a \cdot q_2 - b \cdot q_{2008})\sqrt{n}$$

Karena  $a, b, p_2, p_{2008}, q_2$  dan  $q_{2008}$  adalah bilangan bulat maka  $n$  haruslah merupakan kuadrat dari suatu bilangan rasional.

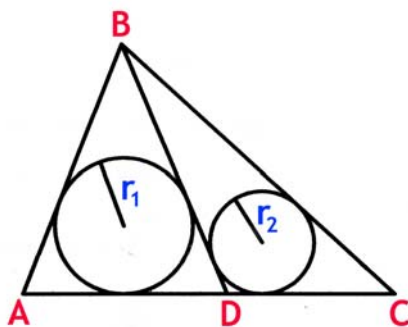
$$n = \left(\frac{k}{m}\right)^2 \text{ dengan } k, m \text{ bilangan asli dan } \text{FPB}(k, m) = 1$$

Karena  $n$  bilangan asli maka haruslah  $m = 1$  sehingga  $n$  merupakan kuadrat dari suatu bilangan asli.

∴ Terbukti bahwa  $n$  merupakan kuadrat dari suatu bilangan asli.



3.



Misalkan  $[ABC]$  menyatakan luas  $\triangle ABC$ , maka  $[ABC] = [ABD] + [BCD]$

$$\frac{1}{2}r(AB + BC + AC) = \frac{1}{2}r_1(AB + BD + AD) + \frac{1}{2}r_2(BC + BD + DC)$$

Pada  $\triangle ABD$  dan  $\triangle BCD$  berturut-turut berlaku  $BD < AD + AB$  dan  $BD < BC + DC$  sehingga

$$r(AB + BC + AC) = r_1(AB + BD + AD) + r_2(BC + BD + DC) < r_1(AB + BC + DC + AD) + r_2(BC + AD + AB + DC)$$

Karena  $AD + DC = AC$  maka

$$r(AB + BC + AC) < r_1(AB + BC + AC) + r_2(BC + AC + AB)$$

$$r < r_1 + r_2$$

$\therefore$  Terbukti bahwa  $r_1 + r_2 > r$

4.  $7p = 8x^2 - 1$  ..... (1)

$p^2 = 2y^2 - 1$  ..... (2)

Jika  $(x, y) = (x_1, y_1)$  memenuhi persamaan maka  $(-x_1, -y_1)$  pasti memenuhi sehingga tanpa mengurangi keumuman dapat dimisalkan  $x, y \geq 0$ .

$$p^2 - y^2 = y^2 - 1.$$

Karena  $y = 0$  dan  $y = 1$  tidak memenuhi persamaan maka  $y^2 > 1$  sehingga  $p > y$  ..... (3)

Jika  $p = 2$  maka  $15 = 8x^2$  yang tidak akan terpenuhi untuk  $x$  bilangan bulat.

Jika  $p = 3$  maka  $22 = 8x^2$  yang tidak akan terpenuhi untuk  $x$  bilangan bulat.

Jika  $p = 5$  maka  $36 = 8x^2$  yang tidak akan terpenuhi untuk  $x$  bilangan bulat.

Jika  $p = 7$  maka  $50 = 8x^2$  yang tidak akan terpenuhi untuk  $x$  bilangan bulat.

Jadi,  $p > 7$ .

Kurangkan persamaan (2) dengan (1) didapat

$$p(p - 7) = 2(y + 2x)(y - 2x)$$

Karena  $p > 7$  maka  $y > 2x$  sehingga  $p > y > 2x$  ..... (4)

Karena  $p \neq 2$  maka  $p \mid (y + 2x)(y - 2x)$

Karena  $p > y \geq y - 2x$  dan  $p$  bilangan prima maka  $p \mid y + 2x$

Karena  $p \leq y + 2x < p + p = 2p$  maka hanya terpenuhi jika  $p = y + 2x$

$$\text{Maka } p^2 = 2(p - 2x)^2 - 1 \text{ sehingga } p^2 - 8xp + 8x^2 - 1 = 0$$

Substitusikan persamaan (1) sehingga  $p^2 - 8xp + 7p = 0$

$$\text{Karena } p \neq 0 \text{ maka } p = 8x - 7 \text{ ..... (5)}$$

Substitusikan persamaan (5) ke persamaan (1)

$$7(8x - 7) = 8x^2 - 1$$

$$(x - 6)(x - 1) = 0$$

\* Jika  $x = 1$  dan sesuai persamaan (5) maka  $p = 1$  (tidak memenuhi bahwa  $p$  bilangan prima)

\* Jika  $x = 6$  maka  $p = 41$  dan  $y = 29$  yang memenuhi bahwa  $p$  bilangan prima dan  $y$  bulat

$\therefore$  Semua nilai  $p$  yang memenuhi adalah  $p = 41$ .

5. Misalkan  $A \subset H$  dan  $B \subset H$  yang memenuhi  $A \cap B = \{ \}$  serta  $A$  dan  $B$  keduanya bukan himpunan kosong.

$H = \{0, 1, 2, 4, 8\}$  merupakan *counter example* dari soal.

Bagaimana pun disusun  $A \subset H$  dan  $B \subset H$  serta  $A \cap B = \{ \}$  tidak akan didapat jika semua anggota  $A$  dijumlahkan hasilnya akan sama dengan jumlah semua anggota  $B$ .

$\therefore$  Tidak dapat dibuktikan ada dua himpunan bagian dari  $H$ , yang tidak kosong dan saling asing, yang jika semua anggotanya dijumlahkan hasilnya sama.



**SELEKSI TIM OLIMPIADE MATEMATIKA INDONESIA 2010**  
**OLIMPIADE SAINS NASIONAL 2009**  
**DKI JAKARTA, 3 - 9 AGUSTUS 2009**

**Bidang Matematika**

**Hari Pertama**

**Waktu : 4 Jam**



**DEPARTEMEN PENDIDIKAN NASIONAL**  
**DIREKTORAT JENDERAL MANAJEMEN PENDIDIKAN DASAR DAN MENENGAH**  
**DIREKTORAT PEMBINAAN SEKOLAH MENENGAH ATAS**  
**TAHUN 2009**



OLIMPIADE SAINS NASIONAL 2009  
3 - 9 AGUSTUS 2009  
DKI JAKARTA

**BIDANG : MATEMATIKA**

**HARI PERTAMA**

**WAKTU : 4 JAM**

1. Tentukan banyaknya bilangan  $n \in \{1, 2, 3, \dots, 2009\}$  sedemikian sehingga  $4n^6 + n^3 + 5$  habis dibagi 7.

2. Misalkan untuk setiap bilangan real  $x$  didefinisikan  $\lfloor x \rfloor$  sebagai bilangan bulat terbesar yang lebih kecil atau sama dengan  $x$ . Diberikan  $a_1, a_2, a_3, \dots$  suatu barisan bilangan asli yang memenuhi  $a_1 > 1$  dan

$$\left\lfloor \frac{a_1 + 1}{a_2} \right\rfloor = \left\lfloor \frac{a_2 + 1}{a_3} \right\rfloor = \left\lfloor \frac{a_3 + 1}{a_4} \right\rfloor = \dots$$

Buktikan bahwa

$$\left\lfloor \frac{a_n + 1}{a_{n+1}} \right\rfloor \leq 1$$

untuk setiap bilangan asli  $n$ .

3. Pada segitiga ABC, titik-titik D, E dan F berturut-turut terletak pada segmen BC, CA dan AB. Nyatakan P sebagai titik perpotongan AD dan EF. Tunjukkan bahwa

$$\frac{AB}{AF} \times DC + \frac{AC}{AE} \times DB = \frac{AD}{AP} \times BC$$

4. Di suatu pulau terdapat 7 kota dan ada jaringan kereta api yang melalui kota-kota tersebut. Setiap segmen rel menghubungkan tepat 2 kota, dan diketahui bahwa setiap kota memiliki paling sedikit 3 segmen ke kota lain. Buktikan bahwa terdapat rute perjalanan kereta api yang mengunjungi 4 kota yang berbeda masing-masing sekali dan kembali ke kota asalnya. (Contoh : rute A – B – C – D – A)



**SELEKSI TIM OLIMPIADE MATEMATIKA INDONESIA 2010**  
**OLIMPIADE SAINS NASIONAL 2009**  
**DKI JAKARTA, 3 - 9 AGUSTUS 2009**

**Bidang Matematika**

**Hari Kedua**

**Waktu : 4 Jam**



**DEPARTEMEN PENDIDIKAN NASIONAL**  
**DIREKTORAT JENDERAL MANAJEMEN PENDIDIKAN DASAR DAN MENENGAH**  
**DIREKTORAT PEMBINAAN SEKOLAH MENENGAH ATAS**  
**TAHUN 2009**



OLIMPIADE SAINS NASIONAL 2009  
3 - 9 AGUSTUS 2009  
DKI JAKARTA

**BIDANG : MATEMATIKA**

**HARI KEDUA**

**WAKTU : 4 JAM**

5. Di dalam suatu laci terdapat paling banyak 2009 bola yang terdiri dari bola putih dan biru yang tercampur secara acak. Jika dua bola diambil secara acak tanpa pengembalian, maka diketahui probabilitas bahwa terambil keduanya bola warna putih atau keduanya bola warna biru adalah  $\frac{1}{2}$ . Berapa banyak maksimum bola putih yang mungkin berada dalam laci sedemikian sehingga pernyataan tentang probabilitas tersebut tetap terpenuhi ?
6. Tentukan nilai terkecil yang mungkin dari fungsi  
$$f(x) = x^{2008} - 2x^{2007} + 3x^{2006} - 4x^{2005} + 5x^{2004} + \dots - 2006x^3 + 2007x^2 - 2008x + 2009$$
untuk sebarang bilangan real  $x$ .
7. Suatu pasangan bilangan bulat  $(m, n)$  dikatakan *baik* bila  
 $m \mid n^2 + n$  dan  $n \mid m^2 + m$   
Diberikan sebarang dua bilangan asli  $a, b > 1$  yang relatif prima, buktikan bahwa terdapat pasangan baik  $(m, n)$  dengan  $a \mid m$  dan  $b \mid n$  tetapi  $a$  tidak membagi  $n$  dan  $b$  tidak membagi  $m$ .
8. Diberikan segitiga ABC lancip. Lingkaran dalam segitiga ABC menyinggung BC, CA, dan AB berturut-turut di D, E, dan F. Garis bagi sudut A memotong DE dan DF berturut-turut di K dan L. Misalkan  $AA_1$  adalah garis tinggi dan M titik tengah BC.  
(a) Buktikan bahwa BK dan CL tegak lurus garis bagi sudut BAC  
(b) Tunjukkan bahwa  $A_1KML$  adalah segiempat talibusur

SELEKSI TIM OLIMPIADE MATEMATIKA INDONESIA 2010  
OLIMPIADE SAINS NASIONAL 2009  
DKI JAKARTA, 3 - 9 AGUSTUS 2009

*Prestasi itu diraih bukan didapat !!!*

SOLUSI SOAL

Bidang Matematika



Disusun oleh : Eddy Hermanto, ST

1.  $4n^6 + n^3 + 5$

- Jika  $n \equiv 0 \pmod{7}$  maka  $4n^6 + n^3 + 5 \equiv 4(0)^6 + (0)^3 + 5 \pmod{7} \equiv 5 \pmod{7}$
- Jika  $n \equiv 1 \pmod{7}$  maka  $4n^6 + n^3 + 5 \equiv 4(1)^6 + (1)^3 + 5 \pmod{7} \equiv 3 \pmod{7}$
- Jika  $n \equiv 2 \pmod{7}$  maka  $4n^6 + n^3 + 5 \equiv 4(2)^6 + (2)^3 + 5 \pmod{7} \equiv 3 \pmod{7}$
- Jika  $n \equiv 3 \pmod{7}$  maka  $4n^6 + n^3 + 5 \equiv 4(3)^6 + (3)^3 + 5 \pmod{7} \equiv 1 \pmod{7}$
- Jika  $n \equiv -3 \pmod{7}$  maka  $4n^6 + n^3 + 5 \equiv 4(-3)^6 + (-3)^3 + 5 \pmod{7} \equiv 3 \pmod{7}$
- Jika  $n \equiv -2 \pmod{7}$  maka  $4n^6 + n^3 + 5 \equiv 4(-2)^6 + (-2)^3 + 5 \pmod{7} \equiv 1 \pmod{7}$
- Jika  $n \equiv -1 \pmod{7}$  maka  $4n^6 + n^3 + 5 \equiv 4(-1)^6 + (-1)^3 + 5 \pmod{7} \equiv 1 \pmod{7}$

Maka tidak ada nilai  $n$  asli yang akan menyebabkan  $4n^6 + n^3 + 5$  habis dibagi 7.

$\therefore$  Banyaknya bilangan  $n$  yang memenuhi ada 0.

2. Misalkan  $\left\lfloor \frac{a_1+1}{a_2} \right\rfloor = \left\lfloor \frac{a_2+1}{a_3} \right\rfloor = \left\lfloor \frac{a_3+1}{a_4} \right\rfloor = \dots = p$  untuk suatu bilangan bulat tak negatif  $p$ .

Misalkan juga terdapat  $a_k = 1$  untuk suatu bilangan asli  $k$ . Maka berdasarkan pengertian fungsi tangga maka

$$\left\lfloor \frac{a_{k-1}+1}{a_k} \right\rfloor = a_{k-1} + 1 = p \geq 2 \text{ sebab } a_{k-1} \text{ merupakan bilangan asli.}$$

$$\left\lfloor \frac{a_k+1}{a_{k+1}} \right\rfloor = \left\lfloor \frac{2}{a_{k+1}} \right\rfloor = p \leq 2 \text{ sebab } a_{k+1} \text{ merupakan bilangan asli.}$$

Akibatnya haruslah  $a_{k-1} = a_{k+1} = a_k = 1$ . Jadi, haruslah  $a_1 = 1$ . Kontradiksi.

Jadi,  $a_n \neq 1$  untuk setiap bilangan asli  $n$ .

Berdasarkan pengertian fungsi tangga maka

$$\frac{a_{m-1}+1}{a_m} \geq p \text{ untuk suatu bilangan asli } m > 1 \text{ sehingga } \frac{a_{m-1}}{a_m} \geq p - \frac{1}{a_m}. \text{ Dengan cara yang sama}$$

didapat

$$\frac{a_{m-2}}{a_{m-1}} \geq p - \frac{1}{a_{m-1}}. \text{ Demikian seterusnya.}$$

Misalkan  $k < m$  untuk suatu bilangan asli  $k$ . Maka

$$\frac{a_k}{a_{k+1}} \cdot \frac{a_{k+1}}{a_{k+2}} \dots \frac{a_{m-1}}{a_m} = \frac{a_k}{a_m} \geq \left(p - \frac{1}{a_{k+1}}\right) \left(p - \frac{1}{a_{k+1}}\right) \dots \left(p - \frac{1}{a_m}\right).$$

Jika  $p \geq 2$  maka  $\frac{a_k}{a_m} > 1$  sehingga  $a_k > a_m$  untuk setiap bilangan asli  $k, m$  dan  $k < m$ .

Jadi, jika  $p \geq 2$  maka  $a_1, a_2, a_3, \dots$  merupakan barisan turun.

Karena  $a_1$  memiliki suatu nilai tertentu maka akan terdapat  $a_n < 1$  untuk suatu bilangan asli  $n$ .

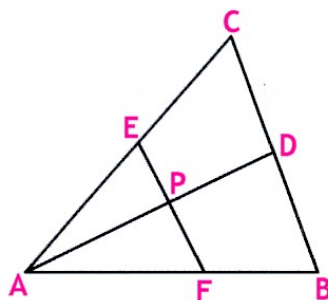
Kontradiksi karena  $a_n$  merupakan bilangan asli. Jadi, haruslah  $p \leq 1$ .

2, 3, 2, 3, 2, ... adalah contoh barisan untuk  $p = 1$  sedangkan 2, 4, 6, ... adalah contoh barisan untuk  $p = 0$ .

$$\therefore \text{ Terbukti bahwa } \left\lfloor \frac{a_n+1}{a_{n+1}} \right\rfloor \leq 1.$$



3.

**Alternatif 1 :**

Misalkan  $[XYZ]$  menyatakan luas segitiga XYZ.

$\triangle ACD$  dan  $\triangle ABC$  memiliki tinggi yang sama sehingga luas dapat dinyatakan sebagai perbandingan alas. Maka  $\frac{[ADC]}{[ABC]} = \frac{DC}{BC}$  ..... (1).

$\triangle ABD$  dan  $\triangle ABC$  juga memiliki tinggi yang sama sehingga  $\frac{[ABD]}{[ABC]} = \frac{DB}{BC}$  ..... (2).

Misalkan  $\angle DAC = \alpha$  dan  $\angle BAD = \beta$ .

$$\frac{[ADC]}{[APE]} = \frac{\frac{1}{2} \cdot AC \cdot AD \cdot \sin \alpha}{\frac{1}{2} \cdot AP \cdot AE \cdot \sin \alpha} = \frac{AC \cdot AD}{AP \cdot AE} \quad \text{..... (3)}$$

$$\frac{[ABD]}{[AFP]} = \frac{\frac{1}{2} \cdot AD \cdot AB \cdot \sin \beta}{\frac{1}{2} \cdot AP \cdot AF \cdot \sin \beta} = \frac{AD \cdot AB}{AP \cdot AF} \quad \text{..... (4)}$$

$$\frac{AB}{AF} \cdot DC + \frac{AC}{AE} \cdot DB = \frac{AB}{AF} \cdot \frac{[ADC]}{[ABC]} \cdot BC + \frac{AC}{AE} \cdot \frac{[ABD]}{[ABC]} \cdot BC = \frac{AB}{AF} \cdot \frac{AD \cdot AC}{AP \cdot AE} \cdot \frac{[APE]}{[ABC]} \cdot BC + \frac{AC}{AE} \cdot \frac{AD \cdot AB}{AP \cdot AF} \cdot \frac{[AFP]}{[ABC]} \cdot BC$$

Karena  $[AFE] = [APE] + [AFP]$  maka

$$\frac{AB}{AF} \cdot DC + \frac{AC}{AE} \cdot DB = \frac{AB}{AF} \cdot \frac{AD \cdot AC}{AP \cdot AE} \cdot \frac{[AFE]}{[ABC]} \cdot BC$$

Karena  $\frac{[AFE]}{[ABC]} = \frac{AF \cdot AE}{AB \cdot AC}$  maka

$$\frac{AB}{AF} \cdot DC + \frac{AC}{AE} \cdot DB = \frac{AD}{AP} \cdot BC$$

$$\therefore \frac{AB}{AF} \cdot DC + \frac{AC}{AE} \cdot DB = \frac{AD}{AP} \cdot BC \text{ (terbukti)}$$

**Alternatif 2 :**

Tanpa mengurangi keumuman misalkan koordinat  $A(0, 0)$ ,  $B(a, 0)$  dan  $C(b, c)$  serta absis titik D, E dan F berturut-turut d, e dan f, maka koordinat  $F(f, 0)$ .

Persamaan garis AC adalah  $y = \frac{c}{b}x$  sehingga koordinat  $E(e, \frac{ce}{b})$ .

Persamaan garis EF adalah  $\frac{y-0}{\frac{ce}{b}-0} = \frac{x-f}{e-f}$  yang setara dengan  $y = \frac{cex-cef}{be-bf}$ .

Persamaan garis BC adalah  $\frac{y-0}{c-0} = \frac{x-a}{b-a}$  yang setara dengan  $y = -c\left(\frac{x-a}{a-b}\right)$ .

Maka koordinat titik D(d,  $c\left(\frac{a-d}{a-b}\right)$ ).

Persamaan garis AD adalah  $y = \left(\frac{ac-cd}{ad-bd}\right)x$ .

Titik P adalah perpotongan antara garis EF dan AD maka

$$\frac{cex_p-cef}{be-bf} = \left(\frac{ac-cd}{ad-bd}\right)x_p$$

$$adex_p - bdex_p - adef + bdef = abex_p - bdex_p - abfx_p + bdfx_p$$

$$x_p = \frac{def(a-b)}{ade+abf-bdf-abe}$$

$$\text{Karena A, F dan B berada pada satu garis lurus maka } \frac{AB}{AF} = \frac{x_B - x_A}{x_F - x_A} = \frac{a}{f} \quad \text{..... (1)}$$

Karena A, E dan C berada pada satu garis lurus maka  $\frac{AC}{AE} = \frac{x_C - x_A}{x_E - x_A} = \frac{b}{e}$  ..... (2)

Karena C, D dan B berada pada satu garis lurus maka  $\frac{DC}{BC} = \frac{x_D - x_C}{x_B - x_C} = \frac{d-b}{a-b}$  ..... (3)

Karena C, D dan B berada pada satu garis lurus maka  $\frac{DB}{BC} = \frac{x_B - x_D}{x_B - x_C} = \frac{a-d}{a-b}$  ..... (4)

Karena A, D dan P berada pada satu garis lurus maka  $\frac{AD}{AP} = \frac{x_D - x_A}{x_P - x_A} = \frac{ade+abf-bdf-abe}{ef(a-b)}$  ..... (5)

$$\frac{AB}{AF} \cdot \frac{DC}{BC} + \frac{AC}{AE} \cdot \frac{DB}{BC} = \frac{a}{f} \cdot \frac{(d-b)}{(a-b)} + \frac{b}{e} \cdot \frac{(a-d)}{(a-b)} = \frac{ade+abf-bdf-abe}{ef(a-b)} \quad \text{..... (6)}$$

Dari persamaan (5) dan (6) didapat

$$\frac{AB}{AF} \cdot \frac{DC}{BC} + \frac{AC}{AE} \cdot \frac{DB}{BC} = \frac{AD}{AP}$$

$$\therefore \frac{AB}{AF} \cdot DC + \frac{AC}{AE} \cdot DB = \frac{AD}{AP} \cdot BC \text{ (terbukti)}$$

4. Sebuah segmen rel menghubungkan dua kota. Maka jumlah total 'kota' yang muncul dari seluruh segmen haruslah genap. Jika masing-masing kota tepat terhubung dengan tiga kota lainnya maka banyaknya kota yang muncul adalah  $3 \times 7 = 21$  yang ganjil. Maka akan ada sekurang-kurangnya 11 segmen dan ada satu kota yang terhubung dengan sekurang-kurangnya 4 kota.

Tanpa mengurangi keumuman misalkan kota yang terhubung dengan sekurang-kurangnya 4 kota tersebut adalah kota A yang terhubung dengan kota B, C, D dan E. Karena sebuah kota terhubung dengan sekurang-kurangnya 3 kota lain maka kota F dan G masing-masing terhubung dengan sedikitnya salah satu dari B, C, D dan E. Akan ada 2 kasus :

- Kota F atau G terhubung dengan sekurang-kurangnya 2 di antara B, C, D dan E misalkan B dan C, maka bukti selesai sebab akan terdapat rute A - B - F/G - C - A.
- Kota F dan G masing-masing terhubung dengan salah satu di antara B, C, D dan E. Kota F dan G terhubung dengan salah satu di antara B, C, D dan E. Selain itu kota F juga harus terhubung dengan kota A dan G serta kota G juga harus terhubung dengan A. Tanpa mengurangi keumuman misalkan kota F terhubung dengan kota B. Maka akan terdapat rute A - B - F - G - A.

$\therefore$  Terbukti bahwa terdapat rute perjalanan kereta api yang mengunjungi 4 kota yang berbeda masing-masing sekali dan kembali ke kota asalnya.

$$5. \frac{{}_x C_2 + {}_y C_2}{{}_x + {}_y C_2} = \frac{1}{2}$$

$$\frac{x(x-1)+y(y-1)}{(x+y)(x+y-1)} = \frac{1}{2}$$

$$2x^2 - 2x + 2y^2 - 2y = x^2 + y^2 - x - y + 2xy$$

$$(x-y)^2 = x+y \leq 2009$$

$$x-y \leq 44$$

$$x+y = (x-y)^2 \leq 44^2 = 1936$$

$$2x \leq 44 + 1936$$

$$x \leq 990$$

$$\text{Jika } x = 990 \text{ maka } y = 1936 - 990 = 946.$$

$$\text{Peluang} = \frac{{}_{990} C_2 + {}_{946} C_2}{{}_{1936} C_2} = \frac{990 \cdot 989 + 946 \cdot 945}{1936 \cdot 1935} = \frac{1}{2}$$

$\therefore$  Jadi, x terbesar adalah 990.

6.  $f(x) = x^{2008} - 2x^{2007} + 3x^{2006} - 4x^{2005} + 5x^{2004} + \dots - 2006x^3 + 2007x^2 - 2008x + 2009$

$$f(x) = x^{2006}(x-1)^2 + 2x^{2004}(x-1)^2 + 3x^{2002}(x-1)^2 + \dots + 1004(x-1)^2 + 1005$$

Karena bilangan kuadrat tidak mungkin negatif maka  $f(x)$  akan minimal saat  $x = 1$

$$f(x)_{\text{minimal}} = 1005$$

$\therefore$  Jadi, nilai terkecil dari  $f(x)$  adalah 1005.

7. Karena FPB( $a, b$ ) = 1 maka pasti ada pasangan bilangan bulat ( $x, y$ ) yang memenuhi  $ax + by = -1$ . Misalkan  $m = ax$  dan  $n = by$ . Jelas bahwa  $m$  dan  $n$  keduanya bilangan bulat.

$$n^2 + n = by(by + 1) = by(-ax) = -mn \text{ yang berarti habis dibagi } m.$$

$$m^2 + m = ax(ax + 1) = ax(-by) = -mn \text{ yang berarti habis dibagi } n.$$

$$\text{Jadi } m \mid n^2 + n \text{ dan } n \mid m^2 + m$$

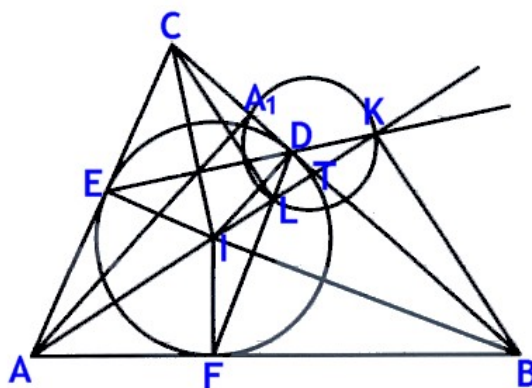
Selain itu, dari  $m = ax$  dan  $n = by$  akan didapat  $a \mid m$  dan  $b \mid n$ .

Jika  $a \mid n$  maka  $a \mid y$ . Dari  $ax + by = -1$  akan didapat bahwa  $a \mid 1$  sehingga  $a = 1$  (kontradiksi).

Jadi,  $a$  tidak membagi  $n$ . Dengan cara yang sama akan didapat bahwa  $b$  tidak membagi  $m$ .

$\therefore$  Terbukti bahwa terdapat pasangan baik ( $m, n$ ) dengan  $a \mid m$  dan  $b \mid n$  tetapi  $a$  tidak membagi  $n$  dan  $b$  tidak membagi  $m$ .

8.



a)  $\angle LIC = 180^\circ - \angle AIC = 180^\circ - (180^\circ - \frac{1}{2}A - \frac{1}{2}(180^\circ - (A + B))) = 90^\circ - \frac{1}{2}B \dots\dots\dots (1)$

Karena  $\triangle BDF$  sama kaki maka  $\angle BDF = 90^\circ - \frac{1}{2}B \dots\dots\dots (2)$

$\angle CDL = 180^\circ - \angle BDF = 180^\circ - (90^\circ - \frac{1}{2}B) = 90^\circ + \frac{1}{2}B \dots\dots\dots (3)$

Karena  $\angle LIC + \angle CDL = 180^\circ$  maka  $CDLI$  adalah segiempat talibusur.

Karena  $CI$  adalah talibusur suatu lingkaran sedangkan titik  $D$  dan  $L$  terletak pada lingkaran tersebut maka  $\angle CLI = \angle CDI = 90^\circ$ .

$\therefore$  Jadi,  $CL$  tegak lurus  $AK$  yang merupakan garis bagi sudut  $BAC$  (terbukti).

$\angle AEK = 180^\circ - \angle CEK = 180^\circ - (90^\circ - \frac{1}{2}(180^\circ - (A + B))) = 180^\circ - \frac{1}{2}(A + B)$

$\angle DKI = 180^\circ - \angle AEK - \angle CAK = 180^\circ - (180^\circ - \frac{1}{2}(A + B)) - \frac{1}{2}A = \frac{1}{2}B$

Karena  $\angle DKI = \angle DBI$  maka titik-titik  $D, K, B$  dan  $I$  adalah segiempat talibusur.

Karena  $BI$  adalah talibusur suatu lingkaran sedangkan titik  $D$  dan  $K$  terletak pada lingkaran tersebut maka  $\angle BKI = \angle BDI = 90^\circ$ .

$\therefore$  Jadi,  $BK$  tegak lurus  $AK$  yang merupakan garis bagi sudut  $BAC$  (terbukti).

- b) Misalkan garis BC dan KL berpotongan di titik T.

Karena  $\angle CLT = \angle BKT = 90^\circ$  dan  $\angle BTK = \angle CTL$  maka  $\triangle CLT$  dan  $\triangle BKT$  sebangun

$$\begin{aligned}\frac{BK}{CL} &= \frac{BT}{CT} = \frac{TK}{LT} \\ \frac{c \sin \frac{1}{2}A}{b \sin \frac{1}{2}A} &= \frac{a-CT}{CT} = \frac{TK}{AK-AL-TK} \\ \frac{c}{b} &= \frac{a-CT}{CT} = \frac{TK}{c \cos \frac{1}{2}A - b \cos \frac{1}{2}A - TK} \dots\dots\dots (3)\end{aligned}$$

Dari persamaan (3) didapat

$$\begin{aligned}c \cdot CT &= ab - b \cdot CT \\ CT &= \frac{ab}{b+c} \dots\dots\dots (4)\end{aligned}$$

Juga didapat

$$\begin{aligned}c(c-b) \cos \frac{1}{2}A - c \cdot TK &= b \cdot TK \\ TK &= \frac{c(c-b) \cos \frac{1}{2}A}{b+c} \\ LT &= \frac{b}{c} \cdot TK \dots\dots\dots (5)\end{aligned}$$

Misalkan lingkaran luar  $\triangle A_1LK$  memotong garis BC di titik N.

Karena  $\angle A_1LT = \angle KNT$  dan  $\angle A_1TL = \angle KTN$  maka  $\triangle KTN$  sebangun dengan  $\triangle A_1TL$ . Jadi,

$$\begin{aligned}A_1T \cdot TN &= LT \cdot TK \\ (CT - CA_1) \cdot TN &= \frac{b}{c} \cdot TK^2 \\ \left(\frac{ab}{b+c} - b \cos C\right) \cdot TN &= \frac{b}{c} \cdot \left(\frac{c^2(c-b)^2}{2(b+c)^2} (\cos C + 1)\right)\end{aligned}$$

Dengan menggunakan  $\cos C = \frac{a^2+b^2-c^2}{2ab}$  maka didapat

$$\begin{aligned}TN &= \frac{a(c-b)}{2(b+c)} \\ CN = CT + TN &= \frac{ab}{b+c} + \frac{a(c-b)}{2(b+c)} = \frac{a}{2}\end{aligned}$$

Maka, N adalah pertengahan BC. Jadi,  $N = M$ .

Jadi, titik  $A_1$ , L, K dan M terletak pada satu lingkaran.

$\therefore$  Terbukti bahwa  $A_1$ , L, M dan K siklik.

## RIWAYAT HIDUP PENULIS



Eddy Hermanto lahir di Desa Bunut Tinggi, Kecamatan Talo, Kabupaten Bengkulu Selatan (sekarang Kabupaten Seluma) pada tanggal 9 September 1979. Pendidikan SD dan SLTP diselesaikannya di Lampung, yaitu SD di SD Negeri 2 Bandar Jaya, Lampung Tengah dan SLTP di SMP Negeri Bandar Jaya, Lampung Tengah. Sedangkan pendidikan SLTA dilaluinya di SMU Negeri 5 Bengkulu. Penulis yang juga merupakan putera asli Bengkulu ini kemudian melanjutkan pendidikan S1 ke Jurusan Teknik Sipil Fakultas Teknik Universitas Gadjah Mada Yogyakarta pada tahun 1997 yang diselesaikannya pada bulan Februari 2002 dengan predikat *Cum Laude*.

Saat ini Penulis bekerja sebagai PNS di Pemerintah Kota Bengkulu pada Bagian Penyusunan Program Setda Kota Bengkulu yang telah digeluti sejak Desember 2002. Selain bekerja di Pemerintah Kota Bengkulu, Penulis juga aktif membina siswa-siswa di SMA N 5 Bengkulu baik dalam persiapan menghadapi Ujian Masuk Universitas Gadjah Mada (UM-UGM), Seleksi Penerimaan Mahasiswa baru (SPMB) maupun ketika SMA N 5 Bengkulu akan menghadapi perlombaan-perlombaan baik tingkat kota, provinsi maupun nasional. Penulis juga pernah beberapa kali membina siswa-siswa dari Provinsi Bengkulu yang akan mengikuti Olimpiade Sains Nasional Bidang Matematika.